

عضوي کيميا

دولسم ټولگی



کيميا - دولسم ټولگی





ملي سرود

دا عزت د هر افغان دی	دا وطن افغانستان دی
هر بچی یې قهرمان دی	کور د سولې کور د تورې
د بلوڅو د ازبکو	دا وطن د ټولو کور دی
د ترکمنو د تاجکو	د پښتون او هزاره وو
پامیریان، نورستانیان	ورسره عرب، گوجر دي
هم ایماق، هم پشه بان	براهوي دي، قزلباش دي
لکه لمر پر شنه آسمان	دا هیواد به تل ځلېږي
لکه زړه وي جاویدان	په سینه کې د آسیا به
وایو الله اکبر وایو الله اکبر	نوم د حق مودی رهبر


بِسْمِ اللَّهِ الرَّحْمَنِ الرَّحِيمِ



عضوي کيميا

دولسم ټولگی

د چاپ کال: ۱۳۹۹ هـ. ش.



د کتاب ځانګړتیاوې

مضمون: کیمیا

مؤلفان: د تعلیمي نصاب د کیمیا ډیپارټمنټ د درسي کتابونو علمي او مسلکي غړي

اېډیټ کوونکي: د پښتو ژبې د اېډیټ ډیپارټمنټ غړي

ټولګی: دولسم

د متن ژبه: پښتو


انکشاف ورکوونکي: د تعلیمي نصاب د پراختیا او درسي کتابونو د تألیف لوی ریاست

خپروونکي: د پوهنې وزارت د اړیکو او عامه پوهاوي ریاست

د چاپ کال: ۱۳۹۹ هجري شمسي

برېښنالیک پته: curriculum@moe.gov.af

د درسي کتابونو د چاپ، وېش او پلورلو حق د افغانستان اسلامي جمهوریت د پوهنې وزارت سره محفوظ دی. په بازار کې یې پلورل او پېرودل منع دي. له سرغړوونکو سره قانوني چلند کېږي.



د پوهنې د وزیر پیغام

اقرأ باسم ربك

د لوی او ښوونکي خدای ﷻ شکر په ځای کوو، چې موږ ته یې ژوند رابښلی، او د لوست او لیک له نعمت څخه یې برخمن کړي یو، او د الله تعالی پر وروستي پیغمبر محمد مصطفی ﷺ چې الهي لومړنی پیغام ورته (لوستل) و، درود وایو.

څرنگه چې ټولو ته ښکاره ده ۱۳۹۷ هجري لمريز کال د پوهنې د کال په نامه ونومول شو، له دې امله به د گران هېواد ښوونیز نظام، د ژورو بدلونونو شاهد وي. ښوونکي، زده کوونکي، کتاب، ښوونځي، اداره او د والدینو شوراگانې د هېواد د پوهنیز نظام شپږگوني بنسټیز عناصر بلل کيږي، چې د هېواد د ښوونې او روزنې په پراختیا او پرمختیا کې مهم رول لري. په داسې مهم وخت کې د افغانستان د پوهنې وزارت د مشرتابه مقام، د هېواد په ښوونیز نظام کې د ودې او پراختیا په لور بنسټیزو بدلونونو ته ژمن دی.

له همدې امله د ښوونیز نصاب اصلاح او پراختیا، د پوهنې وزارت له مهمو لومړیتوبونو څخه دي. همدارنگه په ښوونځیو، مدرسو او ټولو دولتي او خصوصي ښوونیزو تاسیساتو کې، د درسي کتابونو محتوا، کیفیت او توزیع ته پاملرنه د پوهنې وزارت د چارو په سر کې ځای لري. موږ په دې باور یو، چې د باکیفیته درسي کتابونو له شتون پرته، د ښوونې او روزنې اساسي اهدافو ته رسېدلی نشو.


پورتنیو موخو ته د رسېدو او د اغېزناک ښوونیز نظام د رامنځته کولو لپاره، د راتلونکي نسل د روزونکو په توګه، د هېواد له ټولو زړه سواندو ښوونکو، استادانو او مسلکي مدیرانو څخه په درناوي هیله کوم، چې د هېواد بچیانو ته دې د درسي کتابونو په تدریس، او د محتوا په لېږدولو کې، هېڅ ډول هڅه او هاند ونه سیموي، او د یوه فعال او په دیني، ملي او انتقادي تفکر سمبال نسل په روزنه کې، زیار او کوښښ وکړي. هره ورځ د ژمنې په نوي کولو او د مسؤلیت په درک سره، په دې نیت لوست پیل کړي، چې د نن ورځې گران زده کوونکي به سبا د یوه پرمختللي افغانستان معماران، او د ټولنې متمدن او ګټور اوسېدونکي وي.

همدا راز له خوږو زده کوونکو څخه، چې د هېواد ارزښتناکه پانګه ده، غوښتنه لرم، څو له هر فرصت څخه ګټه پورته کړي، او د زده کړې په پروسه کې د څیرکو او فعالو ګډونوالو په توګه، او ښوونکو ته په درناوي سره، له تدریس څخه ښه او اغېزناکه استفاده وکړي.

په پای کې د ښوونې او روزنې له ټولو پوهانو او د ښوونیز نصاب له مسلکي همکارانو څخه، چې د دې کتاب په لیکلو او چمتو کولو کې یې نه سترې کېدونکې هلې ځلې کړې دي، مننه کوم، او د لوی خدای ﷻ له دربار څخه دوی ته په دې سپېڅلې او انسان جوړوونکې هڅې کې بریا غواړم. د معیاري او پرمختللي ښوونیز نظام او د داسې ودان افغانستان په هیله چې وګړي یې خپلواک، پوه او سوکاله وي.

د پوهنې وزیر

دکتور محمد میرویس بلخي



مخونه

سرليکونه

۱ سريزه

لومړۍ څپرکۍ

- ۲ په عضوي مرکبونو کې د کيميايي اړيکو جوړېدل
- ۱-۱: د کاربن الکتروني جوړښت او د هغه انرژيکي سويې ۳
- ۲-۱: د کاربن و لانس او د اړيکو جوړېدل ۴
- ۷ هايپرديزيشن
- د لومړي څپرکي لنډيز ۱۴
- د لومړي څپرکي پوښتنې ۱۵

دويم څپرکۍ


- د ماليکول جوړښت او فورمولونه ۱۸
- ۱-۲ : ماليکولي فورمول ۱۹
- ۲-۲ : جوړښتي فورمولونه ۲۲
- ۳-۲ : د جوړښتي فورمولونو د ليکلو لارې ۲۳
- ۴-۲ : ايزوميري (Isomers) ۳۱
- د دويم څپرکي لنډيز ۳۳
- د دويم څپرکي پوښتنې ۳۴

درېم څپرکۍ

- د عضوي مرکبونو ډل بندي ۳۶
- ۱-۳ : عمومي معلومات ۳۷
- ۲-۳ : د هايډروکاربنونو د ډلو ویشل ۳۸
- ۳-۳ : په هايډروکاربونو کې وظيفه يي ډلې ۳۹
- ۴-۳ : د الکانونو هومولوگي سلسله ۳۹
- ۵-۳ : عضوي مرکبونه او وظيفه يي گروپونه (د هايډروکاربنونو مشتقات) ۴۰
- ۶-۳ : له وظيفه يي گروپونو سره عضوي مرکبونه ۴۲
- د درېم څپرکي لنډيز ۴۸
- د درېم څپرکي پوښتنې ۴۹

څلورم څپرکۍ

- الکانونه او سايکلونونه ۵۱
- ۱-۴ : الکانونه (Alkanes) ۵۲
- ۲-۴ : کره ييز مرکبونه (سايکلو الکانونه) ۶۴
- د څلورم څپرکي لنډيز ۶۹
- د څلورم څپرکي پوښتنې ۷۰



پنځم څپرکی

۷۲.....	الکینونه او الکاینونه :
۷۳.....	۱-۵ : الکینونه
۸۲.....	۲-۵ : الکاینونه (Alkynes)
۸۸.....	۳-۵ : اسیتلین
۹۲.....	د پنځم څپرکي لنډیز
۹۳.....	د پنځم څپرکي پوښتنې

شپږم څپرکی

۹۶.....	اروماتیکي مرکبونه (Arenes)
۹۷.....	۱-۶ : د بنزین جوړښت
۱۰۰.....	۲-۶ : د اروماتیک مرکبونو نوم ایښودنه
۱۰۰.....	۳-۶ : د اروماتیکو هایډروکاربنونو تعاملونه
۱۰۷.....	د شپږم څپرکي لنډیز
۱۰۸.....	د شپږم څپرکي پوښتنې

اووم څپرکی


۱۱۰.....	الکایل هالایدونه
۱۱۱.....	۱-۷ : الکایل هالایدونه
۱۱۸.....	د اووم څپرکي لنډیز
۱۱۹.....	د اووم څپرکي پوښتنې

اتم څپرکی

۱۲۱.....	الکولونه او ایترونه
۱۲۲.....	۱-۸ الکولونه (Alcohols)
۱۳۷.....	۲-۸ ایترونه (Ethers)
۱۴۱.....	د اتم څپرکي لنډیز
۱۴۲.....	د اتم څپرکي پوښتنې

نهم څپرکی

۱۴۶.....	الډیهایدونه او کیتونونه
۱۴۷.....	۹ : الډیهاید او کیتون (د کاربونیل د ګروپ مرکبونه)
۱۴۷.....	۱-۹ : الډیهایدونه
۱۵۹.....	۲-۹ : کیتونونه (Ketones)
۱۶۴.....	د نهم څپرکي لنډیز
۱۶۵.....	د نهم څپرکي پوښتنې



لسم څپرکی

- ۱۶۷ عضوي تيزابونه (کاربوکسلیک اسید)
 ۱۶۸ ۱-۱۰ : عضوي تيزابونه
 ۱۷۶ ۲-۱۰ : ځنې مهم کاربوکسلیک اسیدونه
 ۱۸۲ د لسم څپرکي لنډيز
 ۱۸۳ دلسم څپرکي پوښتنې

یولسم څپرکی


- ۱۸۵ امینونه (Amines)
 ۱۸۶ ۱-۱۱ : د امینونو جوړښت او ډلبندي
 ۱۹۷ ۲-۱۱ : امایډونه (Amides)
 ۱۹۹ د یوولسم څپرکي لنډيز
 ۱۹۹ د یوولسم څپرکي پوښتنې

دوولسم څپرکی

- ۲۰۱ طبیعي پولي میرونه
 ۲۰۲ ۱-۱۲ : د طبیعي پولي میرونو ډلبندي
 ۲۰۵ ۱- مونو سکرایډونه
 ۲۱۲ ۲ : ډای سکرایډونه
 ۲۲۰ ۲-۱۲ : پروتینونه
 ۲۲۰ ۳-۱۲ : امینو اسیدونه (Amino acids)
 ۲۲۸ ۴-۱۲ : ډای اکسي رایبوز نوکلئویک (D.N.A) او رایبوز کلویک اسید (R.N.A)
 ۲۳۱ دولسم څپرکي لنډيز
 ۲۳۱ د دوولسم څپرکي پوښتنې

د یارلسم څپرکی

- ۲۳۳ مصنوعي پولي میرونه
 ۲۳۴ ۱-۱۳ جمعي پولي میرونه
 ۲۴۰ ۲-۱۳ : متراکم شوي پولي میرونه (Condensation Polymers)
 ۲۴۱ ۳-۱۳ : ساینس، تکنالوژي او ټولنه
 ۲۴۳ ۴-۱۳ : د مصنوعي پولي میرونو په واسطه د هستوگنې د چاپیریال ککړتیا
 ۲۴۶ د دیارلسم څپرکي لنډيز
 ۲۴۶ د دیارلسم څپرکي پوښتنې
 ۲۴۷ اخځلیکونه



سريزه

کاربن خاتنه ځانگړې خواص لري چې په طبیعت کې یې بیلابیل مرکبونه منځته راوړي دي. دهغه مرکبونه په طبیعت کې ډېر دي چې یوې ځانگړې برخې ته یې په کیمیا کې اختصاص ورکړ شوی دی او هغه له عضوي کیمیا څخه عبارت ده. عضوي کیمیا، د کیمیا یوه برخه ده چې له هایډروکاربنونو او دهغه له مشتقاتو څخه بحث کوي.

هایډروکاربنونه او د هغوی مشتقات په ننني صنعت کې اساسي رول لري. دارو، رنګونه او اوسني نور عصري سامان آلات له عضوي مرکبونو څخه جوړ شوي دي.

د دولسم ټولګي کیمیا د عضوي کیمیا یوه برخه ده او هغه مرکبونه تر مطالعې لاندې نیسي چې له کاربن او هایډروجن څخه جوړ شوي وي؛ یعنې هایډروکاربنونه او د هغو مشتقات دي. د دولسم ټولګي کیمیا دیارلس څپرګي لري چې لومړۍ څپرګۍ یې په عضوي مرکبونو کې د کیمیايي اړیکو جوړیدل روښانه کوي.

دوهم څپرګۍ مالیکولي جوړښت او فورمولونه وړاندې کوي.

دریم څپرګۍ د عضوي مرکبونو د ډل بندې په هکله دی.

څلورم څپرګۍ الکانونه او سایکلوالکانونه روښانه کوي.

پنځم څپرګۍ الکین او الکاین، شپږم څپرګۍ اروماتیک مرکبونه، اووم څپرګۍ الکیل هلايدونه، اتم څپرګۍ الکولونه او ایترونه، نهم څپرګۍ د الډیهایدونو او کیتونونو په هکله معلومات وړاندې کوي.

په همدې ډول لسم څپرګۍ عضوی تیزابونه، یوولسم څپرګۍ امینونه، دولسم څپرګۍ طبیعي پولي میرونه او دیارلسم څپرګۍ مصنوعي پولي میرونه روښانه کوي.


د هر څپرګۍ مطلبونه حیاتي خواوې لري او د هر څپرګۍ د تدریس بنسټیزې موخې دا دي چې په دې برخه کې د زده کوونکو د زده کړې کچه لوړه شي او د خپل ژوندانه په بیلابیلو برخو کې د زده کړې له مطلبونو څخه ګټه واخلي او هم په صنعتي مسایلو کې لاس رسی ولري.

د هر څپرګۍ په پیل کې د زده کړې موخې د پوښتنو په بڼه لیکل شوي دي او د هر څپرګۍ په پای کې د څپرګۍ لنډیز لیکل شوی دی ترڅو زده کوونکي له مفاهیمو او د زده کړې له میتود څخه ښه ګټه واخلي.

په همدې ډول د هر څپرګۍ له لنډیز وروسته تمرین او نه حل شوې پوښتنې طرح شوي دي چې زده کوونکي یې په خپله حل کړي چې د اړوند څپرګۍ د مطالبو په زده کړه کې ورسره مرسته وکړي.

هر څپرګۍ په ساده او عام فهمه کلموسره لیکل شوی دی.

د څپرګۍ د متنونو په منځ کې عملي او نظري فعالیتونه هم راغلي دي چې زده کوونکي یې په خپله د ښوونکي په مرسته په ډله یز او یوکسیز ډول سرته ورسوي او دغه فعالیتونه له زده کوونکو سره لا زیاته مرسته کوي.



لومړۍ څپرکۍ

په عضوي مرکبونو کې د کیمیاوي اړیکو جوړیدل

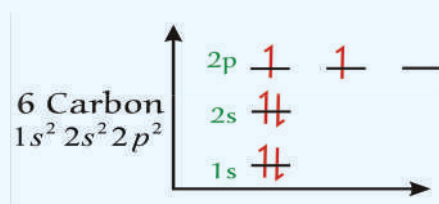


د کاربن د مرکبونو شمېر دومره زیات دی چې د کیمیا د علم یوه مهمه برخه د دې عنصر مرکبونو ته ځانگړې شوې ده او هغه علم چې کولی شو د هغه په واسطه د کاربن او هایډروجن مرکبونه او د هغوی مشتقات تر څېړنې لاندې ونیسو، د عضوي کیمیا په نوم یا ډېرې . هر کال یو ډېر شمېر د نړۍ تجارت د عضوي مرکبونو او د هغوی پر محصولاتو باندې ولاړ دي. چې د هېوادونو په اقتصادي ودې کې ډېر اهمیت لري. پردې بنسټ د عضوي مرکبونو د خواصو پیژندنه او نوم ایښودنه له ځانگړې اهمیت څخه برخمنه ده. د عضوي مرکبونو د پیژندنې لپاره د اړیکو پیژندنه بنسټیز رول لري؛ نو باید پوه شو چې اړیکه څه ده؟ د اړیکو د جوړیدو لامل څه دی؟ د اړیکو ډولونه کوم دي؟ د دې څپرکي په مطالعه به په عضوي مرکبونو کې د کیمیاوي اړیکو په اړه معلومات تر لاسه کړئ.

1-1: د کاربن الکتروني جوړښت او د هغه انرژيکي سويې

کاربن د $1s^2 2s^2 2p^2$ الکتروني جوړښت لرونکی دی، د هغه د مرکبونو شمېر ډېر او د اهمیت لرونکي دي چې د عضوي کیمیا یوه مهمه برخه یې جوړه کړې ده. په 1880 کال کې د 1200 په شمېر عضوي مرکبونه او په 1998 کال له 20 میلیونو څخه زیات عضوي مرکبونه لاسته راوړل شوي دي. د عضوي مرکبونو په دې شمېر کې د کاربن اتومونه د C^{4+} د ایون په بڼه شتون نه لري؛ خو په عمومي ډول کولی شو ووايو چې په دې ټولو مرکبونو کې د کاربن اتوم د تحریک په حالت کې دی او الکتروني جوړښت یې $1s^2 2s^1 2p^3$ دی.

د کاربن د اتوم د ولانسي الکترونونو د انرژۍ د سويې ډیاگرام په (1-1) شکل کې ښودل شوی دی:



1 - 1 شکل: د کاربن د اتوم د انرژيکي سويې ډیاگرام

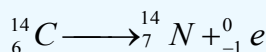
په ځينو غیر عضوي مرکبونو کې کولی شئ چې د کاربن اتوم د C^{4-} په بڼه وگورئ؛ د بیلگې په ډول: Be_2C او $Al_4C_3^{+3}$.

په عمومي ډول د کاربن اتومونه کولانسي اړیکه لري چې ډېر زیات اوږد زنځیرونه او یا لویې او کوچنۍ کړۍ یې جوړې کړې دي، په دې زنځیرونو او یا کړیو کې د کاربن د اتومونو ترمنځ یوه گونې، دوه گونې یا درې گونې اړیکې لیدل کیږي، خو دهغه یوه نیمه (1.5) اړیکه هم لیدل شوې ده چې دا اړیکه کیدای شي په بنزین کې د ریزونانس (گرځیدو) په حالت کې ولیدل شي، د کاربن - کاربن د اړیکې انرژي $E_{(C-C)} = 360 \text{ KJ/mol}$ ده.

طبیعي کاربن د دوو ایزوټوپونو $^{12}_6C$ او $^{13}_6C$ لرونکی دی چې په طبیعت کې د هغوی د خپریدو سلنه په وار سره 98.93% او 1.07% ده؛ خو په طبیعت کې $^{14}_6C$ هم شته دی چې د اتموسفیر په لوړو طبقو کې چې


د لاندې هسته یي تعاملونو په پایله کې جوړېږي، شتون لري: $^{14}_7N + ^1_0n \rightarrow ^{14}_6C + ^1_1H$

د $^{14}_6C$ د نیم عمر اوږدوالی 5730 کاله دی او د β^- ذرو د وتلو په پایله کې په نایټروجن بدلیږي:



د ژوندیو موجوداتو په عضوي مرکبونو کې $^{14}_6C$ او $^{12}_6C$ د تعادل په حالت کې شتون لري او د هغو د تعادل

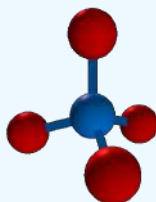
نسبت $\frac{^{14}_6C}{^{12}_6C} = 10^{-12}$ او ثابت دی. که چیرې ژوندي موجودات چې په هغوی کې حیوانات او نباتات شامل



دي، له طبيعت سره اړيکه پرې کړي، پورتنی تعادلي نسبت ګډوډ کېږي؛ نو د هغه له دې ځانګړتیا څخه د لرګینو شیانو، انسانانو یا د ژویو د جسدونو د نیم عمر د اوږدوالي د ټاکلو لپاره چې له نن څخه 15 تر 30 زره کاله مخکې یې ژوند کاوه، د 10 % سوچ سره کیدای شي، ګټه واخېستل شي.

1-2: د کاربن ولانس او د اړیکو جوړیدل

په تعاملونو کې د کیمیايي عناصرو نو د اټومونو د یوځای کیدو قوه او د اړیکو شمېر چې یو اټوم یې جوړولای شي، د ولانس په نوم یا ډیرې، نو د کاربن ولانس به څو وي ؟ تاسې کولی شئ په ساده بڼه پورتنۍ پوښتنې ته د لیویس (Lewis) د سمبولونو او جوړښتونو پر بنسټ ځواب ورکړئ؛ په دې جوړښت کې ولانسي الکترونونه په ټکو ښودل شوي دي؛ خو دا چې کاربن څلور ولانسي الکترونه لري، نو د هغه د لیویس سمبول په لاندې ډول لیکل کيږي :



(2-1) شکل دلیویس جوربنت او دکارین فضایی جوربنت

د اته الكتروني يا اوكتيت (octate) حالت د پوره کولو او ولانسي قشر د اته الكتروني کولو لپاره، د کاربن اټوم بايد خپل څلور ولانسي الكترونونه نورو اټومونو او د کاربن له نورو اټومونو سره شريک کړي، نو د کاربن ولانس څلور دی.

په ټولو عضوي مرکبونو کې د کاربن هر اټوم څلور اشتراکي اړیکې د کاربن او یا نورو عناصرونو د اټومونو؛ لکه: هایډروجن، اکسیجن، نایټروجن، هلوجن سره جوړوي.

له عناصرونو د دوره یي جدول څخه په ګټه اخیستنه د اکسیجن، نایټروجن او هلوجن ولانس موندل کیږي.

لاندني جدول د کاربن ځای د نورو عناصرونو په منځ کې ښیي:

H																	
Li	Be											B	C	N	O	F	Ne
Na	Mg											Al	Si	P	S	Cl	Ar
K	Ca	Sc	Ti	V	Cr	Mn	Fe	Co	Ni	Cu	Zn	Ga	Ge	As	Se	Br	Kr
Rb	Sr	Y	Zr	Nb	Mo	Tc	Ru	Rh	Pd	Ag	Cd	In	Sn	Sb	Te	I	Xe
Cs	Ba	La	Hf	Ta	W	Re	Os	Ir	Pt	Au	Hg	Tl	Pb	Bi	Po	At	Rn
Fr	Ra	Ac	Rf	Db	Sg	Bh	Hs	Mt	Ds	Rg	112	113	114	115	116		

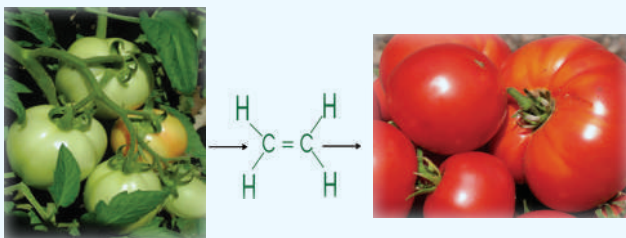
(1 - 1) جدول: د عنصر و نوي په دوره يي جدول کې د کاربن ځای.

کاربن کولی شي یو گونې، دوه گونې او درې گونې اړیکه ولري چې په لاندې توگه روښانه کیږي: خرنګه چې کاربن په خپل ولانسي قشر کې خلور ولانسي الکترونونه لري؛ نو پردې بنسټ د خپل اکثیت د پوره کولو لپاره خلورو نورو الکترونونو ته اړتیا لري، د ایتان (C_2H_6) په مالیکول کې د کاربن هر اټوم د کاربن له بل یو اټوم سره او د هایډروجن له درې اټومونو سره اړیکه لري. د کاربن د یو اټوم او د هایډروجن د یو اټوم ترمنځ یوه گونې اړیکه تړل شوې ده چې یوه، یوه جوړه مشترک الکترونونه د هغوی ترمنځ شتون لري، نجوم پوهان په دې باور دي چې د زحل سطحه مایع ایتان جوړه کړې ده.

H


(3-1) شکل د زحل په سطحه کې د مایع ایتان شتون

سربېره پردې کاربن او نور عنصرونه اود هغوی له ډلې څخه نایتروجن، اکسیجن او سلفر کولی شي له نورو اټومونو سره د اکثیت د قاعدې په پام کې نیولو سره له یوې جوړې الکترونونو څخه زیات، دوه جوړې الکترونونه (خلور الکترونه) سره ګډ او دوه گونې اړیکه جوړوي؛ د ایتلین د مالیکول په ترکیب کې دوه اټومه کاربن او خلور اټومه هایډروجن برخه لري چې د کاربن - کاربن د اټومونو ترمنځ اړیکه دوه گونې ده، هارمون ډوله ایتلین په ډیرو نباتاتو کې په ځانګړې توګه په رومیانو کې شته دی چې د پخیدلو په وخت کې هغه ازاد وي او د نورو رومیانو د پخیدلو لامل ګرځي؛ نو پردې بنسټ په کرنه کې د رومیانو د پخیدلو لپاره له ایتلین څخه ګټه اخیستل کیږي:



(1-4) شکل: رومي بادنجان د ایتلین سرچینه.

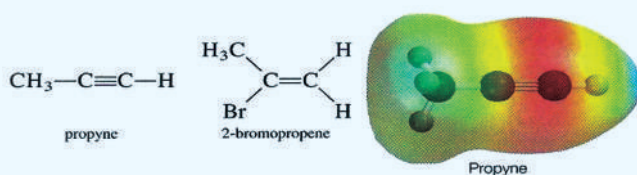
همدارنګه د کاربن دوه اټومونه کولی شي چې درې گونې اړیکه جوړه کړي او درې جوړې الکترونونه یو له بل سره ګډ کړي، د بیلګې په ډول: د استلین په مالیکول کې د کاربن د دوو اټومونو ترمنځ درې گونې اړیکه شتون لري، د دې مرکب په مالیکول کې د کاربن دوه اټومونه او د هایډروجن دوه اټومونه برخه لري. د کان پیژندنې په څراغونو کې د کلسیم کار بایو له تېرې څخه ګټه اخیستل کیږي، داسې چې په کلسیم کاربایو باندې اوبه ورزیاتوي د کارباید د ډبرو د هایډرولیز په پایله کې استلین تر لاسه کیږي.



(1-5) شکل: دکانوند پیژندونکو، اوسپي استلین په خراغونو کې داستلین د گاز کارول.

د کاربن د اتومونو له مهمو ځانګړتیاوو څخه یو د زنځیر او تړلي زنځیر (کړۍ) جوړول دي چې په هغوی کې کاربن- کاربن اتومونه یو له بل سره اړیکه لري. لاندې فورمولونه په عضوي مرکبونو کې زنځیري او کړیز کاربنی اسکلیټ ښيي:

د نورو اتومونو لکه: د نایتروجن او اکسیجن د اتومونو پر خلاف، د کاربن د اتومونو د اړیکو پرله پسې والې د کاربن - کاربن د اړیکو د قوت د لږوالي لامل نشي کیدای. په زنځیرونو او کړیو کې د کاربن اتومونه کولی شي چې د کاربن د نورو اتومونو او د نورو عناصرو له اتومونو سره دوه ګوني او درې ګوني اړیکې جوړې کړي؛ د بیلګې په ډول:



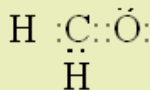
د کاربن د اتومونو د اړیکو د جوړیدو بېلابېلې طریقې د هغه د مرکبونو او ډلو د زیات والي او شتون لامل ګرځیدلي دي.

مثال: د فارم الیهاید (CH_2O) د مرکب د لیویس جوړښت ولیکئ.

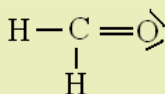
حل: په لومړۍ سر کې د ولانسي الکترونونو مجموعي شمېر محاسبه کړي.

د هایدروجن هر اتوم یو ولانسي الکترون لري، نو د هغه په دوه اتومو کې، دوه ولانسي الکترونونه شته دي؛ په همدې توګه د کاربن هر اتوم څلور ولانسي الکترونونه او یو اتوم اکسیجن شپږ ولانسي الکترونونه لري چې په دې مرکب کې ټول دولس (12) ولانسي الکترونونه شته دي، د فارم الیهاید مرکب د مالیکول د

جوړوونکو اتومونو د ولانسي الکترونونو په پام کې نیولو سره، د دې مرکب د مالیکول جوړونکي اتومونه یو له بل سره نژدې کېږي، دلته کاربن چې مرکزي اټوم دی، په منځ کې ځای لري، په دې صورت کې ولانسي الکترونونه د دغو اتومونو د نژدې کیدو لامل ګرځي او د لیویس قاعده پلې کېږي:



په پورتنی فورمول کې د لیکل شوو الکترونونو شمېر 12 عدده او د ولانسي الکترونونو شمېر یې هم دولس 12 عدده دی. کاربن دوه یوګونې اړیکې او یوه دوه ګونې اړیکه لري او په مجموع کې څلور کوولانټ اړیکې یې جوړې کړي دي. که چیرې اړیکې د یو خط په واسطه وښیو؛ نو لاندې ساختماني فورمول لاسته راځي:



په دې فورمول کې دوه ګونې اړیکه د څلورو شریکو الکترونونو ښودونکې ده، چې د کاربن او اکسیجن ترمنځ تړل شوې ده؛ نو پردې بنسټ او کتیت قاعده ترسره شوې ده.



فعالیت

د لاندې مالیکولونو د لیویس جوړښت رسم کړئ:

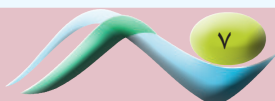
الف - کاربن ډای اکساید (CO_2) ، ب - کاربن تترا کلوراید (CCl_4) ج - امونیا (NH_3)

۱- ۳: هایبریدایزیشن (Hybridization)

څرنگه چې په پورتنیو کړښوکې مطالعه شول، د کاربن اتومونه یو ګونې، دوه ګونې او درې ګونې اړیکې جوړولی شي، نو باید پوه شئ چې څرنگه دا اړیکې جوړېږي؟ د اوربیتالونو کوم ډولونه د هغوی په جوړېدو کې ونډه اخلي؟ د دې پورتنیو پوښتنو د ځوابونو لپاره، هایبرید شوي اوربیتالونه مطالعه کوو.

په یوناني ژبه کې د هایبرید (Hybrid) کلمه د وینې د ګډون په معنا ده، یعنې هغه نسل چې له دوو بیلا بیلو نسلونو څخه حاصل شوي دي، د امتزاج یا ګډوډ کیدو مفهوم رسوي، په دې ځای کې هم د دوو یا څو بیلا بیلو اتومونو د اوربیتالونو له ګډون څخه موخه دا ده چې دوه یا څو نوي هایبریدي اوربیتالونه منځته راوړي.

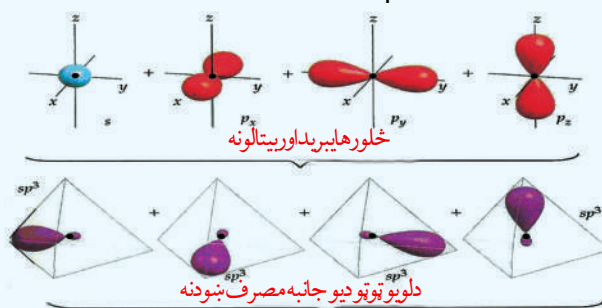
د کیمیايي عناصرو د اتومونو ولانسي الکترونونه کولی شي چې په s ، p ، d او f اوربیتالونو کې شتون ولري، نو په دې صورت کې ټول نوموړي اوربیتالونه یو شان ارزښت نه لري او د هغوی اړیکې هم له یو شان ارزښت څخه برخمنې نه دي، خو څېړنو په ثبوت رسولي دي چې په مالیکولونو کې د هغوی مرکزي اتومونه د بیلا بیلو ولانسي الکترونونو (s ، p ، d ...) لرونکي دي او د اړیکو له کبله یو ډول ارزښت لري، دا مطلب د علماو هر یو Cleyster او Pamling په واسطه روښانه شوی دی، نوموړو علماو وړاندوینه کړې ده: هغه



اوربیتالونه چې د انرژۍ له کبله ډېر توپیر لري او په عین اصلي قشر کې د اتومونو په وروستیو فرعي قشرونو کې ځای لري، هغوی له لومړنیو شمېرو سره سم یو له بل سره یوځای Hybridization کېږي او د خپلو لومړنیو شمېرو په کچه هایبرید شوي اوربیتالونه جوړوي چې په یوشان انرژيکي سطحه کې شتون لري او د عین الکتروني ورځې جوړښت لرونکي دي، دا اوربیتالونه د اړیکو د جوړېدو په لور کش او د هغوی ننوتل اعظمي وي، د اړیکو د جوړېدو لاره هوارېږي. د اتومي اوربیتالونو د هایبریدایزیشن کیدو په پیل کې لږڅه انرژي په لگښت رسیدلې ده، پردې بنسټ داسې اوربیتالونه بې ثباته وي؛ خو د اړیکې د جوړېدو په وخت کې دا انرژي له لاسه ورکوي او اړونده ثبات تر لاسه کوي.

که څه هم د کاربن اتوم یوازې دوه طاقت الکترانونه په خپل ولانسي قشر کې لري، خو څلور اړیکې د هایډروجن له اتومونو سره تړلې شي؛ په دې معنا چې د کاربن اتوم خپل څلور نیم ډک شوي اوربیتالونه د اړیکو په جوړېدو کې د هایډروجن له اتومونو سره په کار وي، د کاربن د څلورو اړیکو د جوړېدو د روښانه کولو لپاره د اړیکو د جوړېدو تیوري ښکاره کوي چې د کاربن څلور ولانسي الکترانونه چې په $(2s, 2p)$ اوربیتالونو کې شتون لري، یو له بل سره مخلوط او د څلورو الکتروني اوربیتالونو د جوړېدو لامل شوي چې د عین شکل او انرژي لرونکي دي.

sp^3 هایبریدایزیشن: کاربن اتومونه په مشبوع هایډروکاربنونو کې دا ډول هایبریدایزیشن لري او داسې منځ ته راځي چې د s یو اوربیتال او د p درې اوربیتالونه د انرژي د جذب په پایله کې یو له بل سره مخلوطېږي او د SP^3 څلور هایبرید شوي اوربیتالونه جوړوي چې د څلور وجهي رأسونو شتون لري او د هغوی ترمنځ زاویه 109.5° درجې ده، دا هایبریدایزیشن کیدای شي چې په CH_4 ، CCl_4 او په نورو مالیکولونو کې ولیدل شي، په sp^3 هایبریدایزیشن کې د s برخه $\frac{1}{4}$ او د p برخه $\frac{3}{4}$ ده؛ لکه:



(1-6) شکل: Sp^3 هایبرید

د هایبریدایزیشن د ډولونو په هکله د ډېرو معلوماتو د لاسته راوړلو لپاره، د CH_4 جوړښت په بشپړه توګه مطالعه کوو. په میتان کې د اړیکې جوړېدل د $C-H$ د څلورو یوشان اړیکو د منځته راتللو او د تترا هیدرال (tetrahedral) (څلور مخیزه) د جوړېدلو لامل د هغه په مالیکول کې کېږي. د کاربن په اتوم کې د ولانسي قشر الکتروني ترتیب، تترا هیدرال او ولانسي زاويي په لاندې شکل کې ښودل شوي دي:

(1-7) شکل: د کاربن د اتوم SP^3 هایبرید او د میتان د مالیکول جوړیدل

تاسو مخکې د هایبرید اوربیتال شکل لیدلی دی او د کاربن د اتوم د هستې د چاپېریال په فضا کې مو د SP^3 د څلورو اوربیتالونو د ځای په اړه معلومات تر لاسه کړي دی او و مولیدل چې څلور هایبرید اوربیتالونه د تترا هایدرال څلور کنجونه چې د اوربیتالونو د منځ زاویه یې 109.5° ده، ځای لري. د sp^3 هایبرید اوربیتالونه د اوربیتالونو د اعظمي جلاکیدلو لامل کیږي او دا اړیکې یو له بل څخه لوی واټن لري. کله چې د هایدروجن د څلورو اتومونو د $1s$ اوربیتالونه د کاربن د څلورو sp^3 اوربیتالونو سره نیغ پر نیغ ننوځي، د تترا هایدرال یو مالیکول له $C-H$ څلورو معادلو اړیکو (شکل 1-7) سره جوړېږي چې د CH_4 د مالیکول جوړښت سره کوم چې په تجربه ثابت شوی دی، سمون لري.

(1-7) شکل د sp^3 د اوربیتالونو د نیغ پر نیغ ننوتل د هایدروجن د اتومونو د $1s$ له څلورو اوربیتالونو سره او د CH_4 تترا هایدرال شکل ښيي او د sp^3 هایبریدایزیشن کارونه د نورو عضوي او غیر عضوي مرکبونو د روښانه کولو لپاره؛ لکه: په NH_3 او H_2O نورو کې کارول کیږي. د ایتان C_2H_6 په جوړښت کې sp^3 د هایبریدایزیشن د روښانه کولو لپاره لاندې فعالیت تر سره کوو:

فعالیت



په ایتان کې د اړیکې جوړیدل

مواد او د اړتیا وړ سامان: یوسیټ د مالیکولونو مودلونه

تاسې په دې فعالیت کې د ایتان د مالیکول (C_2H_6) د لیویس جوړښت په لاندې شکل کې وگورئ او لاندې پوښتنو ته ځواب وپکړئ:

(1-8) شکل: د ایتان د هایبرید شوو اوربیتالونو نیغه ننوتنه.

- 1 - د کاربن د هر اتوم په شاوخوا کې د اړیکو شمېر څو دی؟
- 2 - د کاربن د هر اتوم هایبریدایزیشن څه ډول دی؟
- 3 - د اتومونو درې اړخیز ترتیت د کاربن د هر اتوم په شاوخوا کې په څه ډول دی؟

4 - د ایتان یو درې لوري لرونکی مودل جوړ کړئ؟

5 - دوه اوربیتالونه چې د تماس په واسطه یې په ایتان کې د کاربن - کاربن داتومونو ترمنځ اړیکه منځته راغلې ده، څه نومېږي؟

د کاربن هر اتوم څلور اړیکې لري چې له نورو اتومونو سره یې تړلې دي او د تټرا هایدرال شکل یې جوړ کړی دی. د کاربن هر اتوم د څلورو اړیکو د جوړېدو لپاره، د sp^3 څلور هایبرید اوربیتالونه یې کارولي دي او د هغوی د نیغو ننوتلو له امله د نورو اتومونو له اوربیتالونو سره د سگما (σ) (Sigma) اړیکه جوړېږي چې د کاربن د هر اتوم په شاوخوا د تټرا هایدرال په بڼه د اړیکو د جوړېدو لامل کیږي. په دې هکله پوښتنه پیدا کیږي چې ایا د کاربن اتوم د هایبریدایزیشن بل ډول هم د اړیکو په جوړېدو کې کارولی شي؟ دا پوښتنه لاندې توضیحات روښانه کوي:


د sp^2 هایبریدایزیشن: په دې ډول هایبرید کې د s یو اوربیتال او د p دوه اوربیتالونه یو له بل سره امتزاج او په پایله کې د sp^2 درې هایبرید شوي اوربیتالونه جوړوي، دا اوربیتالونه په یوه سطحه کې وي چې د s برخه په sp^2 هر اوربیتال کې $\frac{1}{3}$ او د p برخه $\frac{2}{3}$ ده، د دې اوربیتالونو ترمنځ ولانسي زاویه 120° درجه ده:

(1 - 9) شکل: د sp^2 هایبرید

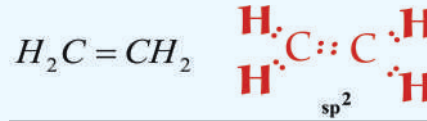
د کاربن اتومونه د غیر مشبوع هایډروکاربنونو (د ایتلین په کورنۍ کې) په مالیکول کې د sp^2 هایبرید لري. د BF_3 په مالیکول کې بورون sp^2 هایبرید لري:

(1 - 10) شکل: په BF_3 اتوم کې sp^2 هایبرید.

په هایبریدایزیشن کې نیم ډک شوي او یا بشپړ ډک شوي اوربیتالونه برخه اخلي او مالیکول اوربیتال جوړوي؛ په هایبریدایزیشن کې نه یوازې د s او p اوربیتالونه برخه اخلي؛ خو د d او f اوربیتالونه هم برخه لري. د کاربن په مرکبونو کې د sp^2 هایبریدایزیشن چې د دوه گونې اړیکې د جوړېدو لامل کیږي، شتون لري. ساده عضوي مالیکول چې د کاربن د دوو اتومونو ترمنځ یې دوه گونې اړیکه شته، د ایتلین مرکب دی چې دهغه



لیویس جوړښت په لاندې بڼه دی :



(11 - 1): د ایتلین په مالیکول کې د لیویس جوړښت.


تجربې ښيي چې د ایتلین مالیکول مسطحه جوړښت لري او په هغه کې د اړیکو تر منځ زاویه د 120° درجو په شاوخوا کې ده.

د ایتلین په مرکب کې د کاربن د دوو اتومونو تر منځ څه ډول هایبریدایزیشن شته دی؟
د ایتلین د لیویس په جوړښت کې لیدل کیږي چې د کاربن یو اتوم د کاربن له بل اتوم سره اړیکه جوړه کړې ده، د کاربن د درې هایبرید شوو اوربیتالونو د اړیکو د جوړیدو لپاره، ددې کاربنونو هر اتوم د درې نورو اتومونو سره چې د هغه په شاوخوا (د کاربن د یو اتوم او د هایډروجن له دوو اتومو سره) شتون لري، ضرورت دی؛ نو له دې کبله د sp^2 هایبریدایزیشن د جوړیدو لامل ګرځي.


د sp^2 د اوربیتالونو فضايي شکل د کاربن د اتوم په شاوخوا کې څه ډول دی؟ درې واړه نوموړي اوربیتالونه په یوه سطحه کې شتون لري او د هغو تر منځ زاویې 120° درجې دي؛ نو د p نه هایبریدیزیشن شوي اوربیتال په عمودي بڼه د دوی په سطحه کې شتون لري چې په (12-1) شکل کې ښودل شوی دی:

(12 - 1) شکل: د sp^2 درې هایبرید اوربیتال، په ایتلین د مرکب کې د اړیکې جوړیدل.

د ایتلین په مرکب کې د اړیکو د جوړیدو لپاره د کاربن دوه sp^2 اوربیتالونه هریوې د هایډروجن له دوه اتومونو سره اړیکې ټینګوي او د $C-H$ دوه اړیکې جوړوي، د کاربن په هر اتوم کې د sp^2 پاتې شوي یو هایبرید اوربیتال یو له بل سره نیغ ورتګ کوي او د کاربن د دوو اتومونو تر منځ د σ اړیکې د جوړیدو لامل ګرځي او څرنګه چې تاسې مخکې د ایتلین د اړیکو په جوړیدو کې ولیدل، دویمه اړیکه د کاربن د دوو اتومونو تر منځ د هغوی د p نه هایبرید شوو اوربیتالونو د څنګ پر څنګ ننوتنې له امله منځته راځي چې په (13 - 1) شکل کې ښودل شوي دي:



(13-1): شکل: د ایتلین په مرکب کې له اوربیتالونو څخه د ګټې اخیستنې د اړیکو جوړیدل.



p د اوربیتالونو د څنګ پر څنګ ننوتنې څخه د کاربن د دوو اتومونو ترمنځ اړیکه منځته راځي چې د پای (π) د اړیکې په نوم یا ډیرې د کاربن د دوو اتومونو دوه غیر هایبرید شوو P اوربیتالونو الکترونونه د مالیکول په پورته او ښکته برخه باندې یو له بل سره ننوتنه کوې او د π اړیکه جوړوي، تل په یوه دوه گونې اړیکه کې یوه د σ او یوه د π اړیکه شامله ده د π اړیکه د P غیر هایبرید شوي اوربیتالونو له څنګ پر څنګ ننوتنې څخه جوړه شوې ده، (1 - 13) شکل وگورئ.

فکر وکړئ

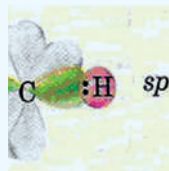


ستاسې له نظره د σ اړیکه قوي او مستحکمه ده او یا دا چې د π اړیکه قوي ده ؟ څرګنده یې کړئ .

SP هایبرید: په پورتنیو لوستونو کې مو مطالعه کړل چې څرنگه کولی شو چې د sp هایبریدایزیشن په واسطه د کاربن د دوو اتومونو په منځ کې دوه گونې اړیکه روښانه کړو، اوس به یې زده کوو چې څرنگه د sp له هایبریدایزیشن څخه په ګټه اخیستلو کولای شو چې د کاربن د دوو اتومونو په منځ کې درې گونې اړیکه څرګنده کړو، په دې ډول هایبرید کې یو د s اوربیتال او یو د p اوربیتال یو له بل سره ګډوډ کیږي؛ په پایله کې د sp هایبرید اوربیتالونه ($sp - hybrid$) تشکیلېږي چې د اړیکو ولانسي زاویه یې 180° درجې ده، د هغوی بیلګه کیدای شي چې د Be , Zn , Cd , Hg عنصرونو sp هایبرید په هلوچنیدونو مرکبونو کې وړاندې شي. تجربې ښيي چې د Be , Zn , Cd , Hg هایبرید په هلوچنیدونو کې sp هایبرید دی او د هغوی مرکبونه خطي هندسي جوړښت لري، په SP هایبرید کې د s او p هره یوه برخه $\frac{1}{2}$ ده.


(1 - 14) شکل: د sp هایبرید

د sp هایبرید او درې گونې اړیکې جوړیدل د استلین (C_2H_2) په مرکب کې چې یو ډېر ساده عضوي مرکب دی، د هغه د لیویس د جوړښت سره په لاندې ډول مطالعه کوو:



(1 - 15) شکل: د استلین مرکب د هغه د لیویس د جوړښت سره.

څرنگه چې په شکل کې مو ولیدل، استلین یو خطي مالیکول دی چې د هغه د اړیکو زاویه 180° درجه ده. کوم ډول هایبریدایزیشن د استلین د مرکب د کاربن په اتومونو کې شتون لري ؟ د استلین په مرکب کې د کاربن هر اتوم دوو هایبرید اوربیتالونو ته اړتیا لري چې په خپل منځ کې او د هایډروجن له اتومونو سره اړیکې جوړې کړي.



(16 - 1) شکل: په استلین کې د کاربن د دوو اتومو sp هایبرید

په (16 - 1) شکل کې د کاربن په اتوم کې د اوربیتالونو ځایونه او د sp هایبریدایزیشن لیدل کیږي، دلته د sp دوه اوربیتالونه خطي حالت لري او 180° درجه زاویه یې په خپل منځ کې جوړه کړې ده؛ په داسې حال کې چې د کاربن د اتومونو دوه p نه هایبریدایزیشن شوي اوربیتالونه یو له بل سره موازي او د هغه خط د پاسه عمود ولاړ دي کوم چې د sp دوه اوربیتالونه یې سره نښلولي دي، د استلین د جوړیدو لپاره د کاربن د هر اتوم یو sp اوربیتال د هایډروجن د هر اتوم له $1s$ اوربیتال سره نیغه ننوتنه ترسره کوي چې د کاربن او هایډروجن $C-H$ اړیکه جوړوي، د sp دوه پاتې اوربیتالونه د کاربن په دوو اتومونو کې نیغه ننوتنه کوي چې د σ اړیکه د کاربن د دوو اتومونو تر منځ جوړیږي او د کاربن د اتومونو د هریو دوه الکترونونه چې د p په غیر هایبرید شوو اوربیتالونو کې ځای لري، یو له بل سره څنګ پر څنګ ننوتنه کوي؛ نو د استلین په مالیکول کې د کاربن د دوو اتومونو تر منځ د π دوه اړیکې منځته راځي، چې په لاندې شکل کې ښودل شوي دي:

(17-1) شکل: په استلین کې د SP له هایبرید شوو اوربیتالونو څخه ګټه اخیستنه.

فعالیتونه



۱- د مرکبونو مالیکولي جوړښت او دهغوی درسمولو په پام کې نیولو سره، داوبو د مالیکول د اکسیجن هایبریدایزیشن، د 1 او 4 نمبر کاربن د اتومونو هایبریدایزیشن د $CH_3-CH=C=CH_2$ مرکب په مالیکول کې وټاکئ.

۲- د SO_3 د مالیکول فضايي شکل ولیکئ او لاندې پوښتنه ته ځواب ورکړئ.
سلفر اتوم څو جوړې الکترونونه احاطه کړي دي؟

د لومړي څپرکي لنډيز



- عضوي کيميا د کاربن، هايډروجن د مرکبونو او د هغوی له مشتقاتو څخه بحث کوي.
- د کاربن د اتوم الکتروني جوړښت $1s^2 2s^2 2p^2$ دی چې د کاربن اتوم د هڅولو په حالت کې $1s^2 2s^1 2p^3$ الکتروني جوړښت لري .
- د اته الکتروني (octate) حالت د پوره کولو لپاره، د کاربن اتوم د خپل ولانسي قشر څلور الکترونونه د نورو عناصرو له اتومونو او د کاربن له اتومونو سره شريک وي، په پايله کې د کاربن ولانس څلور دی.
- د کاربن اتومونه کولی شي يو گونې، دوه گونې او درې گونې اړيکې جوړې کړي.
- Hybridization د دوو يا څو بيلا بيلو اتومونو د اوربيټالونو له گډوډو څخه عبارت دی چې دوه او يا څو نوي هايبريدي اوربيټالونه منځ ته راوړي .
- sp^3 هايبريد ايزيشن: د کاربن اتومونه په مشبوع هايډروکاربنونو کې دا ډول هايبريد ايزيشن لري او داسې منځ ته راځي چې د s يو اوربيټال او د p د درې اوربيټالونو د انرژي د جذب په پايله کې يو له بل سره مخلوطيږي او د sp^3 څلور هايبريد شوي اوربيټالونه جوړوي.
- sp^2 هايبريد ايزيشن: په دې ډول هايبريد کې د s يو اوربيټال او د p دوه اوربيټالونه يو له بل سره امتزاج او په پايله کې د sp^2 درې هايبريد شوي اوربيټالونه جوړوي.
- sp هايبريد: په دې ډول هايبريد کې يو د s اوربيټال او يو د p اوربيټال له بل سره گډوډ کيږي، په پايله کې د sp هايبريد اوربيټالونه جوړوي.
- د سگما اړيکه: که چېرې د الکتروني ورېځې پوښښ د هغه خط په اوږدو (امتداد) چې د دوو اتومونو هستې سره نښلوي، ترسره شي؛ يعنې د اوربيټالونو ننوتل مستقيم او لوړ وي، اړيکه کلکه ده چې د (σ) سگما اړيکې په نوم يا ډيږي.
- د π اړيکه: په ماليکول کې د دوو اتومونو تر منځ اړيکه کيدای شي دوه گونې يا درې گونې وي، دا ډول اړيکې له يوې جوړې څخه د زياتو الکترونونو په واسطه جوړيږي؛ د بيلگې په ډول: د اکسيجن

په ماليکول کې د اکسیجن د دوو اتومونو ترمنځ اړیکه دوه ګونې او د نایټروجن په ماليکول کې د نایټروجن د دوو اتومونو ترمنځ اړیکه درې ګونې ده . که چیرې د اتومي اوربیتالونو ننوتل څنګ پرڅنګ وي، یعنې د p د اوربیتالونو د الکتروني وریځې پوښښ څنګ پرڅنګ وي او د x د محور د پاسه ځای ونیسي، دا منځ ته راغلې اړیکه د π د اړیکې په نوم یادېږي .

• دوه ګونې اړیکه د یوې سګما (σ) اړیکې او له یوې پای π اړیکې څخه جوړه شوې ده او درې ګونې اړیکه د یو سګما (σ) اړیکې او دوه له (π) اړیکو څخه جوړه شوې ده .

د لومړي څپرکي پوښتنې

څلور ځوابه پوښتنې

$$1s2s^12p^2$$

- 1 - د کاربن اټوم دهڅې په حالت کې د ----- الکتروني جوړښت لري .
الف - $1s^22s^22p^2$ ب - $1s2s^1sp^3$ ج - $1s^22s^12p^3$ د - $1s^22s^12p^2$
- 2 - د $^{14}_6C$ د نیم عمر اوږدوالی ----- کاله دی او د ----- د وتلو په پایله کې په نایټروجن بدلیږي.

الف - $5568, \beta^+$ ب - $5730, \bar{\beta}$ ، ج - $5580, \gamma$ د - $5580, \alpha$

- 3 - په ټولو عضوي مرکبونو کې د کاربن هراتوم ----- شریکې اړیکې د کاربن له نورو اتومونو سره او یا دا چې د نورو عناصرونو له اتومونو سره؛ لکه: هایډروجن، اکسیجن، نایټروجن او هلوجن سره جوړوي.


الف - دوه اړیکې، ب - درې اړیکې، ج - څلور اړیکې . د - یوه اړیکه

4 - کاربن کولی شي ----- اړیکې ولري.

- الف - یوه ګونې، ب - دوه ګونې، ج - درې ګونې، د - درې واړه ځوابونه سم دي
- 5 - د کاربن د هر اټوم او د هایډروجن د هر اټوم ترمنځ یوه اړیکه شته ده چې ---- ګله الکترونونه د هغه په منځ کې شتون لري.

الف - یوه، یوه جوړه، ب - دوه، دوه جوړې، ج - درې، درې جوړې، د - څلور، څلور جوړې

6 - Hybrid د دوو یا څو بېلابېلو ----- له ګډوډیدو څخه عبارت دی چې دوه او یا څو نوي



----- اوربیتالونه منځته راږوي .

الف - اتومي اوربیتال، هایبریدی، ب- مالیکول اوربیتال، هایبریدی،

ج - الف او ب دواړه سم دي، د - هیڅ یو

7 - که چیرې د s یو اوربیتال د p له درې اوربیتالونو سره د انرژي د جذب په پایله کې ګډوډ شي، کوم هایبریدی اوربیتال جوړوي؟

الف - SP ب- SP^4 ج - SP^2 د - SP^3

8 - د s برخه د SP^2 په هر اوربیتال کې د ----- او دې درې اوربیتالونو ترمنځ ولانسي زاویه ----- درجه ده.

الف- $120^\circ \frac{1}{3}$ ب- $120^\circ \frac{2}{3}$ ج- $180^\circ \frac{2}{3}$ د- $180^\circ \frac{4}{5}$

9 - که چیرې د s یو اوربیتال د p د یو اوربیتال سره ګډ شي، کوم هایبرید لاسته راځي؟

الف - sp ، ب - sp^2 ، ج - sp^3 ، د - spd

10 - که چیرې د اوربیتالونو ننوتل نیغ او لوړ وي، اړیکه کلکه ده چې د ----- په نوم یا ډیري .

الف - سګما ب- σ ج - الف او ب د - هیڅ یو

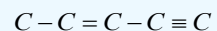
11 - په $CH_3 - CH = CH = CH - C \equiv CH$ مرکب کې د π څو اړیکې شتون لري؟

الف - درې، ب- څلور، ج - پنځه، د - دوه،

تشریحي پوښتنې

1 - ولې مالیکولونه د CH_3 او C_2H_5 له فورمولونو سره شتون نه لري؟

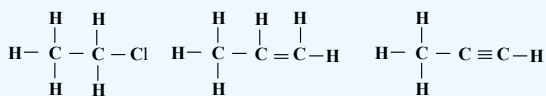
2- د هایډروجن څو اتومه د لاندې کاربنی اسکلیټ له اتومونو سره ترکیب کیدای شي؟



3 - د ایتایل الډیهاید (CH_3CHO) خطي اړیکې او د لیویس جوړښت رسم کړئ.

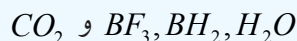
4 - د پروپین ($CH_3CH = CH_2$) دخطي اړیکو جوړښت، هایبریدایزیشن او د هغه د اړیکو زاوې رسم کړئ.

5- د کاربن د اتوم هایپریدایزیشن د لاندې مرکبونو په مالیکولونو کې وټاکئ .

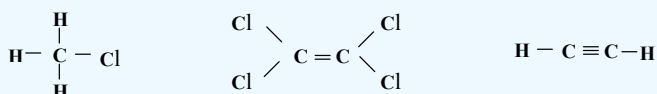


6- له هایپریدایزیشن څخه په ګټه اخیستنه د CCl_4 په مرکب کې د اړیکو جوړیدل روښانه کړئ.

7- د لاندې مرکبونو په مالیکول کې د مرکزي اتومونو هایپریدایزیشن روښانه کړئ :



8- په لاندې مالیکولونو کې به د اړیکو زاویه په تقریبي توګه څو وي؟



9- د اسپرین د مالیکول موډل چې لاندې لیکل شوی دی، په پاملرنې سره وګورئ، د هغه مالیکولي

فورمول د خطي اړیکو په بنسټ رسم او د کاربن د اتومونو هایپریدایزیشن په کې وټاکئ .

(د اسپرین په موډل کې نښوونکي غونډاري د کاربن اتوم، سره غونډاري د اکسیجن اتوم او سور سپین

ته ورته غونډاري د هایډروجن اتومونه ښیي).

د اسپرین مالیکول




10- په لاندې مرکبونو کې څو د سګما اړیکې او څو د پای π اړیکې شتون لري ؟ د هغوی د

لیویس جوړښت ولیکئ او هم د کاربن د ټولو اتومونو هایپریدایزیشن روښانه کړئ.

الف - 1,3-butadiene ب- 1-pentyne ج- 1,2-propadiene

د مالیکول جوړښت او فورمولونه



د کیمیايي مرکبونو مالیکولونه د هغو له ډلې څخه د عضوي مرکبونو مالیکولونه د ځانګړو اړوندو جوړښتونو لرونکي دي او د عناصرو له اتومونو څخه په بېلابېلو شکلونو او یا بېلابېلو قواو په واسطه جوړ شوي دي.

د مرکبونو مالیکولونه د بېلابېلو عناصرونو د اتومونو لرونکي دي چې د اتومونو د اړیکو له لارې په بېلابېلو شکلونو لیدل کېږي، باید پوه شو چې مالیکول څه شی دی او د مالیکولونو جوړښت څه ډول دی؟ د مرکبونو مالیکولونه د کومو سمبولونو په واسطه ښودل کېږي؟ فورمول څه شی دی او د مالیکول کومه ځانګړتیا ښیي؟ فورمولونه په څو ډوله دي؟ او څه رنگه لیکل کېږي؟ ایزومیري څه شی دی او د ایزومیریو مفهوم څرنگه روښانه کولی شو؟ د دې څپرکي په لوستلو پورتنیو پوښتنو ته ځوابونه ویلی شو.

۲-۱: ماليکولي فورمول

تل يو کيميايي مرکب د هغه جوړونکو عناصرو د سمبولونو د تړون له لارې د هغو د نسبتي ضريبنو سره چې د سټوکیومتری (Stoichiometry) ضريبنو په نوم هم يادېږي، ښودل کېږي، د بيلگې په ډول: NaCl د خوړو مالگې ښودونکي او H_2O د اوبو ښودونکي دي چې جوړونکو عناصرو د سمبولونو د تړون لاره د مرکبونو د نسبتي ضريبنو سره د ماليکولي فورمول په نوم يادېږي. يو ماليکول اوبه د دوو اتومو هايډروجنونو او يو اتوم اکسيجن څخه جوړې شوې دي، په دې بنسټ د اوبو ماليکولي فورمول H_2O دی.

ماليکولي فورمول کېدای شي د کيميايي تجزيې په واسطه وټاکل شي. د کيميايي فورمولونو بل ډول له تجربې فورمول څخه عبارت دی، په دې فورمول کې د بېلابېلو عناصرو د اتومونو شمېر په يو مرکب کې ښودل کېږي، د تجربې کلمه په دې ځای کې په دې معنا ده چې وړاندې شوی فورمول يوازې د ليدنې او اندازه کولو پر بنسټ يعنې د توصيفي او مقداري تحليل په واسطه ټاکل شوی دی، د گلوکوز ماليکول له 6 اتومونو کاربن، 12 اتومونو هايډروجن او 6 اتومونو اکسيجن څخه جوړ شوی دی او تجربې فورمول يې CH_2O دی چې يوازې دکاربن د اتومونو، د هايډروجن د اتومونو او اکسيجن د اتومونو نسبت د گلوکوز په ماليکول کې ښيي، څرنگه چې دا نسبتونه تل د يوې مادې ډير ساده بڼه ښکاره کوي، نو له دې کبله دا فورمول د ساده فورمول په نوم هم يادېږي. په لاندې شکل کې د گلوکوز فورمولونه په څو ساده شکلونو ښودل شوي دي:

ماليکولي فورمول $C_6H_{12}O_6$

تجربې فورمول CH_2O




مشرح ساختماني فورمول

دگلوکوزموډل

(1 - 2): شکل: د گلوکوز فورمولونه

تجربې فورمولونه

په لاندې جدول کې د تجربې او ماليکولي فورمولونو بيلگې وړاندې شوي دي.
(1 - 2) جدول د تجربې او ماليکولي فورمولونو بيلگې

مرکب	ساده فورمول	ماليکولي فورمول	ماليکولي کتله	د ښودلو تگ لاره
فارم الډيهايد	CH_2O	CH_2O	30.03	
اسيتيک اسيد	CH_2O	$C_2H_4O_2$	60.06	
گلوکوز	CH_2O	$C_6H_{12}O_6$	180	

د دې لپاره چې د مرکبونو ساده او ماليکولي فورمولونه مو په سمه توګه ليکلي او موندلي وي، ښايي چې لومړی د مرکب توصيفي او مقداري تحليل باندې پوه شو، د مرکب د توصيفي او مقداري تحليل په پوهيدلو سره کېدای شي چې هغه تجربې فورمول له لاندې موادو سره سم ليکلی او ترلاسه شي.

1- هر عنصر مقداري کمیتونه چې د انالیز (د تجزیې) په واسطه لاسته راغلي دي، په مول بدلولو.
2- د مرکب د تشکیل کوونکو عناصرونو د مولونو کچه چې له لومړي بند سره سم لاس ته راغلي ده، په پوره پام سره ګورو او د هغوی کوچنی کمیت په ګوته کوو، وروسته له دې د غوښتونکي مرکب د ماليکول د جوړونکو عناصرونو ټول مولی کمیت په همدې کوچني مولی کمیت باندې ویشل کېږي؛ نو رقمونه به پرته له قیاسي واحد څخه لاسته راشي.

3- هغه کمیتونه چې له دویم بند سره سم لاسته راځي، د مطالعې لاندې نیسو، که چیرې تام عددونه وې د مرکب د ماليکول د جوړونکو عناصرونو د اتومونو ضریبونه په ساده فورمول کې دي او که تام رقمونه نه وي، هغوی د رونداف په تګ لاره او یا د تام ډېر کوچني عدد په ضربولو په واسطه په تامو عددونو تبدیلوو، دا تام عددونه د عناصرونو اتومي نسبت په ساده فورمول کې ښيي، د عناصرونو نسبي رقمونه د ماليکولي فورمول د سم لیکلو د لارو په پام کې نیولو سره د کېمیايي عناصرونو د سمبولونو سره یوځای کوو چې ساده فورمول لاسته راځي.

4- د مرکب د ماليکولي فورمول د صحیح لیکلو لپاره د توصيفي او مقداري تحليل سریره باید د مرکب ماليکولي کتله هم معلومه وي، په دې بنسټ د توصيفي او مقداري تحليل په پام کې نیولو سره ساده فورمول د پورتنیو موادو سره سم لاسته راوړو او د مطلوب مرکب ماليکولي کتله د ساده فورمول نسبي ماليکولي کتلي باندې ویشل او تام عدد به حاصل شي چې دا عدد د عناصرونو په نسبت په ساده فورمول کې ضربوو او په پایله کې د مرکب ماليکولي فورمول حاصلېږي.

$$X = \frac{\text{ماليکولي فارمول کتله}}{\text{د تجربې فورمول کتله}}$$

لومړی مثال: 7.2g یو عضوي مرکب د مس له ډاکساید سره په آزمایشي نل کې تودوخه ورکړ شوېده چې په پایله کې 10.52 کاربن ډای اکساید او 4.32 د اوبو پراس تر لاسه شوی دي، که چېرې د هغه 1.8 ګرام په کچه په 50g اوبو کې حل شي، لاسته راغلی محلول په 0.372C° کې کنگل کېږي، د نوموړي مرکب ساده او ترکیبي فورمول وليکئ.

حل: د کاربن ډای اکساید فیصدي

عضوي ماده کاربن ډای اکساید

$$\left. \begin{array}{rcl} 10.52\text{g CO}_2 & - & 7.2\text{g} \\ x & - & 100 \end{array} \right\} x = \frac{10.52\text{g} \cdot 100}{7.2\text{g}} = 146.11\%$$

د کاربن فیصدي:

$$\left. \begin{array}{rcl} 44\text{g CO}_2 & - & 12\text{gC} \\ 146.11\text{gCO}_2 & - & x \end{array} \right\} x = \frac{146.11\text{gCO}_2 \cdot 12\text{gC}}{44\text{CO}_2} = 40\% \text{C}$$

د اوبه فیصدي:

$$\left. \begin{array}{rcl} \text{عضوي ماده} & & \text{د اوبو اندازه} \\ 4.32gH_2O & - & 7.2g \\ x & - & 100 \end{array} \right\} x = \frac{4.32g \cdot 100}{7.2g} = 60\%$$

د هايډروجن فیصدي:

$$\left. \begin{array}{rcl} 18gH_2O & - & 2gH \\ 60gH_2O & - & x \end{array} \right\} x = \frac{6.6g \cdot 100}{7.2} = 6.67\%$$

د اکسیجن فیصدي:

$$\left. \begin{array}{rcl} 18gH_2O & - & 16gO \\ 60gH_2O & - & x \end{array} \right\} x = \frac{60gH_2O \cdot 16gO}{18H_2O} = 53.3\%$$

$$C = 40g / 12g \cdot mol^{-1} = 3.33mol$$

$$H = 6.66 / 1g \cdot mol^{-1} = 6.66mol$$

$$O = 53.3 / 16g \cdot mol^{-1} = 3.3mol$$

$$C = 3.33mol / 3.33mol = 1$$

$$H = 7mol / 3.33mol = 2$$

$$O = 3.3mol / 3.33mol = 1mol$$

$$\left. \begin{array}{l} C = 1 \\ H = 2 \\ O = 1 \end{array} \right\} CH_2O$$

د عنصرنو فیصدي په هغوی په مولونو تبدیلو، وروسته ټول د هغوی په کوچني عدد تقسیموو تر څو د اټومونو نسبت د مرکب ساده فارمول لاسته راځي.

$$\text{په یوولسم ټولگې کې موزده کړل چې} \quad \Delta t = K \cdot C_m = K \cdot \frac{m \cdot 1000g \cdot molal}{M \cdot m'}$$

$$M = K \cdot \frac{m \cdot 1000g \cdot molal}{\Delta t \cdot m'}$$

$$M = 1.85 \frac{CKg}{mol} \cdot \frac{1.8g \cdot 1000g \cdot molal}{0.37C^\circ \cdot 50g} = 180$$

$$M = 180$$


$$M(CH_2O)_n = 180$$

$$(12 + 1 \cdot 2 + 16)n = 180$$

$$(30)n = 180 \Rightarrow n = \frac{180}{30} = 6$$

$$(CH_2O)_n = (CH_2O)_6 \Rightarrow C_6H_{12}O_6$$

نو حقيقي فارمول د ماليکولي کتلې له مخې پيدا کوو:



مشق اوتمرین وکړئ



د یو عضوي مرکب توصیفي او مقداري تحلیل ښیي چې د هغه په جوړښت کې 6g کاربن او 1.2g هایدروجن شتون لري، د هغه ساده فورمول ولیکئ. که چېرې د هغه مالیکولي کتله 72 وي، مالیکولي فورمول یې ومومئ.

د الکانونو مالیکولي فورمول

مالیکولي فورمول، مرکبونه په کیمیايي ژبه ورپیژني، فورمول نه یوازې په مالیکول کې د اتومونو ډول ښیي؛ خو د اتومونو شمېر او ډولونه هم ښیي. میتان د الکان هایدروکاربن ډیر ساده مرکب دی او د الکانونو نور دوه مرکبونه د ایتان (C_2H_6) او پروپان (C_3H_8) دي، آیا کولی شئ C_nH_{2n+2} د هغه الکان فورمول چې د څلورو کاربنونو لرونکی وي، وښیي؟ د دې لپاره د لومړي الکانو له فورمول څخه کومک واخېستل شي، د کاربن او هایدروجن د اتومونو د شمېر ترمنځ اړیکه د هغوي په هریو کې ومومئ، په دې فورمول کې n د کاربن د اتومونو شمېر په هر الکان کې ښیي.

جدول: (2 - 2) د الکانونو د عمومي فورمول ټاکل C_nH_{2n+2}

CH_4	C_2H_6	C_3H_8	$C_4H_?$
شمېر $C=1$	شمېر $C=2$	شمېر $C=3$	شمېر $C=4$
شمېر $H=2(1)+2=4$	شمېر $H=2(2)+2=6$	شمېر $H=2(3)+2=8$	شمېر $H=2(4)+2=10$

فعالیت



د هغو الکانونو مالیکولي فورمولونه پیدا کړئ کوم چې د کاربن د اتومونو شمېر یې په لاندې جدول کې لیکل شوي دي:

د هر الکان د کاربن شمېر (n)	5	6	7	8	9	10
مالیکولي فورمول						

2-2: جوړښتیز فورمولونه

د مرکبونو مالیکولي فورمولونه مونږ ته راښیي چې کوم عنصرونه د یو مرکب په جوړښت کې شتون لري او د هر مرکب په جوړښت کې د نوموړو عنصرونو د اتومونو شمېر په کومه کچه دي، خو د دې لپاره چې پوه شو د عنصرونو اتومونه د مرکبونو په مالیکولونو کې څرنگه سره نښتي دي، باید د هغوی جوړښتیز فورمول ولیکلی شو. جوړښتیز فورمولونه د مالیکولونو په هکله زیات معلومات وړاندې کوي، د اتومونو ځایونه په مالیکول کې ښیي.

د جوړښتیز فورمولونو د ډولونو سربېره، د هر عنصر د اتومونو شمېر، د اتومونو نښلیدل یو له بل سره ښیي. د دوو مرکبونو

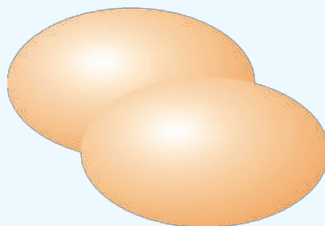
(ایتایل الکول او ډای میتایل ایتر) تجربی، مالیکولي او جوړښتیز فورمولونه چې په (2-2) جدول کې لیکل شوي دي، یو له بل سره پرتله کړئ، د دواړو مرکبونو په مالیکولونو کې د اتومونو شمېر او ډول یو شان دی، خو د اتومونو د اړیکو څرنگوالی او د هغوی جوړښت یو له بل څخه توپیر لري، همدا کوچني جوړښتیز توپیرونه د هغوی د کیمیايي خواصو د توپيرونو لامل ګرځیدلي دي، ډای میتایل ایتر ګاز په یخچالونو کې کارول کېږي او بیهوشه کوونکې ماده ده، خو ایتانول مایع حالت لري چې د عضوي موادو د محلول په توګه له هغه څخه په صنعت کې ګټه اخیستل کېږي او یو نشه کوونکې ماده ده او انسان ته بیخودي ورکوي. ساختماني فورمولونه یې د لیویس د جوړښتیز د فورمولونو په شان دي، یولنډ خط د یوې ساده اړیکې ښودونکی چې د یو-یو الکترون تصور، د دې خط په څوکو کېدای شي. هغه مالیکولونه چې یو شان مالیکولي جوړښت ولري، خو د هغوی جوړښتیز فورمولونه یو له بل څخه توپیر ولري، یو د بل ایزومیر دي.

(2-3) جدول: د ایتانول او ډای میتایل ایتر د خواصو پرتله

مرکب	ساده فورمول	مالیکولي فورمول	جوړښتیز فورمول	د اېښودو درجه	کثافت
ایتانول	C_2H_6O	C_2H_6O	$ \begin{array}{c} H \quad H \\ \quad \\ H - C - C - O - H \\ \quad \\ H \quad H \end{array} $	$78^\circ C$	$0.816g/cm^3$
ډای میتایل ایتر	C_2H_6O	C_2H_6O	$ \begin{array}{c} H \quad \quad H \\ \quad \quad \\ H - C - O - C - H \\ \quad \quad \\ H \quad \quad H \end{array} $	$-24.5^\circ C$	$0.661g/cm^3$

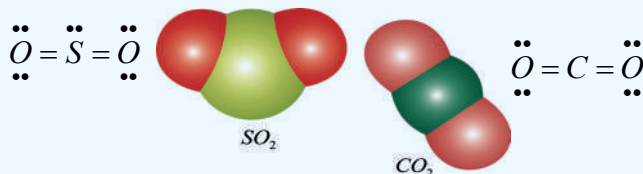
2-3: د جوړښتیزو فورمولونو د لیکلو لارې

څرنگه کېدای شي چې د مالیکولونو د هندسي شکلونو وړاند وینه شي او هغه ولیکل شي؟ تر اوسه مو ډېر زیات مطلبونه د مالیکولونو د جوړښت په اړه زده کړي دي؛ خو د مالیکولونو درې اړخیز لوري یا هندسي جوړښت مو نه دی مطالعه کړی، د مالیکولونو هندسي شکلونه د هغوی د کیمیايي خواصو په ټاکلو کې ډېر مهم عامل دي. ساده مالیکولونه د ساده هندسي شکلونو لرونکي دي، دوه اتومي مالیکولونه؛ لکه: د هایدروجن مالیکول د یو ساده شکل لرونکی دی چې لاندې ښودل شوی دی؛ خو هغه مالیکولونه چې له دوو اتومونو څخه زیات اتومونه لري، د هندسي پیچلو شکلونو لرونکي دي او په دې هکله باید زیات معلومات وړاندې شي:



(2-2) شکل: د هایدروجن مالیکول ته ورته دوه اتومي مالیکولونه

په عمومي ډول دېو مرکب د مالیکولي فورمول او دهغه د هندسي شکل ترمنځ روښانه اړیکه شتون نه لري، دیبلګي په ډول: د کاربن ډای اکساید (CO_2) او سلفر ډای اکساید (SO_2) د مرکبونو دوه مالیکولونه په پام کې نیسو، په دواړو مرکبونو کې درې اتومونه شته دي چې دوه یې د اکسیجن اتومونه دي، خو د دې مرکبونو مالیکولونه بېلابېل هندسي شکلونه لري. د (CO_2) مالیکول خطي او (SO_2) مالیکول کورب دی، ولې؟ د دې پوښتنې ځواب کېدای شي د ولانسي الکترونونو په جوړښت کې په ځانګړې توګه دهغوی د اتومونو په ازادو جوړوالی الکترونونو کې ولټول شي:



(2-3) شکل: کاربن ډای اکساید او سلفر ډای اکساید د مالیکولونو جوړښت


یوه نظریه چې د مالیکولونو د هندسي شکلونو د جوړښت لپاره یې وړاندوینه شوې ده، د ولانسي قشر د جوړه الکترونونو د دافعه قوي ($\text{Valence shell Electron pairs Repulsion}$) له نظریې څخه عبارت ده، چې په (VSEPR) سره ښودل کېږي. له دې نظریې سره سم، د الکتروستاتيکې د لري کولو قوا و شتوالې په یو مالیکول کې د اړیکو او یا د نه اړیکو د جوړو الکترونونو ترمنځ د دې لامل ګرځي ترڅو الکترونونه د امکان تر حده پورې یوله بل څخه فاصله نیولې وي او لوری ولري؛ خو دا لوری نیول داسې دی چې ډیر کلک هندسي جوړښت مالیکول ته ور په برخه کوي. او د اتومونو د ځانګړي جوړښت لامل ګرځي ترڅو د مالیکولونو د اړیکو او یا د نه اړیکو جوړه د الکترونونو ترمنځ ډیره لږه د لري کولو قوه شتون ولري، د الکتروني ساحې په نوم یادېږي او مرکزي اټوم له شاوخوا ساحې څخه عبارت ده چې الکترونونه د شمېر نه پاملرنې سره په هغه ځای کې شتون ولري. د دې تعریف پر بنسټ یوه ګونې، دوه ګونې او درې ګونې اړیکې هم یوه ساحه شمېرل کېږي.

فعالیت



د مالیکولونو د هندسي شکلونو د ښودلو لپاره کېدای شي له باد لرونکو پوکانيو څخه ګټه واخیستل شي. څو پوکاني په عین کچه تیارې او لاندې تجربې ترسره کړئ:

- 1 - په لومړي سر کې دوې وړې پوکاني د باد څخه ډکې کړئ، وروسته د تار څخه په ګټه اخیستلو سره د پوکانو سروته یو له بلې سره داسې وتړئ چې سره نژدې وي، خو آزادې دي وي. پوکاني د ورښمېنې ټوټې مخ سره وموښئ ترڅو د برښنا چارج تر لاسه کړي، وروسته بیا هغوی پر میز خوشې کړئ ترڅو ثابت حالت ځانته غوره کړي، پوکاني له لاندې حالتونو څخه کوم یو ځانته غوره کوي؟



(۳) شکل: د تجربې لپاره (2-4)

2- که چېرې په پورتنی آزمایش کې درې پوکاني وکارول شي، هغوی ته به لاندې کوم جوړښت مناسب وي؟

(2-5) شکل

3- که چېرې په پورتنی آزمایش کې څلور پوکاني وکارول شي، هغوی ته به لاندې کوم جوړښت مناسب وي؟

(2-6) شکل

4- څرنګه چې د ماليکولونو هندسي شکل د هغوی د لیویس جوړښت پر بنسټ ټاکل کېږي، د دې موخې لپاره له لاندې لارو څخه کار اخلو:

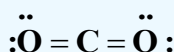
الف - د لیویس د ماليکول جوړښت رسم کېږي.

ب - د مرکزي اټوم په شاوخوا کې د الکتروني ساحو شمېر ټاکل کېږي.

ج - اړونده هندسي جوړښت د الکتروني ساحو د شمېر پر بنسټ وټاکي.

دوه الکتروني ساحې: (خطي جوړښت)

هغه زاویه چې درې نښلولی اټومونه یو له بله سره جوړوي، د اړیکو د زاویه په نوم یادېږي چې زیاتره کچه یې 180° ده. د CO_2 ماليکول چې د لیویس جوړښت لري، په پام کې نیسو:

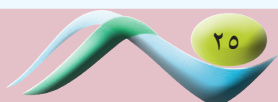


د مرکزي اټوم په شاوخوا کې دوې الکتروني ساحې (کېن اوبنې لورې) شتون لري.

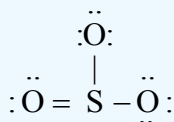
یوازې د ممکنه لوري نیول چې کولی شي د کاربن د اټوم په شاوخوا دوه الکتروني ساحې د امکان تر حده پورې یوله بل څخه لېرې وساتي، له خطي جوړښت څخه عبارت دي. لاندې شکل وګورئ:

(2-7) شکل: د خطي ماليکول جوړښت.

د (VSEPR) له نظریې سره سم، هغه ماليکول چې د مرکزي اټوم په شاوخوا کې د دوو الکتروني ساحو لرونکي دي، څرنګه چې په کاربن ډای اکساید کې لیدل کېږي، خطي جوړښت لري او ولانسي زاویه یې 180° ده.



د درې الکتروني ساحې (درې ضلعي يامسطح) جوړښت: په دې اړه دسلفر ترای اکساید (SO_3) جوړښت گورو:



په SO_3 کې درې اړخيزې الکتروني ساحې د مرکزي اتوم سلفر (S) په شاوخوا کې شتون لري. ددې ماليکول هندسي جوړښت چې درې ضلعي يا مسطح دی، لاندې ډول ليکل شوی دی:

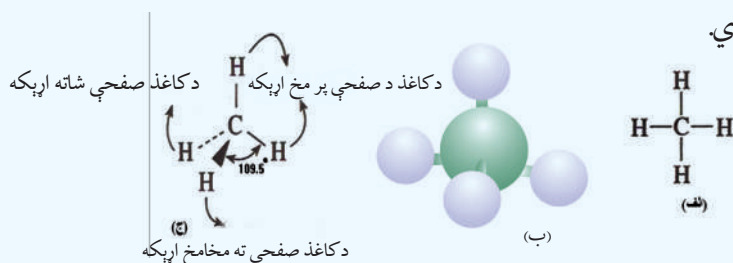
$$120^\circ$$

(8-2) شکل: د SO_3 د ماليکول مسطح جوړښت

په ماليکولونو کې د SO_3 په شان، کله چې مرکزي اتوم د نورو درې اتومونو په واسطه چاپېر شوی وي او په هغوی کې الکتروني جوړې له اړیکو الکترونونو جوړه يي ډولو څخه وي؛ نو د ماليکول جوړښت مسطح دی او د هغه ولانسي زاویه 120° درجې ده.

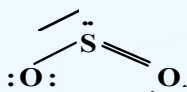
څلور الکتروني ساحې (څلورمخه جوړښت)

دالکترونونو څرنګوالی چې څلور الکتروني ساحې لري، د هغوی ماليکولي جوړښت لږ څه پېچلی دی، چې بیلګه يې کېدای شي میتان CH_4 وویل شي؛ ځکه د یو مسطح شکل په عوض چې د کاغذ په پاڼه کې ښودل کېږي، یو درې اړخیز شکل لري او د څلور وجهي په نوم یادېږي. د میتان د ماليکول دښودلو څو بېلابېلې لارې په (2-8) شکل کې ښودل شوي دي. شکلونه کېدای شي د درې ستونو په ډول په پام کې ونیول شي چې دهغوی څلورمه ستنه له پورته خوا څخه پر هغه باندې ټینګه ده، په دې ډول جوړښت کې الکتروني جوړې یوه له بلې سره په 109.5° کې دي.



(2-9) شکل: د میتان ماليکولي فورمولونه

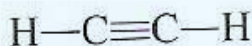
په ماليکولونو کې د جوړه الکترونونو د نه اړیکو شتون په صورت کې د اړیکو زاوې داسې برابري کړي چې د نه اړیکو جوړو الکتروني ساحې لپاره اړونده لویه فضا پرانستل شي. د سلفر اتوم د SO_2 په ماليکول کې گورو.



د سلفر اتوم په شاوخوا کې درې الکتروني ساحې شته دي، له دې کبله د هغو جوړښت د مسطح درې ضلعي گروپ پورې اړه لري، په دې جوړښت کې الکتروني ساحې یوه له بلې سره 120° درجې زاویه لري، خو د یوې نه اړیکې الکتروني جوړې په پرتله ډیره فضا نیسي، ځکه د نه اړیکو الکتروني جوړې د یوې هستې د اغیزې لاندې دي، په داسې حال کې چې د اړیکو الکتروني جوړې د دوو هستو د اغیزو لاندې دي.

د لرې کولو قوه د نه اړیکو-اړیکو الکتروني جوړو ترمخ لږ څه د اړیکو اړیکو د الکتروني جوړو ترمخ دلرې کولو له قوې څخه زیاته ده، د لرې کولو د قواو د زیات والي له امله، د اړیکو الکتروني جوړې یوه له بلې څخه لږ څه لرې دي، نو له دې کبله د SO_2 د مالیکول د اړیکو زاویه چې باید 120° وي، $119,5^\circ$ ته ټیټه شوې ده، د SO_2 په هکله باید وویل شي چې په هغه کې دوه گونې او دوه گونې اړیکه هم همدارنګه ده، ځکه د هغوی الکتروني ساحې د یو گونې اړیکې له ساحې په نسبت ډیرې فضا ته اړتیا لري. لاندې شکلونه د ایتلین او استلین مالیکولي فورمولونه ښيي چې د هغوی په مالیکولونو کې د دوو کاربنو ترمخ په ترتیب سره دوه گونې او درې گونې اړیکې شتون لري:

(2-10) شکل: د ایتلین د مالیکول فورمول او خطي جوړښت



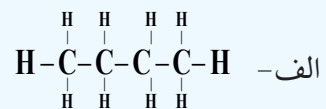
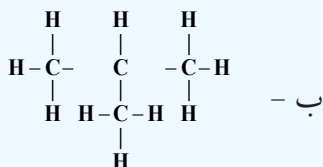
(2-11) شکل: د استلین د مالیکول فورمول خطي جوړښت

د ځینو الکانونو جوړښتیز فورمولونه لاندې جدول کې لیکل شوي دي:

4-2 جدول دځينو الکانونو نوم او د لیویس جوړښت

د الکانونو نومونه	مالیکولي فورمول	جوړښتیز فورمولونه
پروپان	C_3H_8	$\begin{array}{c} H & H & H \\ & & \\ H-C & -C & -C-H \\ & & \\ H & H & H \end{array}$
بیوتان	C_4H_{10}	$\begin{array}{c} H & H & H & H \\ & & & \\ H-C & -C & -C & -C-H \\ & & & \\ H & H & H & H \end{array}$
پنتان	C_5H_{12}	$\begin{array}{c} H & H & H & H & H \\ & & & & \\ H-C & -C & -C & -C & -C-H \\ & & & & \\ H & H & H & H & H \end{array}$
هگزان	C_6H_{14}	$\begin{array}{c} H & H & H & H & H & H \\ & & & & & \\ H-C & -C & -C & -C & -C & -C-H \\ & & & & & \\ H & H & H & H & H & H \end{array}$
هپتان	C_7H_{16}	$\begin{array}{c} H & H & H & H & H & H & H \\ & & & & & & \\ H-C & -C & -C & -C & -C & -C & -C-H \\ & & & & & & \\ H & H & H & H & H & H & H \end{array}$
اوکتان	C_8H_{18}	$\begin{array}{c} H & H & H & H & H & H & H & H \\ & & & & & & & \\ H-C & -C & -C & -C & -C & -C & -C & -C-H \\ & & & & & & & \\ H & H & H & H & H & H & H & H \end{array}$
نونان	C_9H_{20}	$\begin{array}{c} H & H & H & H & H & H & H & H & H \\ & & & & & & & & \\ H-C & -C & -C & -C & -C & -C & -C & -C & -C-H \\ & & & & & & & & \\ H & H & H & H & H & H & H & H & H \end{array}$
دیکان	$C_{10}H_{22}$	$\begin{array}{c} H & H & H & H & H & H & H & H & H & H \\ & & & & & & & & & \\ H-C & -C & -C & -C & -C & -C & -C & -C & -C & -C-H \\ & & & & & & & & & \\ H & H & H & H & H & H & H & H & H & H \end{array}$

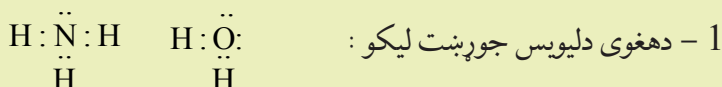
که د پورتنی جدول د الکانونو جوړښت ته پاملرنه وشي، لیدل کېږي چې د دوی د یو متیلین ($-CH_2-$) ګروپ په کچه (اندازه) یوله بل څخه توپیر لري، هغه مرکبونه چې د یو ($-CH_2-$) په کچه یوله بل څخه توپیر ولري، یو د بل د هومولوګ (Homolog) په نوم یادېږي:



څرنگه چې لیدل کېږي الف اوب الکانونه دواړه د عین مالیکولي فورمول (C_4H_{10}) لرونکې دي، خو دهغوی دکاربن دزنځیر جوړښت یوله بل څخه توپیر لري، داسې چې الف فورمول نورمال زنځیر او د ب فورمول ښاخ لرونکی زنځیر دی، له پورتنیو څرگندونو څخه پایله اخیستل کېږي، چې د مالیکول جوړښتیز فورمولونه د مرکب په مالیکولونو کې د شاملو اتومونو د اړیکو څرنگوالي په هکله مونږ ته معلومات وړاندې کوي.

مثال: داوبو (H_2O) او امونیا (NH_3) د مالیکولونو د هندسي بڼې وړاندېز وکړئ او ویې لیکئ.

حل:



2 - دالکتروني ساحو شمېر د دواړو مالیکولونو د مرکزي اټوم په شاوخوا کې شمېرو:

الف - په NH_3 کې دنایتروجن اټوم درې اړیکې دهایدروجن د اټومونوسره جوړېږي دی او یوه جوړه ازاد الکترونونه لري؛ پردې بنسټ څلورالکتروني ساحې لري.

ب - په اوبو (H_2O) کې داکسیجن اټوم دوه اړیکې دهایدروجن سره تړلي دي اودوه جوړې ازاده الکترونونه هم لري، پردې بنسټ دڅلوروالکتروني ساحولرونکې دي.

3 - اړونده هندسي جوړښت د VSEPR د نظریې پر بنسټ ټاکو:

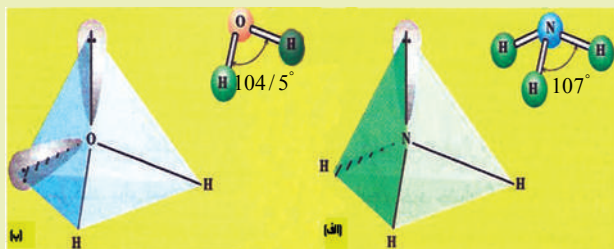
الف - په اټومونو کې الکتروني ساحه به خامخا څلورمخیزه جوړښت ولري او د اړیکو زاویه یې $109,5^\circ$ درجه ده.

4 - د الکترونونو د جوړو څرنگوالی ټاکو.

الف - د امونیا په اړه څلورو جهې د درې ستونپه بڼه په پام کې نیسو چې د مالیکول څلورمه ستنه له پاس لوري پرې ټینګه ولاړه ده. که چیرې ازاده جوړه الکترونونه په څلورمې ستنې باندې ومنو، لاسته راغلې هندسي شکل به دپوهرم درې ضلعي قاعده ولري. (2-12 شکل).

ب - د اوبو په اړه، د اوبو د مالیکول شکل کور دی، دوه جوړې ازاد الکترونونه دڅلورو جهې دوه ستنې نیولې دي.

ج - د نه اړیکو - نه اړیکو، نه اړیکو اود اړیکو د جوړه الکترونونو د شتون پر بنسټ چې لږې کوونکې قوه په وار سره دهغوی ترمنځ کمیږي، د اوبو اوامونیا په مالیکول کې د اړیکو زاویه د $109,5^\circ$ دنورمال زاوې څخه لږه کوچنۍ ده، (د امونیا په مالیکول کې د اړیکو زاویه 107° او اوبو په مالیکول کې $104,5^\circ$ ده) لاندې شکلونه وگورئ:



(2-12) شکل: د اوبو او امونیا مالیکولي جوړښت



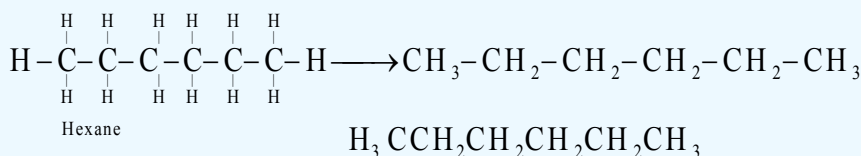
دلاندې مالیکولونو د هندسي شکلونو وړاندوینه وکړئ او وپې لیکئ:



د ساختماني فورمولونو دساده کولولاره

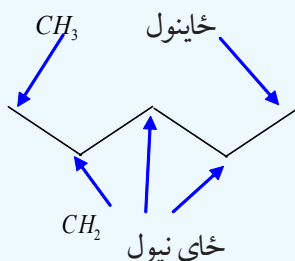
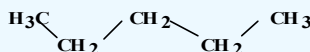
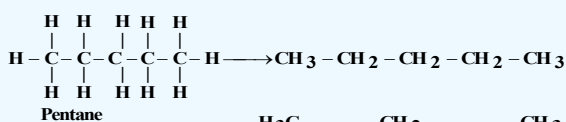
که په (2-3) جدول کې دالکانونو جوړښتیزو فورمولونو ته پام وکړو، و به مومو چې د دوی لیکل او رسمول ستونزمن او غیراقتصادي دي. له دې کبله د جوړښتیز فورمولونو د ښودنې او لیکنې لپاره نورې لارې ټاکل شوې دي چې په لاندې ډول دي:

- دجوړښتیزو فورمولونو دلیکلو لپاره په لنډ ډول، دکاربونونو اوهایدروجن ترمنځ اړیکې هم نه ښودل کېږي او ځینې وخت دکاربونونو داتومونو اړیکې هم نه لیکل کېږي؛ دیبلگې په ډول:



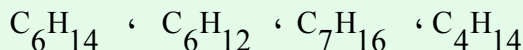
د کیمیاوي علامو ښودل

- په دې کرڼاره کې دکاربن اوهایدروجن ټول اتومونه له جوړښتیزو فورمولونو څخه لرې کېږي او یوازې هغه اړیکې چې د زاویې لرونکو خطونو په واسطه وړاندې کېږي، ښودل کېږي. دا ډول جوړښت دسکلیټي جوړښت او یا دخطي - زوايه یې جوړښت په نوم یا دوي، په دې جوړښت کې یوازې دکاربن اړیکې (C-C) ښودل کېږي، داسې چې دکاربن داتومونو ځایونه دخطونو دپریکړو ځایونو په سر او په پای کې په پام کې نیول کېږي او C-H له لیکلو څخه ډډه کوي:

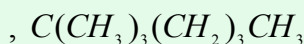
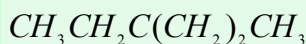
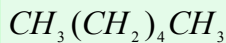




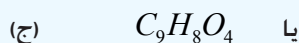
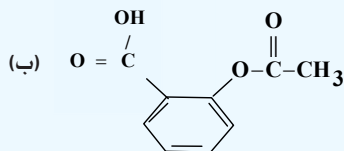
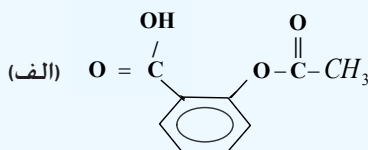
1- دلاندي مرکبونو نیمګړی جوړښت، ناقص مشرح اوسکلیټي فورمولونه ولیکئ:



2- دلاندي مرکبونو بشپړه جوړښتیز فورمول ولیکئ:



دسپرين کيميايي نوم استايل سالیسیلیک اسید دی، څرنگه چې دهغه د جوړښتیز فورمول بشپړ ښودل ستونزمن دی؛ نو پر دې بنسټ کیمیا پوهانو دهغه له سکلیټي فورمول څخه ګټه اخېستې ده چې په لاندې ډول دی:



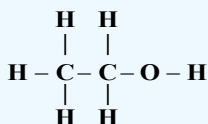
(2- 13) شکل: اسپرين او دهغه فورمول

ډیرپوه شئ

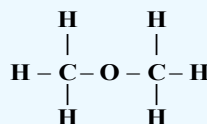
د مرکبونو مالیکولونو د ولانسي اړیکو ترمنځ نورماله زاویه 109.5° ده او په ټولومالیکولونو کې په همدې کچه باید وي، له دې کبله د زنځیري هایډروکاربنو مالیکولونه د زګزاګ (کورپور) په بڼه لیدل کېږي

2-4: ایزومیری (Isomers)

په کیمیا کې په تېره بیا په عضوي کیمیا کې ډېر مرکبونه شته چې دهغوی د مالیکولونو جوړښتیز فورمولونه لري، خو ترکیبي مالیکولي فورمول یې یو شان دی؛ دیلګې په ډول: ایتایل الکول اوډای میتایل ایتیرین مالیکولي فورمول لري؛ خو دجوړښتیز فورمولونه یې سره توپیر لري:

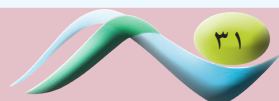


Ethanol



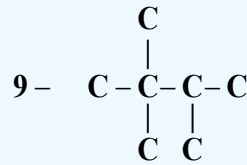
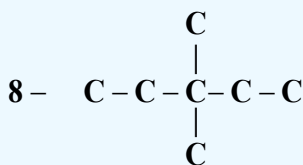
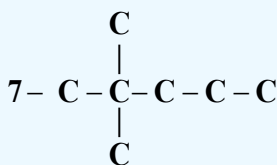
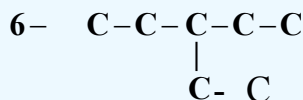
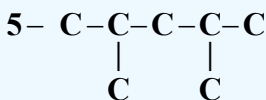
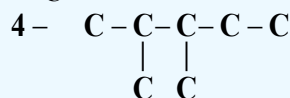
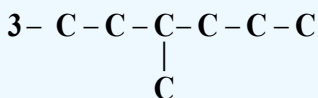
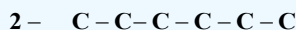
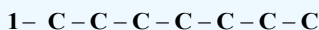
dimethyleter

څرنگه چې لیدل کېږي، په ایتانول کې د اکسیجن اټوم له یو اټوم کاربن او یو اټوم هایډروجن سره اړیکه لري؛ په داسې حال کې چې د ډای میتایل ایتیر په مالیکول کې د اکسیجن اټوم د کاربن له دوو اټومونو سره اړیکه لري؛ نو



هغه مرکبونه چې د یوشان مالیکولي فورمولونو لرونکي دي؛ خو دهغوي جوړښتیز فورمولونه یوله بل څخه توپیر لري؛ یعنې دهغوي په مالیکولونو کې د اټومونو د اړیکو توپیر څرگندېږي، یو د بل ایزومیر (Isomer) په نامه یادېږي.

د ایزومیرونو د فورمولونو ترلاسه کولو لپاره لارښوونه کېږي چې باید په لومړي سر کې د مرکبونو د مالیکولونو د کاربنی چوکاټ بڼې ولیکل شي او وروسته دې پرله پسې اصلي زنجیر لاند کړي او له اصلي زنجیر څخه د کاربن لرې شوي اټومونه دې د منشعب زنجیر (د څنگ زنجیر) په بڼه په ټولو شونو حالتونو کې ولیکل شي؛ د بیلگې په ډول: د هپتان (C_7H_{16}) د ایزومیرونو کاربنی چوکاټ تر څېړنې لاندې نيسو:

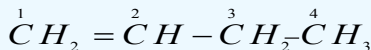


د هایدروکاربنونو بشپړ فورمولونه د کاربنی چوکاټونو د بڼو له بشپړه کولو څخه وروسته چې د هایدروجنونو د اړوندو شمېرو په زیاتولو ترسره کېږي، لاسته راځي. په عضوي مرکبونو کې ایزومیري زیاتې دي چې د هایدروکاربنو د مرکبونو په هر بحث او د هغوی په مشتقاتو کې مطالعه کېږي.

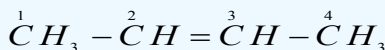
الکینونه د جوړښتیز ایزومیري او د دوه گونو اړیکو د ځایونو له ایزومیریو سربیره، فضايي ایزومیري هم لري.

الف: جوړښتیز ایزومیري او د دوه گونو اړیکو ځای

لاندې مرکبونه په پام کې ونیسئ:



1 - Butene.



2 - Butene

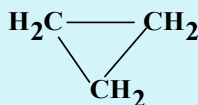
د دواړو پورتنیو مرکبونو جمعي فورمول C_4H_8 دی؛ خو د دواړو مرکبونو د مالیکولونو جوړښتیز فورمولونه یوله بل څخه توپیر لري، دا ایزومیري د دوه گونې اړیکې د ځای له کبله د جوړښتیز ایزومیري په نوم یا دوي.

ب - فضايي ایزومیري (Stereo isomeris)

Stereo یوناني کلمه ده چې د جامدو او کلکو جسمونو په معنا ده؛ نو فضايي ایزومیري (Stereo isomeris) یوازې هغو مرکبونو پورې اړه لري چې کلک فضايي جوړښت ولري او د هغوی هندسي شکل فضايي بدلون نه مومي.

د زیاتې پوهې په خاطر

الکینونه له سایکلو الکانونوسره ایزومیر دي او الکاینونه له سایکلو الکینونوسره ایزومیر دي؛ دبیلگې په ډول : هغه مرکب چې جمعي فورمول یې C_3H_6 دی، کیدای شي چې پروپین او یا داچې سایکلوپروپان وي:



1 - propene

Cyclo propane

د دویم څپرکي لنډیز



* تل یو کیمیايي مرکب دهغه د جوړونکو عنصرونو د سمبولونو د ترتیب له لارې د هغوی د نسبي ضریبونو سره چې د ستوکیومتری (Stoichiometry) ضریبونو په نوم هم یادېږي، ښودل کېږي او د جوړونکو عنصرونو د سمبولونو د ترتیب لاره د مرکبونو له نسبي ضریبونو سره یې د مالیکولي فورمول په نوم یادېږي.


* مالیکولي فورمول کېدای شي د کیمیايي تجزیې په واسطه وټاکل شي. د کیمیايي فورمولونو بل ډول فورمول له تجربې فورمول څخه عبارت دي، په دې فورمول کې د بېلابېلو عنصرونو د اتومونو شمېر په یو مرکب کې ښودل کېږي، تجربې کلمه په دې ځای کې دا معنا لري چې وړاندې شوی فورمول یوازې دلیدنې او ټاکلو پر بنسټ یعنې د توصیفې او مقداري تحلیل په واسطه ټاکل شوی دی.

* مالیکولي فورمول، مرکبونه په کیمیايي ژبه معرفي کوي، فورمول نه یوازې په مالیکول کې د اتومونو ډولونه ښیي؛ خو د اتومونو شمېر او ډولونه هم ښیي.

* جوړښتیز فورمولونه مونږ ته د مالیکول په هکله زیات معلومات وړاندې کوي، د اتومونو ځایونه په مالیکول کې ښیي.

* یوه نظریه چې د مالیکولونو د هندسي شکلونو د جوړښتونو لپاره یې وړاندوینه شوې ده، د ولانسي قشر د جوړه الکترونونو د دافعه دقوې (Valence shell Electron pairs Repulsion) له نظریې څخه عبارت ده چې په (VSEPR) سره ښودل کېږي. له دې نظریې سره سم، د الکتروستاتیکې د لرې کولو قوا او شتوالی په یو مالیکول کې د اړیکو او یا د نه اړیکو د جوړه الکترونونو ترمنځ د دې لامل ګرځي، ترڅو دغه الکترونونه د شونې تر حده پورې یوله بل څخه واټن موندلی وي او لوری ولري؛ خو دا لوری نیول داسې دي چې ډېر کلک هندسي جوړښت مالیکول ته ور په برخه کوي.

* هغه زاویه چې درې نښلولي اتومونه یې یو له بل سره جوړوي، د اړیکو د زاویې په نوم یا ډېري چې زیاته کچه

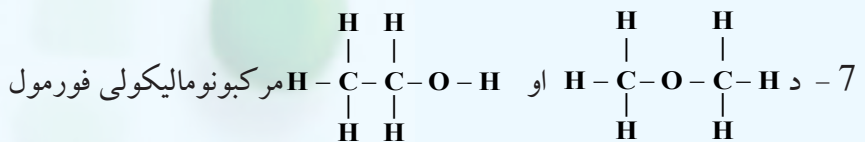


بې 180° درجې ده .

* هغه مرکبونه چې د یوشان مالیکولي فورمولونو لرونکي دي؛ خو د هغوی جوړښتیز فورمولونه یوله بل څخه توپیر ولري؛ یعنې د هغوی په مالیکولونو کې د اتومونو د اړیکو توپیر څرګند شي، یوله بل د ایزومیر (Isomer) په نامه یادېږي.

د دویم څپرکي پوښتنې

- 1 - مالیکولي فورمول کېدای شي د کیمیايي --- پربنسټ وټاکل شي .
الف - کیمیايي تعاملونه، ب - کیمیايي سنتیز، ج - تجزي، د - هیڅ یو .
- 2 - د مرکبونو د ساده او مالیکولي فورمولونو د پوهیدلو لپاره په کار ده ترڅو د مرکبونو په ---- تحلیل پوه شي .
الف - توصیفی، ب - مقداري، ج - الف او ب د - هیڅ یو .
- 3 - جوړښتیز فورمولونه له ډولونو سره بېره، د هر عنصر د اتومونو شمېر، او د اتومونو هم ښيي .
الف - د نښلولو لاره، ب - د اړیکو څرنگوالی، ج - د مالیکولونو شمېر، د - الف او ب دواړه سم دي .
- 4 - د اتومونو خاص جوړښت چې د مالیکولونو د اړیکو او د نه اړیکو جوړه الکترونونو ترمنځ د لرې کولو لامل ګرځي، ډیره لږه د دفعې قوه شتون ولري د ---- په نوم یادېږي .
الف - الکتروني مدار، ب - الکتروني قشر، ج - الکتروني فرعي قشر، د - الکتروني ساحه .
- 5 - د مالیکولونو د هندسي بنو ډیر مهم لامل د هغوی د ----- په ټاکلو کې دي
الف - کیمیايي خواص، ب - فزیکي خواص، ج - الف او ب دواړه د - هیڅ یو
- 6 - په څلورمخیز جوړښت کې الکتروني جوړې یوه له بلې سره ----- زوايه لري .
الف - 120° ب - 109.5° ج - 309.5° د - 180°



عبارت دی له!


الف - $\text{C}_4\text{H}_{14}\text{O}$ ، ب - $\text{C}_2\text{H}_6\text{O}$ ، ج - $\text{C}_3\text{H}_5\text{O}$ ، د - هیڅ یو هم نه

8 - $\text{H}:\ddot{\text{N}}:\text{H}$ د مالیکول د بڼې جوړښت دلاندې کوم عالم په نوم یادېږي؟
 $\ddot{\text{H}}$

- الف - اوگدرو، ب - واندروالس، ج - ماکسویل، د - لیویس.
- 9 - هغه مرکبونه چې د عین مالیکولي فورمول لرونکي وي؛ خو د هغوی جوړښتیز فورمولونه. یې یو له بل څخه توپیر ولري، یو له بل ویل کېږي.
- الف - ایزومیر، ب - (Isomer)، ج - الف او ب دواړه، د - هیڅ یو.
- 10 - د مرکبونو ایزومیري د----- فزیکي خواصو لرونکي دي.
- الف - یوشان، ب - مساوي، ج - مختلف، د - کیمیايي.

تشریحي پوښتنې

- 1- د ساده او مالیکولي فورمولونو ترمنځ توپیر څه دی؟ هغه د بیلگې په واسطه روښانه کړئ.
- 2 - په 0.3 کمیت کې د یو عضوي مرکب 0.12 کاربن او 0.02 هایدروجن شتون لري، د دغه مرکب تجربی فورمول ترلاسه کړئ (د کاربن اتومي کتله 12، د هایدروجن 1 او اکسیجن 16 ده.
- 3 - د یو مرکب ساده فورمول (CH_2O) دې، د نوموړي مرکب مالیکولي کتله $180g/mol$ ده. د هغه مالیکولي فورمول ولیکئ.
- 4 - د عضوي مرکب مالیکولي کتله $180g/mol$ ده، د نوموړي مرکب په ترکیب کې 55% کاربن 36% اکسیجن او 9% هایدروجن شامل دي، د هغه مالیکولي فورمول لاسته راوړئ.
- 5 - د یو عضوي مرکب په ترکیب کې یوازې کاربن او هایدروجن شتون لري چې 1.5g هایدروجن او 9g کاربن د هغه له تجزیې څخه لاس ته راغلي دي، د هغه مالیکولي کتله $210g/mol$ ده، مالیکولي فورمول یې لاسته راوړئ.
- 6 - د لاندې مرکبونو جوړښتیز او سکلیتي فورمولونه ولیکئ:
- الف - 1,1- di chloro-1-butene، ب - 1,2 - dibromoethene، ج - 3- hexene
- 7 - هغه مرکب چې د C_6H_{14} مالیکولي فورمول لرونکی دی، څو ایزومیرونه لري؟ دهغه د ټولو ایزومیریو جوړښتیز فورمولونه ولیکئ.
- 8 - هندسي ایزومیري څه رنگه ایزومیري ده؟ په دې هکله معلومات ورکړئ.
- 9 - د C_4H_8O د مرکب ټول ممکنه ایزومیري د هغوی د جوړښت او سکلیتي فورمولونو سره ولیکئ.



د عضوي مرکبونو ډل بندۍ



عضوي مرکبونو د بیولوژي، طب او اوسني صنعت بنسټ جوړ کړی دی. د ژوندپو موجوداتو د جوړښت بنسټیزه اجزاوې له اوبو سربېره عضوي مرکبونه دي، دا چې عضوي مرکبونه د کاربن عنصر له مرکبونو او د هغوی له مشتقاتو څخه عبارت دي، نو ویلای شو چې مونږ د کاربن د عنصر په مرکبونو کې ژوند کوو. ولې عضوي مرکبونه په ټولګیو وېشل شوي دي؟ آیا د هر مرکب د خواصو زده کړه په ځانګړې توګه ساده کار دی؟ د هومولوګ سلسله څه شی ده؟ وظیفوي ګروپونه کوم دی؟ او د مرکبونو په خواصو څه تاثیر لري؟ څرنگه چې عضوي مرکبونه په زیاته اندازه په طبیعت کې شته دي، د هغوی د هر یو مطالعه په ځانګړې توګه ستونزمن کار دی؛ نو له دې کبله عضوي مرکبونه په بېلابېلو ټولګیو وېشل شوي دي چې د عضوي مرکبونو ډل بندۍ لاندې مطالعه کوو.

۱- ۳: عمومي معلومات

عضوي مرکبونه چې د هغوی شمېر له شل میلیونو څخه زیات دی، د کاربنی زنځیري جوړښت (د کاربنی سکلیټ) او یا وظیفه یي گروپونو د شتون پر بنسټ ډلبندي کېږي، د کاربن د اتومونو د اړیکو ډول یو له بل سره هم د عضوي مرکبونو په ډل بندۍ کې بنسټیز رول لري.

د کاربنی سکلیټ د جوړښت په پام کې نیولو سره، عضوي مرکبونه په دوو ډلو وېشل شوي دي چې د زنځیري اسکلیک (Acyclic) او کرپز (Cyclic) مرکبونه دي. زنځیري مرکبونه له هغو ډولو مرکبونو څخه دي چې واز زنځیر لري او د هغوی بنسټ د الیفاتیک هایډروکاربنونو جوړښت جوړ کړی دی.

1 - هایډروکاربنونه: د دې مرکبونو مالیکولونه یوازې د کاربن او هایډروجن له اتومونو څخه جوړ شوي دي، دا مرکبونه کیدای شي مشبوع؛ لکه: الکانونه (دوه دوه گوتې رابطې لرونکي) (Alkanes) او یا غیر مشبوع د دوه گونې (Alkenes) او درې گونې (Alkynes) اړیکې او الکاناينونه دوه دوه گونې رابطې (Alka di enes) وي.

2 - کرۍ یز (حلقوي) مرکبونه (Cyclo alkanes): دا مرکبونه په خپلو مالیکولونو کې تړلی زنځیري جوړښت لري او د کرۍ په بڼه دي چې د کرۍ د جوړونکو اتومونو د ډولونو په پام کې نیولو سره په کاربوسکلیک (Carbocyclic) او هیتروسکلیک (Hetrocyclic) وېشل شوي دي.

3 - کاربوسکلیک (Carbocyclic): په دې ډول مرکبونو کې کرۍ یوازې د کاربن له اتومونو څخه جوړه شوې ده او د هغوی د کیمیايي خواصو له توپیر په پام کې نیولو سره په دوو ډلو وېشل شوي دي چې د الیسکلیک (Alicyclhc) او اروماتیک (Aromatic) مرکبونه دي.

د اروماتیکو مرکبونو بنسټ د بنزین مرکبونو جوړ کړی دی او عبارت له: بنزین، نفتالین، انتراسین او د هغوی مشتقات دي.

د الیسکلیکونو مرکبونه د سایکلو الکانونو (Cyclo alkanes) او سایکلو الکینونو (Cyclo alkenes) په مرکبونو وېشل شوي دي.


د سایکلو الکانونو د کورنۍ لومړی مرکب سایکلو پروپان دی او د دوی عمومي فورمول (C_nH_{2n}) دی چې له الکینونو سره ایزومیر دي. داسې سکلیکونه هم شتون لري چې په هغوی کې د کاربن د اتومونو شمېر له دیرشو اتومونو څخه هم زیات دی.

اروماتیک هایډروکاربنونه (Arenes)

دا هایډروکاربنونه په خپل ترکیب کې د بنزین کرۍ (اسکلیټ) لري، بنزین نفتالین، انتراسین او فینانترین د دې مرکبونو له ډلې څخه دي چې د بنزین د څوکړیو له تراکم څخه لاس ته راغلي دي.

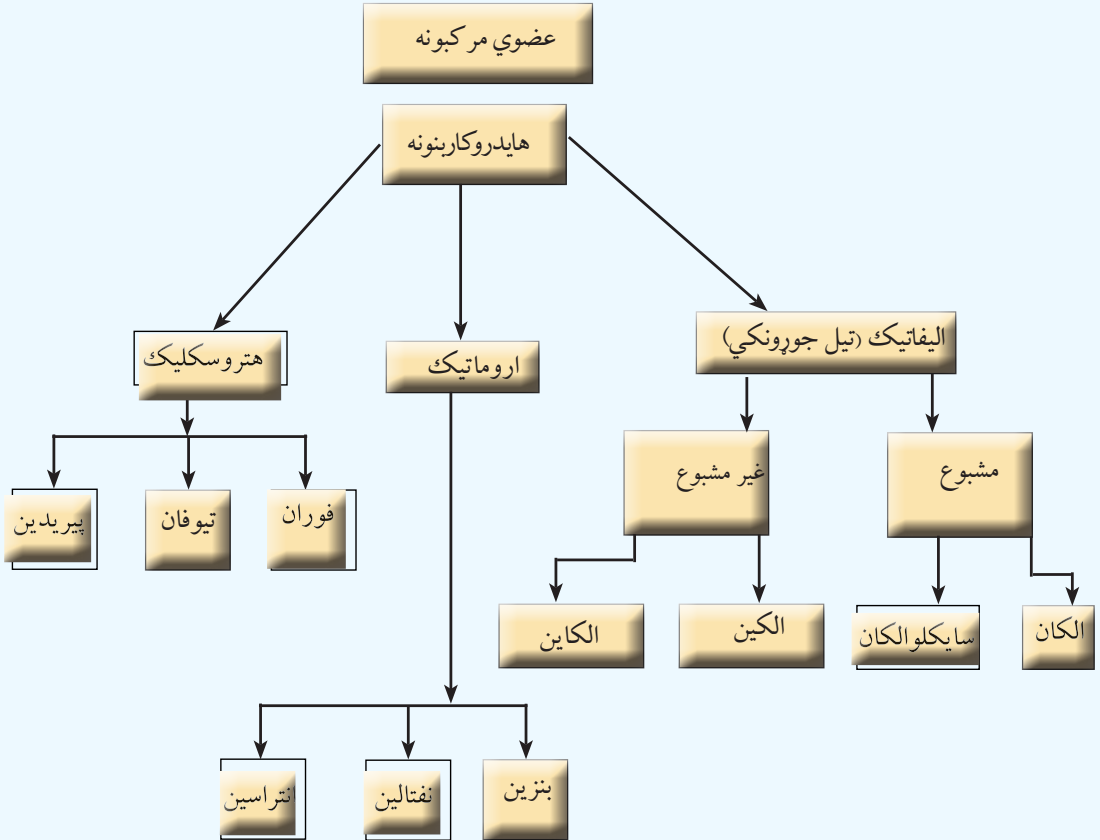
هتروسکلیک (Hetro cyclic)

دا مرکبونه د کاربن د اتومونو سربیره، په خپله کرۍ کې د نورو عناصرو یو یا څو اتومونه لري چې په ځانگړې توگه دا عناصرونه له: اکسیجن، نایتروجن سلفر او نورو څخه عبارت دي. هتروسکلیک مرکبونه کیدای شي.



مشبوع، غیر مشبوع او یا اروماتیک وي .

ټول عضوي مرکبونه کیدای شي چې د پورتنیو هایډروکاربنونو مشتقات ومنل شي؛ ځکه دا عضوي مشتقات د هایډروکاربنونو دېو او یا دڅو هایډروجنو د اتومونو له ځای پر ځای کیدو څخه د وظیفه یي گروپونو په واسطه لاس ته راځي . لاندې شکل په لنډه توگه د عضوي مرکبونو ټولگي ښيي:



۳-۲: د هایډروکاربنونو د ډلو وېشل

هایډروکاربنونه هغه مرکبونه دي چې د کاربن او دهایډرجن د اتومونو د ترکیب له امله جوړشوي دي، په هایډروکاربنونو کې د کاربن هر اتوم څلور اشتراکي اړیکې لري چې دا اړیکې د کاربن د نورو اتومونو او د نورو عنصرونو له اتومونو سره تړلی شوي دي. د هایډروکاربنونو ډلبندي په لومړي سر کې د شپږ کاربنه کړۍ دشتون او نه شتون پر بنسټ یعنې د بنزین پر بنسټ ترسره کېږي او دا کړۍ د وظیفه یي گروپ په توگه شمېرل کېږي . د بنزین کړۍ لرونکي هایډروکاربنونه د اروماتونو د مرکبونو په نوم یادېږي او هغه هایډروکاربنونه چې په ترکیب کې یې د بنزین کړۍ نه وي، د الیفاتيکو (تیل جوړونکو) په نوم یادېږي . الیفاتيکو هایډروکاربنونه د کاربن- کاربن د اتومونو د اړیکو له ډولونو په پام کې نیولو سره په مشبوع او غیر مشبوع وېشل شوي دي، د مشبوع الیفاتيکونو په الکانونو (Alkanes) او سایکلو الکانونو ویشل شوي دي، غیر مشبوع الیفاتيک مرکبونه په الکینونو (Alkenes) او الکینونو (Alkynes) وېشل شوي دي.

الکانونه هغه مرکبونه دي چې د کاربن د اتومونو ټول ولانسونه يې د هايډروجن د اتومونو په واسطه مشبوع شوي دي او په هغوی کې د کاربن اتومونه يوه گونې اړيکې لري او الکينونه هغه مرکبونه دي چې د کاربن د دوو اتومونو ترمنځ يې دوه گونې اړيکه شتون لري او غير مشبوع دي . نور غير مشبوع هايډروکاربونونه، الکانونه دي چې په دې مرکبونو کې د کاربن د دوو اتومونو ترمنځ درې گونې اړيکه شتون لري او د الکانونو په پرتله د هايډروجن څلور اتومونه او د الکينونو په پرتله د هايډروجن دوه اتومه لږ لري.

فعاليت




زده کوونکي دې، په ډلو وویشل شي، هر ډله دې د عضوي مرکبونو زیات شمېر لست کړي او هغوی دې د پوهنیزو دلیلونو د وړاندې کولو پربنسټ ډلبندي کړي او د مرکبونو په ډلبندي کې دې د پورتنی شکل څخه گټه واخلي.

3-3: په هايډروکاربونو کې وظيفه يي گروپونه


د هايډروکاربونونو په بېلابېلو ډلو کې وظيفه يي گروپونه شتون لري چې د هايډروکاربونونو بېلابېل مرکبونه يې جوړ کړي دي، دا گروپونه د کاربن - کاربن داتومونو د اړيکودخرنګوالي او وظيفه يي گروپ له امله منځته راغلي دي چې په لاندې جدول کې ليکل شوي دي:

(1-3) جدول: د هايډروکاربونونو وظيفه يي گروپونه

د هايډروکاربونونو گروپونه			
Alkanes	$CH_3 - CH_3$	ايتان	-
Alkenes	$CH_2 = CH_2$	ايتلين يا ايتيلين	د نوکليوفيلک پاتې شونی
Alkynes	$CH \equiv CH$	ايتاين يا استيلين	د نوکليوفيلک پاتې شونی
Alkadienes	$CH_2 = CHCH = CH_2$	1،3 - بيو تادايين	د نوکليوفيلک پاتې شونی
Arenes		بنزين	داروماتيکو الکترولوفيلک بې ځايه کونه

4-3: د الکانونو هومولوگي سلسله

هغه مرکبونه چې ديو ميتليني گروپ ($-CH_2-$) په کچه يو له بل څخه توپير ولري، يو له بل د هومولوگ (Homologe) په نوم يادېږي، هومولوگي سلسله په الکانونو، الکينونو او الکايونوکې شته ده؛ څرنگه چې د الکانونو په ماليکولي فورمولونوکې ليدل کيږي، د ايتان مرکب د خپل مخکني مرکب يعني د ميتان څخه دېو ($-CH_2-$) په کچه توپير لري، په همدې ترتيب پروپان د ايتان څخه او بيو تان د پروپان په څخه ديو ميتليني



(-CH₂) - گروپ په کچه لوی دي . دا سلسله د هومولوگ سلسلې (Homologe) په نوم یا دوي .
3- جدول : د الکانونو د هومولوگي سلسله

د مرکب نوم	د مرکب فورمول
Methane	CH ₄
Ethane	CH ₃ -CH ₃
Propane	CH ₃ -CH ₂ -CH ₃
Butane	CH ₃ -CH ₂ -CH ₂ -CH ₃
Pentane	CH ₃ -CH ₂ -CH ₂ -CH ₂ -CH ₃
Hexane	CH ₃ -CH ₂ -CH ₂ -CH ₂ -CH ₂ -CH ₃
Heptane	CH ₃ -CH ₂ -CH ₂ -CH ₂ -CH ₂ -CH ₂ -CH ₃
Octane	CH ₃ -CH ₂ -CH ₂ -CH ₂ -CH ₂ -CH ₂ -CH ₂ -CH ₃
Nonane	CH ₃ -CH ₂ -CH ₂ -CH ₂ -CH ₂ -CH ₂ -CH ₂ -CH ₂ -CH ₃
Decane	CH ₃ -CH ₂ -CH ₂ -CH ₂ -CH ₂ -CH ₂ -CH ₂ -CH ₂ -CH ₂ -CH ₃
Undecane	CH ₃ -CH ₂ -CH ₂ -CH ₂ -CH ₂ -CH ₂ -CH ₂ -CH ₂ -CH ₂ -CH ₂ -CH ₃
Dodecane	CH ₃ -CH ₂ -CH ₂ -CH ₂ -CH ₂ -CH ₂ -CH ₂ -CH ₂ -CH ₂ -CH ₂ -CH ₂ -CH ₃
Tridecane	CH ₃ -CH ₂ -CH ₂ -CH ₂ -CH ₂ -CH ₂ -CH ₂ -CH ₂ -CH ₂ -CH ₂ -CH ₂ -CH ₂ -CH ₃

د هومولوگ د اصطلاح سربېره، د ایزولوگ اصطلاح هم په عضوي کیمیا کې په کار وړل کېږي، د دې اصطلاح مفهوم څرگندوي: هغه عضوي هایدروکاربنونه، مرکبونه چې د کاربن عین شمېر اتومونه ولري، یو له بل ایزولوگ په نوم یادوي.

فعالیت



زده کوونکي دې په څو اړونده ډلو ووېشل شي، ترڅو هره ډله په ځانگړي ډول په هایدروکاربنونو کې د هومولوگ د اصطلاح په اړه خبرې اترې وکړي، له ایتان څخه تر هگزان پورې دې جوړښتیز فورمولونه ولیکي او هومولوگي بڼې (شکلونه) دې د نوموړو مرکبونو په فورمولونو کې روښانه کړي او د هرې ډلې استازی دې د ډلې کړنه وړاندې کړي.

3-5 : عضوي مرکبونه او وظیفه یي گروپونه (د هایدروکاربنونو مشتقات)

عضوي کیمیا د هایدروکاربنونو او د هغوی له مشتقاتو له کیمیا څخه عبارت ده.

که چیرې د هایدروکاربنونو د هایدروجن یو یا څو اتومه دځانگړو گروپونو (Functional groups) په واسطه بې ځایه شي، هغه عضوي مرکبونه لاسته راځي چې د هایدروکاربنونو د مشتقاتو په نوم یا دېرې وظیفه یي گروپونه (Functional groups) د هایدروکاربنونو په مالیکولونو کې د اتومونو او یا د اتومونو له گروپونو څخه

عبارت دي چې ځانگړې او ټاکلې جوړښت لري او د عضوي مرکبونو د ځانگړو فزیکي او کیمیايي خواصو دښودل لامل گرځي . هغه هایډروکاربنونه چې عین وظیفه یې گروپونه لري، کیمیايي خواص یې هم یوشان دي. 3-3 جدول: وظیفه یې گروپونه.

د مرکبونو نومونه	مرکبونه	د مرکبونو عمومي فورمول	د وظیفه یې گروپ نومونه	وظیفه یې گروپ
Methyl Iodide	$CH_3 - I$	$R - X$	هالايدېدا (Halyds)	(-F - Cl - Br - I)
Ethanol	$CH_3 - CH_2 - OH$	$R - OH$	Hydroxyl	-OH
Propanal	$CH_3 - CH_2 - \overset{O}{\underset{ }{C}} - H$	$R - \overset{O}{\underset{ }{C}} - H$	Carbonyl	$\overset{O}{\underset{ }{C}} -$
Propanon	$CH_3 - \overset{O}{\underset{ }{C}} - CH_3$	$R - \overset{O}{\underset{ }{C}} - R$		
Acetic acid	$CH_3 - COOH$	$R - COOH$	Carboxyl	-COOH
Di methyl ether	$CH_3 - O - CH_3$ Eteres	$R - O - R$	Oxy	-O-
Di methyl ester	$H_3 - \overset{O}{\underset{ }{C}} - O - CH_3$	$R - \overset{O}{\underset{ }{C}} - O - R$	EsterGroup	$\overset{O}{\underset{ }{C}} - O -$
Methyl amin	$CH_3 - NH_2$	$R - NH_2$	Amines Groups	-NH ₂
Methyl amide	$CH_3 - \overset{O}{\underset{ }{C}} - NH_2$	$R - \overset{O}{\underset{ }{C}} - NH_2$	Amides Group	$\overset{O}{\underset{ }{C}} - NH_2$
Ethyl Marcaptane	$CH_3 - CH_2 - S - H$	$R - S - H$	MarcaptanGroup	-S-H
Di methyl thio ether	$CH_3 - S - CH_3$	$R - S - R$	Thioether	-S-
Benz Sulphonic-acid	$C_6H_5 - SO_3H$	$R - SO_3H$	SulphoGroup	-SO ₃ H

هترو اتومونه د پولونوله کبله چې د وظیفه یې گروپونو په ترکیب کې شتون لري، دا گروپونه په لاندې ډول ویشل شوي دي.

۳-۵-۱ اکسیجن لرونکي وظیفه یې گروپونه: د دې گروپونو په ترکیب کې اکسیجن د هترو اتوم په توگه شتون لري چې د

هغوی بیلگه کیدای شي $\overset{O}{\underset{||}{C}} - O -$, $-O -$, $\overset{O}{\underset{||}{C}} - OH$ او نور وړاندې شي .


۳-۵-۲ نایټروجن لرونکي وظیفه یې گروپونه: د دې گروپونو په ترکیب کې نایټروجن اتوم د هترو اتومونو په توگه

شتون لري چې د هغوی بیلگه کیدای شي $\overset{O}{\underset{||}{C}} - NH_2$, $-NH_2$, $-NO_2$ او نور وړاندې شي .

۳-۵-۳ سلفر لرونکي وظیفه یې گروپونه: د دې گروپونو په ترکیب کې د سلفر اتوم د هترو اتوم په توگه شته چې د هغوی

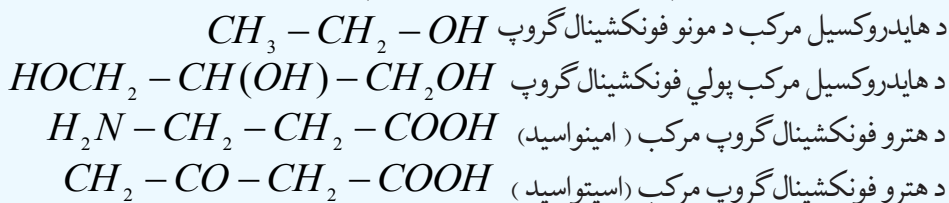
بیلگه کیدای شي $-SO_3H$, $-S -$, $-S - H$ او نور وویل شي .

۳-۵-۴ فاسفور لرونکي وظیفه یې گروپونه: د دې گروپونو په ترکیب کې د فاسفور اتوم د هترو اتوم په توگه شتون لري



چې د هغوی بیلګه کیدای شي H_2PO_3 ، PH_2 - او نور وړاندې شي. د عضوي مرکبونو په مالیکولونو کې کیدای شي چې څو وظیفه یې ګروپونه هم شتون ولري، که چیرې دا ګروپونه یوشان وي. د بیلګې په ډول: د هلوجن دوه ګروپه، او یا د هایډروکسیل دوه ګروپه او نور. دا مرکبونه د څو وظیفه یې ګروپونو (Poly Functional Groups) په نوم یادېږي. هغه عضوي مرکبونه چې د هغوی په مالیکول کې څو بېلابېل وظیفه یې ګروپونه شتون ولري، د بېلابېلو ګروپونو لرونکو (Hetro Functional Groups) مرکبونو په نوم یا دېږي.

لاندې د مونو، پولي او هترو وظیفه یې ګروپونو لرونکو مرکبونو بیلګې ورکړل شوې دي:

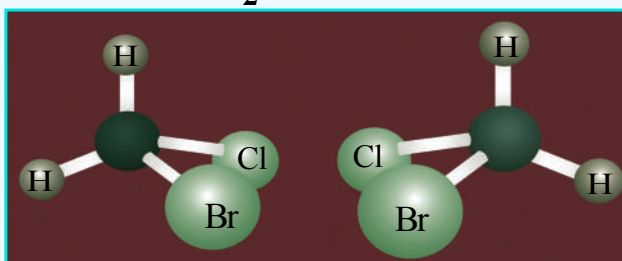
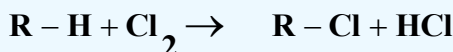


3-6: له وظیفه یې ګروپونو سره عضوي مرکبونه

3-6-1: د ځینو وظیفه یې ګروپونو ځانګړتیاوې

1- د هالایدونو ګروپ: که چیرې د هلوجنونو د عنصرونو د مالیکولونو د اټومونو اړیکه په هومولیتیکي ډول پرې شي، د هغوی رادیکالونه جوړېږي چې د وظیفه یې ګروپونو په بڼه د هایډروکاربنونو د هایډروجن د اټومونو ځای نیسي، د بیلګې په ډول: $\text{Cl}_2 \longrightarrow \text{Cl}^\bullet + \text{Cl}^\bullet$

د هالایدونو وظیفه یې ګروپونه د طاقه الکترون لرونکي دي او فعاله دي؛ نو له دې کبله په آسانی سره تعامل کوي او د هایډروکاربنونو هلوجني مشتقات جوړېږي:




(۳-۱) شکل: د بروموکلورومیتان بڼه

هغه ذرې چې طاقه الکترونونه لري، د رادیکالونو (Radical) په نوم یادېږي

2- د هایدروکسیل وظیفه یي گروپ

د هایدروکسیل گروپ له یو اتوم هایدروجن او یو اتوم اکسیجن څخه جوړ شوی دی چې په هغه کې د اکسیجن اتوم یو طاقت الکترون لري، د جوړښت فورمول یې په لاندې ډول دی:



(2-3) شکل د هایدروکسیل د گروپ مودل

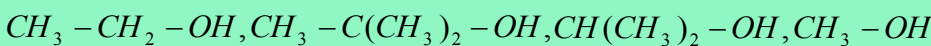
هغه عضوي مرکبونه چې د هایدروکسیل گروپ لري، د الکولونو *Alcoholes* په نوم یادېږي، د الکولونو عمومي فورمول $R-O-H$ دی چې په دې فورمول کې $(R-)$ د هایدروکاربنونو رادیکالونه ښیي، د کاربن اتوم چې هغه سره د الکولو د هایدروکسیل گروپ ($-OH$) نښتی دی، د دې گروپ سره یو ځلی د کاربنول گروپ ($\text{Carbinol} - \overset{\text{OH}}{\underset{|}{\text{C}}} -$) په نوم یادېږي.

د کاربنول گروپ د کاربن د اتومونو د اړیکو له کبله، الکولونه د لومړني، دویمي او دریمي الکولو په نوم یادېږي. که چیرې د کاربنول گروپ د کاربن اتوم خپل یو ولانسي الکترون د کاربن له بل اتوم سره د اړیکې د جوړېدو په موخه په لگښت رسولی وي، دا ډول الکول د لومړي الکول په نوم یادېږي. همدارنگه که دوه ولانسي الکترونونه یې په کار وړي وي، دویمي الکول او که درې ولانسي الکترونونه یې د اړیکو د جوړښت لپاره کارولي وي، د دریمي الکول په نامه یادېږي.

فعالیت



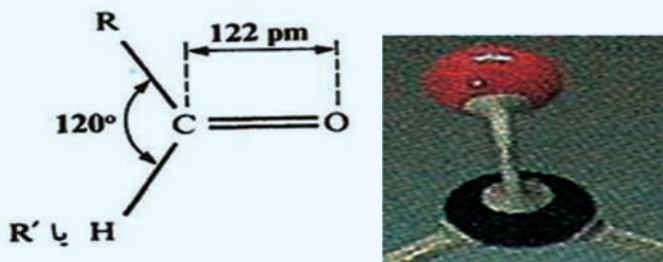
لاندې فورمولونو ته ځیر شئ، د لومړني، دویمي او دریمي الکولونو ډولونه په کې وپېژنئ او همدارنگه روښانه یې کړئ چې څلورمي الکول او له هغه څخه په لوړه کچه الکول هم شتون لري او کنه؟



3- د الدهایدونو او کیتونونو وظیفه یي گروپونه (کاربونیل)

د کاربونیل گروپ د یو اتوم کاربن او یو اتوم اکسیجن څخه جوړ شوی دی چې د کاربن او اکسیجن د اتومونو ترمنځ دوه گونې اړیکه شتون لري. د کاربونیل په گروپ کې د کاربن - اکسیجن ترمنځ اړیکه دوه گونې ده چې د هغوی یوه اړیکه سگما (σ) او بله یې پای (π) ده، د دې اړیکو ترمنځ زاویه 120° ده، د دوه گونې اړیکې اوږدوالی 122pm دی، کاربن

د کاربونیل په گروپ کې SP^2 هایبرید لري او د هغه جوړښت مسطح دی چې لاندې شکلونه دا جوړښت راښيي:


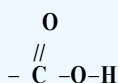


شکل: (2 - 3) د کاربونیل د گروپ جوړښت او فورمول يې

د $C=O$ دوه گونې اړیکه د $C=C$ دوه گونې اړیکې پر خلاف، د اکسیجن د الکترونیگاتیف عنصر د شتون پر بنسټ چې د π اړیکې الکتروني کثافت ځانته کشوي، زیاته قطبي ده، دې قطبیت د کاربونیل مرکبونو (الدهایډونه او کیتونونه) په کیمیايي او فزیکي خواصو اغیزه اچولې ده چې ډېر زیات الدهایډونه او کیتونونه په اوبو کې خورا ښه حل کېږي.

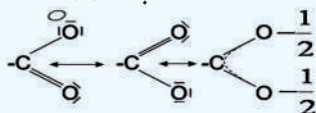
4 - د کاربوکسیل وظیفه یي گروپ (Carboxylic Group) او د هغه مرکبونه

د کاربوکسیلیک تیزابونو گروپ د کاربوکسیل په نوم یادېږي چې د هغه فورمول $COOH$ - او جوړښتیز فورمول يې په لاندې ډول دی:



شکل: (3 - 3) د کاربوکسیل گروپ لرونکي اسید د مالیکول مودل

د کاربوکسیل گروپ یو له کاربونیل گروپ او له یو هایډروکسیل گروپ څخه جوړ شوی دی چې ډېر په $COOH$ - بڼه لیکل کېږي؛ خو د $O-O$ تړنځ اړیکه هېڅ کله شتون نه لري. دا گروپ کیدای شي چې پروتون ورکونکي (Proton - Donator) په توګه عمل وکړي او د کاربوکسلات (COO^-) په آیون بدل شي، په دې آیون کې د اکسیجن دواړه اتومونه ورته ارزښت لري؛ ځکه په هغه کې د (π) الکترونونه د ریزونانس په حالت کې دي:



هغه ټول مرکبونه چې په خپل مالیکولي ترکیب کې د کاربوکسیل گروپ ولري، د کاربوکسیلیک اسید په نوم یادېږي.

د کاربوکسیلیک اسیدونو د اړیکو ځانګړتیاوې چې لاندې لیکل کېږي، د اکسیجن، هایډروجن او کاربن د اتومونو

شتون د بیلا بیلو الکترونیکا تیویتو سره، د هغوی مالیکولونه قطبي کوي .

(3 - 4) جدول: دتیزابونو فزیکي ځانگړتیا وې:

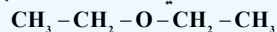
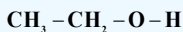
د ایشیدوټکي	د ویلې کیدوټکي	Pka_1	Pka_2	مروج نوم	فورمول
$101^{\circ}C$	$8^{\circ}C$	3.75		فارمیک اسید د مېري تېزاب	$H - COOH$
$118^{\circ}C$	$17^{\circ}C$	4.75		اسیتیک اسید، د سرکې تېزاب	$CH_3 - COOH$
$189^{\circ}C$	$63^{\circ}C$	2.87		کلورواسیتیک اسید	$CH_2 - Cl - COOH$
$141^{\circ}C$	$-2^{\circ}C$	4.87		پروپانویک اسید	$CH_3 - CH_2 - COOH$
$249^{\circ}C$	$122^{\circ}C$	4.20		بنزوئیک اسید	$C_6H_5 - COOH$
	تخریب $190^{\circ}C(d)$	1.23	4.28	اکزالیک اسید	$HOOC - COOH$
	تخریب $136^{\circ}C(d)$	2.83	5.69	مالونیک اسید	$HOOC - CH_2 - COOH$

5 - د ایتروگروپ (-O-)

هغه مرکبونه چې په هغوی کې د اکسیجن اټوم د هایدروکاربنونو د دوو پاتې شونو سره نښتی وي، د ایترو په نوم یا دیري او د دې گروپ جوړښت (-O-) دی، د ایترونو عمومي فورمول په لاندې ډول دی:




که فرض کړو چې الکولونه د اوبو له مالیکول څخه ترلاسه شوي دي، داسې چې د اوبو دمالیکول یو اټوم هایدروجن د عضوي پاتې شونو سره تعویض شوی وي، الکول لاس ته راځي او که د هایدروجن بل اټوم یې هم تعویض شي، ایترو ترلاسه کیږي، د بیلگې په ډول:



اوبه

ایتانول

ډای ایتایل ایترو

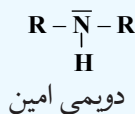
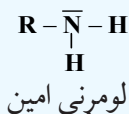
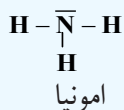


(3 - 4) شکل: د ډای ایتایل ایترو مالیکول مودل

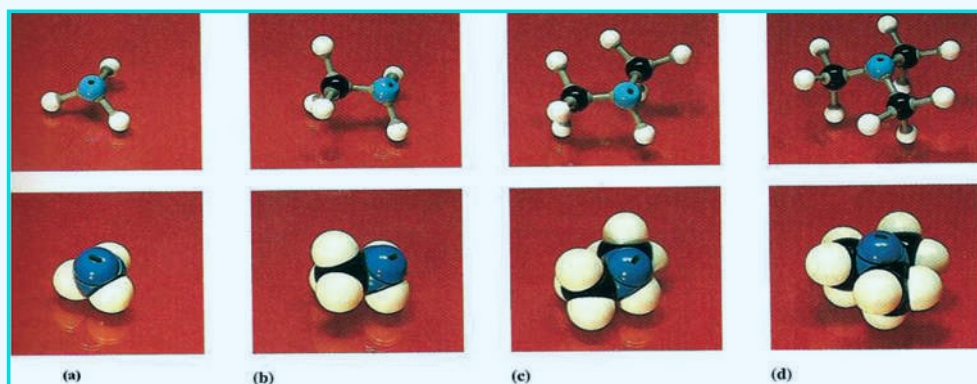
6 - د امینونو وظیفه یي گروپ (-NH₂)

د امین گروپ (-NH₂) د هایدروجن دوو اټومونو او د نایټروجن له یو اټوم څخه جوړ شوی دی چې په رښتیا سره د امونیا دمالیکول یو اټوم هایدروجن له هغه څخه په هومولیتکي بڼه بیل اوبه پایله کې داگروپ لاسته راغلی دی. که چیرې د دې گروپ اړیکه د هایدروکاربنونو له راډیکالونو سره جوړه شي، د امینونو مرکبونه جوړیږي. د امینونو

عمومي فورمولونه په لاندې ډول دي



په ټولو حالتونو کې د امینونو مالیکول د مثلثي قاعدې سره هر می جوړښت لرونکی دی او د نه اړیکې یوه جوړه الکترون د نایټروجن له sp^3 هایبرید اوربیتال څخه دي او د هغود زاویو سره توپیر لري، زیاتره امینونه په طبیعي موادو او یا په ترکیبي محصولاتو کې موندل شوي دي او د هغوی ډېر مرکبونه بد بوی لري، د عضوي موادو د پروتینونو په ترکیب کې نایټروجن شته دی او امینونه هم د ژونديو موادو له تجزیې او خرابېدلو څخه وروسته له سلفر لرونکو مرکبونو سره بد بوی منځ ته راوړي، د دوو ډولو مرکبونو د ډای امین نوم $\{\text{NH}_2(\text{CH}_2)_4\text{NH}_2\}$ 1.4diamino butane پپوترسین (Putrescine) د تعفن (بدبوی) په معنا 1.5 penta diamine او $\text{NH}_2(\text{CH}_2)_5\text{NH}_2$ کداویرین (Cadaverine) د جسد بدبوی په معنا د مرو جسدونو له تعفن څخه اخیستل شوی دی.



شکل: (3 - 5) د امینونو جوړښت او موډل،

b - میتایل امین

a - امونيا

d - ترای میتایل امین

c - ډای میتایل امین

فعالیت

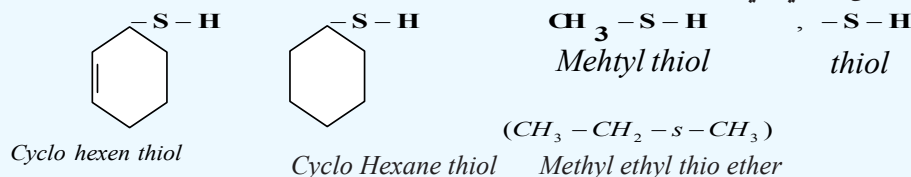


زده کونکي دې په ډلو وویشل شي، هر ډله دې د کاغذ خمیره، سربیس او د اړتیا نور مواد برابر کړي او له دې موادو څخه دې د ایټرو، الیدهایدونو، کپتونونو او امینونو موډلونه جوړ کړي او د هغوی په هکله دې د هرې ډلې استازې دي په ټولګي کې څرګندونه وکړي.

7 - د ټیول ګروپ، سلفایډونه


د ټیول ګروپ (S-H) له یو اتوم سلفر او یو اتوم هایډروجن څخه جوړ شوی دی چې د هایډروکاربونونو سلفر لرونکي مشتقات جوړوي، د هایډروجن سلفایډ (H-S-H) د یو اتوم هایډروجن د اړیکې د پرې کیدو په پایله

کې ترلاسه کېږي، دا پرې کېدل د هومولیتیکي په بڼه ترسره کېږي، د دې مرکبونو عمومي فورمول $R-S-H$ دی چې الکولو ته ورته دی. که چیرې د تیول د ګروپ دویم هایدروجن هم په عضوي پاتې شونې په واسطه تعویض شي، سلفایډونه جوړېږي چې دهغوی عمومي فورمول $R-S-R$ دی، دا مرکبونه ایترونو ته ورته دي او توپیر یې د ایترونو سره دادی چې په ایتروکې اکسیجنی وظیفه یې ګروپ شته، خو په تیو ایترونو کې سلفر شتون لري، دا وظیفه یې ګروپ د مرکپتو ګروپ (*Mercapto Group*) په نوم هم یا دېږي. د تیول او تیواوتر د مرکبونو ساده بیلګې لاندې لیکل شوي دي:



8- د ایترونو وظیفه یې ګروپ

د ایترونو وظیفه یې ګروپ $\begin{smallmatrix} O \\ || \\ C-O \end{smallmatrix}$ دی چې د دې ګروپ د اکسیجن د اټوم یو ازاد ولانسي الکترون د یو عضوي رادیکال د یو ازاد الکترون او د کاربن د اټوم یو طاقه الکترون د یو بل د عضوي رادیکالونو د کاربن د اټومونو سره اړیکه تړلې ده او د ایترونو په نوم مرکبونه یې جوړکړي دي. په رښتیا که چیرې د کاربوکسیل د ګروپ د هایدروجن اټوم د عضوي پاتې شوو سره تعویض شي، ایترونه جوړېږي. د ایترونو عمومي فورمول له $R-\begin{smallmatrix} O \\ || \\ C \end{smallmatrix}-O-R$ یا $R-\begin{smallmatrix} O \\ || \\ C \end{smallmatrix}-O-R^-$ څخه عبارت دی.



(3-7) شکل: د میتایل ایتایل ایستر د مالیکول مودل

فعالیت



زده کوونکي په ډلو وویشئ، هرې ډله د دې د ایترونو د مالیکولونو مودلونه د لرګیو، د رس خاورې د خټو او یا له کاغذ څخه جوړکړي د ډلې استازی دې د خپل ګروپ د کړنې په هکله اړونده څرګندونې وړاندې کړي.



* عضوي مرکبونه د کاربن او هایډروجن د مرکبونو او د هایډروکاربنونو له مشتقاتو څخه عبارت دي.
* په عمومي ډول عضوي مرکبونه د کاربنې سکلیټ او د وظیفه یي گروپونو د شتون له امله وېشل شوي دي.

* په عمومي ډول هایډروکاربنونه په دوو ډلو ایسکلیک او کاربوسکلیک ویشل شوي دي.
* ایسکلیکونه زنځیري مرکبونه دي چې دهغوی زنځیر کیدای شي نارمل او یا ښاخ لرونکی وي.
* سکلیکونه په دوه گروپونو کاربو سکلیک او هتروسکلیک وېشل شوي دي.
* کاربوسکلیک مرکبونه هغه مرکبونه دي چې د تړلي زنځیر (کړۍ) لرونکي دي او په ایسکلیکونو او اروماتونو ویشل شوي دي، ایسکلیکونه هم په خپل وار په سایکلو الکانونو او سایکلو الکینونو ویشل شوي دي، د هایډروکاربنونو هومولوگونه زیات د هایډروکاربنونو له مرکبونو څخه عبارت دي چې یو له بل څخه د یو میتلین $(-CH_2-)$ گروپ په کچه توپیر لري.

* که چیرې د هایډروکاربنونو د هایډروجن یو اویا څو اټومونه د وظیفه یي گروپونو په واسطه بې ځایه شي، نو هغه مرکبونه لاسته راځي چې د هایډروکاربنونو د مشتقاتو په نوم یا ډیري او له هلو جني، اکسیجني، نایټرو جني، سلفري، فاسفوري او له نورو عناصرو مشتقاتو څخه عبارت دي. دا عناصرونه د وظیفه یي گروپونو په بڼه د هایډروکاربنونو په مرکبونو کې شتون لري چې د نوموړو مرکبونو کیمیايي خواص ټاکي.

* وظیفه یي گروپونه د هلو جني لرونکي، اکسیجن لرونکي، نایټرو جني لرونکي، سلفر لرونکي او په داسې نورو ویشل شوي دي.

* هغه مرکبونه چې اکسیجني وظیفه یي گروپونه لري، د الکولونو، الډهایډونو، تیزابونو، ایترونو،

ایسترونو او نورو څخه عبارت دي چې په وار سره یي فورمولونه $R-\overset{O}{\underset{||}{C}}-H$ ، $R-OH$ ،

$R-\overset{O}{\underset{||}{C}}-O-R$ ، $R-O-R$ ، $R-COOH$ ، $R-\overset{O}{\underset{||}{C}}-R$ دي.

* هغه مرکبونه چې نایټرو جني لرونکي وظیفه یي گروپ لري، امینونونه، امایډونه او نور دي چې د

هغوی فورمولونه په وار سره $R-\overset{O}{\underset{||}{C}}-NH_2$ ، $R-NH_2$ دي.

* هغه مرکبونه چې د سلفر لرونکي وظیفه یي گروپونه لري، له $R-S-R$ ، $R-S-H$ او نور و څخه عبارت دي.

د دریم څپرکي پوښتني

څلور ځوابه پوښتني:

- 1 - د عضوي مرکبونو په ترکیب کې د لاندې عناصرونو له جوړو څخه د کومو شتون حتمي دي ؟
 الف - کاربن او سلفر ب - سلفر او هایدروجن
 ج - کاربن او فاسفورس د - کاربن او هایدروجن
 2 - هغه هایدروکاربنونه چې د یو میتیلین ګروپ ($-CH_2-$) په کچه یو له بل څخه توپیر ولري د ---- په نوم یادېږي.

- الف - ایزولوګ، ب - ایزومیر، ج - هومولوګ، د - غیر مشبوع.
 3 - له لاندې فورمولونو څخه کوم یو د ایترونو عمومي فورمول دی ؟

- الف - $R-O-R$ ب - $R-\overset{\overset{O}{\parallel}}{C}-H$ ج - $R-S-H$ د - الف او ج دواړه
 4 - د تیولونو عمومي فورمول له : ----- څخه عبارت دی .

- الف - $R-OH$ ، ب - $R-NH_2$ ، ج - $R-S-H$ ، د - $R-S-R$.
 5 - په تیزابي مرکبونو کې وظیفه یي ګروپ له ----- څخه عبارت دی .

- الف - $R-\overset{\overset{O}{\parallel}}{C}-H$ ب - $R-\overset{\overset{O}{\parallel}}{C}-O-H$ ج - $R-\overset{\overset{O}{\parallel}}{C}-O-R$ د - $R-C-H$

- 6 - ساده مرکبونه چې د کاربن سربیره، هایدروجن هم دهغو په ترکیب کې شتون ولري د ---- په نوم یا دېږي

- الف - الکان ب - الکین ج - هایدروکاربنونه د - الکانونو مشتقات
 7 - د الکیل هلایدونو عمومي فورمول له ----- څخه عبارت دی .

- الف - $R-OH$ ب - $R-X$ ج - $R-S-H$ د - $R-S-R$
 8 - وظیفه یي ګروپونه له اتوم او یا د اتومونو له ډلو څخه عبارت دي چې د اړیکو په واسطه یوځای او د ټاکلي مرکب په یو مالیکول کې شامل دي او ---- ټاکي

- الف - د مرکب ډول ب - مالیکولي ترکیب ج - د مرکب مشتقات د - الف او ج دواړه.

- 9 - $R-OH$ د ----- عمومي فورمول دی:

- الف - تېزاب ب - القلی ج - الکول د - الډهايد

10 - هایدروکاربنونه په عمومي ډول په ----- ډلو وېشل شوي دي:

الف - دوو ب- دریو ج - څلورو د - پنځو

11 - هتروسکلیکونه هغه مرکبونه دي چې د هغوی په ترکیب کې بیګانه عنصرونه؛ لکه: ---- شتون لري:

الف - سلفر، اکسیجن ب- نایټروجن اونور ج - الف او ب دواړه د - هیڅ یو

12 - تيو ايترونه الکولونو ته ورته دي؛ خو د هغو توپیر له ايترونو څخه په دې کې دی چې په ايترونو کې د اکسیجن وظیفه یې ګروپ شامل دی؛ خو په تيو ايترونو کې ---- شتون لري.

الف - نایټروجن ب- فاسفورس ج- سلفر د - نایټروجن

13 - د کیتونونو وظیفه یې ګروپ له ---- څخه عبارت دی .

الف - کاربونیل ب- کاربوکسیل ج- هایدروکسیل د - هیڅ یو

14 - هغه هایدروکاربنونه چې د ترلې زنځیر لرونکي دي، د '----' په نوم یا ډیبري:

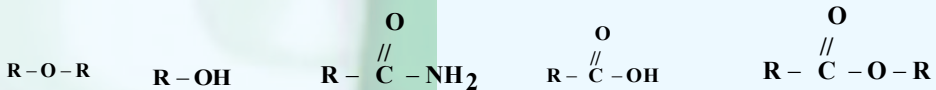
الف - سکلیکونو ب- الیسکلیکونو ج- اروماتونو د - ټول

تشریحي پوښتنې:

1 - د هایدروکاربنونو د هومولوګ د سلسلې په اړه لنډ معلومات ورکړئ.

2 - وظیفه یې ګروپونه په لنډ ډول توضیح کړئ.

3 - لاندې عمومي فورمولونه وګورئ او ولیکئ چې په کومو عضوي مرکبونو پورې اړه لري.

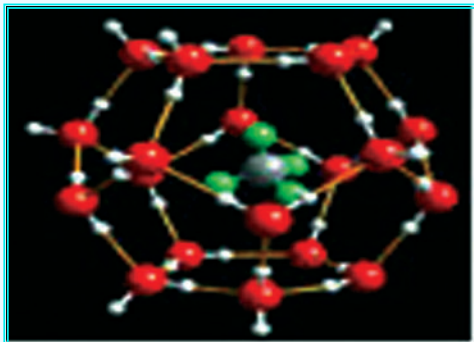


4 - د کاربونیل وظیفه یې ګروپ په لنډ ډول توضیح کړئ.

5 - د کاربوکسیل د وظیفه یې ګروپ په اړه لازم معلومات وړاندې کړئ.

خلورم خپرکی

الکانونه اوسایکلو الکانونه



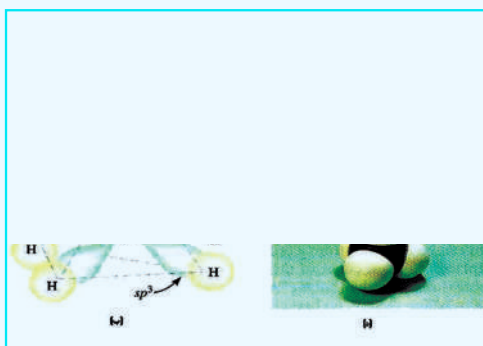
هغه مرکبونه چې په هغو کې د کاربن اتومونه د زنځیر یا کړۍ په بڼه یو له بل سره اړیکې لري او په هغوی کې د کاربن ټول اتومونه د یوگوني سگما اړیکې (σ) لرونکي دي، د الکانونو او یا د سایکلو الکانونو په نامه یاد شوي دي. په دې مرکبونو کې د کاربن اتومونه sp^3 هایبرید لري او د کاربن د اتومونو ترمنځ یوه گوني اړیکه شته، الکانونه د کاربنونو زنځیري مالیکولونو لرونکي او سایکلو الکانونه د تړلو زنځیرونو او کړپو لرونکي دي. په دې خپرکي کې به پوه شئ چې الکانونه او سایکلو الکانونه د کومو ډولونو مرکبونو لرونکي دي؟ د هغوی طبیعي سرچینې کومې دي؟ د کومو ځانگړتیاو لرونکي دي؟ په کومو برخو کې په کار وړل کېږي؟ د الکانونو او سایکلو الکانونو ترمنځ توپیرونه کومو فکتورونو سره اړیکه لري؟ د دې خپرکي په لومړي سر کې الکانونه روښانه کوو او وروسته د سایکلو الکانونو په خپرونو پیل کوو.

1-4 : الکانونه (Alkanes)

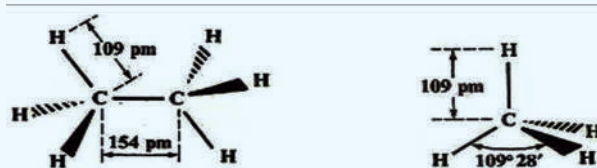
الکانونه هغه مرکبونه دي چې د هغوی د کاربن د اتومونو ترمنځ یوه ګونې ساده اړیکه شتون لري او د کاربن د اتومونو نور پاتې ولانسونه د هایډروجن د اتومونو په واسطه ډک شوي دي. دهغو ساده مرکب میتان CH_4 او ایتان (C_2H_6) دی.

د میتان مالیکول د څلور وجهي هندسي جوړښت لرونکي دي او په هغه کې $C-H$ د کاربن د sp^3 هایبرید اوربیتال او هایډروجن د s اوربیتال د نیغ پر نیغ د ننوتنې په پایله کې جوړېږي او د اړیکې ډول یې مستحکمه سګما (σ) ده.

(1-4) شکل کې زاویه، د اړیکې اوږدوالی او هم د میتان د مالیکول څلور وجهي جوړښت ښودل شوی دی، داسې چې د اړیکې اوږدوالی د پیکامتر pm ($10^{-12} m$) په واسطه ټاکلی شوی دی. په یو مالیکول کې د اړیکو د ښودلو لپاره نړیوال تړون د (2-4) شکل سره سمون لري، داسې چې نري خطونه $C-H$ د هغو اړیکو ښودونکي دي چې په سطحه کې شتون لري، مثلي علامه (\blacktriangleleft) د سطحې پر مخ اړیکه او مثلي (\blacktriangleright) علامه د سطحې د شا اړیکه ښیي:

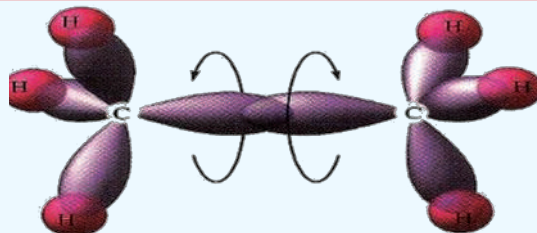


(1 - 4) شکل : د میتان د مالیکول د ښودلو دوه بیلا بیلې طریقې ښیي



(2 - 4) شکل : د میتان او ایتان په مالیکول کې نړیواله تړون ښیي

د ایتان مالیکول د اړیکو ښودلو لپاره کیدای شي چې د میتیل CH_3 - دوو پاتې شوو اړیکو یو له بل سره په جوړښت کې په پام کې ونیول شي. د میتیل ($-CH_3$) په ګروپ کې د کاربن هر اتوم د sp^3 آزاد هایبرید لري او یو له بل سره د تړون په وخت کې د sp^3 هایبرید اوربیتالونو نیغ پر نیغه ننوتنه تر سترګو کیږي چې د $C-C$ اړیکه جوړوي او په (3 - 4) شکل کې ښودل شوې ده:



(3-4) شکل: د لرگیو مودلونو په واسطه د ایتان د مالیکول فضايي بنودنه

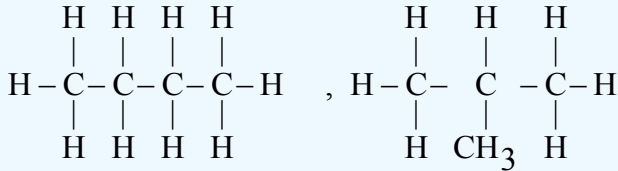
دالکانونو عمومي فورمول ($C_n H_{2n+2}$) دی چې دهغوی د گروپ لومړنی مرکب میتان اودویم یې ایتان او داسې نور دي چې یو له بل څخه د یو میتلین گروپ $-CH_2-$ په کچه توپیر لري. په (4-1) جدول کې د دې کورنۍ د یو شمېر مرکبونو نومونه، اېشېدوټکي او د دهغوی یو ولانسه رادیکالونه ښودل شوي دي، د یاد ولو وړ ده چې ane وروستاړی چې د $Alkane$ له نوم سره اړیکه لري، د هغه په رادیکال کې په $(Alkyl)yl$ بدلیږي.

(4-1) جدول: د الکانونو نوم او دهغوی اړوند رادیکالونه

نوم	فورمول	د ایشیدو ټکي	رادیکال	فورمول
Alkane	$C_n H_{2n+2}$		Alkyl	$-C_n H_{2n+1}$
Methane	CH_4	$-161^0 C$	Methyl	$-CH_3$
Ethane	$CH_3 - CH_3$	$-89^0 C$	Ethyl	$C_2 H_5 -$
Propane	$C_3 H_8$	$-40^0 C$	Propyl	$C_3 H_7 -$
Butane	$C_4 H_{10}$	$-0.5^0 C$	Butyl	$C_4 H_9$
Pentane	$C_5 H_{12}$	$36^0 C$	Pentyl	$C_5 H_{11} -$
Hexane	$C_6 H_{14}$	$68^0 C$	Hexyl	$C_6 H_{13} -$
Heptane	$C_7 H_{16}$	$88^0 C$	Heptyl	$C_7 H_{15} -$
Octane	$C_8 H_{18}$	$126^0 C$	Octyl	$C_8 H_{17} -$
Nonane	$C_9 H_{20}$	$151^0 C$	Nonyl	$C_9 H_{19} -$
Decane	$C_{10} H_{22}$	$174^0 C$	Decyl	$C_{10} H_{21} -$


4-1-1: د الکانونو ایزومیري

په الکانونو کې ایزومیري د بیوتان له مرکب څخه پیل کیږي؛ د بیلګې په ډول: بیوتان دوه ایزومیري لري چې د هغوی جوړښتیز فورمولونه په لاندې ډول دي:



n-butane

Iso butane



(4 - 4) شکل: د نارمل بیوتان او ایزو بیوتان د مالیکول دجوړښت موډل

د یادولو وړ ده چې د مرکبونو د ایزومیر یو فزیکي خواص یو له بل څخه توپیر لري؛ د بیلګې په ډول: د نارمل بیوتان د ایشیدو تکی 0.5°C - او کثافت یې 0.106g/cm^3 دی، په داسې حال کې چې د ایزوبیوتان د ایشیدو تکی 11.6°C - او د هغه کثافت 0.549g/cm^3 دی.

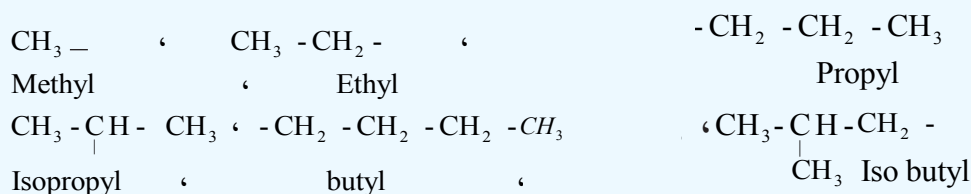
د زنځیري الکانونو په مالیکولونو کې د کاربن د اتومونو شمېر (n) په زیاتیدو سره د ایزومیري شمېر هم زیاتیږي، لاندې جدول وگورئ:

(4 - 2) جدول: د ځینو الکانونو ایزومیري


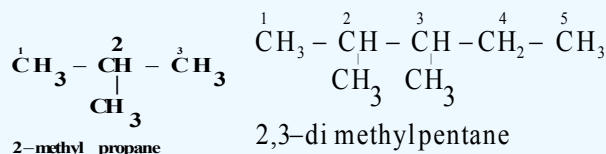
د ایزومیري شمېر	مالیکولي فورمول	د کاربن د اتومونو شمېر
2	$\text{C}_4 \text{H}_{10}$	n=4
5	$\text{C}_6 \text{H}_{14}$	n=6
18	$\text{C}_8 \text{H}_{18}$	n=8
75	$\text{C}_{10} \text{H}_{22}$	n=10
څه نا څه 366 زره	$\text{C}_{20} \text{H}_{42}$	n=20
$6.0 \cdot 10^{13}$ په شاوخوا کې	$\text{C}_{40} \text{H}_{82}$	n=40

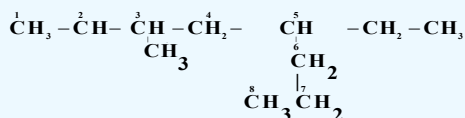
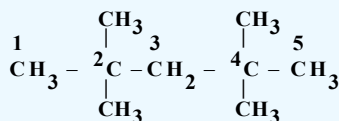
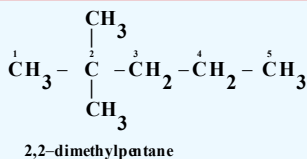
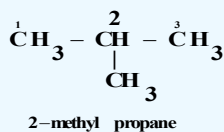
4-1-2: د IUPAC د قاعدې پر بنسټ د الکانونو نوم ایښودنه

د عضوي مرکبونو نوم ایښودنه له ځانګړې اهمیت څخه برخمنه ده؛ ځکه د مرکبونو ډېروالي ته په پام سره (له شل ملیونو څخه ډېر) او د هغوی د ورځني ډېروالي له کبله نه شي کیدای چې د هغوی نوم ایښودنه له قاعدو څخه د باندې ترسره شي، د IUPAC (International Union of Pure and Applied Chemistry) تجربې او خالصې کیمیا د نړیوالې اتحادې نوم ایښودنې لاره یې په پام کې نیولې ده چې د هغې پر بنسټ کیدای شي د عضوي مرکبونو نوم ایښودنه ترسره شي: د Metha, Etha, propa, Buta, penta او نورو رقمونو سره پیژندګلوي لری اوه Methane, Ethane, propane, Butane چې د الکانونو لومړني مرکبونه دي، بلد یاست؛ لکه څرنګه چې لیدل کیږي، د (ane) وروستۍ د نوموړو رقمونو د نوم په پای کې لیکل شوی دی چې د مرکب د ډول ټاکونکی دی او دا رقمونه په غوښتل شوی مرکب کې د کاربن د اتومونو شمېر ټاکي. (4-1) جدول د ځینو الکانونو نومونه ښیي. د نیغ زنځیر لرونکو الکانونو ته نارمل الکانونه وایي او په (n) ښودل کیږي. که چیرې د الکانونو له مالیکول څخه د هایډروجن یو او یا څو اتومه لرې کړای شي د اتوم او مالیکول چې طاقه الکترون ولري، داسې ذرې د رادیکال (Radical) یا د فعاله عضوي پاتې شونو په نوم یا دوي، که دا د پام وړ مرکبونه الکانونه وي او د هغوی په مالیکول کې د کاربن د اتوم یو ولانسي الکترون پرته د جوړه کیدلو پاتې وي، د الکیل (Alkyl) په نوم یا ډیري. په دې ذرو کې د ane وروستۍ د یو طاقه الکترون د لرلو په ښه په yl تعویض او د هغوی د رادیکال نوم لاسته راځي؛ دیلګې په ډول:



د ښاخ لرونکو زنځیري الکانونو نوم ایښودنه داسې ترسره کیږي چې لومړی د الکانونو په مالیکول کې اوږد زنځیر ټاکل کیږي او د کاربن په اتومونو یې نمبرونه وهل کیږي او د زنځیر نمبر وهنه له هغې خواوې څخه پیل کیږي چې ښاخونه ورته نژدې وي؛ نو په دې صورت کې لومړی د هغو کاربنونو نمبر 1, 2, 3 ---- چې له هغه سره پاتیشونې نښتې وي، لیکي او ورپسې یې د معاوضو نومونه لیکل کیږي، د پاتې شونې (بقیې) او اړوند کاربن نمبر ترمنځ د (-) علامه لیکل کیږي. د پاتې شونو د نوم لیکنه په نوم ایښودنه کې د کوچنیوالي او غټوالي پر بنسټ او یا په انګریزي الفبا کې د هغود نوم د لومړي توري پر بنسټ ترسره کیږي او په پای کې د اوږد زنځیر لرونکي الکانونو نوم په مرکب کې لیکل کیږي. کله چې ورته پاتې شونې په اوږد زنځیر کې شتون ولري، د هغوی شمېر په Tetra, Tri, Di او نورو ارقامو باندې ټاکل کیږي؛ د دیلګې په ډول:

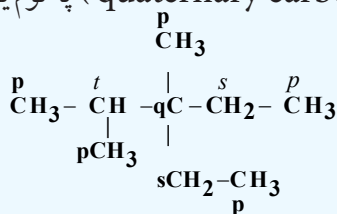




3-methyl-5-ethyloctane

4-3-1: د سباخ لرونکو الکانونو اشتقاقی نوم ایښودنه

په دې ډول نوم ایښودنه کې لومړی باید د کاربن ډولونه وټاکل شي چې له لومړني، دویمي، دریمي او څلورمي کاربن څخه عبارت دي. د کاربن اتومونه چې د عضوي مرکبونو په مالیکول کې خپل یو ولانسي الکترون د بل کاربن له اتوم سره د اړیکې د جوړولو لپاره کارولي وي، د لومړني کاربن (primary carbon) په نوم یا ډیري، که چېرې د کاربن د اتوم دوه الکترونونه د کاربن له دوه نور اتومونه سره د اړیکې د جوړیدو لپاره کارولي وي، د دویمي کاربن (secondary carbon) په نوم یادېږي او همدارنګه که د کاربن درې ولانسي الکترونونه د کاربن له درې نورو اتومونو سره د اړیکې د جوړیدو لپاره کارولي وي، د دریمي کاربن (Tertiary carbon) اوکه د کاربن د اتوم څلور واړه ولانسي الکترونونه د کاربن له څلورو نورو اتومونو سره د اړیکې د جوړیدو لپاره په کار وړي وي، د څلورمي کاربن (quaternary carbon) په نوم یا ډیري؛ لکه:



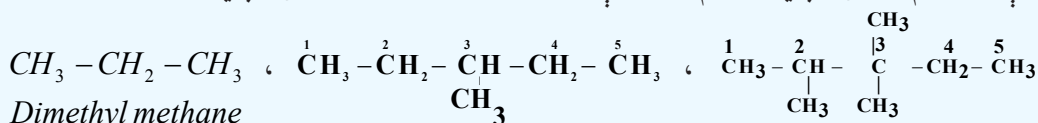
p = لومړني

S= دویمي

T= دریمي

q = څلورمي

په اشتقاقی نوم ایښودنه کې هغه کاربن چې د کاربن له نورو ډیرو اتومونو سره اړیکه ولري، د مرکز په توګه منل شوی دی چې د Methane په نوم یا د شوی دی او هغه پاتې شوني چې له همدې کاربن سره اړیکه لري، د رادیکالونو (الکیلونو) په توګه منل شوي دي، په لومړي سر کې د کوچنیو پاتې شوو، وروسته د منځنیو او بیا د لویو پاتې شوو نوم لیکل کېږي او د نوم په پای کې د (Methane) کلمه لیکل کېږي.



Dimethyl methane

Methyl diethyl methane

Di methyl ethyliso propyl methane

4-1-4 : د الکانونو فزیکي خواص

په لاندیني جدول کې د الکانونو ځینې فزیکي خواص لیکل شوي دي
(4 - 3) جدول: د الکانونو ځینې فزیکي خواص


نوم	فورمول	د ویلې کیدو تېمپرتا $^{\circ}C$	د ایشیدو تېمپرتا	ځانگړی کثافت
Methane	CH_4	-182.5	-161.5	0.424
Ethane	C_2H_6	-183.7	-88.6	0.546
Propane	C_3H_8	-187.6	-42.2	0.585
Butane	C_4H_{10}	-138.3	-0.5	0.579
Pentane	C_5H_{12}	-129.7	+36.1	0.626
Hexane	C_6H_{14}	-95.3	68.8	0.659
Heptane	C_7H_{16}	90.6	98.4	0.684
Decane	$C_{10}H_{22}$	-30.0	173.0	0.730
Tetradecane	$C_{14}H_{30}$	+5.5	253.0	0.764
Pentadecane	$C_{15}H_{32}$	10.0	270.5	0.769
Hexadecane	$C_{16}H_{34}$	18.1	287.5	0.775
Eicosane	$C_{20}H_{42}$	36.5	344.0	0.778
pentacontane	$C_{50}H_{102}$	93.0	421.0	0.942
Hectane	$C_{100}H_{202}$	115.5	-	-

څرنګه چې په جدول کې لیدل کېږي، د دې کورنۍ د هومولوګ لومړي څلور مرکبونه په ټاکل شوو شرایطو کې د ګاز په حالت موندل کېږي او د 5 تر 16 کاربنونو لرونکي یې د مایع په حالت او له 16 څخه لوړ کاربن لرونکي الکانونه په جامد حالت موندل کېږي. د الکانونو په هومولوګي سلسله کې د اېشېدو تېمپرتا، ویلې کیدو تېمپرتا او مخصوصه کثافت په پرله پسې توګه زیاتوالی مومي. د الکانونو په ایزومیریو کې هم د اېشېدو درجه توپیر لري، داسې چې د نارمل ایزومیریو د اېشېدو تېمپرتا لوړ او هغه ایزومیری چې ډېر ښاخونه ولري، د اېشېدو تېمپرتا یې ټیټ دی؛ ځکه په ښاخ لرونکو الکانونو کې د واندر والس قوه ډیره لږ او د ذرو ترمنځ د جذب قوه ډیره ټیټه ده، نو له دې کبله په لږه تودوخه کې اېشېږي.

فکر وکړئ



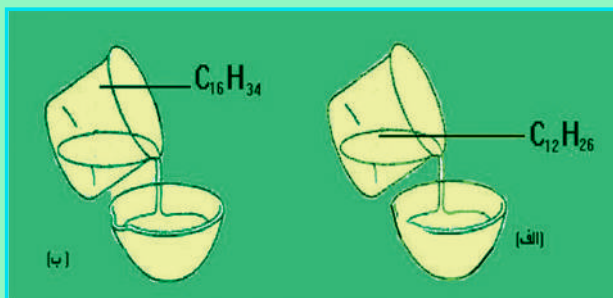
د لاندې جمعي فورمولونو لرونکي د نارمل زنځیري الکانونو له مرکبونو څخه کوم یو په چټکۍ سره ویلې کېږي؟ $C_{45}H_{92}$ او $C_{32}H_{66}$ د مایع الکانونو سرښناکوالی د هغوی د کاربن د اتومونو د شمېر په زیاتوالي (نسبتي مالیکول کتله) ډیرېږي





فعالیت

لاندې شکلونه وگورئ او ووائئ چې کوم الکانه له بل څخه په چټکتیا سره په پیالو کې تو پیري؟



(4 - 5) شکل: الف - د $C_{12}H_{26}$ د حرکت چټکتیا، ب $C_{16}H_{34}$ د حرکت چټکتیا

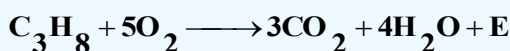
4-1-5: د الکانونو کیمیايي خواص

د الکانونو کیمیايي فعالیت ډېر لږ دی، له دې کبله هغوی د پارافین (Paraffin) یعنې د لږ میل لرونکي په نوم یا دوي . څرنگه چې د الکانونو په مالیکولونو کې ټولې اړیکې یوه گونې او د σ له ډول څخه دي؛ نو له دې کبله یوازې تعویضي تعاملونه تر سره کولی شي .

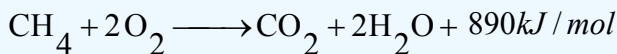
الکانونه له اکسیجن سره تعامل کوي، عضوي اکسیجن لرونکي مرکبونه جوړوي. لاندې د الکانونو ځینې تعاملونه مطالعه کوو:

4-1-5: د الکانونو اکسیدیشن

الکانونه په عادي شرایطو کې د هوا د اکسیجن او اکسیدانتونو (د اکسیدیشن عامل) په مقابل کې کلک دي، که چېرې پارافینونه په هوا کې وسوزول شي، دا مرکبونه په آسماني رنگه لمبه سوزي چې کاربن ډای اکساید، اوبه او انرژي تولید وي:



الکانونه د سون بڼه توکي دي او د هغوی له سوزولو څخه ډېره انرژي تولید یږي؛ د بیلگې په ډول:



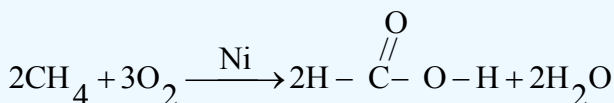
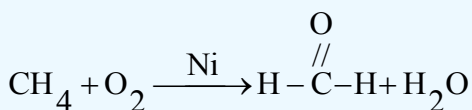
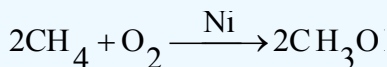
(4-6) شکل: د طبیعي گاز سوزول

د یو کیلوگرام میتان له سوزولو څخه 55627 کیلو ژول انرژي ازادېږي، سون د پارافینو د ډیرو ځانگړو تعاملونو له ډلې څخه دی چې په عملي چارو کې له هغو څخه گټه اخېستل کېږي. طبیعي گاز د هایدروکاربنونو مخلوط دی، د گاز 90% له میتان څخه جوړ شوی دی .

۱- اکسیدانتونه: هغه مواد دي چې د نورو مواد د اکسیدیشن کولو توان ولري. یا په بل عبارت هغوی د الکترونونو بایلولو ته مجبوري کړي لکه: اکسیجن، هایدروجن،

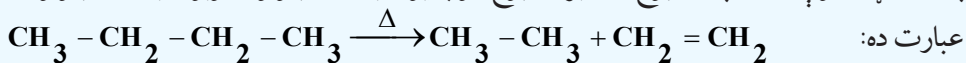
د الکانونو له اکسیدیشن څخه په اړونده شرایطو کې کیدای شي الکلونه، الدهایډونه او تیزابونه لاسته راوړل شي چې د پورتنیو مرکبونو د لاسته راوړلو په اړه به معلومات وړاندې شي، په دې برخه کې به د ځینو عضوي مرکبونو سون مطالعه کړو.

کله چې میتان د هوا د اکسیجن په واسطه د کتلست په شتون کې اکسیدیشن شي، میتانول، فارم الدهاید او فارمیک اسید تولیدیږي:



2-5-1-4: د کرکنګ (ماتیدنه) تعامل

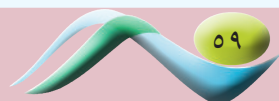
کله چې الکانونونه له 400°C څخه تر 600°C پورې تودوخه ورکړل شي، په دې صورت کې د الکانونو د مالیګولونو د کاربن - کاربن د اړیکو متجانسه پری کېدل ترسره کیږي چې دې عملیې ته د ماتېدنې (Cracking) عملیه وایي. Cracking انګلیسي کلمه ده چې د ماتولو یا د څیرولو په معنا ده، په دې ځای کې هم په همدې مفهوم په کار وړل شوې ده او په مشبوع او غیر مشبوع کوچنیو هایډروکاربنونو د لویو هایډروکاربنونو له ماتیدلو څخه عبارت ده:



په صنعت کې د ماتیدو تعامل بنسټیز رول لوبوي چې د تودوخو په لوړو درجو کې د دې تعامل په مرسته له اومو نفتو څخه قیمتي کوچنۍ اجزاوې؛ لکه: پترول، ډیزل، د خاوروتیل او نور لاس ته راوړي.

3-5-1-4: هلوچینش

هلوچینش د الکانونو د ډیرو مهمو تعاملونو له ډلې څخه دی، د هلوچینش په بهیر کې له کلورین سربیره، فلورین هم په کار وړل کیږي، آیوډین د الکانونو د هایډروجن په نیغ (مستقیم) بې ځایونه نه شي ترسره کولی، خو فلورین په چټکۍ سره اغیزه اچوي چې باید د فلورینیشن په عملیه کې پاملرنه وشي. د الکانونو کلورینیشن د تودوخې په 300°C کې ترسره کېدای شي، د میتان د کلورونیشن بهیر په خوړپړاوونو سره کیدای شي چې ترسره شي، لاندې معادلې وګورئ:



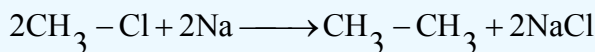
4-1-6: د الکانونو لاسته راوړنه

الکانونه په نفتوکې په زیاته کچه د مخلوطو په بڼه شته چې کېدای شي هغه له نفتو څخه جلا شي، همدارنګه طبیعي ګاز د ګازي الکانونو مخلوط دی؛ خو الکانونه کېدای شي په لاندې لارو هم په لاس راوړل شي:

1 - **د ورتس سنتیز په طریقه:** د الکانونو د لاسته راوړلو ډیره مهمه لاره د ورتس تګ لاره ده؛ په دې طریقه کې د هایډروکاربنونو هلايدونه له فلزي سوډیم سره تعامل کوي، په پایله کې الکان لاسته راځي:



Alkyl halide Alkane



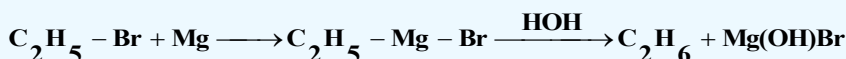

Methyl chloride Ethane

فعالیت



د الکان کوم هلايد ته له سوډیم سره تعامل ورکړل شي چې هګزان تشکیل شي؟
که چېرې $2 - Iodobutane$ ته د سوډیم سره تعامل ورکړل شي، کوم الکان به حاصل شي؟ د هغوی د تعامل معادله ولیکئ.

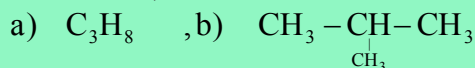
2 - **ګرینارډ په طریقه:** په 1901 کال کې د ګرینارډ (Victor Grignard) په نوم یو عالم د مګنیزیم هلايد عضوي مرکب له لاندې معادلې سره سم ترلاسه کړ:



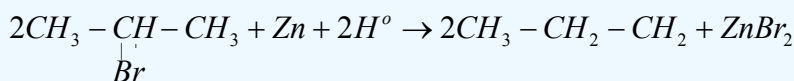
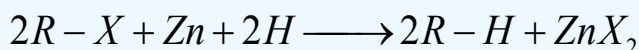
فعالیت



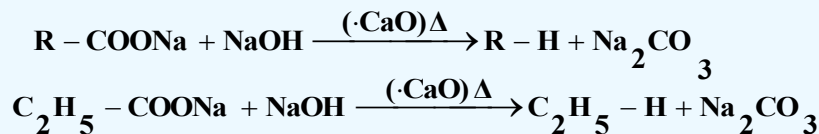
د ګرینارډ د تعامل پر بنسټ دا لاندې مرکبونه لاسته راوړئ او د هغوی کیمیايي معادلې ولیکئ:



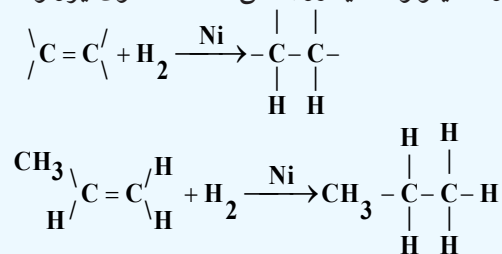
3 - د الکیل هلايدونو له ارجاع کولو څخه هم کېدای شي الکانونه لاسته راوړل شي، دا سې چې الکیل هلايدونه د جستو له فلز سره تعامل وکړي، په پایله کې د الکان او جستو هلايد حاصلېږي:



4 - د کاربوکسلیک اسیدونو د فلزي مالگو او د سودالایم (NaOH+CaO) سودیم هایدروکساید او د کلسیم اکساید مخلوط دی) له تودوخې ورکولو څخه کېدای شي الکانونه لاس ته راوړل شي:



5 - د نکل، پلاتین او نورو کتلستونو په شتون کې د الکینونو او الکاینونو له هایدروجنشن څخه د هغوی ایزولوگ الکانونه لاسته راځي



4-1-7: میتان (Methane)

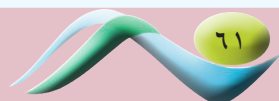
د پارافین ډیر ساده مرکب، میتان دی چې په بېلابېلو نومونو یادېږي اودا نومونه یې له پیدایښت له بیلا بیلو بڼو سره اړیکه لري، څرنګه چې داګاز د عضوي توکو د خوسا کیدلو له کبله په خندقونو (ژورو) کې لاسته راځي؛ له دې کبله د خندقونو دګاز په نوم یا ډیرې، همدا رنگه داګاز په کانونو کې هم پیدا کېږي، پردې بنسټ د کانونو دګاز په نوم هم یا د شوی دی، په کانونو کې د میتان دګاز تولیدل د وژونکو او خطرناکه چاودنو لامل کېږي، له دې کبله Firedamp یعنی د اور منځته را وړونکي ګاز په نوم هم یادېږي.

د لویو سیارو اتموسفیر (زحل او مشتري) هم د میتان ګاز لري، دا ښیي چې میتان په طبیعي شرایطو کې له حیاتي قوو څخه پرته هم جوړېدلی شي.

د ځمکې په د ننه کې د اور اخیستونکو ګازونو ډیرې زیاتې زیرمې شته چې هغوی په ازاد حالت کې د طبیعي ګازو په بڼه (د ځمکې د پنډ قشر دننه زیرمې)، د محلول په حالت په نفتو او د ځمکې د لاندې اوبو دګازونو په توګه له نفتو سره یوځای موندل کېږي. په طبیعي ګازونو کې 98% د میتان ګاز شتون لري او ایتان، پروپان او نور هم د مخلوط په بڼه شته دي. د تېلو سره یوځای ګازونه په ډیره لږه کچه میتان لري، په منځني ډول له یو متر مکعب طبیعي ګاز څخه 46000 کیلو ټول تودوخه تولیدېږي چې د 30kg چدن د ویلې کولو لپاره کافي ده.

4-1-7-1: د میتان فزیکي خواص

د میتان ګاز بې بویه، بې خونده، بې رنگه او د هوا څخه سپک دی. د هغه دروند والی د هوا په نسبت $D = \frac{M}{29} = \frac{16}{29} = 0.552$ دی. د میتان مالیکول غیر قطبي دی او د میتان د مالیکولونو ترمنځ د جاذبې قوه د واندروالس او (London) قوه ده، دا قوه د میتان د مالیکولونو د کوچنیوالي له امله ډیره کمزورې ده؛ له دې کبله د هغه د ویلې کیدو او ایشیدو ټکی ډېر ښکته دی. میتان په اوبو کې نه حل کېږي.



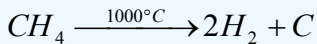


دیوالکان مخصوصه کثافت 1.52 دی، دهغه فورمول او مالیکولی کتله په لاس راوړئ.
2 - دیوالکان مالیکولی کتله 62 ده، دهغه مخصوصه کثافت پیدا کړئ.

4-1-7-2: د میتان کیمیایی خواص

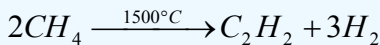
طبیعی گاز 98 % د میتان گاز دی، له هغه څخه د خامې کیمیایی مادې په توګه د لاندې موادو د لاسته راوړلو لپاره کار اخېستل کیږي:

1 - د تورکي (soot) او د هایدروجن د لاس ته راوړلو لپاره د پایرولیز (Pyrolysis) له طریقې څخه ګټه اخلي:

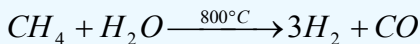


تورکی د زیاتې مادې په توګه د رېږ په خامو موادو کې کاروي او هم د څرمنو په جوړولو کې د رنګ په توګه ترې ګټه اخېستل کیږي.

2 - د استلین د لاسته راوړلو لپاره له میتان څخه ګټه اخېستل کیږي:

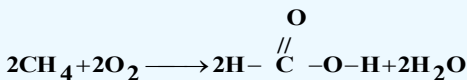
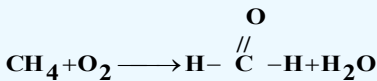



3 - میتان د اوبو د بړا سونو د تعامل له امله د کاربن مونو اکساید او هایدروجن گازونه لاسته راوړي:

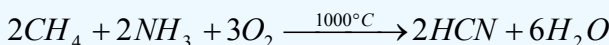


په دې بنسټ له پورتنیو لاسته راغلو محصولاتو څخه میتایل الکول لاسته راوړل کیږي.

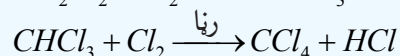

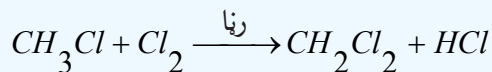
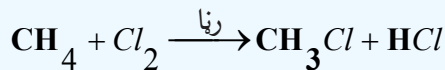
4 - د میتان د اکسیدیشن له تعامل څخه، میتایل الکول، فارم الیدهاید او فارمیک اسید لاسته راځي:



5 - د اکسیجن په شتون کې د میتان او امونیا له پایرولیز څخه هایدروجن سیانید لاسته راځي:



6 - د میتان د کلورونیشن څخه میتایل کلوراید، ډای کلورومیتان (میتیلن کلوراید) کلوروفارم او کاربن تتراکلوراید ترلاسه کیږي:



میتان کیدای شي چې د الکانونو د عمومي لارو په واسطه هم په لاس راوړل شي:

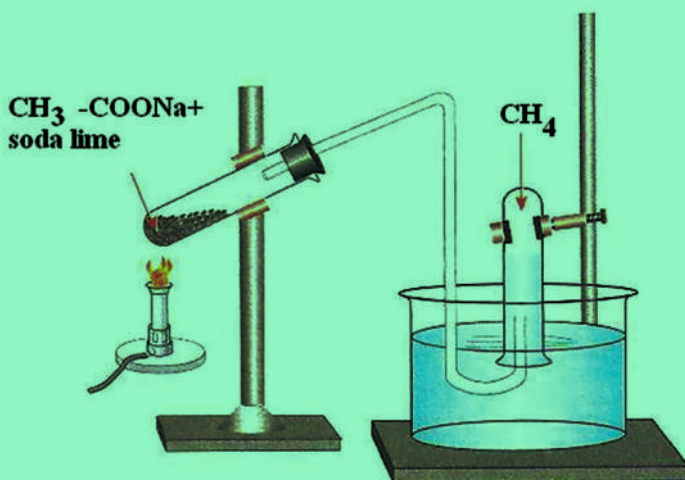
فعالیت



د میتان لاسته راوړنه

د اړتیا وړ مواد: دوه عدده تست تیوبونه، گیر، سټینډ له دوه عدده پایو سره کوږنل، سوري لرونکی کارک، د اوبو څخه ډک تشت، د تودوخې سرچېنه، سودالایم (د سودیم هایدروکساید او کلسیم اکساید مخلوط)، سودیم اسیتات

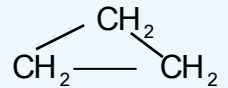
کړنلاره: له (4 - 7) شکل سره سم، لږ څه سودیم اسیتات د سودالایم سره په یو تست تیوب کې واچوئ، د سوري لرونکي کارک سره یې وتړئ، د کارک د سوري څخه یو کوږنل له بل تست تیوب سره چې له اوبو څخه په ډک تشت کې سرچېنه شتون لري، وردننه کړئ، وروسته د تست تیوب د توکو د تعامل معادله ولیکئ او وویاست چې په نسکور شوي تست تیوب کې چې د اوبو ډک تشت کې شتون لري، ټول شوی گاز کوم دی؟



(4 - 7) شکل: د میتان د لاس ته راوړلو دستگاه

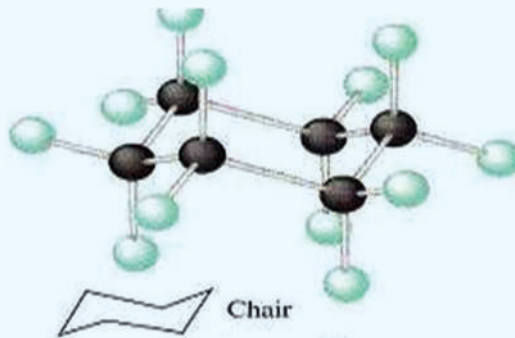
4-2: کره ییز مرکبونه (سایکلوالکانونه)

د سایکلو پارافینونو د هومولوگ سلسلې عمومي فورمول C_nH_{2n} یا $(CH_2)_n$ دی چې په دې ترتیب د سایکلو پارافین مالیکول له هغه له ایزولوگ الکان په نسبت د هایدروجن دوه ائومه لږ لري. په ځینې مشبوع هایدروکاربنونو کې د کاربن دوه ائومه کولی شي چې په خپل منځ کې یوه گونې اشتراکي اړیکه (کټ مټ د دوو منځنیو کاربنونو له sp^3 هایبریدو اړیکو سره چې د هغوی تر منځ یو یا څو د CH_2 - گروپونه شتون ولري) په حلقه کې چې جوړه کړي دي، دا ډول مرکبونه د سایکلو الکانونو (Cycloalkanes) په نوم یا ډیرې چې دهغوی لومړنۍ مرکب C_3H_6 چې جوړښتیز فورمول په لاندې ډول دی:



Cyclo propane

د دوی مرکبونه له Cyclo butane، Cyclo pentane، Cyclo hexane او نورو څخه عبارت دي. سایکلو هگزان چې جمعي فورمول یې C_6H_{12} دی، د لیویس د قانون سره سم په یوه سطحه کې د ساده شپږ ضلعي په بڼه لیکل کيږي، خو په رښتیا سره چې د کاربن ائومونه په دې مرکب کې څلور وجهي جوړښت لري، مسطح نه دی، په عادي شرایطو کې هغه فورمول چې د سایکلو هگزان د مالیکول ډېر ثابت حالت رانښيي، د څوکی په بڼه دی (د هغه څوکیو په بڼه چې د سیندونو په غاړو کې ترې گټه اخېستل کيږي) په (4 - 8) شکل کې د سایکلو هگزان فضايي جوړښت د څوکی په بڼه ښودل شوی دی:



(4 - 8) شکل: د سایکلو هگزان فضايي جوړښت د چوکۍ په شکل

4-2-1: د سایکلو الکانونو پیدایښت

سایکلو الکانونه په طبیعت کې په ډیره اندازه پراختیا موندلې ده او نوموړي مرکبونه د ځینو نفتو د جوړښت له بنسټیزو اجزاو څخه دي. سایکلو الکانونه لومړي ځل په نفتوکې د مارکوف نیکوف (Markovnikov) روسي عالم په واسطه ترلاسه شول، نوموړی عالم دا هایدروکاربنونه د نفتین (Naphthenes) په نوم یادکړي دي. نوموړي وموندل چې په طبیعت کې پنځه ضلعي او شپږ ضلعي سایکلو الکانونه، یعنې سایکلو پنتان او سایکلو هگزان او د هغوی مشتقات ډېر زیات خپاره شوي دي. سایکلو الکانونه په نباتي ایتري غوړیو کې شتون لري. د سایکلو هگزان د هومولوگ کاربنی سکلیټ (1-methyl-4-isopropyl cycl)





(hexane) د ډیرو ترپینونو (Terpenes) بنسټ جوړ کړی دی چې د طبیعت د مهمو مرکبونو له ډلو څخه دي .

زیات پوه شی


ترپینونه (Terpenes) عبارت له عطري او تېنټیدونکو هایډروکاربنونو څخه دي چې د هغوی بسیط فورمول $C_{10}H_{16}$ او عمومي فورمول یې $(C_5H_8)_n$ دی. ترپینونه په علمي او صنعتي چارو کې د ډېر اهمیت برخمن او د زیاتو نباتاتو بنسټ جوړونکي دي. ترپینونه د ښه بوی لرونکو موادو اجزای دي او د عطرو په جوړولو کې په کار وړل کېږي، دا مرکبونه له نباتاتو څخه لاس ته راوړل کېږي.

4-2-1-1: فزیکي خواص

د سایکلو الکانونو د ویلې کیدلو د تودوخې درجه د هغوی د ایزولوگو الکانونو په نسبت لوړه ده، لاندې جدول وگورئ: (4-4) جدول: له ایزولوگو الکانونو سره د سایکلو الکانو د ویلې کیدو د درجو پرتله

نارمل الکانونه او سایکلو الکانونه	فورمول	د ویلې کېدو درجه °C	د ایشېدو درجه °C
پروپان	$CH_3 - CH_2 - CH_3$	-187	-42
سایکلو پروپان		-127	-33
بیوتان	$CH_3 - (CH_2)_2 - CH_3$	-135	-0.5
سایکلو بیوتان		-90	13
پنتان	$CH_3 - (CH_2)_3 - CH_3$	-130	36
سایکلو پنتان		-94	49
هگزان	$CH_3 - (CH_2)_4 - CH_3$	-95	69
سایکلو هگزان		7	81

سایکلو پروپان او سایکلو بیوتان د گاز په بڼه او سایکلو الکانونه چې د کاربن د اتومونو شمېر یې له 30 څخه پورته وي، په جامد حالت موندل کېږي.

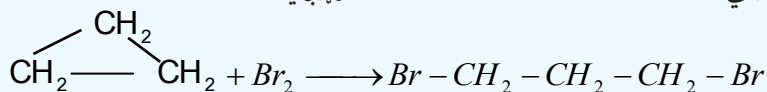


4-2-1-2: د سایکلو الکانونو کیمیايي خواص

د کوچنۍ کرۍ لرونکي سایکلو الکانونه جمعي تعاملونه ترسره کوي چې د هغوی کرۍ وازېږي، الکانونه او د هغوی مشتقات جوړېږي چې د الکینونو ځانګړتیا له ځان څخه بېسي. هغه کرۍ چې له 5 څخه تر 7 پورې د کاربن اتومونه ولري، ثبات یې ډېر دی چې د مشبوع هایدروکاربنونو غوندې تعویضي تعاملونه ترسره کوي.

1 - په سایکلو الکانونو باندې د هلو جنو عمل

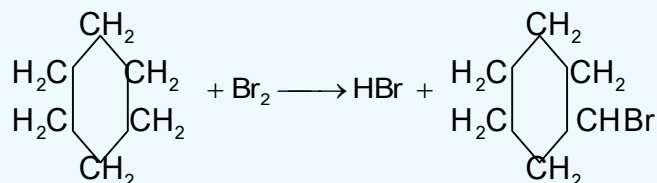
د کوچنۍ کرۍ لرونکي سایکلو الکانونه او د هغوی مشتقات له برومین سره په ښه توګه تعامل کوي، په پایله کې کرۍ وازه او د الکانونو برومینی مشتقات 1.3 di brom alkanes جوړېږي.



پورتنی تعامل د پروپیلین د برومینشن په نسبت ورو تر سره کېږي او د سایکلو بیوتان برومینشن د سایکلو پروپان په نسبت چټک دی. د سایکلو بیوتان د برومینشن تعامل په لوړه تودوخه کې ترسره کېږي او ورو دی چې 1.4 dibromo butane جوړېږي:

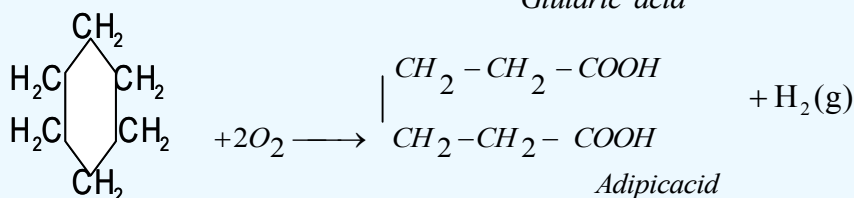
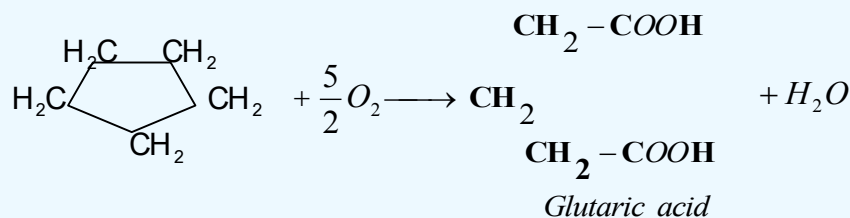


د هلو جنو د عمل په واسطه د سایکلو پنتان او سایکلو هکزان کرۍ نه وازېږي، خو د هغوی د هایدروجن د اتومونو تعویض هلو جنوسره ترسره کېږي:



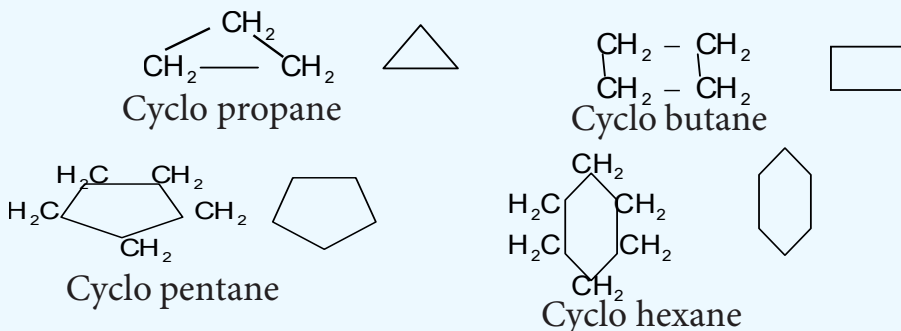
2 - د سایکلو الکانونو اکسیدیشن

د سایکلو پروپان او د هغه مشتقات په عادي تودوخه کې د پوتاشیم پرمنگنات د محلول په واسطه په خنثي یا القلي محیط کې ورو اکسیدي کېږي او د قوي اکسیدانتونو او زیاتې تودوخې په واسطه نور سایکلو الکانونه هم اکسیدي کېږي، داسې چې کرۍ شکېږي او دوه قیمت ته تیزابونه د کاربن د عین شمېر سره لاسته راځي:



4-2-2: د کره یزو مرکبونو جوړښت او نوم ایښودنه

د کاربن اتومونه د کره یزو مرکبونو په مالیکولونو کې د الکانونو په شان د یو ګونې اړیکې په واسطه یو له بل سره نښتې دي چې د سګما (σ) د اړیکې په نوم یا ډیرې او د کاربن اتومونه sp^3 هایبرید لري. د سایکلو الکانونو عمومي فورمول C_nH_{2n} یا $(CH_2)_n$ دی چې له اړونده پارافینونو څخه دوه اتومه هایډروجن لږ لري. د سایکلو الکانونو په نوم ایښودنه کې د سایکلو *Cyclo* مختاړي (Prefix) په زیاتولو سره د هغه ایزولوګ الکان په نوم ترسره کېږي، زیاتره د سایکلو الکانونو د فورمولونو د لیکلو لپاره د هغوی له شرطې فورمولونو څخه ګټه اخیستل کېږي چې په هغوی کې د عناصرونو سمبولونه نه لیکل کېږي؛ د بیلګې په ډول:



فعالیت

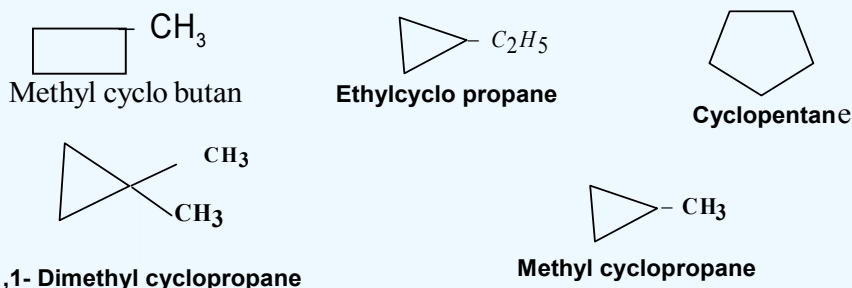


لاندې د سایکلو الکانونو شرطې فورمولونه لیکل شوي دي، تاسې د هغوی مشرح فورمولونه ولیکئ او نوم ایښودنه یې وکړئ:




4-2-3: د سایکلو الکانونو ایزومیري

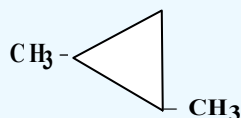
د سایکلو الکانونو جوړښتیز ایزومیري د کرۍ په جسامت، د نښتې شوو زنځیرونو جوړښت او د هغو د زنځیر په ځای پورې اړه لري، لاندې د C_5H_{10} د مرکب ایزومیري له پنځو فورمولونو سره او د هغوي نومونه لیکل شوي دي چې پورتنی مطلب روښانه کوي:



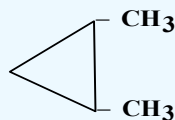
سایکلو پارافینونه فضايي ایزومیري هم لري او دا ایزومیري هغه موده لیدل کېږي چې مواد د یو ډول جوړښتیز فورمول لرونکي وي؛ خو د اتومونو د فضا ځایونه یې یو له بل څخه توپیر لري. فضايي ایزومیري په سایکلو



الکانونوکی د څنگ زنجیر ځای په فضايي ایزومیری پورې اړه لري، دا ډول ایزومیری د هندسي ایزومیری (Geometric isomerism) او یا د ترانس اوسیس ایزومیریو (Trans, cis isomerism) په نوم یادېږي. که د سایکلو الکانونو پاتې شونې د کرپو په یوه سطحه کې شتون ولري، دا ډول ایزومیری د سیس (Cis) په نوم یا دوي او که چېرې پاتې شونې د کرپو په بیلا بیلو سطحو کې شتون ولري، د ترانس (Trans) په نوم یا دېرې؛ د بیلگې په ډول:



Trans di methylcyclopropane



Cis di methyl cyclopropane

د سیس او ترانس ایزومیری بیلا بیل فزیکي او کیمیايي خواص لري.

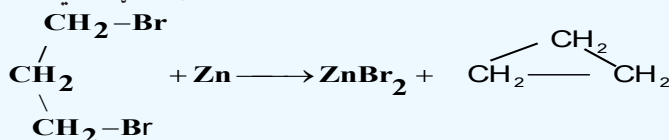
فعالیت



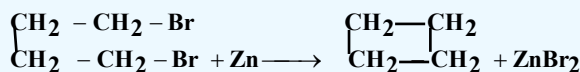
د لاندې سایکلو الکانونو د جوړښتیزو او فضايي ایزومیرنو فورمولونه ولیکئ او نوم ایښودنه یې تر سره کړئ:
Di ethyl cyclopentane , Di chlorocyclo butane, tri methyl cyclo hexane

4-2-4: د سایکلو الکانونو لاسته راوړل

د سایکلو الکانونو د لاس ته راوړلو عمومي لاره د فلزونو اغیزه د الکانونو د ډای هلایدونو مشتقاتو باندې ده؛ د بیلگې په ډول: که چېرې 1,3 - di bromo butane ته د جستو له فلز سره تعامل ورکړل شي، سایکلو پروپان ترلاسه کېږي:



له 1,6 - dibromobutane مرکب څخه کولی شو چې سایکلو بیوتان په لاس راوړو:



1,4 - di bromo butane

cyclo butane

4-2-5: د سایکلو الکانونو مهم مرکبونه

سایکلو پنتان په نفتو کې موندل کېږي او هغه د موټرو د سون مهمې مادې د کیفیت د لوړولو په موخه کارول کېږي، همدارنګه نوموړي مرکبونه په بیلا بیلو سنتیزونو کې په کار وړل کېږي. داسې نفت هم شتون لري چې د سایکلو پنتان د کاربوکسیل د مشتقاتو لرونکي دي یعنې سایکلو پنتان کاربوکسیلیک اسیدونه او د هغه هومولوگونه چې د نفتینیک اسید (Naphthene acid) په نوم یادېږي، په نفتو کې شتون لري.



- * الکانونه هغه مرکبونه دي چې د هغوی د کاربن د اتومونو ترمنځ یو ګونې ساده اړیکه شتون لري او د کاربن د اتومونو نور پاتې ولانسونه د هایډروجن داتومونو په واسطه پکښه شوي دي .
- * د الکانونو د هومولوګ لومړي څلور مرکبونه په ټاکل شوو شرایطو کې د ګاز په حالت موندل کېږي او له 5 څخه تر 16 کاربن لرونکي یې د مایع په حالت او د 16 څخه لوړ کاربن لرونکي الکانونه په جامد حالت دي.
- * د الکانونو کیمیايي فعالیت ډیر لږ دی، له دې کبله هغوی د پارافین (Paraffins) یعنې د لږ میل لرونکو په نوم یادوي .
- * په یوه سلسله مشبوع هایډروکاربنونو کې د کاربن دوه اتومه کولی شي چې په خپل منځ کې یو ګونې اشتراکي اړیکه (کټ مټ د دوو منځنیو کاربنونو $sp^3 - hybrid$ هایبرید اړیکو ته ورته چې د هغو تر منځ یو یا څو د CH_2 ګروپونه شتون ولري) د حقلې په شکل رابطه جوړه وي، دا ډول مرکبونه د سایکلو الکانونو (Cycloalkanes) په نوم یادېږي چې د هغو لومړنی مرکب C_3H_6 دی:
- * سایکلو الکانونه په نباتي ethereal oil (غوړیو) کې شتون لري. د سایکلو هګزان د هومولوګ د کاربنی سکلیټ (1-methyl4 - isopropyl cyclohexane) د ډیرو تریپینونو (Terpenes) بنسټ جوړوي.
- * د سایکلو پارافینونو د هومولوګ د سلسلې عمومي فورمول C_nH_{2n} یا $(CH_2)_n$ دی چې د سایکلو پارافین مالیکول د هغه له ایزولوګ الکان په نسبت د هایډروجن دوه اتومه لږ لري.
- * د کوچنۍ کړۍ لرونکي سایکلو الکانونه جمعي تعاملونو ته میل لري چې د هغوی کړۍ وازه شي، الکانونه او د هغو مشتقات جوړکړي او د الکینونو خاصیت ښکاره کوي، له 5 څخه تر 7 پورې کاربن لرونکي کړۍ ډېر ثبات لري چې د مشبوع هایډروکاربنونو په شان تعویضي تعاملونه تر سره کوي.
- * سایکلو پنتان په نفتو کې موندل شوی دی او هغه په موټرونو کې د یوې مهمې مادې په توګه د تیلو د کیفیت د لوړولو لپاره ورزیاتوي، همدارنګه نوموړي مرکبونه په بیلا بیلو سنتیزونو په واسطه لاسته راوړي.

د څلورم څپرکي پوښتنې

څلور ځوابه پوښتنې

- 1 - الکانونه هغه مرکبونه دي چې دهغو د کاربن د اتومونو ترمنځ ----- اړیکه شتون لري .
الف - ساده، ب - یوگونې، ج - دوه گونې، د - الف او ب دواړه سم دي.
- 2 - الکانونه دلاندې کوم یو عمومي فورمول لرونکي دي ؟
الف - $C_n H_{2n}$ ، ب - $C_n H_{2n+2}$ ، ج - $C_n H_{2n-2}$ ، د - $C_n H_{2n+1}$.
- 3 - د $CH_3 - \overset{1}{\underset{CH_3}{|}}CH - \overset{2}{\underset{CH_3}{|}}CH - \overset{3}{CH_2} - \overset{4}{CH_2} - \overset{5}{CH_3}$ د مرکب نوم عبارت دي له :
الف - 2,3 - di methyl pen tan e، ب - 3,3 di methyl pen tan e، ج - 4,3 di methyl pen tan e، د - 1,3 di methyl pen tan e
- 4 - د الکان (Alkane) د *ane* وروستاړی د هغه په اړوند رادیکال کې په کوم وروستاړي بدلون مومي ؟
الف - ene، ب - yne، ج - yl، د - yne
- 5 - له 5 څخه تر 16 پورې کاربنو لرونکي الکانونه په کوم حالت موندل کېږي ؟
الف - جامد، ب - گاز، ج - مایع، د - پلازما.
- 6 - د الکانونو کیمیايي فعالیت لږ دی؛ له دې کبله هغوی د ----- په نوم یا دوي .
الف - پارافین، ب - Paraffins، ج - الف وب دواړه، د - هیڅ یو.
- 7 - د یو کیلو ګرام میتان له سوځولو څخه ----- انرژي ازاد دیږي .
الف - 55625 کیلو ژول، ب - 57000 ژول، ج - 57000 میگا ژول، د - هیڅ یو.
- 8 - د سایکلو الکانونو په نوم ایښودنه کې د ----- مختاړي (prefix) په زیاتولو ترسره کیږي .
الف - سایکلو، ب - Cyclo، ج - الکیل، د - الف او ب دواړه سم دي .
- 9 - روسي عالم د (-----) په نوم سایکلو الکانونه د لومړي ځل لپاره په نفتو کې کشف کړه .
الف - مارکوف نیکوف، ب - Markovnikov، ج - الف او ب دواړه، د - زایسف
- 10 - په ټولو الکانونو کې د C-C د اړیکې د محور په شاوخوا آزادانه حرکت شته، ترڅو د هغو د اړیکو زاویه له ----- څخه لوړه شي .
الف - 109 درجې او 28 دقیقې، ب - 90 درجې او 30 دقیقې، ج - 60 درجې، د - 65 درجې.

تشریحي پوښتنې

- 1 - لاندې مطلبونه تعریف او روښانه کړئ.
 - الف - پارافین، ب - هومولوگ، ج - ایزومیر، د - ایزولوگ.
- 2 - د مشبوع هایدروکاربنونو په سلسله کې د کاربن د اټومونو د شمېرو په زیاتولو کوم بدلونونه د هغوی په فزیکي خواصو کې لیدل کېږي؟
- 3 - له لاندنيو هایدروکاربنونو څخه کوم یې د مشبوع هایدروکاربنونو له ډولونو څخه دي.
 - الف - C_7H_{14} ، ب - $C_{12}H_{26}$ ، ج - $C_{10}H_{20}$ ، د - $C_{24}H_{50}$.
- 4 - په لاندې مرکبونو کې ایزومیري وټاکئ.

$$\begin{array}{c} \text{CH}_3 \\ | \\ \text{CH}_3 - \text{CH} - \text{CH}_3 \\ | \\ \text{CH}_3 \end{array}$$

د

$$\text{CH}_3 - \text{CH}_2 - \text{CH}_2 - \text{CH}_2 - \text{CH}_3$$

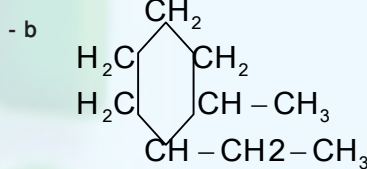
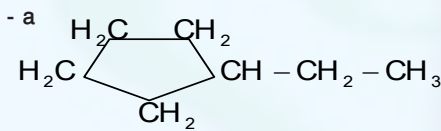
ج

$$\begin{array}{c} \text{CH}_3 \\ | \\ \text{CH}_3 - \text{CH} - \text{CH}_3 \\ | \\ \text{CH}_3 \end{array}$$


ب

$$\begin{array}{c} \text{CH}_3 \\ | \\ \text{CH}_3 - \text{C} - \text{CH}_3 \\ | \\ \text{CH}_3 \end{array}$$

الف
- 5 - د لاندې مرکبونو فورمولونه ولیکئ.
 - الف - 1,2-dichloropropane، ب - 1-Ethyl-2-Iso propyl butane
 - ج - 1,3-di ethyl nonane، د - 1-bromo3-chlorodecane
- 6 - د یو مشبوع هایدروکاربن کثافت 2.59 g/L دی، د نوموړې مادې مالیکولي کتله د هغه له فورمول سره پیدا کړئ.
- 7 - د میتایل سایکلو پروپان فورمول ولیکئ او د هغه دکاربونونو ډولونه وټاکئ او نوم ایښودنه یې هم وکړئ.
- 8 - دلاندې هایدروکاربنونو نوم ولیکئ.



- 9 - د لاندې سایکلوالکانونو فضايي جوړښت ولیکئ
 - الف - Cis-1,2-dichlorocyclopropane، ب - Trans-1-ethyl-2-isopropylcyclobutane
 - ج - Cis-1,3-diethylcyclobutane، د - Trans-1-bromo3-chlorocyclopentane



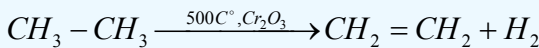
پنځم څپرکی الکینونه او الکاینونه

د هایډروکاربنونو له مهمو ټولګو څخه، یو هم غیر مشبوع مرکبونه یعنې د الکینونو او الکاینونو ډلې دي چې زموږ په ورځني ژوند کې بنسټیز رول لوبوي، دا مرکبونه په خپلو مالیکولونو کې دوه ګونې او درې ګونې اړیکې لري، داسې چې په الکینونو کې د کاربن د دوو اتومونو ترمنځ دوه ګونې او په الکاینونو کې د کاربن د دوو اتومونو ترمنځ درې ګونې اړیکې شتون لري.

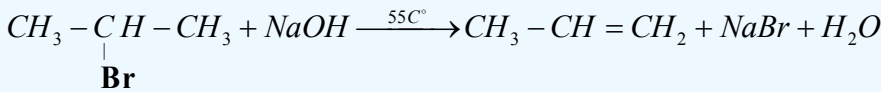
په دې څپرکي کې د دې مرکبونو په اړه معلومات وړاندې کېږي . د دې څپرکي په لوستلو به زده کړئ چې الکینونه او الکاینونه څه ډول مرکبونه دي؟ د اړیکو څرنگوالی په الکینونو او الکاینونو کې په څه ډول دي؟ د ژوند په کومو برخو کې په کارېږي؟ څرنگه او له کومو سرچینو څخه کیدای شي په لاس راوړل شي؟ په طبیعت کې د هغوی خپریدل په څه ډول دي؟ د دې څپرکي په لوستلو به پورتنيو پوښتنو او هغوی ته ورته نورو پوښتنو ته ځوابونه ومومئ:

5-1: الکینونه

د الکین د کورنۍ د غیر مشبوع هایډروکاربنونو ډېر ساده مرکب ایتلین دی چې د هغه فورمول $CH_2 = CH_2$ دی، د ایتلین په مالیکول کې د کاربن د دوو اتومونو ترمنځ دوه گونې اشتراکي اړیکه شته ده چې د هغه یوه اړیکه سگما (σ) او بله یې د پای π اړیکه ده، (د ایتلین د اړیکو ځانگړتیاوې) زاويي او د اړیکو اوږدوالی، د الکینونو د جوړښت په مبحث کې وړاندې شوي دي د الکین د مرکبونو د هومولوگ سلسله د یو میتلین گروپ $(-CH_2-)$ په کچه یوله بل څخه توپیر لري چې د هغوی عمومي فورمول $C_n H_{2n}$ دی، په دې فورمول کې n د 2 او له هغه څخه پورته تام قیمتونه ځانته غوره کولی شي. د ایتلین دوه گونې اړیکه په یوه سطح کې واقع ده او په پایله کې د $C - C$ په شاوخوا په ازاده توگه تاویدل په کې شوني نه دي. د هغوی دویم مرکب propene $(CH_2 = CH - CH_3)$ دی، د دوه گونې اړیکې شتون د الکینونو د مرکبونو فعالیت د الکانونو په نسبت ډېر کړی دی، له دې کبله د هغوی شتون په نفتي موادو کې ډیر لږ دی. الکینونه په پتروشیمي کې له ځانگړي اهمیت څخه برخمن دي. د نفتي محصولاتو (د الکانونو) د کیمیايي بدلونونو په لومړي پړاو کې الکینونه تر لاسه کیدای شي؛ داسې چې له الکانونو څخه دوه هایډروجنونه جلا کيږي او د هغوی ایزولوگ الکین لاسته راځي:



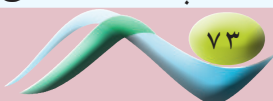
که چیرې الکیل برومایدونو او القلیو ته تر $55^\circ C$ تودوخه ورکړل شي، الکینونه لاس ته راځي:



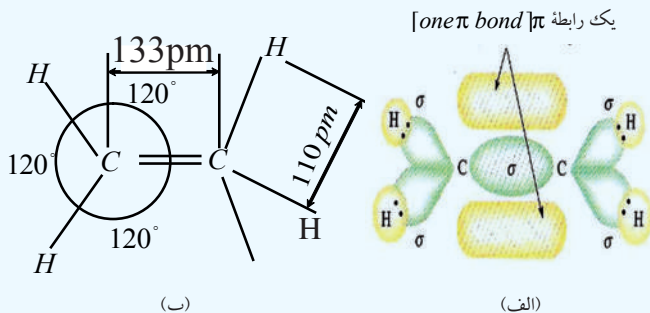
الکینونه د اولفینونو (Olefines) په نامه چې د تېلو جوړوونکو معنا ورکوي، هم یا ډیري؛ ځکه د تېلو په مرکبونو کې هم شته دي.

5-1-1: د الکینونو جوړښت

د الکینونو یوه ساده ځانگړتیا دا ده چې د هغوی په مالیکولي جوړښت کې د کاربن د دوو اتومونو ترمنځ دوه گونې اړیکې شتون لري، دوه گونې اړیکه د دوو جوړوونکو الکترونونو په مرسته (له څلورو الکترونونو څخه) جوړېږي، د کاربن اتومونه چې په خپل منځ کې دوه گونې اړیکه لري، د sp^2 هایبرید یزیشن حالت لري او دنوموړو کاربنونو هراتوم درې سگما اړیکې چې په یوه سطحه کې شتون لري او 120° درجه زاویه یې جوړه کړې ده، تړلي دي، د دې دوو اتومونو د کاربنونو یو، یو نه هایبرید شوي د p اوربیتالونه چې د سگما په سطحه په عمودي بڼه شتون لري او یوله بل سره موازي دي، په پایله کې یو له بل سره څنګ پر څنګ ننوتنه تر سره کوي او د پای (π) اړیکه (دویمه اړیکه) جوړوي. د π د اړیکو جوړوونکو الکترونونو ته د الکترونونه (π - electrons) وایي. π الکتروني ورېځ د سگما اړیکې په پاسني اولاندیني برخو کې ځای لري او په دې بنسټ دوو جوړو الکترونونو جوړه ییزه اړیکه جوړه کړې ده. جوړه ییزه اړیکه عبارت له سگما (σ) او د پای (π) اړیکې ($\sigma + \pi$ - bond) مجموعه ده. د p نه هایبرید شوي اوربیتالونه د الکتروني ورېځو څنګ پر څنګ ننوتنه چې د π اړیکه منځ



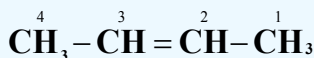
ته راوړي، د کاربن اتومونه یو له بل سره نژدې او د هغوی ترمنځ واټن لنډوي؛ یعنې $C = C$ د دوه گونې اړیکې اوږدوالی 133pm ته نژدې کیږي، په داسې حال کې چې $C - C$ ساده اړیکې اوږدوالی د 154pm دی. (1 - 5) شکل ته وگورئ:



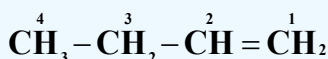
(1 - 5) شکل: په ایتلین کې د اړیکې ښودل، د هغې زاویه او د اړیکو اوږدوالی

2-1-5: د الکینونو نوم ایښودنه

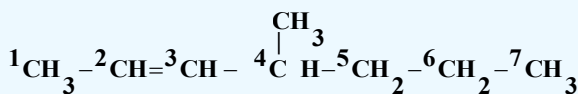
د الکینونو په نوم ایښودنه کې د ene وروستاړی د هغوی د ایزولوگو الکانونو د ane وروستاړي پر ځای ور زیاتېږي. د الکینونو په مرکبونو کې هم ډېر اوږد زنځیر ټاکل کیږي، دلته هم د هغو کاربنونو نمبر چې په هغوی باندې پاتې شوني او یا ښاخونه شته دي، 1، 2، 3 اوداسې نور رقمونه لیکل کیږي او له علامې څخه وروسته بیا د پاتې شوني نوم د هغوی د نوم د لومړي توري پر بنسټ کوم چې د انگلیسي الفبا په تورو کې مخکې وي، لیکل کیږي وروسته د اوږد زنځیر نوم له ene وروستاړي سره لیکل کیږي. د کاربن داتومونو نمبر وهل د بنسټیزو زنځیرو له هغې خوا څخه پیل کیږي چې جوړه یزه اړیکه هم په هغه کې شتون ولري؛ خود اوږد زنځیر نمبر وهل له هغه خوا څخه پیل کیږي کوم چې جوړه یزه اړیکه هغه سر ته نژدې وي، د بیلگې په ډول:



2-butene



1-butene



4-methyl-2-heptene

که چېرې خودوه گونې اړیکې په دې مرکبونو کې شتون ولري، د ene له وروستاړي څخه وړاندې د Tri، Di او نور رقمونه لیکل کیږي چې دا رقمونه د جوړه ییزو اړیکو شمېر ښيي؛ د بیلگې په ډول:

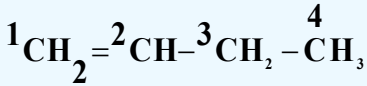


2,4-hexadiene

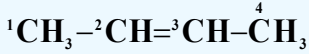
5-1-3: د الکینونو ایزومیری

الف: د جوړښت ایزومیری او د دوه گونو اړیکو ځای

لاندې مرکبونه په پام کې ونیسئ:



1-butene

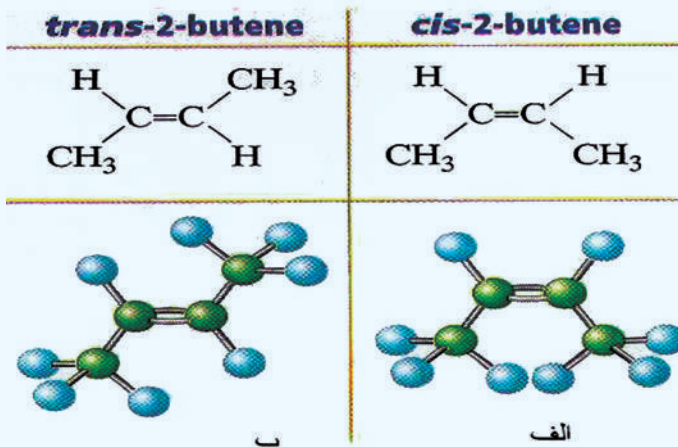


2-butene

د پورتنیو دواړو مرکبونو ټولیز فورمول C_4H_8 دی؛ خو د دې د دواړو مرکبونو د مالیکولونو د جوړښت فورمولونه یو له بل څخه توپیر لري، د دوه گونې اړیکې ځای په دې مرکبونو کې بدلون موندلی دی، دا ایزومیری د جوړونکې ایزومیری په نوم د دوه گونې اړیکې د ځای له کبله یاد وي.

ب - فضايي ایزومیری (Stereo isomeris)

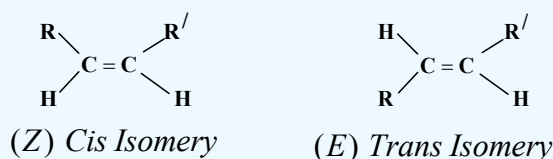
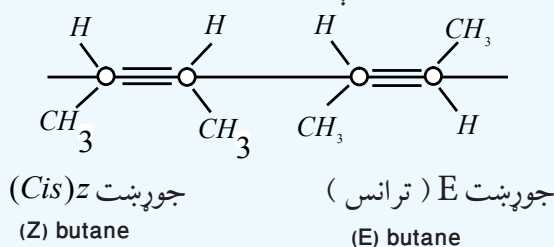
Stereo یوناني کلمه ده چې د جامد او کلکو جسمونو په معنا ده، پردې بنسټ دا ایزومیری د هغو مرکبونو پورې اړه لري چې کلک فضايي جوړښت ولري او د هغوی هندسي بڼې په فضا کې بدلون ونه کړای شي؛ بیلگې په ډول: د 2-Butene مرکب په پام کې نیسو او د لرگینو مودلونو په واسطه د هغه شونې بڼې جوړوو، دا مرکب له (5 - 2) شکل سره سم د دوو ایزومیریو حالتونه لري؛ څرنگه چې لیدل کېږي د 2-Butene د مرکب په مالیکول د میتایل د گروپونو ځای پر ځای کیدل بشپړه توپیر لري چې په عادي تودوخه کې د مالیکولونو حرکتی انرژي د هغه د میتایل د رادیکالونو د تاویدولو او بدلون توان نه لري؛ ځکه په دې مرکب کې د π د اړیکې انرژي د دې رادیکالونو د تاویدولو او بدلیدلو خنډ گرځي، د خنډ د انرژي له منځه وړلو لپاره باید فعالوونکې انرژي (activation Energy) شتون ولري، پردې بنسټ په عادي تودوخه کې کیدای شي چې دا دوه ډوله ایزومیری یو له بل څخه جلا کړای شي؛ ځکه د هغوی د اېښېدو ټکي یو له بل څخه توپیر لري.



(5 - 2) - شکل: د 2-بیوتین د مالیکول دوه فضايي ساختمانونه

1 - د Cis او Trans پخوانیو طریقو نوم ایښودنه چې یوازې په دې ځانګړې حالت کې، 2-Butene او د هغه له هندسي شکلونه سره ورته دي، په دې ډول ده چې یو مستقیم خط د کاربن د دوو اتومونو له مرکز څخه د هغوی په دوه ګوني اړیکې باندې رسم کړی، که چیرې د میتایل دواړه ګروپونه د مستقیم خط لاندې په یوه لوري یعنې په یوه مستوي کې ځای ولري، دا جوړښت د Cis په نوم یا ډیري. که چیرې د میتایل یو ګروپ پاس او بل یې د مستقیم خط لاندې وي؛ یعنې په دوه بېلابېلو مستویو کې شتون ولري، د Trans ایزومیري په نوم یا ډیري .

2 - هغه نوې کړنلاره چې د فضايي ایزومیریو د ښودلو په هکله په کار وړل کېږي، نوموړي ایزومیري د Z او E په تورو راښيي، د دې کړنلارې سره سم هغه ایزومیري چې په هغې کې د میتایل دواړه ګروپونه د مستقیم خط په یوه خوا کې ځای ولري، دا رنگه جوړښت ته Z ایزومیري وايي (Z د الماني کليمې Zusammen لومړۍ توري دی چې د یو ځای په معنی ده) هغه ایزومیري چې د میتایل دوه ګروپونه د خط په دوو بېلابېلو لورو؛ یعنې په بېلابېلو سطحو کې ځای ولري، په E ټاکل کېږي. (E د الماني کليمې Entgegen لومړۍ توري دی چې یو بل سره د مخالف معنا لري)؛ د بیلګې په ډول:



4-1-5 : د الکینونو خواص

1-4-1-5 : د الکینونو فزیکي خواص

د الکینونو فزیکي خواص د هغوی له ایزولوګو الکانونو سره ورته والی لري؛ خو د الکینونو د ایشیدو درجه د هغوی د ایزو لوګ الکانونو څخه ډیره ښکته او کثافت یې لوړ دی. د دې مرکبونو درې غړي چې د کاربن اتومونه یې $C_2 - C_4$ وي، د گاز حالت لري، هغه الکینونه چې $C_5 - C_{18}$ کاربن اتومونه لري، د مایع حالت او له C_{18} څخه پورته د موم یا جامد حالت لرونکي دي. د الکینونو د کاربن د سکلیټ او فضايي ایزومیریو جوړښت، دهغوی په فزیکي خواصو اغیزه لري، لاندې جدول وګورئ:

(5 - 1) جدول: د الکینونو فزیکي ځانګړتیاوې

نوم	فورمول	دوېلې کیدو درجه په °C	د اېشېدو درجه په °C	مخصوصه کثافت
Ethylene	$\text{CH}_2 = \text{CH}_2$	-169	-105	0.570
propene 1-	$\text{CH}_2 = \text{CH} - \text{CH}_3$	-185.2	-47.8	0.610
butene- 1	$\text{H}_2 = \text{CH} - \text{CH}_2 - \text{CH}_3$	-130.0	-6.3	0.595
butene- 2	$\text{CH}_3 - \text{CH} = \text{CH} - \text{CH}_3$	cis 138.9	+3.5	0.621
		trans (-105.5)	0.9	0.604
Iosbutene	$\text{CH}_2 = \underset{\text{CH}_3}{\text{C}} - \text{CH}_3$	-140	-6.9	0.594

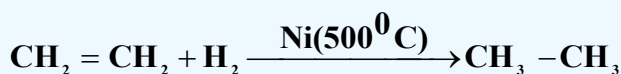
د ټولو اولفینونو مخصوصه کثافت له یو څخه لږ دی او د ځانګړي بوی لرونکی دی، په اوبو کې ښه نه حل کېږي؛ خو په اوبو کې د هغوی حلیدل د هغوی د ایزولوګو الکانونو په نسبت زیات دی.

5-4-1-2: د الکینونو کیمیايي خواص


د الکینونو کیمیايي خواص دوه ګونې اړیکه، د سګما او پای د اړیکو فضايي ځایونه ټاکي، د سګما د اړیکې د الکتروني ورېځې کثافت د هغه خط له پاسه چې د دواړو اتومونو هستې نښلوي، راټول شوي دي او د پای د اړیکې د الکتروني ورېځې کثافت له دې چاپېریال څخه د باندې شتون لري چې د منفي چارج لویه ساحه یې جوړه کړې ده. تحریک د پای د اړیکې بنسټیزه ځانګړتیا ده، چې د دې الکترونونو اړیکه له هستې سره د سګما د الکترونونو د اړیکې په نسبت کمزورې ده؛ نو له دې کبله په اسانۍ سره قطبي کېږي او الکترون خوښوونکو (Electrophilic) ذرو ته د یرغل لارې چارې برابر ږي، له دې امله د پای اړیکه د هترولیتیکې په ښه پری او جمعي تعاملونه تر سره کوي. د سګما او د پای د اړیکې ترمنځ د انرژي توپیر 270kJ/mol دی، د الکینونو ځینی تعاملونه په لاندې ډول دي:

1 - د الکین هایډروجنیشن

که چیرې ایتلین د نیکل د کتلست په شتون کې هایډروجنیشن شي، ایتان لاسته راځي:

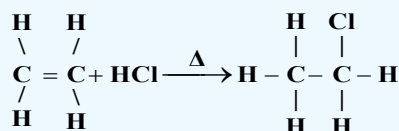
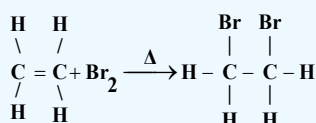
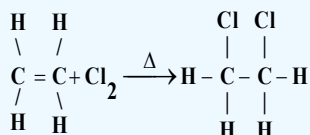


د ایتلین مالیکول په یوه سطحه کې شتون لري؛ یعنې مسطح دی؛ خو د ایتان مالیکول څلور وجهي ښه لري



2- د الكينونو هلو جنيشن

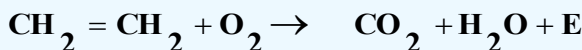
اولفينونه په عادي شرايطو کې هلو جنونه، په ځانگړې توگه كلورين او برومين په ځان پورې نښلوي او د پارافينونو ډای هلو جنيډونه جوړوي؛ د بيلگې په ډول: د ايتلين تعامل له كلورينو، برومينو او هايډروجن كلورايدو سره وگورئ چې تعامل انډو ترميک دی.



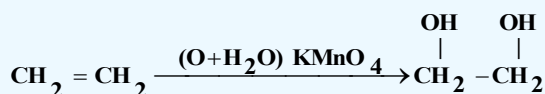
د هلو جنونو تعامل له الكينونو سره د Halogenation په نامه او لاسته راغلي مركبونه يې د الكايل هلايدونو په نوم ياديږي. د برومين د اوبو بې رنگه كول، د دوه گونې اړيکې د توصيفي تعاملونو له ډلې څخه دي. د دې موخې لپاره د برومين او کاربن تترا كلورايد يا كلورو فارم محلول جوړوي او گټه ترې اخيستل کيږي. د دې تعامل پر بنسټ د مايع تيلو د مشبوعيت درجه ټاکل کيږي.

3- د الكينونو اکسیديشن

الكينونه په اسانۍ سره د بيلا بيلو اكسيدانتونو تر اغيزې لاندې راځي، د همدې ځانگړتياوو په واسطه له پارافينونو او سايكلو پارافينونو څخه توپير يږي. د شرايطو په پام کې نيولو سره د الكينونو له اكسيديشن څخه بيلا بيل مركبونه لاسته راځي:

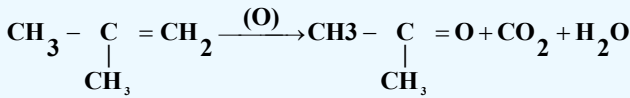
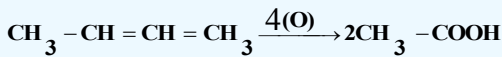
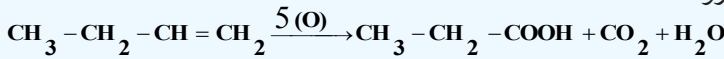


د الكينونو د سوزيدو په پايله کې کاربن ډاي اكسايد، اوبه او انرژي لاسته راځي. په عادي شرايطو کې د اكسيديشن عمليه د دوه گونې اړيکې په ځای کې ترسره کيږي، که چيرې الكينونه په پوره پاملرنې سره د پوتاشيم پرمنگناټو د القليو محلول په واسطه اكسيديشن شي، دوه قيمته الكولونه لاسته راځي:



د قوي اكسيد انتونو (د پوتاشيم پر منگنيټ تيزابي محلول او د کروميک اسيد محلول) د عمل په پايله کې د الكينونو دوه گونې اړيکه پرې او دهايډروکاربنونو اكسيجن لرونکي مركبونه لاسته راځي، د بيلگې په ډول:

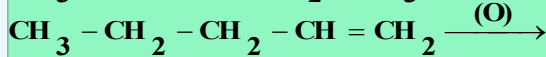
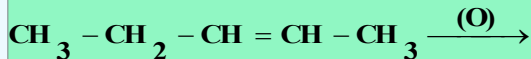
بیوتین د درې ایزومیزی اکسیدیشن گورو:



فعالیت



د قوي اکسید انتونوپه واسطه په پوره پاملرنې سره د لاندې الکینونو د اکسیدیشن د تعامل محصول د کیمیايي معادلوپه واسطه روښانه کړئ:



4 - د الکینونو پولی میرایزیشن

الکینونه یو له بل سره جمعي تعاملونه تر سره کوي او په پایله کې پولی میرونه جوړوي؛ د بیلگې په ډول: د ایتلین یو مالیکول د هغه بل مالیکول سره اړیکه ټینګوي او همدا مالیکولونه د هغوی له نورو مالیکولونو سره او همدا رنگه د ایتلین څو مالیکولونه یو له بل سره جمعي تعامل ترسره او د ایتلین پولی میر جوړوي. لومړنی الکین د مونومیر (Monomer) په نوم یا ډیري، (Monomer یوناني کلمه ده چې د یوې برخې مفهوم لري). د مونومیرونو له اړیکو څخه جوړشوی زنځیر د پولی میر (polymer) په نوم یا ډیري چې د هغوی ډیر ساده د ایتلین پولی میر دی، د هغه فورمول $-(\text{CH}_2 - \text{CH}_2)_n -$ څخه دی چې اوږده زنځیرونه جوړوي. د پلاستیک جوړونې په صنعت کې پولی میرونه د مونو میرونو له یوځای کولوچي عمومي فورمول یې $-(\text{CHX} - \text{CH}_2) -$ دی، لاسته راوړي، په دې مونومیر کې X د هلو جنونو ښکارندوی دی او په دې مرکبونو کې کیدای شي چې د X پرځای د CH_3 - گروپ وي، که چېرې X کلورین وي؛ نو د پولی میر عمومي فورمول $-(\text{CHCl} - \text{CH}_2) -$ دی چې Polyvinyl Chloride) P V (په نوم یادېږي، د $-(\text{CH}(\text{CH}_3) - \text{CH}_2)_n -$ فورمول د پولی پروپیلین په نوم یا ډیري


5-1-5: د الکینونو لاسته راوړنه

الکینونه د پارافینونو په نسبت په طبیعت کې لږ موندل کېږي، کوچني اولفینونه په لږه اندازه د نفتي گازونو په مخلوط کې موندل کېږي او لوی اولفینونه په نفتوکې موندل کېږي.

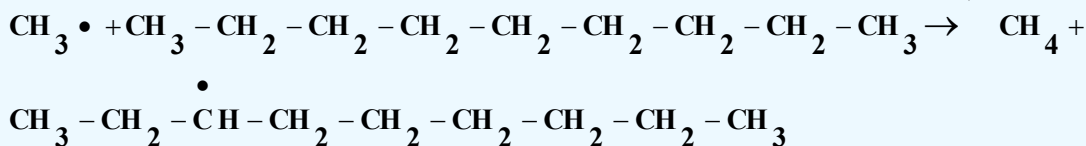
۱- د نفتو انشقاق: که چېرې نفت ټوټه او پیرولیز شي، الکینونه لاسته راځي، د دې تعامل میخانیکیت داسې دی چې لوړو الکانونو ته له 400 - 700 سانتي گراد پورې تودوخه ورکوي؛ په پایله کې د الکانونو را ډیکالونه لاسته راځي او د تعامل په بهیر کې د الکینونو را ډیکالونه هم تر لاسه کېږي:



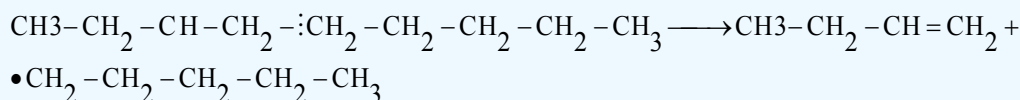
($\text{CH}_3^\bullet, \text{RCH}_2^\bullet$) را ډیکالونه چې په لومړي پړاو کې د C-C د اړیکې د پرې کیدو په پایله کې لاسته راځي، د



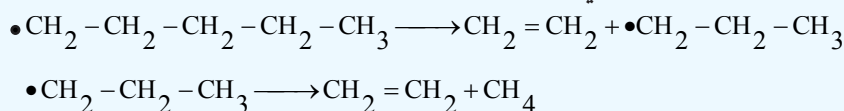
لورې پارافینونو مالیکولونه د یرغل لاندې نیسي د دریم او یا دویم کاربن هایدروجن چې د زنځیر د وروستي او پیل څخه لرې وي، له زنځیر څخه جلا کوي:



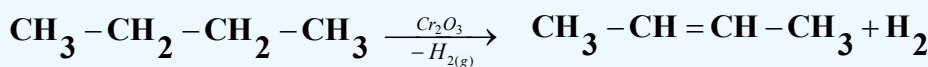
وروسته بیا د کاربن - کاربن اړیکه د طاقه الکترون لرونکي کاربن د اټوم ترڅنګ چې دهغه په څنګ کې شته، پرې کیږي او په پایله کې کوچني الکانونه او الکینونه جوړیږي:



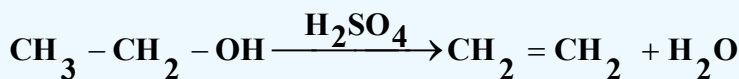
په همدې توګه د اړیکې پرې کیدل د (α, β) په ځای کې څو وارې ترسره کیږي او په زیاته کچه اولفینونه او د هغوی له ډلې څخه ایتلین لاس ته راځي:



۲- اولفینونو د لاسته راوړلو مهمه لاره د الکانونو د دې هایدروجنیشن لاره ده، په دې عملیه کې د کرومیم له اکساید څخه د کتلست په توګه ګټه اخیستل کیږي او نوموړی تعامل له 450°C څخه تر 460°C پورې تودوخې کې ترسره کیږي:



۳- د الکانونو دی هایدروجنیشن: که چیرې د ایتایل الکول ته د ګوګرو تیزابو او یا فاسفوریک اسید په شتون کې تودوخه ورکړل شي، په پایله کې ایتلین او اوبه لاسته راځي:



فعالیت



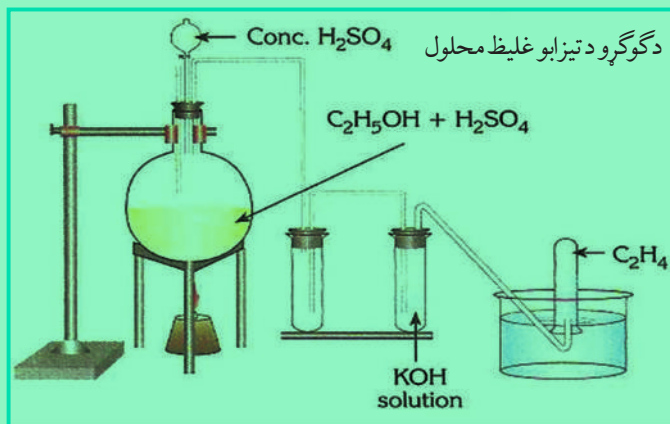
د ایتلین لاسته راوړنه

د اړتیا وړ لوازم او مواد: ایتایل الکول، د ګوګرو تیزاب، بالون، ستیند د نیوونکي (گیرا) سره، د تودوخې سرچینه، تست تیوبونه، کاږه نلونه، درې ستنې لرونکې (سه پایه) او له اوبو څخه ډک تشت.

ګډناره: د (3-5) شکل سره سم دستگاه تیاره کړئ، یو مول ایتایل الکول له ګوګرو تیزابو سره مخلوط کړئ او په یوه بالون کې یې واچوئ، وروسته له دې له 150°C څخه تر 170°C پورې تودوخه ورکړئ، خپلې لیدنې ولیکئ او لاندو پوښتنو ته ځواب ورکړئ:

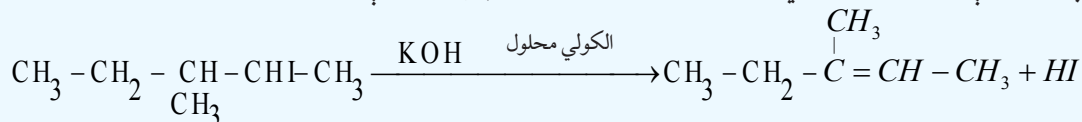
1 - د ګوګرو تیزاب په دې تعامل کې کوم رول لوبوي؟

2 - د تعامل میخانیکیت یې د کیمیايي معادلې پربنسټ روښانه کړئ .



(3 - 5) شکل: له ایتایل الکولو څخه د ایتلین د لاس ته راوړلو د ستګه

۴- د الکایل هلايدونو د دې هايډرو هلو جنيشن له تعامل څخه هم د هغوی ايزولوګ الکينونه لاسته راځي، په دې تعامل کې د قلیو له الکولي محلول څخه ګټه اخېستل کېږي؛ د بیلګې په ډول:



2-1-5: ځينې مهم الکينونه

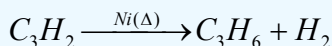
1 - ایتلین

ایتلین د گاز حالت لري، په اوبو کې په لږه او په الکولو کې په زیاته کچه حل کېږي. څرنګه چې ایتلین له میتان څخه یو اتوم کاربن زیات لري؛ نو ځکه په روښانه لمبه سوځي. د ایتلین او د هوا مخلوط چاودیدونکې ځانګړتیا لري؛ نو باید له هغه سره په زیاته پاملرنه کار وشي.

ایتلین د عضوي مرکبونو له وچ تقطیر څخه لاسته راوړل کېږي او تل روښنایي لرونکي گازونه ایتلین گاز هم لري. ایتلین د نفتو په گازونو کې موندل کېږي.

2 - پروپیلین (C₃H₆)

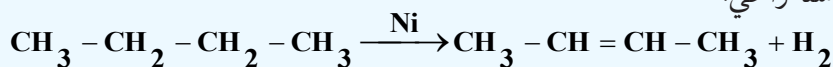
پروپیلین د گاز په حالت پیدا کېږي او په صنعت کې هغه د کرکنګ په لاره د نفتو د گازونو او د پروپان له دې هايډریشن څخه لاسته راځي:



۳ - بیوتلین (C₄H₆)

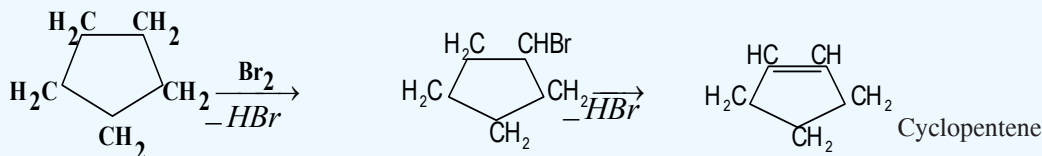
بیوتلین د دریو ایزومیرونو لرونکی دی چې عبارت دي له 1-butene، 2-butene او Isobutene. مرکب او د هغه ایزومیرونه د گاز په حالت موندل کېږي چې د الکانونو له فرکشن څخه حاصلېږي، بیوتان د کرکنګ فرکشنی تعامل پربنسټ ترلاسه کېږي، د بیوتان له دې هايډرو جنيشن څخه 2- بیوتین، یا ډای میتیل، وینایل

(Di methylvinyl) لاسته راځي.



4 - سایکلوپنتین C_5H_8 (Cyclopentene)

په عادي شرایطو کې سایکلوپنتین مایع حالت لري او په 44°C کې په ایشیدو راځي، دا مرکب کیدای شي چې له سایکلوپنتان څخه په لاندې توګه په لاس راشي:



ځانونه وازمویئ؟

- له 9.2 ګرامو ایتانول څخه، ایتلین تر لاسه شوی دی :
- الف - څو موله ایتلین لاسته راغلی دی؟
- ب - څولتر هایدروجن ته د ایتلین د هایدروجنیشن لپاره اړتیا ده؟

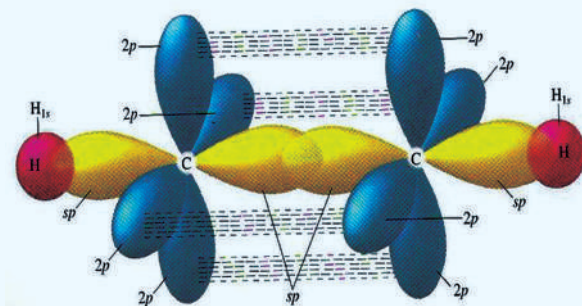
2-5: الکاینونه (Alkynes)

الکاینونه غیر مشبوع هایدروکاربنونه دي چې د هغوی د کاربن د دوو اتومونو ترمنځ درې ګونې اشتراکي اړیکه شته. د الکاینونو لومړی مرکب استلین دی؛ نو له دې کبله هغوی د استلین د کورنۍ په نوم هم یاد شوي دي، د دې هایدروکاربنونو زنځیر هم واز دی او په خپل مالیکول کې یوه یا څو درې ګونې اړیکې لري. که چیرې له الکینونو څخه د هایدروجن دوه اتومه جلا شي، د هغوی اړونده الکاینونه لاسته راځي. الکاینونه چې یوه درې ګونې اړیکه لري، عمومي فورمول یې $\text{C}_n\text{H}_{2n-2}$ دی، په دې فورمول کې کیدای شي $n \geq 2$ وي او ډېر کوچنی مرکب د هغوی استلین دی چې سیستماتیک نوم یې Ethyne دی؛ که چیرې ynes وروستاري د هغو د لاین رقمونو ته چې د کاربن د اتومونو شمېر رانېسي، ورزیات کړای شي، د هغوی اړوند الکاین نوم لاسته راځي.

1-2-5: د الکاینونو جوړښت

په الکاینونو کې بنسټیز لامل د هغوی په مالیکول کې د درې ګونو اړیکو ($\text{C} \equiv \text{C}$) شتون دی. درې ګونې اړیکې په جوړښت کې درې جوړې شریک شوي الکترونونه (شپږ الکتروني اړیکه) برخه لري. د کاربن هغه اتومونه چې درې ګونې اړیکه جوړوي، د sp - هایبریدیزیشن په حالت کې شتون لري، هر یو یې د سګما یوه اړیکه لري چې 180° درجې زاویه یې د اړیکو ترمنځ شته ده، د کاربن د اتومونو د p دوه نه هایبرید شوي اوربیتالونه د sp په اوربیتالونو باندې عمود ولاړ دي چې 90° زاویه یې جوړه کړې ده او د دویم کاربن د اتوم له p اوربیتالونو سره موازي دي، ددې اوربیتالونو هره جوړه څنګ پر څنګ ننوتنه کوي او دوه د پای

(π) اړیکې جوړوي. درې گونې اړیکه د یوې سگما (σ) اړیکې او دوه د پای (π) له اړیکو څخه جوړه شوې ده، د (4-5) شکل د اړیکو ځایونه د استلین په مالیکول کې ښیي:



شکل: په استلین کې د اړیکو ځای او څرنگوالی (4 - 5)

2-2-5: د الکاینونو ایزومیرونه

د الکاینونو ایزومیري د کاربنی زنځیر په جوړښت او په زنځیر کې د درې گونې اړیکې ځای پورې اړه لري چې د الکینونو له ایزومیریو سره لږ څه ورته دی؛ خو د سیس او د ترانس ایزومیري نه لري؛ ځکه د سگما دوه اړیکې چې د کاربن د دوو اتومونو په واسطه جوړې شوي دي، د sp هایبرید په حالت کې له 180° درجې زاویې سره په یوه نیغ خط کې ځای لري، پر دې بنسټ د استلین مالیکول خطي دی. استلین او پروپاین ایزومیري نه لري؛ خو د بیوتاین ایزومیري په لاندې ډول دي:



1 - butyne

2 - butyne


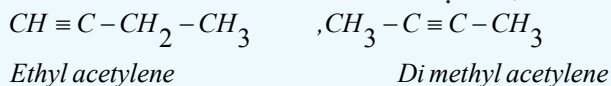
فعالیت



د C_5H_8 , C_6H_{10} , C_7H_{12} جمعې فورمول لرونکو مرکبونو د جوړښتي ایزومیریو او د درې گونې اړیکې ایزومیري ولیکئ.


2-2-5: د الکاینونو نوم ایښودنه

د الکاینونو د نوم ایښودلو کړنلاره د الکینونو په شان ده، په اشتقاقی (Rational) نوم ایښودنه کې د الکاین گروپ د استلین مشتق ګڼل شوی دی چې د هغوی دا لاندې بیلګې مطلب روښانه کوي:



Methyl Propyl acetylene

Methyl isopropyl acetylene




فعالیت



د هغه مرکب ایزومیری ولیکئ چې د C_8H_{14} جمعي فورمول لرونکي دي او په اشتقاقی طریقه یې نوم ایښودنه وکړئ.

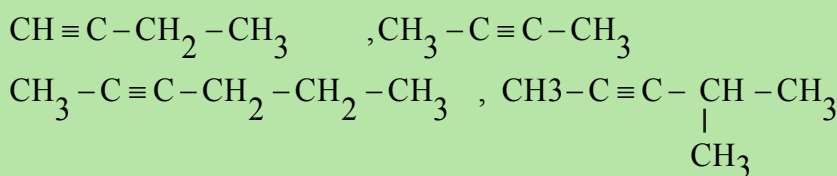
د (IUPAC) په لاره د الکانونو نوم ایښودل د الکانونو په شان، داسې دي: چې د درې گونې اړیکې ځای د کاربن په نمبرونو سره ټاکل کیږي. د بنسټیز زنځیر نمبر وهل د زنځیر له هغه لوري څخه ترسره کېږي، کوم چې درې گونې اړیکه ورته نژدې وي؛ د بیلگې په ډول:



فعالیت



الف - د لاندې فورمولونو لرونکي مرکبونو نومونه د (IUPAC) په سیستم ولیکئ:



ب - د لاندې مرکبونو مشرح فورمولونه ولیکئ.

a. 4,4 - dimethyl 1 - pentyne b. 4 - methyl 2 - pentyne

c. 3-Methyl-2-hexene d. 3,3,3-trifluoro -1- butyne

4-2-5 د الکانونو فزیکي خواص

د الکانونو فزیکي خواص د الکانونو خواص ته ورته دي، هغه الکانونه چې له دوو څخه تر څلورو د کاربنونو اتومونه لري، د گاز حالت لري. له پنځو څخه تر شپاړسو د کاربن اتومونو لرونکي د مایع حالت او له 16 څخه پورته د جامد حالت لري. ایټلین په 103°C - تودوخه کې په ایشیدو راځي خو استلین په 83.5°C - کې په ایشیدو راځي.


په اوبو کې د کوچنیو الکانونو د حل کیدلو وړتیا د هغوی د ایزولوگ الکانونو او الکانونو څخه زیاته ده، خو سره له دې هم په اوبو کې لږ حل کیږي. (5 - 2) جدول د ځینو الکانونو فزیکي خواص ښیي.

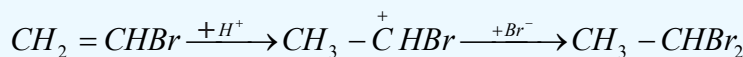
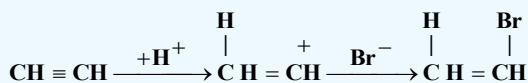
(5 - 2) جدول: ځينې الكاينونه او د هغوي فزيکي ځانگړتياوې.

نوم	د کاربنونو شمېر	جوړښتيز فورمول	د ویلي کېدو درجه	د اېشېدو درجه	کثافت g/L
Acetylene	2	$\text{CH} \equiv \text{CH}$	-80.8°C	-75°C	
Propyne	3	$\text{CH} \equiv \text{CCH}_3$	-103°C	-23°C	
1-butyne	4	$\text{CH} \equiv \text{CCH}_2\text{CH}_3$	-125.7°C	8°C	
2-butyne	4	$\text{CH}_3-\text{C} \equiv \text{C}-\text{CH}_3$	-32.3°C	27.0°C	0.691
1-pentyne	5	$\text{CH} \equiv \text{CCH}_2\text{CH}_2\text{CH}_3$	-106°C	40°C	0.69
2-pentyne	5	$\text{CH}_3\text{C} \equiv \text{CCH}_2\text{CH}_3$	-109°C	56°C	711.0
1-hexyne	6	$\text{CH} \equiv \text{CCH}_2\text{CH}_2\text{CH}_2\text{CH}_3$	-132°C	71°C	716.0
2-hexyne	6	$\text{CH}_3\text{C} \equiv \text{CCH}_2\text{CH}_2\text{CH}_3$	-89°C	84°C	0.73
3-hexyne	6	$\text{CH}_3\text{CH}_2\text{C} \equiv \text{CCH}_2\text{CH}_3$	-101°C	84°C	0.723
1-heptyne	7	$\text{CH} \equiv \text{C}(\text{CH}_2)_4\text{CH}_3$	-81°C	100°C	0.738
1-octyne	8	$\text{CH} \equiv \text{C}(\text{CH}_2)_5\text{CH}_3$	-79°C	126°C	0.747
1-nonyne	9	$\text{CH} \equiv \text{C}(\text{CH}_2)_6\text{CH}_3$	-50°C	151°C	0.758
1-decyne	10	$\text{CH} \equiv \text{C}(\text{CH}_2)_7\text{CH}_3$	-44°C	174°C	0.767

5-2-5: د الكاينونو کيميايي خواص

د الكاينونو کيميايي خواص د درې گونې اړيکې په ځانگړتيا او د کاربن د اتومونو د sp هابرېد له ځانگړتياوې سره اړيکه لري. د نه مشبوع هايډرو کاربنونو د تعاملونو ځانگړتيا د هغوی له ډلې څخه د الكاينونو ځانگړتيا دا ده چې جمعي تعاملونه تر سره کوي؛ خو د الكاينونو تعاملونه په دوو پړاونو کې ترسره کېږي. په لومړي پړاو کې جمعي تعامل په درې گونې اړيکه کې ترسره کېږي چې اولفين او دهغه مشتقات لاسته راځي، په دويم پړاو کې اولفينونه او د هغوی جوړ شوي مشتقات په الکانونو او د هغوی په مشتقاتو بدلون مومي. له هايډروجن برومايد سره د استلين د تعامل ميخانيکيت په لاندې ډول مطالعه کوو:



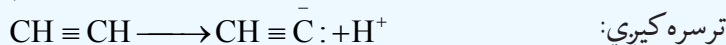


درې گونې اړیکه د دوه گونې اړیکې په نسبت د تودوخې په مقابل کې کلکه ده، دا مطلب د استلین لاسته راوړنه د میتان او دهغه له هومولوگو څخه د تودوخې ($1200^\circ\text{C} - 1500^\circ\text{C}$) د انشقاق په واسطه پېرېنه روښانه کېږي، د S د اوریتال د برخې زیاتوالي د اوریتالونو د هایبرید په حالتونو کې د کاربن د اتومونو برېښنايي منفي خاصیت زیاتېږي، د کاربن او هایدرجن ترمنځ اړیکه ډیره قطبي کېږي:

(3 - 5) جدول: د کاربن د هایبرید ډول او د هغه برېښنايي منفیت

هایبریدیزیشن	په هایبرید اوریتالونو کې د S د اوریتال برخه	برېښنايي منفیت EN
sp^3	$\frac{1}{4}$	2.5
sp^2	$\frac{1}{3}$	2.62
sp	$\frac{1}{2}$	2.75

د استلین د تیزابي خاصیت لامل هم په مالیکول کې د C-H اړیکې په څرگنده قطبیت پورې اړه لري. د اړیکې هومولیتیکي پرې کیدل او د رادیکال جوړیدل ستونزمن دی؛ خود اړیکې هترولیتیکي پرې کیدل په آسانی سره



ترسره کېږي:

د الکاینونو ځنې تعاملونه لاندې مطالعه کوو:

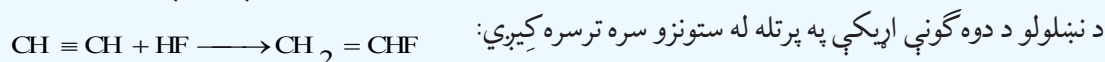
1- : جمعې تعاملونه

الف - د هلو جنونو نېټل: د هلو جنونو نېټنه په الکاینونو کې، د اولفینونو په نسبت ستونزمنه ده او ورو، ورو ترسره کېږي. د برومین د اوبو د رنګ له منځه تلل د څو گونې اړیکې توصیفي تعامل روښانه کوي.



1,2 - di bromo ethene

ب - په الکاینونو باندې د هایدرجن هالایدونو نېټل: هایدرجن هالایدونه د درې گونې اړیکې د پاسه د هغوي

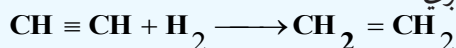


Vinyl fluoride

(Fluoro ethene)

2- : د الکاینونو هایدرجنیشن

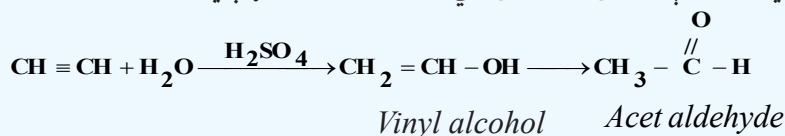
د الکاینونو هایدرجنیشن د الکینونو په نسبت ورو، ورو ترسره کېږي:



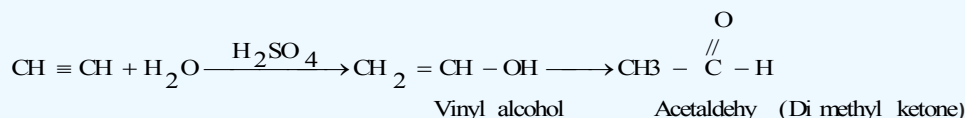
Ethene

3- : د الکاینونو هایدریشن

د الکاینونو هایدریشن د الکینونو په نسبت په اسانۍ تر سره کیږي؛ خو د کتلتستونو؛ لکه د ګوګرو تیزاب او د سیمابو دوه ولانسه مالګې شتون اړین دی. په لومړي پړاو کې بې ثباته مرکب جوړیږي؛ ځکه د هایډروکسیل د ګروپ شتون په هغه کاربن کې چې دوه ګونې اړیکه ولري، شونې نه دي؛ نو له دې کبله د هغه بڼه بدلون مومي؛ یعنې ایزومیرایزیشن یې ترسره کیږي او الډیهایدونه جوړیږي، که چیرې استلین هایدریشن شي، اسیت الډیهاید جوړیږي:

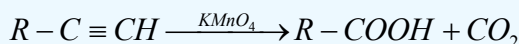


د پورتنۍ تعامل پربنسټ په صنعت کې اسیت الډیهاید لاسته راوړي .
د هایدریشن په پایله کې د استلین له هومولوګونو څخه د هغه ایزولوګ کیتونونه جوړیږي:

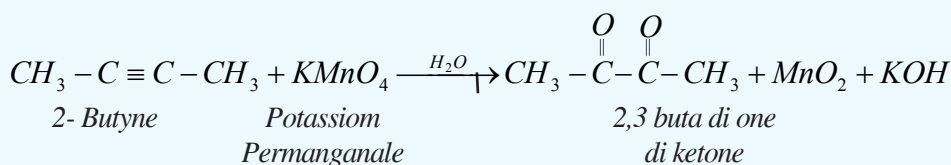


4- : د الکاینونو اکسیدیشن

الکاینونه په اسانۍ سره اکسیدي کیږي او د اکسیدیشن عملیه د زنځیر د درې ګونې اړیکې له برخې څخه په پرې کیدو سره یو ځای ترسره کیږي:



الکاینونه د پوتاشیم پرمنگنات او بلن محلول بې رنگه کوي چې له دې تعامل څخه د درې ګونې اړیکې د توصیفې پیژندنې لپاره کیدای شي ګټه واخېستل شي. لاندې معادله پورتنۍ مطلب روښانه کوي:


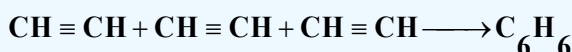


5- : د الکاینونو پولیمیرایزیشن

الکاینونه کولی شي چې د کتلتستونو په شتون کې یو له بل سره تعامل وکړي او د شرایطو په پام کې نیولو سره بېلابېل مرکبونه جوړ کړي:

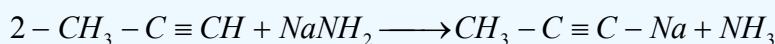
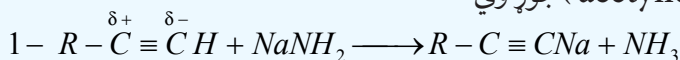


که چیرې استلین د تودوخې او سکرو په شتون کې ترای میرایزیشن شي، بنزین لاسته راځي:



6- : د الکاینونو تعویضي تعاملونه

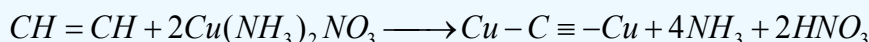
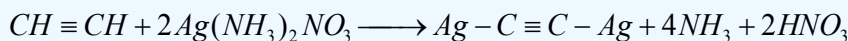
د هایدروجن اتومونه د استلین په مالیکول او د هغه مونو الکایل ($\text{CH} \equiv \text{C} - \text{R}$) په مشتقاتو کې د فلزونو په واسطه سره د بې ځایه کیدو قدرت لري. د استلین او د هغه د مونو الکایل مشتقاتو ($\text{CH} \equiv \text{C} - \text{R}$) د هایدروجن اتومونه د قوي القلیو د اغیزې له امله؛ یعنې د القلی فلزونو د امیدونو محلول په مایع امونیا کې د القلی فلزونو په واسطه بې ځایه کېږي او اسیتلایدونه (acetylides) جوړوي:



په پورتنی تعامل کې الکاینونو د تیزابونو په توګه عمل کړی او قوي القلیو ته یې پروتون ورکړی دی، اسیتلایدونه د مالګو په شان مرکبونه دي او د اوبو په واسطه هایدرولیز کېږي. د استلین تیزابي خاصیت له اوبو څخه کمزوری دی؛ خود ایتلین او ایتان په نسبت ډېر دی. د ګرینارډ معرف ($\text{R} - \text{MgX}$) له الکاینونو سره تعامل کوي، اسیتلایدونه جوړوي:



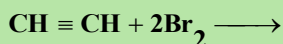
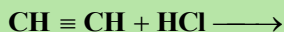
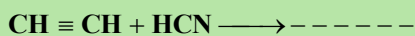
سودیم اسیتلاید او مګنیزیم اسیتلاید په بیلا بیلو سنتیزونو کې په کار وړل کېږي. کلسیم کار باید هم یو اسیتلاید دی. که چیرې د سپینوزرو نایتریت او د مسو یو ولانسه نایتریت امونیا یې محلول ته له استلین سره تعامل ورکړل شي، په وار سره سپین او خرمايي رنګه رسوب ترلاسه کېږي چې په وچ حالت کې د چاودیدنې ځانګړتیا لري:



فعالیت



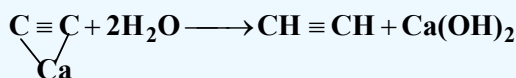
د لاندې تعاملونو معادلې بشپړې کړئ:



3-5 : استلین

خالص استلین بوی نه لري، د هغه استلین بد بوی چې له کلسیم کار باید څخه لاسته راځي، په هغه کې هایدروجن سلفایډ او فاسفین د مخلوطو په بڼه شتون لري، استلین په اوبو کې منحل دی، د استلین مخلوط له هوا سره د چاودیدنې ځانګړتیا لري، په دې بنسټ له استلین سره د کار کولو په وخت باید ډېر پام وشي. د استلین له

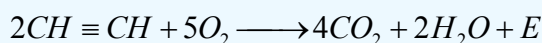
سوځيدو څخه په ډيره کچه تودوخه 1300KJ/mol توليد يږي. استلين چې د الکاینونو لومړی مرکب دی، په ډيرې تودې لمبې سره په هوا کې سوزېږي او 3000°C تودوخه توليد وي چې د د فلزونو په پرې کولو او ولدينگ کولو کې ترې گټه اخېستل کېږي، دا مرکب د اوبو او کلسيم کاربايد له تعامل څخه لاسته راځي:



د استلين ځيني فزیکي خواص (5 - 2) جدول کې ليکل شوي دي

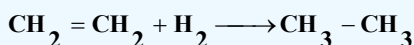
1-3-5: د استلين کيميايي خواص

۱ - د استلين د سوزيدو تعامل: استلين په آزاد هوا کې سوزې، اوبه، کاربن ډاي اکسايډ او انرژي توليدوي:



2 - د استلين جمعۍ تعاملونه

الف - استلين له هايډروجن سره تعامل کوي، په لومړي پړاو کې ايتلين او په دوهم پړاو کې ايتان جوړوي:



ب - استلين له هلوځنونو سره تعامل کوي د الکینونو هلايد او د الکانونو هلايد جوړوي



هغه ټول تعاملونه چې الکاینونه يې سرته رسوي، استلين يې هم سرته رسوي.

2-3-5: د استلين لاسته راوړنه

1 - د کلسيم کاربايد له هايډروليز څخه

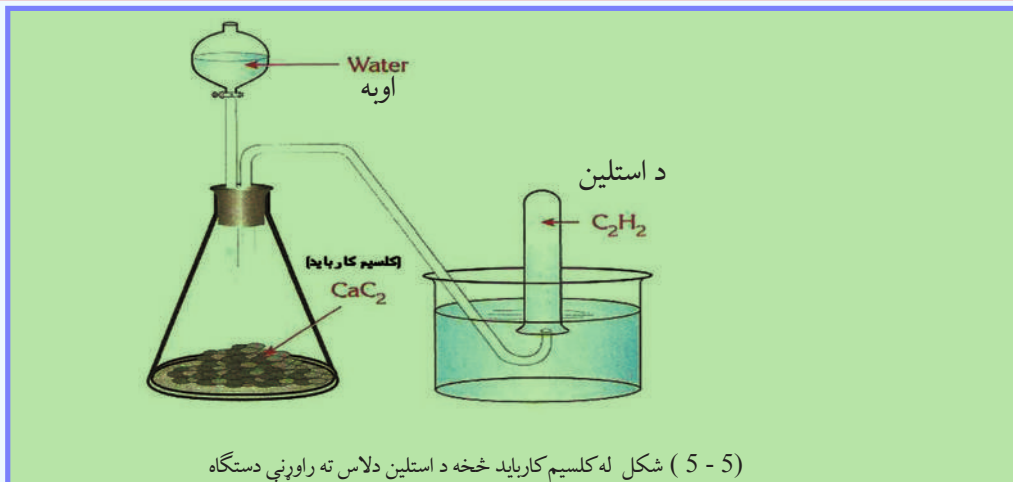
فعاليت



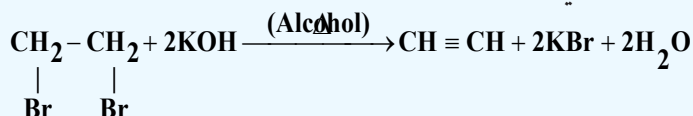
د کلسيم کاربايد څخه د استلين لاسته راوړنه

د اړتيا وړ مواد او لوازم: د کاربايد تيره، مقطرې اوبه، کوږنل، بنسټه يي تست تيوب، له اوبو څخه ډک تشت، سوري لرونکی کارکي سرپوش او ايرلين ماير.

ګډنلاره: لږ څه کلسيم کاربايد په يوه ايرلين ماير کې واچوئ او د هغه سر له سوري لرونکي کارکي سرپوش سره و تړئ، وروسته د کارکي سرپوش له سوريو څخه کوږنل او يوقيف ايرلين ماير ته ور دننه کړئ او د قياف د لارې کلسيم کاربايد باندې اوبه ور زياتې کړئ، کوږنل تست تيوب چې د اوبو په ډک تشت کې سرچپه اېښودل شوی دی، سمون ورکړئ، خپلې ليندې وليکئ.



2- که چیرې ډای برومواتان ته د پوتاشیم هایدروکساید له الکولي محلول سر د تودوخې په شتون کې تعامل ورکړل شي، استلین لاسته راځي:

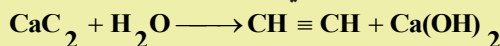


3- که چیرې کاربن او هایدروجن د برېښنايي قوس له لارې د برېښنا په بهیر کې واچول شي، استلین لاسته راځي:



لومړی مثال: که چیرې 5g کلسیم کارباید په اوبو کې واچول شي، په STP شرایطو کې 1.12L استلین لاسته راځي، د خالص کلسیم کارباید سلنه په دې تعامل کې ومومئ.

حل: په لومړي پړاو کې د کلسیم اسیټلایډ او اوبو د تعامل کیمیاوي معادله لیکو:



$$22.4\text{L} \quad - \quad 1\text{mol}$$

$$1.12\text{L} \quad - \quad n$$


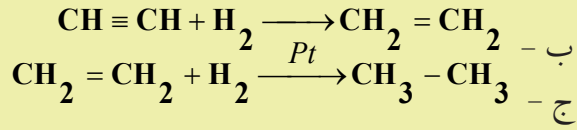
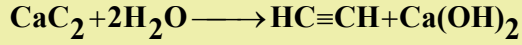

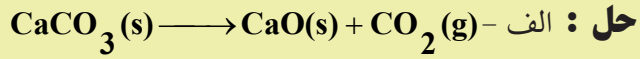
$$n = \frac{1.12\text{L} \cdot 1\text{mol}}{22.4\text{L}} = 0.05\text{mol}$$

$$n_{\text{CaC}_2} = \frac{m}{M} \Rightarrow m_{\text{CaC}_2} = n \cdot M = 0.05\text{mol} \cdot 64\text{g/mol} = 3.2\text{g}$$

$$m_{\text{CaC}_2} = 3.2\text{g} \left\{ \begin{array}{l} 5 - 3.2\text{g} \\ 100 - w\% \end{array} \right\}$$

$$W\%_{\text{CaC}_2} = \frac{3.2\text{g} \cdot 100}{5\text{g}} = 64\%$$

دوہم مثال : د CaCO_3 د تعامل له بهیر څخه لاندې مرکبونه په لاسته راوړئ:
الف - اسیتیلین، ب - ایتیلین، ج - ایتان.





* د الکینونو د مرکبونو هومولوژي سلسله د یو میتیلین ګروپ $(-CH_2-)$ په کچه یوله بل څخه توپیر لري چې د هغوی عمومي فورمول C_nH_{2n} دی.

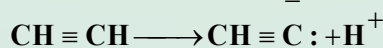
* که چېرې له الکانونه څخه دوه اتومه هایډروجن لرې شي، د هغوی ایزولوګ الکین لاسته راځي
* په فضايي ایزومیري کې (Stereo isomeris) یوناني کلمه ده چې د جامد او کلکو جسمونو په معنا ده، پردې بنسټ دا ایزومیري هغو مرکبونو پورې اړه لري چې د کلک فضايي جوړښت لرونکي دي او د هغوی هندسي بڼې په فضا کې بدلون کوي.

* د الکینونو کیمیايي خواص دوه ګونې اړیکې د سګما او پای د اړیکو فضايي ځایونه ټاکي، د سګما د اړیکې د الکتروني ورځې کثافت د هغه خط له پاسه چې له دواړو اتومونو هستې سره نښلوي، راټول شوي دي او د پای د اړیکې د الکتروني ورځې کثافت له دې چاپیریال څخه د باندې شتون لري چې د منفي چارج لویه ساحه یې جوړه کړې ده. هڅونه د پای د اړیکې بنسټیزه ځانګړتیا ده، چې د دې الکترونونو اړیکه له هستې سره د سګما د الکترونونو له اړیکې څخه کمزورې ده؛ نو له دې کبله په اسانۍ سره قطبي کيږي او الکترون خوښوونکو ذرو (Electrophilic) ته د یرغل آسانتیا برابر ږي، پر دې بنسټ د پای اړیکه د هترولیتیکي په بڼه پرې او جمعي تعاملونه ترسره کيږي. سګما او پای د اړیکو ترمنځ د انرژۍ توپیر 270KJ/mol دی.

* الکینونه یو له بل سره جمعي تعاملونه سرته رسوي او په دې ترتیب پولي میرونه جوړوي.
* الکانونه غیر مشبوع هایډروکاربنونه دي چې د هغوی د کاربن د دوو اتومونو ترمنځ درې ګونې اشتراکي اړیکه شته. د الکینونو عمومي فورمول C_nH_{2n-2} دی، په دې فورمول کې کیدای شي چې $n \geq 2$ وي او د هغوی ډېر کوچنی مرکب استلین دی چې د هغه سیستماتیک نوم Ethyne دی. که چېرې د yne وروستاړي هغه لاتین رقمونو ته چې د کاربن د اتومونو شمېر په الکانونو کې ښيي، ورزیات کړای شي، د هغوی اړونده الکان نوم لاسته راځي.

په اوبو کې د کوچنیو الکانونو د حل کیدلو وړتیا د هغوی له ایزولوګ الکینونو او الکانونو څخه زیاته ده، خو سره له دې هم په اوبو کې لږ حل کيږي.

* د استلین د تېزابي خاصیت لامل هم په مالیکول کې د $C-H$ اړیکې په څرګنده قطبیت پورې اړه لري، د اړیکې هومولیتیکي پرې کیدل او د رادیکال جوړېدل ستونزمن دی؛ خو د اړیکې هترولیتیکي پرې کیدل په



اسانۍ ترسره کيږي:

* د استلین له سوزېدو څخه ډېره زیاته تودوخه (1300kJ/mol) تولیدېږي چې د فلزونو د پریکېدو په موخه ترې ګټه اخیستل کېږي.

* د مارکوف نیکوف د قاعدې په اساس د الکین او یا د تعامل له HX سره هایډروجن په هغه کاربن باندې نصب کېږي چې د هغه هایډروجنونو زیاد او هلوجن په هغه کاربونونه باندې نصب کېږي چې د هغه هایډروجن کم دي.

د پنځم څپرکي پوښتنې او تمرین

څلور ځوابه پوښتنې

- 1 - د ایتلین په مالیکول کې د کاربن د دوو اتومونو ترمنځ کومه اړیکه شتون لري ؟
الف - یوګونې، ب - دوه ګونې، ج - درې ګونې، د - ایوني.
- 2 - دوه ګونې اړیکه له ----- څخه جوړه شوې ده :
الف - یوه د سګما σ اړیکه او یوه د پای π اړیکه، ب - دوه سګما اړیکې، ج - دوې د پای اړیکې د- هیڅ یو
- 3 - د کاربن هغه اتومونه چې په خپل منځ کې دوه ګونې اړیکه لري، د هایبرید یزیشن په کوم حالت کې شتون لري ؟

الف - sp^3 ، ب - sp^2 ، ج - sp ، د - sp^3d^2 .

4 - د $\text{CH}_3 - \text{CH} = \text{CH} - \text{C}(\text{CH}_3)_2 - \text{CH}_2 - \text{CH}_2 - \text{CH}_3$ مرکب نوم عبارت دي له:

الف - Iso octane، ب - 2-Heptene، ج - 4-Methyl، د - هیڅ یو

5 - دوه ګونې اړیکې د درې ګونې اړیکې په نسبت په ----- اکسیډي کېږي .

الف - ورو، ب - چټکتیا، ج - یوشان، د - نه اکسیډي کېږي.

6 - د $\text{CH}_3 - \text{CH}_2 - \text{OH} \xrightarrow{\text{H}_2\text{SO}_4} + \text{H}_2\text{O}$ تعامل یو محصول عبارت دی له:


الف - $\text{CH}_2 = \text{CH}_2$ ، ب - $\text{CH} \equiv \text{CH}$ ، ج - $\text{CH}_3 - \text{CH}_3$ ، د - CO_2

7 - الکانونه د یوې ----- اړیکې لرونکي دي

الف - درې ګونې، ب - دوه ګونې، ج - یوه ګونې، د - هیڅ یو.

8 - C_nH_{2n} عمومي فورمول په کومو هایډروکاربنونو پورې اړه لري ؟

الف - الکانونه، ب - الکانونه، ج - سایکلو الکانونه، د - ب اوج دواړه سم دي.



9 - په الکاینونو باندې د هلوچونو نښلیدل له اولفینونو څخه په ----- تر سره کیږي.

الف - سست او ورو ب - چټکتیا، ج - په اسانۍ د - تعامل نه کوي

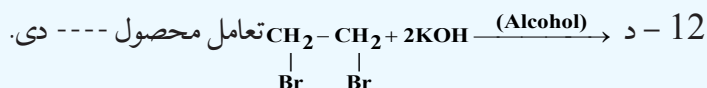
10 - که چیرې د yne وروستاړی په هغو لاتیو رقمونو باندې چې د کاربن د اتومونو شمېر په یو مرکب کې

ښیي، ورزیات شي، د هغه د اړوند --- نوم لاسته راځي.

الف - الکانونه، ب - الکینونه، ج - الکاینونه، د - سایکلو الکینونه.

11 - د برومین د اوبو درنګ له منځته تلل د ----- اړیکې توصیفې تعامل ښکاره کوي:

الف - څوگونو، ب - یوه گونو، ج - الف اوب دواړه، د - هیڅ یو.



الف - $2\text{H}_2\text{O}$ ، ب - 2KBr ، ج - $\text{CH} \equiv \text{CH}$ ، د - هیڅ یو "

13 - داستلین د تیزابي خاصیت د لرلو لامل دهغه په مالیکول کې د ----- اړیکې په ښکاره قطبیت پورې اړه لري.

الف - $\text{C}-\text{C}$ ، ب - $\text{C}-\text{H}$ ، ج - $\text{C}=\text{C}$ ، د - $\text{C}=\text{C}$.

14 - $\text{CH} \equiv \text{CH} + \text{H}_2 \longrightarrow$ تعامل محصول له ----- څخه عبارت دی:

الف - CH_3-CH_3 ، ب - $\text{CH}_2=\text{CH}_2$ ، ج - $\text{CH} \equiv \text{CH}$ ، د - هیڅ یو.

15 - د sp - hybryde حالت لرونکي کاربن د الکترونیکاتیویتی درجه له لاندې رقمونو څخه کوم یو یې

ښکاره کوي.

الف - 2.75 ب - 2.5 ج - 2.65 د - 2.3

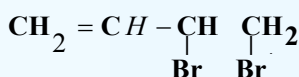
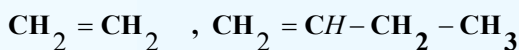
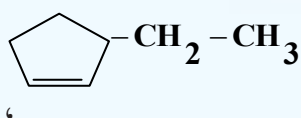
تشریحي پوښتنې

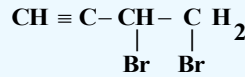
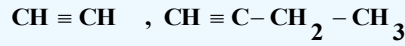
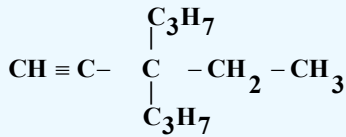
1 - د هغه الکاین مالیکولي فورمول تر لاسه کړئ چې د هغه په 0.63 گرامه کتله کې، 0.07 گرام هایډروجن

شامل وي.

2 - د کاربن د ټولو اتومونو د هایبرید حالت چې په $\text{CH}_3-\text{C} \equiv \text{C}-\text{CH}=\text{CH}_2$ کې شتون لري، وټاکئ.

3 - دا لاندې مرکبونه د IUPAC په لارې نوم ایښودنه وکړئ:





4 - د لاندې مرکبونو د جوړښت فورمولونه وليکئ

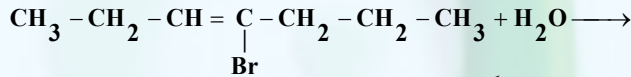
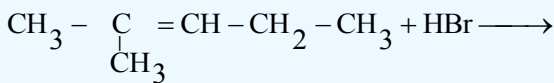
a- 1,2 -dichloro ethene b- 2,3 - dimethyl -2-pentene

c - 1,3- dibromo cyclo hexene d- Cis 3,4 dibromo -3-hexene

e- 4 -methyl 2-pentyne f-2- pentyne

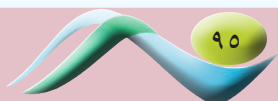
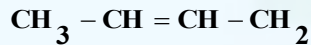
g-3-chloro-2-ethyl-1-pentyne h-1,3-pentadiene

5 - دا لاندې کيميايي معادلې د مارکوف نیکوف د قاعدې په پام کې نيولو سره بشپړې او روښانه کړئ:



6 - د الکاینونو د تعویضي تعاملونو په اړه خپل معلومات وليکئ.

7 - له لاندې مرکبونو څخه کوم یو د سیس او ترانس ایزومیري لرونکي دي؟ هغه وليکئ:



اروماتيکي مرکبونه (Arenes)

Fuel Pump Station

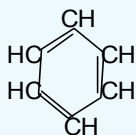
د 19 پېړۍ د دويمې نيمايي په پيل کې هغه مرکبونه د اروماتيک په نامه ياديدل کوم چې له طبيعي عطري موادو څخه په لاس راتلل، اروماتيک مرکبونه د خواصو له کبله له الفاتيکو مرکبونو څخه توپير لري، په اوسني وخت کې اروماتيک مفهوم دکيميا له لحاظه د ښه بوی (عطرو) سره هېڅ اړيکه نه لري. د دې کورنۍ مرکبونه په خپل ماليکول کې باثباته کاربنې کړۍ لري چې د ځانگړو اړيکولرونکي دي. په دې څپرکي کې د اروماتيکو مرکبونو په اړه معلومات وړاندې کېږي او دهغو په مطالعې به پوه شئ چې اروماتيکونه کوم ډول مرکبونه دي؟ د دې کورنۍ لومړنی مرکب کوم دی؟ زموږ په ژوند کې کوم رول لوبوي؟ څرنگه کولی شو چې دا مرکبونه په لاس راوړو؟

1-6: د بنزين جوړښت

داروماتيکو مرکبونو لومړنی مرکب بنزين دی چې په 19 پيړۍ کې د انگليسي فزيک پوه مايکل فارادي (Mycal Farady) په واسطه د عضوي مرکبونو څخه لاسته راغلی دی.

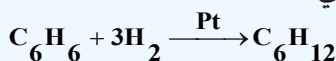
څه موده وروسته د اروماتيک بېلابېل مرکبونه په عطرونو کې تر لاسه شول اوڅرگنده شوه چې د اړوندو کيميايي تعاملونو په واسطه کيدای شي د مرکبونه په بنزين بدلون ومومي. په لومړي سر کې دا مرکبونه د بنزين د مشتقاتو په نوم او وروسته د اروماتيک مرکبونو يا عطري موادو په نوم نومول شوي دي؛ ځکه د دوی زیاتره قوی او په زړه پورې بوی لري.

د بنزين په اندازه چې يو ساده اروماتيک مرکب دی، نورو مرکبونو دومره د پوهانو پام ځان ته نه وه گرځولی؛ د دې کبله علماوو د بنزين لپاره د ډيرو زياتو جوړښتيزو (ساختماني) فورمولونو وړاندیز کړی دی چې د هغوی له ډلې څخه په 1865 کال کې د کيکولي وړاندې شوی فورمول د بنزين لپاره ډېر برابر دی، د کيکولي له فورمول سره سم بنزين 5,3,1 سایکلو هگزاترين (1,3,5-cyclohexatriene) دی چې يو هايډروکاربن عضوي د شپږ کاربنه حلقوي د درې جوړو اړيکو لرونکی مرکب دی.



د کاربن او هايډروجن د ټولواتومونو دا جوړښت يوشان ارزښت او د بنزين ځينې نورې ځانگړتياوې روښانه کوي؛ خو دا فورمول نه شي کولی روښانه کړي چې ولې بنزين د غير مشبوع هايډروکاربنونو خواص نه لري؟ بنزين د غير مشبوع مرکبونو د تعاملونو ځانگړتياوې له ځان څخه نه ښکاره کوي؛ يعنې د برومين اوبه او د پوتاشيم پرمنگنات د القليو محلولو رنگ ته بدلون نه شي ورکولی، بنزين له برومين سره د جمعي تعاملونو پرځای تعويضي تعاملونه ترسره کوي؛ کله چې د بنزين د ماليکول د هايډروجن يو اټوم د برومين په واسطه تعويض شي، د C_6H_5Br مرکب جوړېږي.

د بنزين د جمعي تعاملونو امکان په ځانگړو شرايطو کې په سترگو کيږي او د هغه له هايډروجنېشن څخه د کتلست په شتون کې سايلکلو هگزان لاسته راځي:

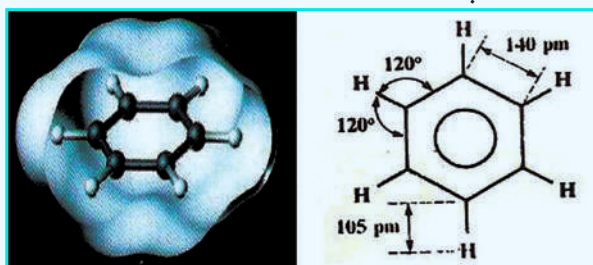


له پورتنۍ څېړنې څخه معلومېږي چې بنزين غير مشبوع خواص له ځان څخه ښکاره کوي؛ خو په عادي شرايطو کې يې دا ځانگړتيا کمزورې ده، د بنزين د تودوخې مقاومت تر $900^\circ C$ پورې دی.

د کيميايي اړيکو په اړه د الکتروني نظرياتو پراختيا او د ميخانيک کوانت نظريو د اروماتيکو مرکبونو د ځانگړتياو د روښانولو امکان برابر کړی دی. د بنزين د ماليکول انرژي کيدای شي چې په بېلابېلو لارو وټاکل شي، د هغوی پايلې ښکاره کوي چې د بنزين رښتيا نې ماليکول، له سايلکلو هگزاترين څخه لږه انرژي لري، کومه چې د هغوی اړيکو ښودلې ده، د سايلکلو هگزاترين د ماليکول دسوزيدو تودوخه $3453 kJ/mol$ ده؛ خو د بنزين د ماليکول دسوزيدو تودوخه چې په تجربې ډول لاسته راغلی، ده. $2303 kJ/mol$ د سايلکلو هگزين هايډروجنېشن د

انرژي له ازادیدو سره ترسره کیږي؛ په داسې حال کې چې د بنزین هایدروجنشن د انرژۍ له جذب له امله ترسره کیږي. د بنزین او هغه ته د ورته مرکبونو کیمیايي خواص ډېر حیرانونکي دي، سره له دې چې د بنزین مرکبونه غیر مشبوع دي؛ خو الکینونو او الکانونو ته ورته دي؛ جمعي تعاملونه په دې مرکبونو کې ډېر لږ ترسره کیږي، برعکس تعویضي تعاملونه په ښه توګه تر سره کوي، له دې امله اروماتیک مرکبونه له عادي غیر مشبوع مرکبونو څخه توپیر لري او د هغوی ځانګړي خواص د بنزین په کړۍ او د هغه په مرکبونو پورې اړه لري. چه هغه سره تعامل کوي د بنزین جمعي فورمول C_6H_6 دی او له هګزان (C_6H_{12}) څخه د هایدروجن شپږ اتومه او له هګزین څخه د هایدروجن څلور اتومه کم لري. په بنزین کې د اړیکو اوږدوالی 140 پیکامتر او د هغه د اړیکو جوړښت د ریزونانس په حالت دی کوم چې په لاندې شکل کې لیدل کیږي:

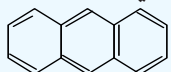
د بنزین د مالیکول په جوړښت کې شپږ الکترونونو د π اوربیتالو نیولي دي، د بنزین مالیکول په کاربنی اسکلیت کې یې د سګما (σ) اړیکې مالیکولي اوربیتالونه د کاربن د اتومونو د $SP^2 - hybrid$ سره مستقیم له یو بل سره او د هایدروجن د اتوم سره د مستقیم ننوتلو له کبله جوړ شوي دي. (6 - 1) شکل د بنزین په مالیکول کې د اړیکو اوږدوالی او د اړیکو زاویې او ریزونانس حالت ښکاره کوي:



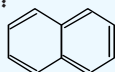
(6 - 1) شکل: (الف): د اړیکو اوږدوالي او زاویې (ب) د بنزین په مالیکول کې د اوربیتالونو ښودل

څرنګه چې اروماتیک هایدروکاربنونه غیر مشبوع دي؛ نو له دې کبله هغوی د ene په وروستاړي، الکینونو ته ورته او د Ar مختاړي چې له ارومات (Aromate) څخه مشتق شوی دی، نوم ایښودنه شوي ده؛ پر دې بنسټ د هغوی سیستماتیک نوم Arene ایښودل شوی دی. د اړین مرکبونه د بنزین په ساده بڼې سره بېره د څو کړېزو مرکبونو په بڼه هم شته؛ د بیلګې په ډول: د بنزین د دوو یا څو کړیو د یو ځای کیدلو له امله بېلابېل مرکبونه جوړېږي. نفتالین $C_{10}H_8$ او انتراسین $C_{14}H_{10}$ څو کړییز دوه ډېر مهم مرکبونه دي، د هغوی فورمول د بنزین د کړیو او له $-C_2H_2$ (ایتلین) ګروپونو څخه جوړ شوی دی.

د اروماتونو د کړکټر په اړه د هیوکل (Huckel) په نوم عالم یوه قاعده منځ ته راوړه چې د دی قاعدې په بنسټ هغه کړۍ د اروماتیک ځانګړتیا لري چې د هغوی د پای (π) الکترونونو شمېر د $(4n+2)$ سره سمون ولري، په دې فورمول کې n د کړیو شمېر ښکاره کوي. د اروماتیکو سیستمونو بیلګې چې د پای 10 او 14 الکترونونو لرونکي دي، عبارت دي له:



Anthracene



Naphthalene

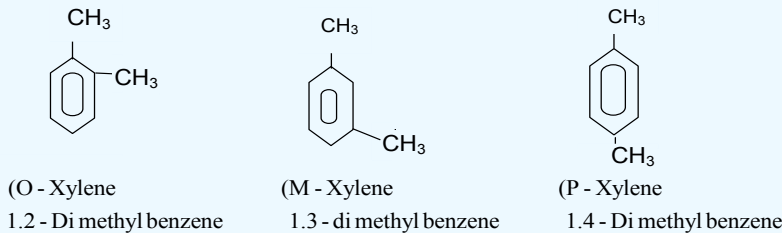
په (6 - 1) جدول کې د بنزين د مشتقاتو ډولونه د هغود سيستماتيک او مروجو نومونو سره وړاندې شوي دي، نوموړي مرکبونه د ډېرو سکرو له تقطير څخه جوړېږي.

(6 - 1) جدول: د بنزين مشتقات له سيستماتيک او مروجو نومونو سره

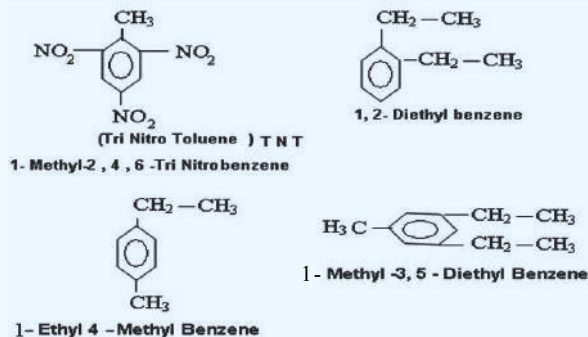
د استعمال ځايونه يې	مروج نوم	سيستماتيک نوم	فورمول
د پولې ميرونو برابرولو لپاره	فينول	هايډروکسي بنزين	<chem>c1ccccc1O</chem>
د رنگونو ځلا او د لاکو په جوړولو کې کارول کېږي	تالوين	ميتايل بنزين	<chem>c1ccccc1C</chem>
د رنگونو ځلا او د حشرو وژونکو په موادو کې کارول کېږي	اورتوزايلين	1,2Dimethyl Benzene	<chem>Cc1ccccc1C</chem>
	ميتا زاييلين	Meta 1,3- dimethyl Benzene	<chem>Cc1cccc(C)c1</chem>
	پارا زاييلين	Para 1,4- dimethyl benzene	<chem>Cc1ccc(C)cc1</chem>
پولي ميرونه جوړوي	ستيارين	ethylene phenyl	<chem>c1ccccc1C=C</chem>
د کوبي وژلو په توگه کارول کېږي	Naphthalene	Naphthalene	<chem>c1ccc2ccccc2c1</chem>
	انتراسين	Antracine	<chem>c1ccc2cc3ccccc3cc2c1</chem>
له ځينو ناروغيو څخه د مخنيوي لپاره	Biphenyl	Di phenyl	<chem>c1ccccc1-c2ccccc2</chem>
پولي ميرونه اورنگه مواد	انيلين	Amino Benzene	<chem>Nc1ccccc1</chem>
	بنزويک اسيد	Benzoic acid	<chem>OC(=O)c1ccccc1</chem>
	بنز الډيهايد	بنز الډيهايد	<chem>O=Cc1ccccc1</chem>
په 1440 کال کې د کالو مينځلو پوډر تر لاسه شو	الکاييل بنزين سلفونات	الکاييل بنزوسوډيم سلفونات	<chem>Rc1ccc(S(=O)(=O)O[Na])cc1</chem>

2-6: د اروماتیک مرکبونو نوم ایښودنه

زیاتو اروماتیک مرکبونو خپل هغه مروج نومونه ساتلي دي کوم چې د هغوی اصلي پیدایښت پورې اړه لري؛ د بیلګې په ډول: تالوین (Toluene) ($C_6H_5 - CH_3$) د ونو له کنډ څخه چې د (Baunde Tolu) له ډول څخه دی او په جنوبي امریکا کې موندل کېږي، لاسته راغلی دی؛ خود هغه سیستماتیک نوم Methyl benzene دی؛ ځکه د بنزین د مالیکول د هایدروجن له اتومونو څخه یو یې د CH_3 پاتې شوني په واسطه تعویض شوی دی، که چېرې څو پاتې شونو د بنزین د هایدروجن اتومونه یې تعویض کړي وي، تر لاسه شوی مرکب بېلابېلې ایزومیرۍ لري چې د هغوی بیلګه کیدای شي، ډي میتایل بنزین Dimethylbenzene وړاندې کړای شي :




درې پورتنۍ ایزومیري د مروجو نومونو د (Xylene) په نامه یادېږي؛ ځکه دوی د لرگیو له تقطیر څخه حاصل شوي دي چې د لرګي یوناني نوم (xulon) دی، د *ortho*، *Meta* او *Para* مختاړي هم پخوانۍ یوناني کلیمې دي چې په ترتیب سره له څنګ پر څنګ، وروسته او د مخامخ په معنا دي. که چېرې دواړه پاتې شوني بېلابېل ترکیبونه و لري، همدا مختاړي د هغوی په نومونو کې ور زیاتېږي. که چېرې د بنزین ډکړۍ څو اتومونه هایدروجن په بېلابېلو ګروپونو تعویض شوي وي، د هغوی سیستماتیک نوم ایښودنه له پورتنیو څرګندونو سره سم ترسره کېږي؛ د بیلګې په ډول:



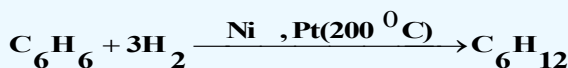
3-6: د اروماتیکو هایدروکاربنو نو تعاملونه

1-3-6: جمعی تعاملونه

سره له دې چې ټول ارینونه (Arenes) د غیر مشبوع هایدروکاربنونو له ډول څخه دي؛ خو جمعي ترکیبي میل له ځانه نه ښکاره کوي، په ځانګړو شرایطو کې چې د تودوخې درجه $200^\circ C$ ده، د Pt او Ni د کتلست په شتون او لوړ فشار کې کیدای شي چې د هایدروجن درې مالیکوله په بنزین ورزیات او Cyclo Hexane



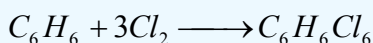
تر لاسه شي:



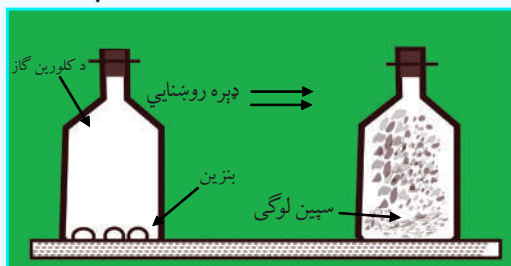
په دې صورت کې د بنزين درې د π اړيکې پرې کېږي، دا اړيکې په (6 - 1) شکل کې وړاندې شوي دي چې درېزونانس په بڼه شتون لري او د π د الکتروني ورېځې کثافت د کاربن په ټولو اتومونو باندې په يو ډول خپور شوی دی، په همدې دليل جمعي تعامل د بنزين په کړۍ کې له ستونزو سره ترسره کېږي. سایکلوهگزان د بنزينو پر خلاف مسطح نه دی او د څوکۍ په شان فضايي جوړښت لري، د کاربن 6 واړه اتومونه څلور مخه جوړښت لري چې هغه مو په (6 - 1) شکل کې وليدل.

2-3-6: له بنزين سره د کلورين جمعي تعاملونه

له (6 - 2) شکل سره سم د کلورين د گاز په ډک بالون کې څو څاڅکي بنزين ورزيات کړئ، وروسته هغه د لرگي سر پوښ او پنبې په واسطه وټړئ او ټکان ورکړئ چې ټول زيات شوي بنزين په پراس بدل شي، د رڼا په نشتوالي کې تعامل نه ترسره کېږي، کله چې بالون د رڼا بهير ته کينودل شي، تعامل پيل کېږي او د کلورين شين رنگ له منځه ځي چې سپين رنگی لوگي د بالون په دننه کې ليدل کېږي، د ترلاسه شوي لوگي تحليل او تجزيه ښکاره کوي چې له بنزين سره کلورين جمعي تعامل ترسره کړی دی او د هغه د تعامل معادله په لاندې ډول ده:




ترلاسه شوی مرکب Hexa Chloro Cyclohexane - 1,2,3,4,5,6 دی او د هغه جوړښت سایکلوهگزان ته ورته او د څوکۍ په شان دی. لاندې شکل د نوموړې د تعامل بهير راښيي:



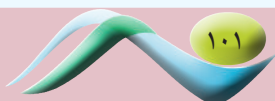
(6 - 2) شکل: د بنزين سره د کلورين تعامل

3-3-6: د اروماتونو تعويضي تعاملونه

په الکينونو او الکاینونو کې جمعي تعاملونه د تعويضي تعاملونو په نسبت په اسانۍ سره ترسره کېږي؛ د بيلگې په ډول: الکينونه په اسانۍ سره د برومين اتومونه په خپلو دوو کاربنونو کې چې دوه گونې اړيکه لري، نښلوي او په پای هلايد الکانونو (پای برومو الکانونو) يې بدلوي؛ خو د بنزين په کړۍ کې، فلورين د بنزين دکړۍ د کاربنونو د هايډروجن اتومونه تعويضي او دا تعويض هم دکتلستونو (FeF_3) په شتون کې ترسره کېږي:



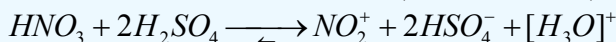
د بنزين او دفلورين تعامل چاودېدونکی تعامل دی؛ خو د بنزين او دکلورين تعامل دليويس تيزابونو ($AlCl_3, FeCl_3$) په شتون کې ترسره کېږي:



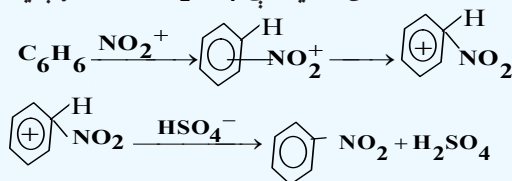
د الکایل او نورو پاتې شونو په واسطه دبنزين په ماليکولو کې د هايډروجن د اتومونو تعويض د فريډل چارليز (Friedel Charles) او جمزکرفت (1832 – 1899) (James Craft م) د پوهانو د نومونو په طريقه ترسره کېږي چې د هغوی بيلگې په لاندې ډول دي:

1 - د اروماتونو نايتریشن

د اروماتونو په کړيو کې د نايټرو ($-NO_2$) د گروپ نصب (نېنلول) د نايټریشن (Nitration) د تعامل په نوم يادېږي، نوموړی تعامل د غليظو گوگړو تيزابو او غليظو بنوړې تيزابو د مخلوطولو په واسطه ترسره. د نايټریشن کولو عامل د NO_2^+ ايون دی چې په دی مخلوط کې په لاندې ډول جوړېږي:

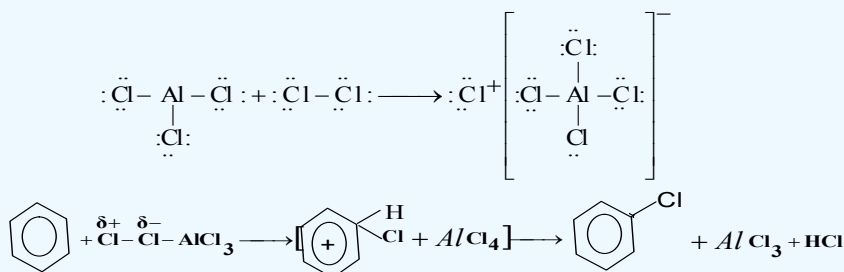


په وروستي پړاو کې د نايټرو کيټون د اړيکو د الکترونونو ورېځو په ساحه کې له اروماتيک کړۍ د يرغل (حملې) لاندې نيسي چې په پايله کې په لومړي سر کې پای کامپلکس او بيا د سگما کامپلکس د بنزين د کړۍ د کاربن د اتوم او نايټرو گروپ ترمنځ د کوولانت اړيکو په لرلو سره منځ ته راځي، په وروستي پړاو کې د اروماتونو کړۍ د هايډروجن اتوم جلا او له HSO_4^- سره تعامل کوي چې H_2SO_4 بيرته جوړېږي:

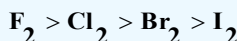


2 - د اروماتونو هلوچينشن

د بنزين د هستې هلوچينشن د هلوچونو په مرسته د کتلستونو په شتون کې ترسره کېږي، په ډيره کچه د کتلست په توگه د المونيم او اوسپنې د هلايدونو؛ لکه: $FeBr_3$, $FeCl_3$, $AlBr_3$, $AlCl_3$ او نورو څخه گټه اخېستل کېږي، کتلستونه د خپل عمل په واسطه د الکتروفيلي ټوټې د هلوچونو اتومونو د اړيکې د قطبي کولو په پايله کې منځته راوړي؛ د بيلگې په ډول: په المونيم کلورايد کې د المونيم اتوم شپږ الکترونه په خپل ولانسي قشر کې تر لاسه کړي دي؛ خو بيا هم د هغه اوکټيت پوره نه دی، نو د خپل اوکټيت د پوره کولو لپاره د کلورين د ماليکول د اتوم دوه الکترونونه دځان خواته کش کوي، د الکتروني ورېځې کښولو په پايله کې د کلورين د ماليکول دويم اتوم لږ څه مثبت چارج تر لاسه کوي او د الکتروفيلي ځانگړتيا له ځانه بښي:

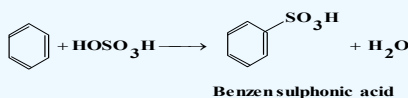


لاندې سلسله د هلوچونو کيميايي فعاليت بښي:

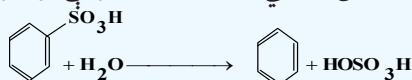


3 - سلفونيشن (Sulphonation): د سلفونيك گروپ په واسطه د بنزين د هستې د هايډروجن

د اتومونو تعويض د سلفونيشن په نوم ياديږي. د سلفونيشن تعامل تل اروماتيک هايډرو کاربنونو ته د تودوخې په ورکولو سره د غليظو گوگړو تيزابو په شتون کې ترسره کېږي:



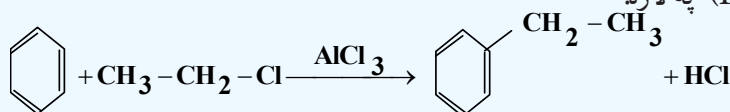
د سلفونيشن تعامل د هلوچينشن د تعامل بر عکس رجعي دی او هايډروليز يې تر سره کېږي.



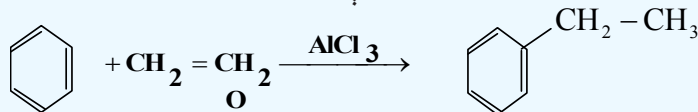
4 - الکايلىشن (Alkylation): د الکايلونو نصب (نېلول) د بنزين په کرۍ او يا دهغه په

هومولوگونو باندې د الکايلىشن تعامل په نوم ياديږي. الکايلىشن په دوو لارو ترسره کېږي:

الف- د اوبو نه لرونکي المونيم هلايد د کتلست په شتون کې په بنزين باندې د الکايلى هلايدونو د عمل په واسطه، د فريډل کرفت (Friedel-Crafts) په لاره:



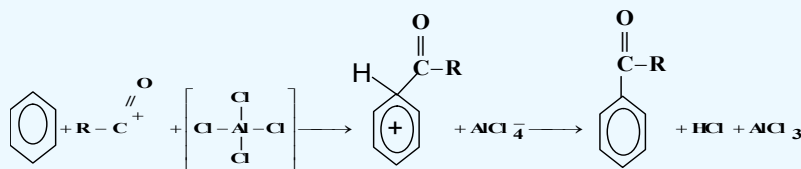
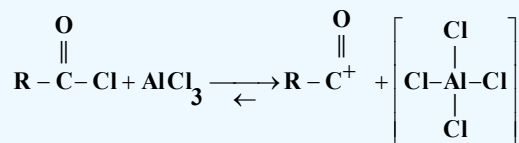
ب - د اوليفينونو په واسطه هم د اروماتيک هايډروکاربنونو الکايلىشن شوني دی:



5 - د اروماتونو اسايلىشن: د اروماتونو په کرۍ کې د اسايلى د گروپ ($\text{R}-\text{C}(=\text{O})-$) له نېلولو څخه


عبارت دی، د دې تعامل په پايله کې کيتونونه جوړېږي، دا سنتيز د فريډل - کرفت په طريقه د اسايلىشن په نوم

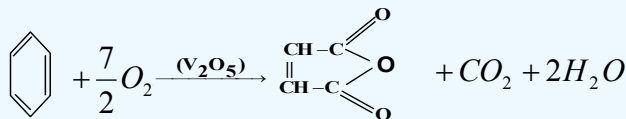
ياديږي چې د تعامل ميخانيکيت يې په لاندې ډول دی:



6 - د اروماتونو اکسيديشن: اروماتونه د اکسيډانتونو په مقابل کې قوي دي، اکسيډانتونه؛ لکه:

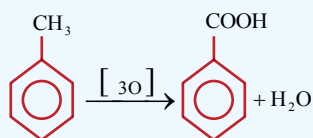
نايتريک اسيد، د کروميک اسيد محلول، د پوتاشيم پرمنگنات محلول او د هايډروجن پراکسايډ محلول په عادي شرايطو کې په بنزين باندې اغيزه نه کوي، د اروماتونو ثبات د قوي اکسيډانتونو په مقابل کې له پارافينونو څخه زيات دی، د هوا د اکسيجن د عمل په واسطه د وناديم پنتا اکسايډ (V_2O_5) د کتلست په شتون او په لوړه تودوخه کې (400°C) له بنزين څخه مليک انهايډريد لاسته راځي:





Maleic anhydride

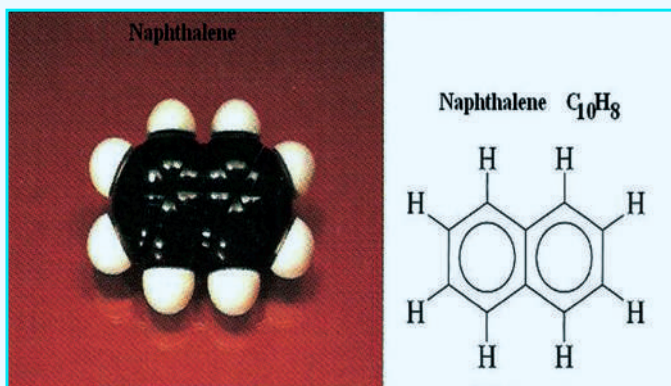
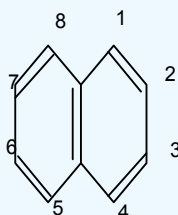
د بنزين په هومولوگونو باندې د اكسيداتونو د اغيزې له امله، د هغوی تر څنګ نښتی د الكايل زنځير اكسيدېشن او تخريب كيږي، چې يوازې د هغوی كړۍ ته نژدې كاربن په كاربوكسيل گروپ بدليږي (د بنزين كړۍ پورې ټول تړلي زنځيرونه په كاربوكسيل گروپ تبديليږي):



د پورتنۍ تعامل په واسطه د ټولو لاسته راغلو اروماتيکو تيزابونو په پام کې نيولو سره كيداى شي چې د هغوی د څنګ (جانبی) نښتلې زنځيرونو ځای او تعداد وټاكل شي. د بنزين د څو كړيو مهم مركبونه په لاندې ډول دي:

نفتالين Naphthalene

د نفتالين ماليكولي فورمول C_{10}H_8 دی، دا مركب 1819 م كال كې د ډېرو سكرو د قير له كنډ څخه تر لاسه شوی او د هغه جوړښت د وسكرسينسكي (A.A. Voskresensky) په واسطه ټاكل شوی دی، نفتالين كرسټلي جامده ماده ده او ټاكلی بوی لري، د ويلې كيدو درجه يې 80°C او د هغه د ايشيدو درجه 218°C ده، نفتالين بې رنگه ماده ده، په اسانۍ سره الوځي او حتی په عادي تودوخه كې براس كيږي، نفتالين په اوبو كې نه حلېږي؛ خو په عضوي حل كوونكو كې حل كيږي. له نفتالين څخه دكوبې دضد درمل په توگه كار اخېستل كيږي. د نفتالين د ماليكول كاربنې سكليت د بنزين له دوو هستو څخه جوړشوی دی چې د كاربن د دوو اتومونو په واسطه شريكې او متراكمي شوي دي، د نفتالين په ماليكول كې د بنزين په شان نه مطلق دوه گونې اړيکې اونه يوه گونې اړيکې شتون لري. د پای (π) الكترونونه په ټولې كړۍ كې د ديلاكاليزېشن په حالت كې شتون لري، د نفتالين د جوړښت فورمول او مودل په لاندې ډول دی:

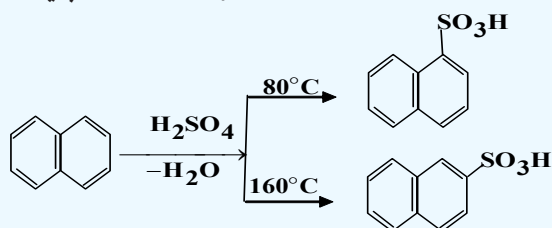


(6 - 3) شکل: د نفتالين مودل او فورمول

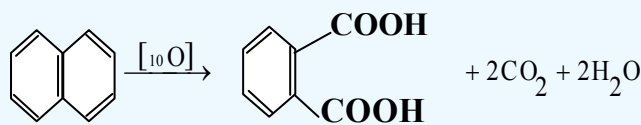
د نفتالين په ماليکول کې د کاربن ټول اټومونه يوشان ارزښت نه لري، د الفا کاربنونه (α - Carbons) 1، 4، 5، 8 د ځای له کبله يو له بل څخه توپير لري د نفتالين د کرسټلونو راډيوگرافي څېړنې رانښيي چې د نفتالين ماليکول مسطح جوړښت لري او د کاربن - کاربن د ټولو اړيکو اوږدوالی د يوگونو اړيکو او د دووگونو اړيکو ترمنځ قيمت لري.

د نفتالين تعويضي تعاملونه

سلفونيشن: د نفتالين له عمده ځانگړتياوو څخه يو دهغه د سلفونيشن تعامل دی، دا تعامل د شرايطو په پام کې نيولو سره کيدای شي الفا - نفتالين سلفونیک اسيد او يا بيتا - نفتالين سلفونیک اسيد په جوړولو پای ته ورسېږي:



د نفتالين اکسیديشن: نفتالين د بنزين په پرتله په اسانۍ سره اکسیدي کېږي چې په دې عملیه کې د هغه له کرپو څخه يوه تخريب او د هغه له الفا کاربنونو د کاربوکسيل په گروپونو تبديليږي چې په پایله کې دوه قيمته تيزاب فتاليک اسيد جوړېږي:

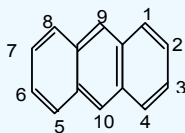


Naphthalene


Phthalic acid

انتراسين (Anthracene)

د انتراسين ماليکولي فورمول $C_{14}H_{10}$ دی، دا مرکب د قير په کنډ او د انتراسين په غوړيو کې شتون لري چې له هغوي څخه د تېلور په لاره جلا کېږي، انتراسين د الوتنې په لارې سره جلاکوي، خالص انتراسين يو جامد کرسټلي او بې رنگه ماده ده چې د لاجوردي فلورسنس لري، دهغه د ویلې کيدو درجه $217^\circ C$ او د اېشېدو درجه يې $354^\circ C$ ده. انتراسين په اوبو کې غیر منحل او په تودو بنزينو کې په اسانۍ سره حلېږي. انتراسين د څو هستو لرونکو اروماتیکو هایدروکاربنونو له ډلې څخه عبارت دی چې د خطي بنزين له دریو متراکم شوو هستو څخه جوړ شوی او دهستو جوړښت يې مسطح دی. د هغه سکليټي جوړښتي فورمول په لاندې ډول دی:



د انتراسين په ماليکول کې د کاربن ټول اټومونه د نفتالين د ماليکول په شان يوشان ځای نه نيسي. د الفا ځايونه (1, 4, 5, 8)، او بيتا β (2, 3, 6, 7) او ميزو (9, 10)، په انتراسين کې شته دي چې دا ځايونه يو له بل څخه توپير لري او په دې بنسټ د انتراسين د يو تعويضه مشتق د الفا - بيتا او ميزو (meso) ايزومېرو لرونکي دي، همدارنگه د انتراسين په فورمول کې د اړيکو سمون نه په سترگو کېږي.

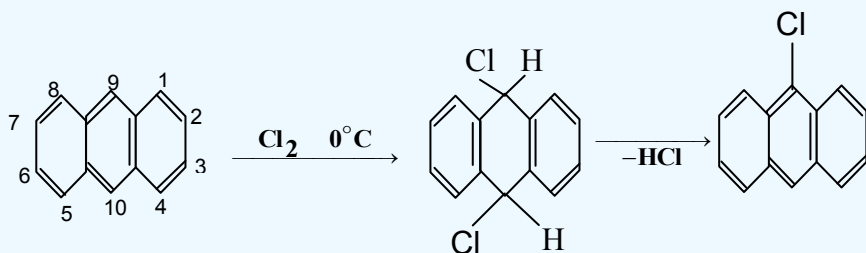


د انتراسین کیمیایي خواص: د انتراسین کیمیایي خواص د نفتالین او بنزین خواصو ته ورته دی؛ خو د

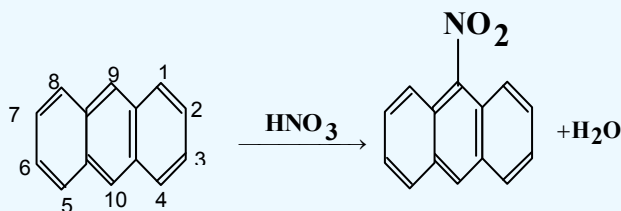
هغوی په نسبت زیات فعال دی، انتراسین تعویضي تعاملونه هم (هلوجنیشن، نایتریشن، سلفونیشن ترسره کوي او له ځان څخه اروماتیک خواص ښيي چې جمعي تعاملونه هم په اسانۍ ترسره کوي. *meso-9* او *meso-10* ځایونه د کیمیایي فعالیت د لرلو په بنسټ له نورو ځایونو څخه زیات توپیر لري؛ له دې امله تعویضي تعامل او جمعي تعامل په منځنۍ هستې کې ترسره کیږي، په 9 او 10 ځایونو کې د جمعي تعاملونو د ترسره کیدلو په پایله کې دواړو تر څنګ کرپوېي داروماتیکي سیکستیت (Sextet) ثبات ترلاسه کړی دی.

د انتراسین تعویضي تعامل

1- **هلوجنیشن:** په لومړي سر کې کلورین او برومین د تودوخې په 0°C کې 9 او 10 ځایونو کې نښتلی شي، دای کلورو یا دای برومو انتراسین جوړوي او وروسته له دې د لږې تودوخې په واسطه هایډروجن هلاکد له دې ځایونو څخه جلا او د تعامل محصول 9-کلورو انتراسین لاسته راځي:



2- **د انتراسین نایتریشن:** د ښورې د تېزابو د عمل په پایله کې لومړی بې ثباته جمعي محصول تولیدیږي او وروسته د اوبو له جلاکیدو څخه د انتراسین تعویضي محصول یعنې 9-نایټرو انتراسین جوړیږي:



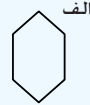
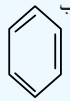
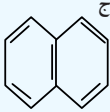


- * اروماتیک مرکبونه په خپل مالیکول کې ټینګې کاربنی کرۍ لري چې د ځانګړو اړیکو لرونکي دي.
- * د اروماتیکو مرکبونو لومړنی مرکب بنزین دی چې په ۱۹ پېړۍ کې د انګلیسي فزیک پوه مایکل (Mycal Farady) په واسطه له عضوي مرکبونو څخه لاسته راوړل شو.
- * بنزین د نا مشبوع (غیر مشبوع) مرکبونو د تعاملونو ځانګړتیاوې له ځان څخه نه ښکاره کوي؛ یعنې د برومین اوبه او د پوتاشیم پرمنگنات د القلي محلول رنگ ته بدلون نه شي ورکولی، بنزین له برومین سره د جمعي تعامل پرځای تعویضي تعامل ترسره کوي؛ کله چې د بنزین د مالیکول د هایدروجن اتومونه د برومین په واسطه تعویض شي د C_6H_5Br مرکب جوړېږي.
- * بنزین او هغه ته د ورته مرکبونو کیمیايي خواص ډېر حیرانوونکي دي، سره له دې چې د بنزین مرکبونه نامشبوع دی او الکینونو او الکانینونو ته ورته دي؛ خو جمعي تعاملونه په دې مرکبونو کې ډېر لږ ترسره کېږي او برعکس تعویضي تعاملونه په ښه توګه ترسره کوي، له دې امله اروماتیک مرکبونه له عادي غیرمشبوع مرکبونو څخه توپیر لري او د هغوی ځانګړی خواص د بنزین په کرۍ او د هغه په مرکبونو پورې اړه لري.
- * څرنګه چې اروماتیک هایدروکاربنونه نامشبوع دي؛ نو له دې کبله هغوی د ene په وروستاړي، الکینونو ته ورته او د Ar د مختاړۍ چې له ارومات ($Aromate$) څخه مشتق شوي دي، نوم ایښودنه یې شوې ده؛ پر دې بنسټ د هغوی سیستماتیک نوم $Arene$ ایښودل شوې دی.
- * د اروماتونو د کرکتر په اړه د هیوکل ($Huckel$) په نوم عالم قاعده یې منځ ته راوړه چې د دې قاعدې په بنسټ هغه کرۍ د اروماتیک ځانګړتیا لري کوم چې د پای (π) د الکترونونو شمېر یې له $(4n+2)$ سره سمون ولري.
- * په الکینونو او الکانینونو کې جمعي تعاملونه د تعویضي تعاملونو په نسبت په اسانۍ سره ترسره کېږي؛ د بیلګې په ډول: الکینونه په اسانۍ سره د برومین اتومونه په خپلو دوو کاربنونو کې چې دوه ګونې اړیکه لري، نښلوي او په پای هلاکد الکانونو (پای برومو الکانونو) یې بدلوي؛ خو د بنزین په کرۍ کې، فلورین د بنزین ډګرۍ د کاربنونو د هایدروجن اتومونو تعویضي او دا تعویض هم دکتلستونو (FeF_3) په شتون کې ترسره کېږي.
- * اروماتونه د اکسیدانتونو په مقابل کې مقاومت ښیي، اکسیدانتونه لکه: نایتریک اسید، د کرومیک اسید محلول، د پوتاشیم پرمنگنات محلول او د هایدروجن پراکساید محلول په عادي شرایطو کې په بنزین اغیزه نه کوي، د اروماتونو ثبات د قوي اکسیدانتونو په مقابل کې د پارافینونو په نسبت زیات دی.
- * د نفتالین په مالیکول کې د کاربن ټول اتومونه یو شان ارزښت نه لري، د الفاکاربنونه ($\alpha - Carbon$) په ۱، ۴، ۵، ۸، ۹، ۱۰، ۱۱، ۱۲، ۱۳، ۱۴، ۱۵، ۱۶، ۱۷، ۱۸، ۱۹، ۲۰، ۲۱، ۲۲، ۲۳، ۲۴، ۲۵، ۲۶، ۲۷، ۲۸، ۲۹، ۳۰، ۳۱، ۳۲، ۳۳، ۳۴، ۳۵، ۳۶، ۳۷، ۳۸، ۳۹، ۴۰، ۴۱، ۴۲، ۴۳، ۴۴، ۴۵، ۴۶، ۴۷، ۴۸، ۴۹، ۵۰، ۵۱، ۵۲، ۵۳، ۵۴، ۵۵، ۵۶، ۵۷، ۵۸، ۵۹، ۶۰، ۶۱، ۶۲، ۶۳، ۶۴، ۶۵، ۶۶، ۶۷، ۶۸، ۶۹، ۷۰، ۷۱، ۷۲، ۷۳، ۷۴، ۷۵، ۷۶، ۷۷، ۷۸، ۷۹، ۸۰، ۸۱، ۸۲، ۸۳، ۸۴، ۸۵، ۸۶، ۸۷، ۸۸، ۸۹، ۹۰، ۹۱، ۹۲، ۹۳، ۹۴، ۹۵، ۹۶، ۹۷، ۹۸، ۹۹، ۱۰۰، ۱۰۱، ۱۰۲، ۱۰۳، ۱۰۴، ۱۰۵، ۱۰۶، ۱۰۷، ۱۰۸، ۱۰۹، ۱۱۰، ۱۱۱، ۱۱۲، ۱۱۳، ۱۱۴، ۱۱۵، ۱۱۶، ۱۱۷، ۱۱۸، ۱۱۹، ۱۲۰، ۱۲۱، ۱۲۲، ۱۲۳، ۱۲۴، ۱۲۵، ۱۲۶، ۱۲۷، ۱۲۸، ۱۲۹، ۱۳۰، ۱۳۱، ۱۳۲، ۱۳۳، ۱۳۴، ۱۳۵، ۱۳۶، ۱۳۷، ۱۳۸، ۱۳۹، ۱۴۰، ۱۴۱، ۱۴۲، ۱۴۳، ۱۴۴، ۱۴۵، ۱۴۶، ۱۴۷، ۱۴۸، ۱۴۹، ۱۵۰، ۱۵۱، ۱۵۲، ۱۵۳، ۱۵۴، ۱۵۵، ۱۵۶، ۱۵۷، ۱۵۸، ۱۵۹، ۱۶۰، ۱۶۱، ۱۶۲، ۱۶۳، ۱۶۴، ۱۶۵، ۱۶۶، ۱۶۷، ۱۶۸، ۱۶۹، ۱۷۰، ۱۷۱، ۱۷۲، ۱۷۳، ۱۷۴، ۱۷۵، ۱۷۶، ۱۷۷، ۱۷۸، ۱۷۹، ۱۸۰، ۱۸۱، ۱۸۲، ۱۸۳، ۱۸۴، ۱۸۵، ۱۸۶، ۱۸۷، ۱۸۸، ۱۸۹، ۱۹۰، ۱۹۱، ۱۹۲، ۱۹۳، ۱۹۴، ۱۹۵، ۱۹۶، ۱۹۷، ۱۹۸، ۱۹۹، ۲۰۰، ۲۰۱، ۲۰۲، ۲۰۳، ۲۰۴، ۲۰۵، ۲۰۶، ۲۰۷، ۲۰۸، ۲۰۹، ۲۱۰، ۲۱۱، ۲۱۲، ۲۱۳، ۲۱۴، ۲۱۵، ۲۱۶، ۲۱۷، ۲۱۸، ۲۱۹، ۲۲۰، ۲۲۱، ۲۲۲، ۲۲۳، ۲۲۴، ۲۲۵، ۲۲۶، ۲۲۷، ۲۲۸، ۲۲۹، ۲۳۰، ۲۳۱، ۲۳۲، ۲۳۳، ۲۳۴، ۲۳۵، ۲۳۶، ۲۳۷، ۲۳۸، ۲۳۹، ۲۴۰، ۲۴۱، ۲۴۲، ۲۴۳، ۲۴۴، ۲۴۵، ۲۴۶، ۲۴۷، ۲۴۸، ۲۴۹، ۲۵۰، ۲۵۱، ۲۵۲، ۲۵۳، ۲۵۴، ۲۵۵، ۲۵۶، ۲۵۷، ۲۵۸، ۲۵۹، ۲۶۰، ۲۶۱، ۲۶۲، ۲۶۳، ۲۶۴، ۲۶۵، ۲۶۶، ۲۶۷، ۲۶۸، ۲۶۹، ۲۷۰، ۲۷۱، ۲۷۲، ۲۷۳، ۲۷۴، ۲۷۵، ۲۷۶، ۲۷۷، ۲۷۸، ۲۷۹، ۲۸۰، ۲۸۱، ۲۸۲، ۲۸۳، ۲۸۴، ۲۸۵، ۲۸۶، ۲۸۷، ۲۸۸، ۲۸۹، ۲۹۰، ۲۹۱، ۲۹۲، ۲۹۳، ۲۹۴، ۲۹۵، ۲۹۶، ۲۹۷، ۲۹۸، ۲۹۹، ۳۰۰، ۳۰۱، ۳۰۲، ۳۰۳، ۳۰۴، ۳۰۵، ۳۰۶، ۳۰۷، ۳۰۸، ۳۰۹، ۳۱۰، ۳۱۱، ۳۱۲، ۳۱۳، ۳۱۴، ۳۱۵، ۳۱۶، ۳۱۷، ۳۱۸، ۳۱۹، ۳۲۰، ۳۲۱، ۳۲۲، ۳۲۳، ۳۲۴، ۳۲۵، ۳۲۶، ۳۲۷، ۳۲۸، ۳۲۹، ۳۳۰، ۳۳۱، ۳۳۲، ۳۳۳، ۳۳۴، ۳۳۵، ۳۳۶، ۳۳۷، ۳۳۸، ۳۳۹، ۳۴۰، ۳۴۱، ۳۴۲، ۳۴۳، ۳۴۴، ۳۴۵، ۳۴۶، ۳۴۷، ۳۴۸، ۳۴۹، ۳۵۰، ۳۵۱، ۳۵۲، ۳۵۳، ۳۵۴، ۳۵۵، ۳۵۶، ۳۵۷، ۳۵۸، ۳۵۹، ۳۶۰، ۳۶۱، ۳۶۲، ۳۶۳، ۳۶۴، ۳۶۵، ۳۶۶، ۳۶۷، ۳۶۸، ۳۶۹، ۳۷۰، ۳۷۱، ۳۷۲، ۳۷۳، ۳۷۴، ۳۷۵، ۳۷۶، ۳۷۷، ۳۷۸، ۳۷۹، ۳۸۰، ۳۸۱، ۳۸۲، ۳۸۳، ۳۸۴، ۳۸۵، ۳۸۶، ۳۸۷، ۳۸۸، ۳۸۹، ۳۹۰، ۳۹۱، ۳۹۲، ۳۹۳، ۳۹۴، ۳۹۵، ۳۹۶، ۳۹۷، ۳۹۸، ۳۹۹، ۴۰۰، ۴۰۱، ۴۰۲، ۴۰۳، ۴۰۴، ۴۰۵، ۴۰۶، ۴۰۷، ۴۰۸، ۴۰۹، ۴۱۰، ۴۱۱، ۴۱۲، ۴۱۳، ۴۱۴، ۴۱۵، ۴۱۶، ۴۱۷، ۴۱۸، ۴۱۹، ۴۲۰، ۴۲۱، ۴۲۲، ۴۲۳، ۴۲۴، ۴۲۵، ۴۲۶، ۴۲۷، ۴۲۸، ۴۲۹، ۴۳۰، ۴۳۱، ۴۳۲، ۴۳۳، ۴۳۴، ۴۳۵، ۴۳۶، ۴۳۷، ۴۳۸، ۴۳۹، ۴۴۰، ۴۴۱، ۴۴۲، ۴۴۳، ۴۴۴، ۴۴۵، ۴۴۶، ۴۴۷، ۴۴۸، ۴۴۹، ۴۵۰، ۴۵۱، ۴۵۲، ۴۵۳، ۴۵۴، ۴۵۵، ۴۵۶، ۴۵۷، ۴۵۸، ۴۵۹، ۴۶۰، ۴۶۱، ۴۶۲، ۴۶۳، ۴۶۴، ۴۶۵، ۴۶۶، ۴۶۷، ۴۶۸، ۴۶۹، ۴۷۰، ۴۷۱، ۴۷۲، ۴۷۳، ۴۷۴، ۴۷۵، ۴۷۶، ۴۷۷، ۴۷۸، ۴۷۹، ۴۸۰، ۴۸۱، ۴۸۲، ۴۸۳، ۴۸۴، ۴۸۵، ۴۸۶، ۴۸۷، ۴۸۸، ۴۸۹، ۴۹۰، ۴۹۱، ۴۹۲، ۴۹۳، ۴۹۴، ۴۹۵، ۴۹۶، ۴۹۷، ۴۹۸، ۴۹۹، ۵۰۰، ۵۰۱، ۵۰۲، ۵۰۳، ۵۰۴، ۵۰۵، ۵۰۶، ۵۰۷، ۵۰۸، ۵۰۹، ۵۱۰، ۵۱۱، ۵۱۲، ۵۱۳، ۵۱۴، ۵۱۵، ۵۱۶، ۵۱۷، ۵۱۸، ۵۱۹، ۵۲۰، ۵۲۱، ۵۲۲، ۵۲۳، ۵۲۴، ۵۲۵، ۵۲۶، ۵۲۷، ۵۲۸، ۵۲۹، ۵۳۰، ۵۳۱، ۵۳۲، ۵۳۳، ۵۳۴، ۵۳۵، ۵۳۶، ۵۳۷، ۵۳۸، ۵۳۹، ۵۴۰، ۵۴۱، ۵۴۲، ۵۴۳، ۵۴۴، ۵۴۵، ۵۴۶، ۵۴۷، ۵۴۸، ۵۴۹، ۵۵۰، ۵۵۱، ۵۵۲، ۵۵۳، ۵۵۴، ۵۵۵، ۵۵۶، ۵۵۷، ۵۵۸، ۵۵۹، ۵۶۰، ۵۶۱، ۵۶۲، ۵۶۳، ۵۶۴، ۵۶۵، ۵۶۶، ۵۶۷، ۵۶۸، ۵۶۹، ۵۷۰، ۵۷۱، ۵۷۲، ۵۷۳، ۵۷۴، ۵۷۵، ۵۷۶، ۵۷۷، ۵۷۸، ۵۷۹، ۵۸۰، ۵۸۱، ۵۸۲، ۵۸۳، ۵۸۴، ۵۸۵، ۵۸۶، ۵۸۷، ۵۸۸، ۵۸۹، ۵۹۰، ۵۹۱، ۵۹۲، ۵۹۳، ۵۹۴، ۵۹۵، ۵۹۶، ۵۹۷، ۵۹۸، ۵۹۹، ۶۰۰، ۶۰۱، ۶۰۲، ۶۰۳، ۶۰۴، ۶۰۵، ۶۰۶، ۶۰۷، ۶۰۸، ۶۰۹، ۶۱۰، ۶۱۱، ۶۱۲، ۶۱۳، ۶۱۴، ۶۱۵، ۶۱۶، ۶۱۷، ۶۱۸، ۶۱۹، ۶۲۰، ۶۲۱، ۶۲۲، ۶۲۳، ۶۲۴، ۶۲۵، ۶۲۶، ۶۲۷، ۶۲۸، ۶۲۹، ۶۳۰، ۶۳۱، ۶۳۲، ۶۳۳، ۶۳۴، ۶۳۵، ۶۳۶، ۶۳۷، ۶۳۸، ۶۳۹، ۶۴۰، ۶۴۱، ۶۴۲، ۶۴۳، ۶۴۴، ۶۴۵، ۶۴۶، ۶۴۷، ۶۴۸، ۶۴۹، ۶۵۰، ۶۵۱، ۶۵۲، ۶۵۳، ۶۵۴، ۶۵۵، ۶۵۶، ۶۵۷، ۶۵۸، ۶۵۹، ۶۶۰، ۶۶۱، ۶۶۲، ۶۶۳، ۶۶۴، ۶۶۵، ۶۶۶، ۶۶۷، ۶۶۸، ۶۶۹، ۶۷۰، ۶۷۱، ۶۷۲، ۶۷۳، ۶۷۴، ۶۷۵، ۶۷۶، ۶۷۷، ۶۷۸، ۶۷۹، ۶۸۰، ۶۸۱، ۶۸۲، ۶۸۳، ۶۸۴، ۶۸۵، ۶۸۶، ۶۸۷، ۶۸۸، ۶۸۹، ۶۹۰، ۶۹۱، ۶۹۲، ۶۹۳، ۶۹۴، ۶۹۵، ۶۹۶، ۶۹۷، ۶۹۸، ۶۹۹، ۷۰۰، ۷۰۱، ۷۰۲، ۷۰۳، ۷۰۴، ۷۰۵، ۷۰۶، ۷۰۷، ۷۰۸، ۷۰۹، ۷۱۰، ۷۱۱، ۷۱۲، ۷۱۳، ۷۱۴، ۷۱۵، ۷۱۶، ۷۱۷، ۷۱۸، ۷۱۹، ۷۲۰، ۷۲۱، ۷۲۲، ۷۲۳، ۷۲۴، ۷۲۵، ۷۲۶، ۷۲۷، ۷۲۸، ۷۲۹، ۷۳۰، ۷۳۱، ۷۳۲، ۷۳۳، ۷۳۴، ۷۳۵، ۷۳۶، ۷۳۷، ۷۳۸، ۷۳۹، ۷۴۰، ۷۴۱، ۷۴۲، ۷۴۳، ۷۴۴، ۷۴۵، ۷۴۶، ۷۴۷، ۷۴۸، ۷۴۹، ۷۵۰، ۷۵۱، ۷۵۲، ۷۵۳، ۷۵۴، ۷۵۵، ۷۵۶، ۷۵۷، ۷۵۸، ۷۵۹، ۷۶۰، ۷۶۱، ۷۶۲، ۷۶۳، ۷۶۴، ۷۶۵، ۷۶۶، ۷۶۷، ۷۶۸، ۷۶۹، ۷۷۰، ۷۷۱، ۷۷۲، ۷۷۳، ۷۷۴، ۷۷۵، ۷۷۶، ۷۷۷، ۷۷۸، ۷۷۹، ۷۸۰، ۷۸۱، ۷۸۲، ۷۸۳، ۷۸۴، ۷۸۵، ۷۸۶، ۷۸۷، ۷۸۸، ۷۸۹، ۷۹۰، ۷۹۱، ۷۹۲، ۷۹۳، ۷۹۴، ۷۹۵، ۷۹۶، ۷۹۷، ۷۹۸، ۷۹۹، ۸۰۰، ۸۰۱، ۸۰۲، ۸۰۳، ۸۰۴، ۸۰۵، ۸۰۶، ۸۰۷، ۸۰۸، ۸۰۹، ۸۱۰، ۸۱۱، ۸۱۲، ۸۱۳، ۸۱۴، ۸۱۵، ۸۱۶، ۸۱۷، ۸۱۸، ۸۱۹، ۸۲۰، ۸۲۱، ۸۲۲، ۸۲۳، ۸۲۴، ۸۲۵، ۸۲۶، ۸۲۷، ۸۲۸، ۸۲۹، ۸۳۰، ۸۳۱، ۸۳۲، ۸۳۳، ۸۳۴، ۸۳۵، ۸۳۶، ۸۳۷، ۸۳۸، ۸۳۹، ۸۴۰، ۸۴۱، ۸۴۲، ۸۴۳، ۸۴۴، ۸۴۵، ۸۴۶، ۸۴۷، ۸۴۸، ۸۴۹، ۸۵۰، ۸۵۱، ۸۵۲، ۸۵۳، ۸۵۴، ۸۵۵، ۸۵۶، ۸۵۷، ۸۵۸، ۸۵۹، ۸۶۰، ۸۶۱، ۸۶۲، ۸۶۳، ۸۶۴، ۸۶۵، ۸۶۶، ۸۶۷، ۸۶۸، ۸۶۹، ۸۷۰، ۸۷۱، ۸۷۲، ۸۷۳، ۸۷۴، ۸۷۵، ۸۷۶، ۸۷۷، ۸۷۸، ۸۷۹، ۸۸۰، ۸۸۱، ۸۸۲، ۸۸۳، ۸۸۴، ۸۸۵، ۸۸۶، ۸۸۷، ۸۸۸، ۸۸۹، ۸۹۰، ۸۹۱، ۸۹۲، ۸۹۳، ۸۹۴، ۸۹۵، ۸۹۶، ۸۹۷، ۸۹۸، ۸۹۹، ۹۰۰، ۹۰۱، ۹۰۲، ۹۰۳، ۹۰۴، ۹۰۵، ۹۰۶، ۹۰۷، ۹۰۸، ۹۰۹، ۹۱۰، ۹۱۱، ۹۱۲، ۹۱۳، ۹۱۴، ۹۱۵، ۹۱۶، ۹۱۷، ۹۱۸، ۹۱۹، ۹۲۰، ۹۲۱، ۹۲۲، ۹۲۳، ۹۲۴، ۹۲۵، ۹۲۶، ۹۲۷، ۹۲۸، ۹۲۹، ۹۳۰، ۹۳۱، ۹۳۲، ۹۳۳، ۹۳۴، ۹۳۵، ۹۳۶، ۹۳۷، ۹۳۸، ۹۳۹، ۹۴۰، ۹۴۱، ۹۴۲، ۹۴۳، ۹۴۴، ۹۴۵، ۹۴۶، ۹۴۷، ۹۴۸، ۹۴۹، ۹۵۰، ۹۵۱، ۹۵۲، ۹۵۳، ۹۵۴، ۹۵۵، ۹۵۶، ۹۵۷، ۹۵۸، ۹۵۹، ۹۶۰، ۹۶۱، ۹۶۲، ۹۶۳، ۹۶۴، ۹۶۵، ۹۶۶، ۹۶۷، ۹۶۸، ۹۶۹، ۹۷۰، ۹۷۱، ۹۷۲، ۹۷۳، ۹۷۴، ۹۷۵، ۹۷۶، ۹۷۷، ۹۷۸، ۹۷۹، ۹۸۰، ۹۸۱، ۹۸۲، ۹۸۳، ۹۸۴، ۹۸۵، ۹۸۶، ۹۸۷، ۹۸۸، ۹۸۹، ۹۹۰، ۹۹۱، ۹۹۲، ۹۹۳، ۹۹۴، ۹۹۵، ۹۹۶، ۹۹۷، ۹۹۸، ۹۹۹، ۱۰۰۰، ۱۰۰۱، ۱۰۰۲، ۱۰۰۳، ۱۰۰۴، ۱۰۰۵، ۱۰۰۶، ۱۰۰۷، ۱۰۰۸، ۱۰۰۹، ۱۰۱۰، ۱۰۱۱، ۱۰۱۲، ۱۰۱۳، ۱۰۱۴، ۱۰۱۵، ۱۰۱۶، ۱۰۱۷، ۱۰۱۸، ۱۰۱۹، ۱۰۲۰، ۱۰۲۱، ۱۰۲۲، ۱۰۲۳، ۱۰۲۴، ۱۰۲۵، ۱۰۲۶، ۱۰۲۷، ۱۰۲۸، ۱۰۲۹، ۱۰۳۰، ۱۰۳۱، ۱۰۳۲، ۱۰۳۳، ۱۰۳۴، ۱۰۳۵، ۱۰۳۶، ۱۰۳۷، ۱۰۳۸، ۱۰۳۹، ۱۰۴۰، ۱۰۴۱، ۱۰۴۲، ۱۰۴۳، ۱۰۴۴، ۱۰۴۵، ۱۰۴۶، ۱۰۴۷، ۱۰۴۸، ۱۰۴۹، ۱۰۵۰، ۱۰۵۱، ۱۰۵۲، ۱۰۵۳، ۱۰۵۴، ۱۰۵۵، ۱۰۵۶، ۱۰۵۷، ۱۰۵۸، ۱۰۵۹، ۱۰۶۰، ۱۰۶۱، ۱۰۶۲، ۱۰۶۳، ۱۰۶۴، ۱۰۶۵، ۱۰۶۶، ۱۰۶۷، ۱۰۶۸، ۱۰۶۹، ۱۰۷۰، ۱۰۷۱، ۱۰۷۲، ۱۰۷۳، ۱۰۷۴، ۱۰۷۵، ۱۰۷۶، ۱۰۷۷، ۱۰۷۸، ۱۰۷۹، ۱۰۸۰، ۱۰۸۱، ۱۰۸۲، ۱۰۸۳، ۱۰۸۴، ۱۰۸۵، ۱۰۸۶، ۱۰۸۷، ۱۰۸۸، ۱۰۸۹، ۱۰۹۰، ۱۰۹۱، ۱۰۹۲، ۱۰۹۳، ۱۰۹۴، ۱۰۹۵، ۱۰۹۶، ۱۰۹۷، ۱۰۹۸، ۱۰۹۹، ۱۱۰۰، ۱۱۰۱، ۱۱۰۲، ۱۱۰۳، ۱۱۰۴، ۱۱۰۵، ۱۱۰۶، ۱۱۰۷، ۱۱۰۸، ۱۱۰۹، ۱۱۱۰، ۱۱۱۱، ۱۱۱۲، ۱۱۱۳، ۱۱۱۴، ۱۱۱۵، ۱۱۱۶، ۱۱۱۷، ۱۱۱۸، ۱۱۱۹، ۱۱۲۰، ۱۱۲۱، ۱۱۲۲، ۱۱۲۳، ۱۱۲۴، ۱۱۲۵، ۱۱۲۶، ۱۱۲۷، ۱۱۲۸، ۱۱۲۹، ۱۱۳۰، ۱۱۳۱، ۱۱۳۲، ۱۱۳۳، ۱۱۳۴، ۱۱۳۵، ۱۱۳۶، ۱۱۳۷، ۱۱۳۸، ۱۱۳۹، ۱۱۴۰، ۱۱۴۱، ۱۱۴۲، ۱۱۴۳، ۱۱۴۴، ۱۱۴۵، ۱۱۴۶، ۱۱۴۷، ۱۱۴۸، ۱۱۴۹، ۱۱۵۰، ۱۱۵۱، ۱۱۵۲، ۱۱۵۳، ۱۱۵۴، ۱۱۵۵، ۱۱۵۶، ۱۱۵۷، ۱۱۵۸، ۱۱۵۹، ۱۱۶۰، ۱۱۶۱، ۱۱۶۲، ۱۱۶۳، ۱۱۶۴، ۱۱۶۵، ۱۱۶۶، ۱۱۶۷، ۱۱۶۸، ۱۱۶۹، ۱۱۷۰، ۱۱۷۱، ۱۱۷۲، ۱۱۷۳، ۱۱۷۴، ۱۱۷۵، ۱۱۷۶، ۱۱۷۷، ۱۱۷۸، ۱۱۷۹، ۱۱۸۰، ۱۱۸۱، ۱۱۸۲، ۱۱۸۳، ۱۱۸۴، ۱۱۸۵، ۱۱۸۶، ۱۱۸۷، ۱۱۸۸، ۱۱۸۹، ۱۱۹۰، ۱۱۹۱، ۱۱۹۲، ۱۱۹۳، ۱۱۹۴، ۱۱۹۵، ۱۱۹۶، ۱۱۹۷، ۱۱۹۸، ۱۱۹۹، ۱۲۰۰، ۱۲۰۱، ۱۲۰۲، ۱۲۰۳، ۱۲۰۴، ۱۲۰۵، ۱۲۰۶، ۱۲۰۷، ۱۲۰۸، ۱۲۰۹، ۱۲۱۰، ۱۲۱۱، ۱۲۱۲، ۱۲۱۳، ۱۲۱۴، ۱۲۱۵، ۱۲۱۶، ۱۲۱۷، ۱۲۱۸، ۱۲۱۹، ۱۲۲۰، ۱۲۲۱، ۱۲۲۲، ۱۲۲۳، ۱۲۲۴، ۱۲۲۵، ۱۲۲۶، ۱۲۲۷، ۱۲۲۸، ۱۲۲۹، ۱۲۳۰، ۱۲۳۱، ۱۲۳۲، ۱۲۳۳، ۱۲۳۴، ۱۲۳۵، ۱۲۳۶، ۱۲۳۷، ۱۲۳۸، ۱۲۳۹، ۱۲۴۰، ۱۲۴۱، ۱۲۴۲، ۱۲۴۳، ۱۲۴۴، ۱۲۴۵، ۱۲۴۶، ۱۲۴۷، ۱۲۴۸، ۱۲۴۹، ۱۲۵۰، ۱۲۵۱، ۱۲۵۲، ۱۲۵۳، ۱۲۵۴، ۱۲۵۵، ۱۲۵۶، ۱۲۵۷، ۱۲۵۸، ۱۲۵۹، ۱۲۶۰، ۱۲۶۱، ۱۲۶۲، ۱۲۶۳، ۱۲۶۴، ۱۲۶۵، ۱۲۶۶، ۱۲۶۷، ۱۲۶۸، ۱۲۶۹، ۱۲۷۰، ۱۲۷۱، ۱۲۷۲، ۱۲۷۳، ۱۲۷۴، ۱۲۷۵، ۱۲۷۶، ۱۲۷۷، ۱۲۷۸، ۱۲۷۹، ۱۲۸۰، ۱۲۸۱، ۱۲۸۲، ۱۲۸۳، ۱۲۸۴، ۱۲۸۵، ۱۲۸۶، ۱۲۸۷، ۱۲۸۸، ۱۲۸۹، ۱۲۹۰، ۱۲۹۱، ۱۲۹۲، ۱۲۹۳، ۱۲۹۴، ۱۲۹۵، ۱۲۹۶، ۱۲۹۷، ۱۲۹۸، ۱۲۹۹، ۱۳۰۰، ۱۳۰۱، ۱۳۰۲، ۱۳۰۳، ۱۳۰۴، ۱۳۰۵، ۱۳۰۶، ۱۳۰۷، ۱۳۰۸، ۱۳۰۹، ۱۳۱۰، ۱۳۱۱، ۱۳۱۲، ۱۳۱۳، ۱۳۱۴، ۱۳۱۵، ۱۳۱۶، ۱۳۱۷، ۱۳۱۸، ۱۳۱۹، ۱۳۲۰، ۱۳۲۱، ۱۳۲۲، ۱۳۲۳، ۱۳۲۴، ۱۳۲۵، ۱۳۲۶، ۱۳۲۷، ۱۳۲۸، ۱۳۲۹، ۱۳۳۰، ۱۳۳۱، ۱۳۳۲، ۱۳۳۳، ۱۳۳۴، ۱

د شپږم څپرکي پوښتنې او تمرین

څلور ځوابه سوالونه

- 1 - د اروماتونو لومړنۍ مرکب یعنې بنزین د کوم عالم په واسطه له عضوي مرکبونو څخه استحصال شو؟
الف - مایکل فارادی، ب - Mycal Farady، ج - کیکولي، د - الف اوب دواړه سم دی
- 2 - له لاندې مرکبونو څخه کوم یو اروماتیک دی؟



د - دویم او دریم دواړه سم دي

- 3 - له لاندې مطالبو څخه کوم یو د بنزین د مالیکول په اړه سم دي؟
الف - د هایدروجن 12 اتومه لري، ب - د کاربن تر منځ اړیکې ساده دي، ج - د کاربن - کاربن تر منځ اړیکې نه یوگونې او نه دوه گونې دي، د - یو کره یی جوړښت نه دی.
- 4 - د بنزین حرارتي مقاومت څومره دی؟

الف - تر 700°C ، ب - تر 1900°C ، ج - تر 900°C ، د - تر 920°C .

5 - د بنزین په مالیکول کې څو الکترونونو د π اوربیتالونه پې نیولي دي؟

الف - 6 الکترونونو، ب - 6 الکترونونو، ج - 12 الکترونونو، د - 16 الکترونونو

6 - هغه کرۍ د اروماتیک خاصیت لرونکې ده چې دهغې د پای π الکترونونو شمېر له..... سره سمون ولري.

الف - $(4n+2)$ ، ب - $(2n+4)$ ، ج - $(3n+2)$ ، د - هیڅ یو

7 - په 200°C تو دوخه، د Pt او Ni د کتلست په شتون او لوړ فشار کې کیدای شي چې د هایدروجن درې مالیکوله پر بنزین ورزیات او..... په لاس راوړشي:

الف - Cyclo Hexene، ب - Cyclo Hexane، ج - Hexane، د - بنزین جمعي تعامل سرته رسولی نه شي.

8 - د اروماتونو په کرۍ کې د نایټرو دگروپ (NO_2) دننه کول د..... تعامل په نوم یادوي:

الف - نایټریشن، ب - Nitration، ج - الف اوب دواړه، د - هیڅ یو.

9 - د بنزین په کرۍ او د هغه په مالیکولونو باندې د الکیل دگروپ نښلول د----- په نوم یادېږي.

الف - هایدریشن، ب - الکیلیشن، ج - Alkylation، د - ب اوج دواړه.

10 - کومې لاندې جملې د نفتالین په هکله صحیح دي؟

الف: دا مرکب د C_{10}H_8 د مالیکولي فورمول لرونکی دی.

ب: نوموړی مرکب له هایدروجن سره د کوټې په تو دوخه کې تعامل کوي:

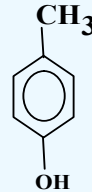
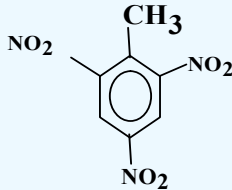
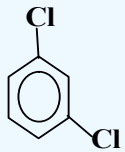
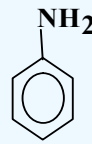
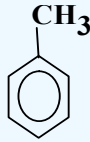
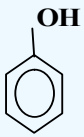
ج: یو الفاتیک مرکب دی:

د - الف اوب دواړه

تشریحي پوښتنې :

1 - د بنزین په مالیکول کې د اړیکو د څرنگوالي په اړه څرگندونې وکړئ.

2 - د لاندې مرکبونو نوم ایښودنه وکړئ:



3 - د لاندې اروماتیک مرکبونو ساختماني فورمولونه ولیکئ:

(a) nitro benzen , b) m-chlorophenol , c) p-chlorophenol

d) o- ethyl nitro benzene ,e) 1- bromo-2-methyl -3- phenyl cyclohexane

4 - C_8H_{10} د مالیکولي فورمول لرونکي اروماتیک مرکب د ایزومیریو ساختماني فورمولونه ولیکئ.

5 - د لاندې مرکبونو د سون د تعاملونو (Combustion) معادلې ولیکئ:

الف - بنزین ب - تالوین ج - نفتالین د - انتراسین

6 - د بنزین له لاندې تعاملونو څخه کوم یو د ریدوکس د تعاملونو له ډولو څخه دی ؟ په دې اړه څرگندونه وکړئ:

الف - نایتریشن ب - سلفونیشن ج - برومینیشن د - الکالیشن

7 - خولیتړه هایډروجن ته اړتیا ده چې ترڅو 15.6 گرامه بنزین مشبوع کړي (په STP شرایطو)

8 - د فریدل گرفت د تعامل د میتود پر بنسټ، له 26.5 گرامه الکایل بنزین څخه 0.25 مول بنزین لاسته راغلي دي، د بنزین د لاسته راغلي مشتق جوړښت وټاکئ.

9 - بنزین ته له هغو مرکبونو سره تعامل ورکړئ کوم چه بیوتایل بنزین او وینایل بنزین حاصل شي

10 - د $NaOH$ محلول 750 ملي لیتره له سوډیم بنزویت سره تعامل کړی چې 23.4 گرامه بنزین تولید شوي دي، د سوډیم هایډروکساید مولاریتي لاسته راوړئ.

اووم خپرکی

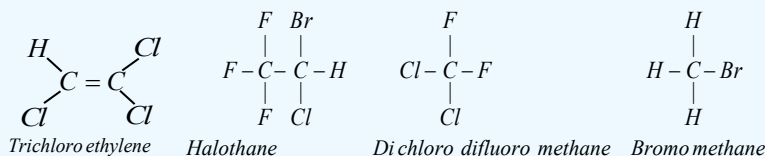
الکایل هلايدونه

که چيرې د هايډروکاربنونو د هايډروجن اتومونه د هلوچنونو د يو او يا څو اتومونو په واسطه تعويض شي، د هلايدونو په نامه د هايډروکاربنونو هلوچني مشتقات منځ ته راځي. دا مرکبونه د انسانانو په ژوند او صنعت کې بنسټيز رول لوبوي. د هغوی فورمول $R - X$ دی. په دې خپرکي کې دا مرکبونه څيرل شوي دي. د دې خپرکي په لوستلو به زده کړئ چې الکایل هلايدونه څه ډول عضوي مرکبونه دي او کوم خواص لري؟ څرنگه کيدای شي چې هغوی په لاس راوړل شي؟ د طبابت او صنعت په کومو برخوکې په کار وړل کيږي؟ څرنگه د دې مرکبونو نوم اېښودنه کيږي؟ د دې خپرکي په مطالعې به له الکایل هلوچنيدونو سره اشنا او د هغوی کارونه به په بېلابېلو برخوکې زده کړئ.

7-1: الکایل هالایدونه

الکایل هالایدونه د هایدروکاربنونو هلوچني مشتقات دي چې د هلوچنونو په واسطه د هایدروکاربنونو یو او یا خو د هایدروجن د اټومونو د تعویض له امله لاسته راځي. تر اوسه د فلورین، کلورین، برومین او ایودین مرکبونه پیژندل شوي دي. د هایدروکاربنونو هالایدونه کیدای شي، مونو هالایدونه او یا پولي هالایدونه وي.

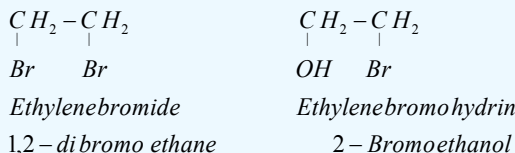
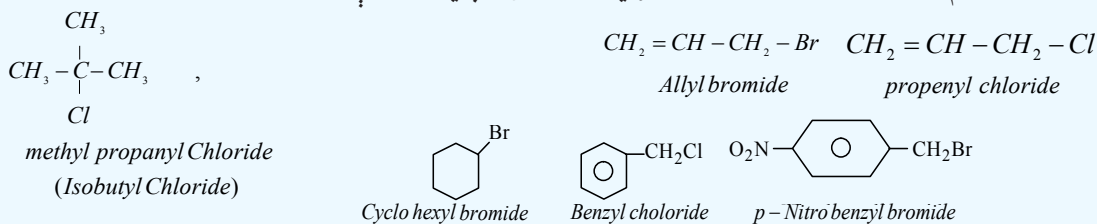
عضوي هلوچن لرونکي مرکبونه په طبیعت کې خورا ډېر دي چې په ننني صنعت کې ډېر کارول کېږي، په طبیعي توکو کې موندل کېږي. په زرگونو هلوچن لرونکي عضوي مرکبونه په الجیو او په نور سمندري ژوندیو موجوداتو کې شته دي؛ د بیلګې په ډول: د سمندرونو په قهوه ای رنگه الجیو کې CH_3Cl شته دی او د ځنگلونو د سوزیدو او د اورشیندونکو پر مهال هم تولیدیږي. په صنعت کې له دې مرکبونو څخه د حل کوونکي په توګه او د والګي ناروغۍ په وخت کې د درمل په توګه ګټه اخیستل کېږي، ترای کلورو ایتلین په الکترونيکي صنایعو کې ډېر کارول کېږي. د الکایل هالایدونو ځینې مرکبونه په لاندې ډول دي:



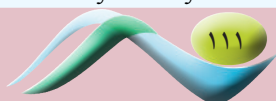

ترای کلورو ایتلین ښه محلول دی، هلوټان انسټیزیک او بې هوشه کوونکي ماده ده.

7-1-1 د الکایل هالایدونو نوم ایښودنه

د الکایل هالایدونو عمومي فورمول $C_nH_{2n+1}X$ دی. په دې فورمول کې X کیدای شي I, Br, Cl, F وي. د الکایل هالایدونو نوم ایښودنه داسې ترسره کېږي چې په لومړي سر کې د الکایل د راډیکال نوم لیکل کېږي او بیا د هلوچنونو نوم د صفت په بڼه د ide وروستاري سره لیکل کېږي؛ د بیلګې په ډول:

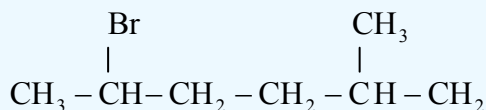


الکایل هالایدونه هم د لومړني (Primary)، دویمي (Secondary)، او دریمي (Tertiary) په دې بنسټ چې هلوچن د کاربن له کوم ډول اټوم سره اړیکه لري، ویشل شوي دي او دا کلمې د هغوی د نومونو په سر کې ورزیاتېږي؛ د بیلګې په توګه:



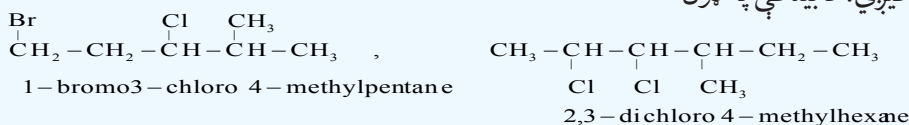
د الکایل هالایدونو نوم ایښودنه د ایوپیک IUPAC په سیستم داسې ترسره کیږي چې دکاربن اوږد زنځیر د اصلي زنځیر په توګه منل کیږي، د دوه ګونې یا درې ګونې اړیکې د شتون په صورت کې، په اصلي زنځیر کې باید دا اړیکې شتون ولري.

د هایډروکاربنونو د زنځیر نمبر وهل له هغه سر څخه پیل کیږي چې د هلوجن معاوضه هغې سر ته نژدې وي. د یادونې وړده چې د کاربنې بنسټیز زنځیر ښاخونه هم په دې مرکبونو کې په پام کې نیول کیږي، د پاتې شونو د هالایدونو وظیفه یې ګروپونو نوم داسې لیکل کیږي چې د پاتې شونو د انګلیسي الفبا د نوم د لومړیو تورو ترتیب باید په پام کې ونیول شي؛ د بیلګې په ډول:



2-bromo-5-methylhexane

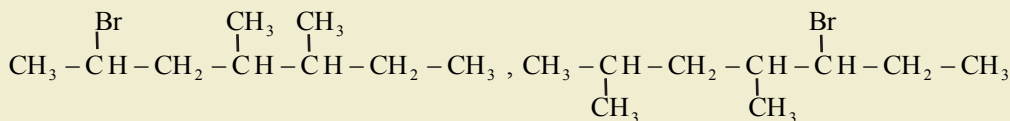
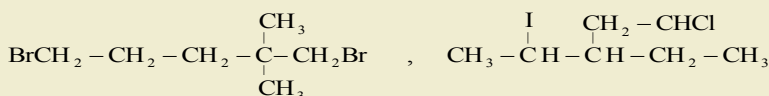
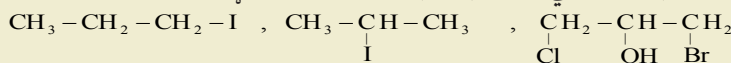
څرګندونه: که چېرې د عین هلوجنونو تعداد له یوې بې ځایه کونکې څخه ډېر وي، د هغوی د رقمونو شمېر په Tetra, Tri, Di او نورو وروستارو باندې ټاکل کیږي. که چېرې ترکیب شوي هلوجنونه په مرکب کې بېلابېل هلوجنونه وي، د هغوی نومونه د انګریزي الفبا د تورو د وړاندې والي په وارسره د هغوی د مرکب په نوم ایښودنه کې لیکل کیږي؛ د بیلګې په ډول:



مشق او تمرین وکړئ



1 - د لاندې الکایل هالایدونو نوم ایښودنه په راډیکالي او د ایوپیک پر بنسټ ترسره کړئ:



2 - د لاندې مرکبونو د جوړښت فورمولونه ولیکئ:

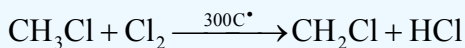
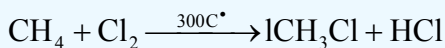
الف - 2-Chloro 3,3 - di methyl hexane

ب - 1,1-di bromo 4 - iso propylcycl ohexane

7 - 1 - 2: د الکایل هالایدونو لاس ته راوړنه

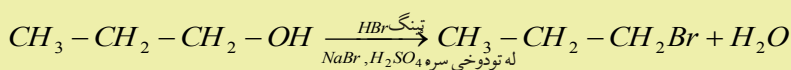
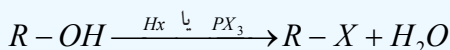
1 - د الکانونو د مستقیم هلوجنشن له لارې کیدای شي چې الکایل کلورایډ او الکایل برومایډ لاسته راوړل شي، دا تعاملونه د Chlorination او Bromination په نوم یا ډیري چې په راډیکالي بڼه ترسره کیږي، صنعتي اهمیت یې خورا ډېر دی چې له هغه څخه د الکایل هالایدونو بېلابېل مرکبونه جوړیږي او د تقطیر

په واسطه یوله بل څخه جلا کيږي. د الکانونو chlorination په چټکۍ سره ترسره او اړینه تودوخه يې 300°C ده:



په لابراتوارونو کې الکایل هالایډونه په لاندې ډول لاسته راوړل کيږي:

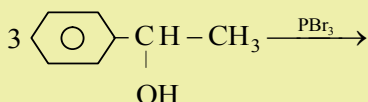
2 - الکولونه له هایډروجن هالایډونو سره تعامل کوي، په پایله کې الکایل هالایډونه او اوبه لاس ته راځي، په دې میتود کې د هایډروجن هالایډونو وچ گاز له الکولونو څخه تېروي:



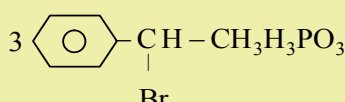
n - Propylalcohol

n - Propyl bromide

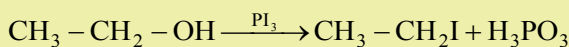
مثالونه:



1 - Phenylethanol



1 - Bromo - 1 - Phenylethane

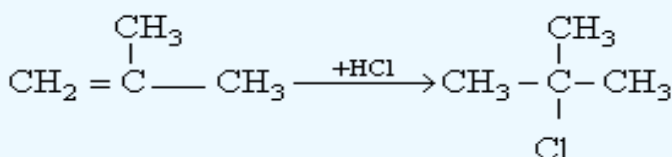


Ethylalcohol

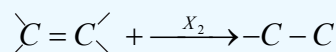
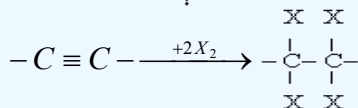
Ethyl iodide

3 - د هایډروجن هالایډونو اوډ الکینونو یا الکاینونو د جمعې تعامل په پایله کې هم الکایل هالایډ لاس ته راځي: د هایډروجن هالایډونو تعامل د الکینونو له اوږدو زنځیرونو سره د مارکوف نیکوف له قاعدې سره سم ترسره کيږي، داسې چې په الکینونو کې هایډروجن په هغه دوه گونې اړیکې لرونکي کاربن باندې نښلي چې د هایډروجن


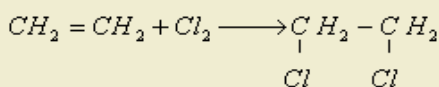
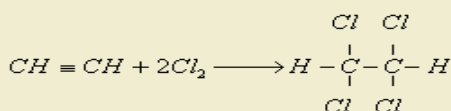
لومړني اتومونه په کې زیات وي:



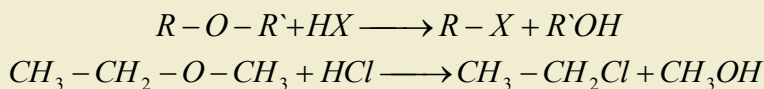
4 - د هلوچنونو اوډ الکینونو یا الکاینونو د جمعې تعاملونو په پایله کې الکایل هالایډونه لاسته راځي:



مثال:



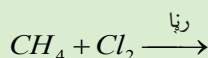
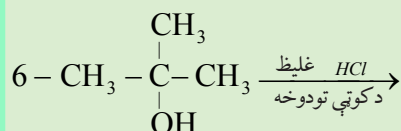
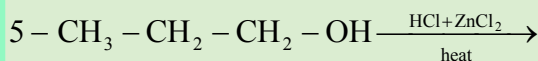
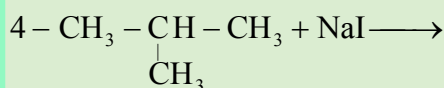
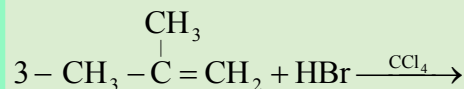
5 - د ایترونو او هایدروجن هالایدونو د تعامل په پایله کې هم الکایل هالایدونه لاسته راځي:



مشق او تمرین وکړئ



1 - لاندې معادلې بشپړې او توازن کړئ:



2 - د میتان د هلوچنیشن ټول پړاوونه ولیکئ:

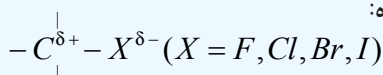
1-3: د الکایل هالایدونو فزیکي خواص

هغه الکایل هالایدونه چې د هغوی مالیکولي کتله لویه ده، د هغو الکایل هالایدونو پرتله چې د کاربن د اتومونو یوشان تعداد لري، د اېشېدو درجه یې لوړه ده، په دې بنسټ د الکایل هالایدونو د ایشیدو ټکی له فلورین څخه د ایوډین لوري ته په وار سره لوړېږي؛ د بیلگې په ډول: د میتایل کلوراید د ایشیدو ټکی $24^\circ C$ -، میتایل بروماید $4^\circ C$ او د میتایل ایوډاید $43^\circ C$ دی، سره له دې چې الکایل هالایدونه قطبي مرکبونه دي؛ خو له دې سره هم په اوبو کې نه حلېږي، ځکه هایدروجنی اړیکه نه شي جوړولی، دا مرکبونه په عضوي محلولونو؛ لکه: هایدروکاربنونو، الکولونو او ایترونو کې حلېږي.

د هایدروکاربنونو زیات هلوچني مشتقات بې رنگه او یا ژېړ رنگ او ځانگړی بوی لري. د الکانونو د ایوډین، برومین او پولي کلورین مشتقات لوړ کثافت لري چې له اوبو څخه هم لوړ دی.

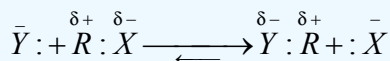
1-4: د الکایل هالایدونو کیمیايي خواص

د هلوچنونو اتومونه د هایدروکاربنونو په مشتقاتو کې اود هغوی له ډلې څخه په الکایل هلوچنیدونو کې د کاربن له اتومونو څخه الکترونیکاتیف دي او د کاربن - هلوچن اړیکه قطبي ده:



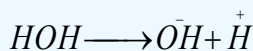
د هستې خوښوونکي (Nucleophilic) تعامل کوونکي په هالایدونو کې د هلوچنونو مشتق د یرغل لاندې نیسي او د کاربن له هغه اتوم سره چې د الکتروني وریځې کثافت یې لږ دی، اړیکه جوړوي او له مالیکول څخه هلوچن یې ځایه کوي چې په پایله کې د هلوچن اتوم په نوکلئوفیلیک پاتې شوني باندې تعویض کېږي، دا ډول

تعاملونه د نوکلیوفیلیک تعویضي تعاملونو (Nucleophilic Substitution) په نوم یادېږي او په S_N ښودل کېږي. نوکلیوفیلک تعویضي تعاملونه کیدای شي چې په دوو میخانیکیتونو ترسره شي او د S_N 2 (Bimolecular Nucleophilic Substitution) او S_N 1 (unimolecular Nucleophilic Substitution) تعویضي تعاملونو په نوم یادېږي، عددونه د تعامل د مالیکولونو د هغو ذرو شمیر ښیي چې د تعامل د عمومي چټکتیا په پړاوونو کې برخه اخلي. د Bimolecular تعامل عمومي بڼه، په لاندې ډول ښودل کېږي:

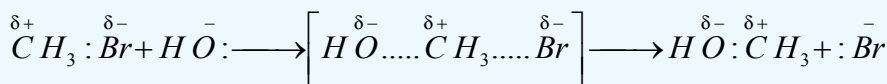


په دې پړاوې تعامل کې دواړه تعامل کوونکي مواد د تعامل په چټکتیا کې برخه اخلي او که چېرې د دوی غلظت یو بل سره نژدې وي، تعامل د S_N 2 په بڼه ښودل کېږي او د تعامل کوونکو دواړو موادو له غلظت سره متناسب دی.

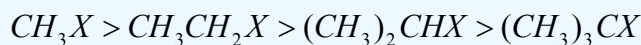
د الکایل هلایدونو بای مالیکولي هایدرولیز یو پړاوې تعامل دی، دا تعامل د انتقالی کمپلکس په جوړېدو (Transitional Complex) یا انتقالی حالت (Transition state) سره ترسره کېږي، چې د دې ډول تعامل بیلګه د میتایل بروماید هایدرولیز وړاندې کیدای شي، دا تعامل د نوکلیوفیلیک تعاملونو له ډولونو څخه دي؛ ځکه اوبه ازاد جوړه الکترونونه لري:



د تعامل میخانیکیت:



د کاربن اټوم ته د هایدروکساید د ایون نژدېوالی یوازې د برومین د اټوم له مخالف لوري څخه شونی دی، د کاربن اټوم ته د هایدروکساید د ایون نژدېوالی او د برومین لرې کیدل او د هغه بدلون د برومین په ایون باندې په عین وخت کې ترسره کېږي. په لیږدېدونکي کمپلکس کې منفي چارج د نوکلیوفیل گروپونو تر منځ چې وردننه او جلا کېږي، وېشل شوي دي، د S_N 2 د تعامل سرته رسیدل د نوکلیوفیل پاتې شونو نژدې کیدل د الکایل هلایدونو مالیکول ته د اهمیت وړ دي، د نارمل زنځیر لرونکي لومړني الکایل هلایدونه د دویمې الکایل هلایدونو په نسبت په اسانۍ سره تعامل کوي. په الکایل هلایدونو کې ښاخ لرونکي کاربنی سکلیټ د نوکلیوفیل معاوضې د نژدې کیدلو خنډ ګرځي. لاندې د الکایل هلایدونو سلسله چې د S_N 2 تعویضي تعاملونو چټکتیا په هغوی کې ټیټېږي، وګورئ:

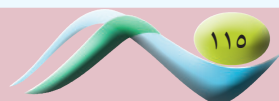
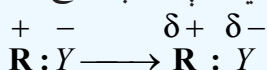


مونو مالیکولي تعویضي تعامل په دوو پړاوونو کې ترسره کېږي چې په لاندې ډول دی:

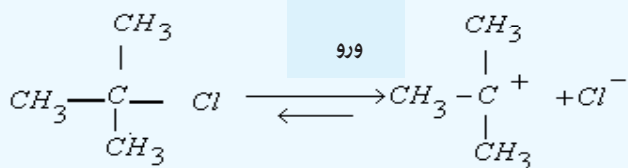
لومړی پړاو یې د تعامل کوونکو موادو ایونایزېشن او د کرب کټیون جوړېدل دي:



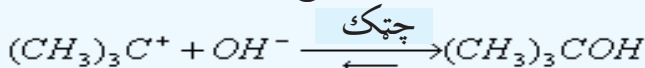
دویم پړاو یې د کرب کټیون اغیزه په نوکلیوفیل پاتې شوني باندې رامنځ ته کوي:



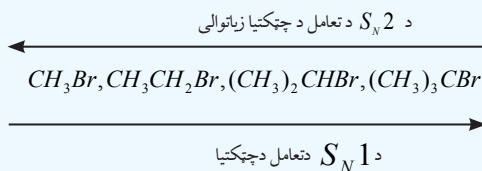
د تعامل چټکتیا د تعامل کوونکو موادو په غلظت پورې اړه لري او S_N1 باندې ښودل کېږي، تعویضي تعامل د S_N1 په ښه قطبي محلولونو کې په ښه توګه ترسره کېږي او په قلوي محیط کې یې ترسره کیدل لا ډېر شونی دی. د تعامل دغه پړاو یې په دریم بیوتایل کلوراید کې د بیلګې په توګه: په لاندې ډول مطالعه کوو:



په دویم پړاو کې د کرب کټیون او هایډروکساید د ایون ترمنځ تعامل ترسره کېږي:



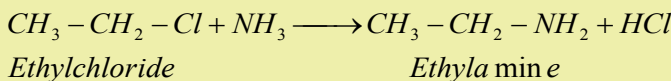
د عمومي قانون په پام کې نیولو سره، د څو پړاوې تعاملونو چټکتیا د هغوی، هغه پړاوونه ټاکي چې ورو، ورو ترسره کېږي؛ د بیلګې په ډول: په پورتنی تعامل کې د تعامل چټکتیا لومړی پړاو ټاکي، هر څومره چې د الکیل پاتې شوني د کرب کټیون پر اتوم باندې ډېر شي، په هماغه کچه کټیون ټینګیږي او تعامل د S_N1 په میخانیکیت ترسره کېږي. په لاندې سلسله کې د S_N1 او S_N2 تعاملونو د چټکتیا د بدلون لوري ښودل شوی دي:



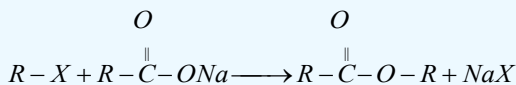
1- **د الکیل هالیدونو تعامل له امونیا سره:** ددې تعامل محصول لومړني امینونه او هایډروجن هالیدونه دي:

$$\text{R} - \text{X} + \text{NH}_3 \longrightarrow \text{R} - \text{NH}_2 + \text{HX}$$

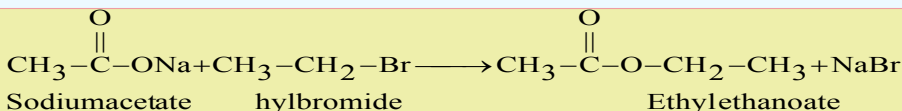
مثال:



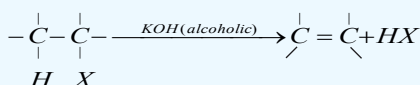
2- **له عضوي مالګو سره د الکیل هالیدونو تعامل:** که چېرې الکیل هالیدونه له عضوي مالګو سره تعامل وکړي ایسترونه جوړوي:



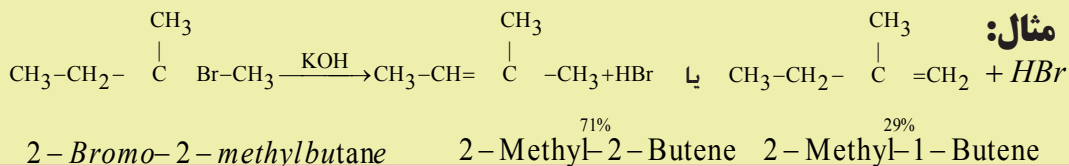
مثال:



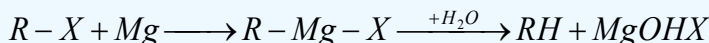
3- **د الکیل هالیدونو دې هایډروهلوجنیشن (Dehydrohalogenation):**



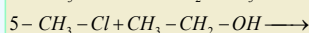
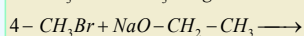
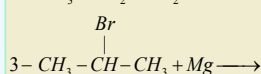
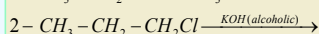
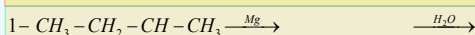
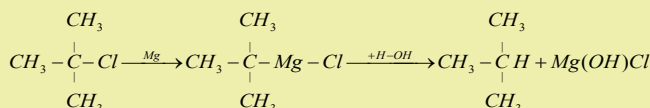
مثال:



4 - د الکایل هایدونو ارجاعي (Reduction) تعاملونه:



مثال:



مشق او تمرین وکړئ



لاندې تعاملونه بشپړ کړئ:

۱-۵: مهم الکایل هایدونه

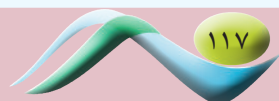
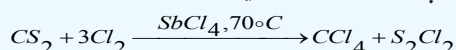
میتایل کلوراید (CH_3Cl) میتایل کلوراید د تودوخې په 23.7°C کې په ایشیدو راځي او هغه په 400°C تودوخې کې د میتان د کلورینشین تعامل په واسطه په لاس راوړي، همدارنگه دا مرکب د میتایل الکولو او هایدروجن کلوراید له تعامل څخه د لوړ فشار په بهیر کې هم لاسته راوړي. میتایل کلوراید په سپرونکو د ستګاو کې د سپرونکو د عامل په توګه هم په کاروړي.

کلوروفارم (CHCl_3)

کلوروفارم یا ترای کلورو میتان یوه بې رنگه مایع ده او ځانګړې خوږ بوی لري، دا مرکب د تودوخې په 62°C کې په ایشیدو راځي، د هغه کثافت 1.48g/mL دی. که چیرې کلوروفارم هایدرولیز شي، فارمیک اسید لاسته راځي چې د کلوروفارم نوم هم له همدې ځایه څخه اخیستل شوی دی. کلوروفارم د عضوي مرکبونو؛ لکه: کنډ، وازډې او ربړ ښه حلوونکی دی، دا مرکب قوي انسیتیزیک ځانګړتیا لري چې په 1848م کال کې په جراحی عملیاتو کې د عمومي بې هوشي په توګه په کار وړل کیده؛ په اوسنۍ پېړۍ کې له دې امله چې نورې ناروغۍ پیدا کوي، نو لږ په کاروړل کېږي. کلوروفارم په ازاده هوا کې اکسیدي کېږي چې د هغه د اکسیدیشن یو محصول هم فوسیجن (COCl_2) دی، فوسیجن یوه زهري ماده ده. د فوسیجن د مخنیوي لپاره له کلوروفارم سره 1% الکول ګډ او ورزیاتوي. په صنعت کې کلوروفارم د کلسیم هایپو کلوریت او ایتایل الکول د تعامل په پایله کې لاسته راوړي.

کاربن تترا کلوراید (CCl_4)

کاربن تترا کلوراید یا تترا کلورو میتان بې رنگه مایع ده، د ایشیدو درجه یې 76.5°C او د هغه کثافت 1.59g/mL دی. د عضوي مرکبونو؛ لکه: کنډ، وازډې، ربړ او نورو ښه حل کوونکی دی، کاربن تترا کلوراید نه سوزي او د اور ضد دستگاه کې د اور وژنې لپاره په لابراتوارونو او ګدامونو کې کارول کېږي، د دې دستگاه د کارولو په وخت کې فوسیجن هم تولیدېږي چې د دې ګاز شتون په تړلو ځایونو کې د کاربن-تتراکلوراید کارول خطرناک ګرځولی دی. کاربن تترا کلوراید د جامو په پاکولو او په بېلابېلو سنتیزونو کې په کار وړل کېږي. کاربن تترا کلوراید د کاربن سلفایډ او کلورین له تعامل څخه په لاندې ډول لاسته راوړي:





- الکایل هلايدونه د هايډروکاربنونو هلوچني مشتقات دي چې د هلوچنونو په واسطه د هايډروکاربنونو يو او يا څو د هايډروجن اتومونه د بې ځايه کيدو له امله لاسته راځي.
 - د الکایل هلايدونو عمومي فورمول $C_nH_{2n+1}X$ دی. په دې فورمول کې X کيدای شي I, Br, Cl, F وي.
 - الکایل هلايدونه هم لومړني (Primary)، دويمې (Secondary) او دريمې (Tertiary) هلايدونه لري، پر دې بنسټ د هلوچن د کاربن له کومو ډولونو اتومونو سره اړيکه لري، دا ویش تر سره شوی دی او دا کلمې د هغوی د نومونو په سر کې ورزياتيږي.
 - د الکانونو د مستقيم هلوچنشن له لارې کيدای شي چې الکایل کلورايد او الکایل برومايدونه لاس ته راوړل شي، دا تعاملونه Chlorination او Bromination په نوم يا ډيرې او په راډيکالي بڼه ترسره کيږي، صنعتي اهميت يې خو را ډېر دی چې له هغوی څخه د الکایل هلايدونو بېلابېل مرکبونه جوړيږي او د تقطير په واسطه يوله بل څخه جلا کيږي.
 - هغه الکایل هلايدونه چې د هغوی ماليکولي کتله لويه ده، د هغو الکایل هلايدونو په پرتله چې د کاربن د اتومونو يوشان شمير چې د خپل الکایل هلايدونو پاتې شوني باندې ولري، د ايشيدو درجه يې لوړه ده.
 - سره له دې چې الکایل هلايدونه قطبي مرکبونه دي؛ خو له دې سره هم په اوبو کې نه حلېږي، ځکه هايډروچني اړيکه نه شي جوړولی.
 - د هلوچنونو اتومونه د هايډروکاربنونو په مشتقاتو کې او د هغوی له ډلې څخه الکایل هلوچنيدونو کې د کاربن د اتومونو په نسبت الکترونيگاتيف دي او د کاربن - هلوچن اړيکه قطبي ده:
- $$-\overset{\sigma+}{C}-X^{\sigma-} \quad (X = F, Cl, Br, I)$$
- د هستې خوبوونکي تعامل کوونکي په هلايدونو کې د هلوچنونو مشتق د يرغل لاندې نيسي او د کاربن له هغه اتوم سره چې الکتروني ورېځي کثافت يې لږ دی، اړيکه جوړوي چې له ماليکول څخه يې هلوچن بې ځايه کوي او په پايله کې د هلوچن اتوم په نوکليوفيلک پاتې شوني په واسطه بې ځايه کيږي

داووم څپرکي پوښتنې

څلور ځوابه پوښتنې

1. الکایل هلايدونه د هايډروکاربنونو ----- مشتقات دي.
الف - هايډروچني، ب - هلوچني، ج - سلفري، د - اکسيچني.
2. د الکایل هلايدو عمومي فورمول ----- دي.
الف - $C_nH_{2n+1}X$ ، ب - C_nH_{2n+2} ، ج - C_nH_{2n+1} ، د - C_nH_{2n} .
3. د مارکوف نیکوف د قاعدې سره سم هايډروجن د دوه گوني اړيکې په هغه کاربن باندې نښلي کوم چې د هغه د

لومړنيو هايډروجنونو شمير ----- دی.

الف - لږ، ب - يوشان، ج - ډير، د - شتون ونه لري.

4- د $R-O-R'+HX \longrightarrow$ تعامل محصول ----- دی:

الف - ROH ، ب - $R-X$ ، ج - الف او ب دواړه، د - هيڅ يو.

5- د کلورين او ايتلين د تعامل محصول ----- دی:

الف - کلوروaitان، ب - ډاي کلوروaitلين، ج - ډای کلوروaitان، د - هيڅ يو

6- $CH_3-CH_2-CH_2Br$ نوم عبارت له ----- څخه دی:

الف - 1-bromopropane - ب 2-bromopropane - ج 3-bromopropane - د - هيڅ يو

7- ايتايل برومايد او سوډيم اسيتيت د تعامل محصول عبارت له ----- څخه دی.

الف - ايتايل اسيتيت او سوډيم برومايد، ب - ډای ايتايل ايستر او سوډيم برومايد، ج - ايتايل ايستر د - الف او ب سم دي.

8- د الکانونو هلوچني مشتقات په کوم نوم ياديږي؟

الف - اسايلونه، ب - هلوچنيدونه، ج - الکاييل هلايدونه، د - ارايل هلايدونه.

9- د تراى کلورو ايتلين فورمول عبارت له ----- دی.

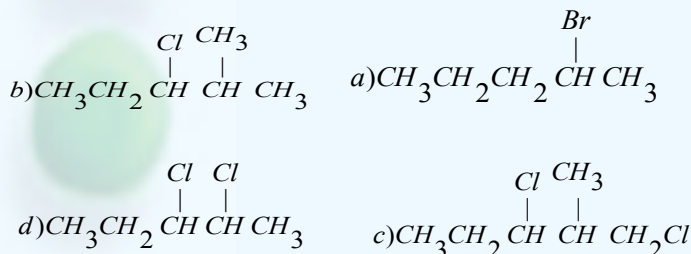
الف - $CHCl=CHCl$ ، ب - $CHCl=CCl_2$ ، ج - CH_3-CCl_3 ، د - هيڅ يو

10 - د کلورو فارم د ----- محصول يوه زهري ماده فوسجين ($Phosgene$) ده.

الف - ريډکشن، ب - اکسيډيشن، ج جمعي تعامل، د - تجريدي تعامل.

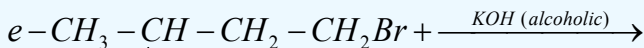
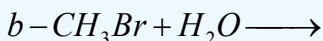
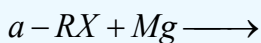
تشریحي پوښتنې

1- د لاندې مرکبونو نومونه د ايوپک پر بنسټ وليکئ:



2 - 1-chloro propane او $NaOH$ د تعويضي تعامل معادله وليکئ:

3 - د لاندې تعويضي تعاملونو معادلې بشپړې کړئ:



4 - د Chloro propane - او $NaOH$ د تعويضي تعامل محصول به کومه ماده وي؟

د حل طريقه: دواړه تعامل کوونکي مادې وليکئ او په هغوی کې نوکليوفيل مواد (د بيلگې په ډول: OH^-) او پاتې شوي گروپونه؛ (د بيلگې په ډول: Cl^-) و ټاکئ. د Cl^- گروپ د OH^- د گروپ په واسطه تعويض کړئ او بشپړه معادله يې وليکئ.

5. 1 - Bromopropane او 2 - Chloropropane له OH^- سره د S_N تعويضي تعامل ترسره کړی دی،

ستاسې په نظر دکومو نوموړو مرکبونو S_N تعامل به سريع وي؟

الف - Bromobenzen يا $(C_6H_5CH_2Br)$ benzylbromide يا CH_3Cl يا $(CH_3)_3CCl$

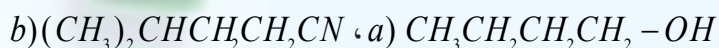
ج - $CH_3CH = CHBr$ يا $CH_2 = CHCH_2Br$.

6 - له لاندې جوړوالکاييل هلايدونو څخه به دکومو د S_N تعويضي تعامل له OH^- سره چټک وي؟

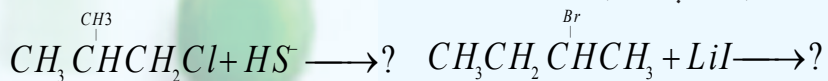
7 - د 3 - methyloc tan - 3 - ol او HBr له تعويضي تعامل څخه به کوم محصول د S_N د تعويضي تعامل د

ميخانيکيت په بنسټ تر لاسه شي؟ د محصولو اود تعامل کوونکو مواد فورمولونه يې وليکئ.

8. څرنگه کولی شئ چې دا لاندې مواد د نوکليوفيلي تعويضي تعاملونو پر بنسټ تر لاسه کړئ؟



9. لاندې معادلې بشپړې کړئ.



10 - د لاندې مرکبونو مشرح ماليکولي فورمولونه وليکئ؟

الف - 2,3 - dichloro - 4 - methyl hexane

ب - 4 - bromo - 4ethyl - 2 - methyl hexane

ج - 3 - iodo - 2,2,4,4 - tetramethyl pentan e

اتم خپرکی الکولونه او ایترونه

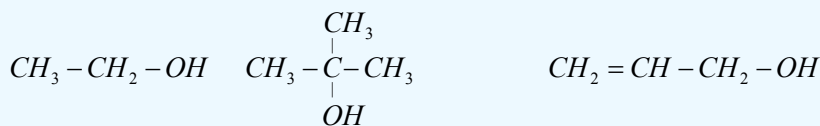


ډیر عضوي مرکبونه ځانگړي ډلې لري چې د وظیفه یي گروپونو (Functional groups) په نوم یادېږي. دا گروپونه له هایډروکاربنونو سره تعویضي تعاملونه ترسره کوي او په پایله کې د عضوي مرکبونو ځانگړي ټولگي جوړوي چې د هغوی له ډلې څخه د هایډروکسیل گروپ ($-OH$) او ایتروپ ($-O-$) دی.

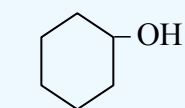
د هایډروکسیل او ایتروپونه د اشتراکي اړیکې په واسطه د هایډروکاربنونو له کاربن سره نښتي دي، په دې څپرکي کې د الکولو او ایترونو د خواصو، جوړښت او د استعمال ځایونو په هکله به معلومات تر لاسه کړئ او د دې څپرکي په مطالعه به پوه شئ چې الکولونه او ایترونه کوم ډول مرکبونه دي او د کوم ډول خواصو او جوړښتونو لرونکي دي؟ په صنعت کې په کومو برخو کې په کار وړل کېږي او څرنگه کیدای شي؛ هغوی په لاس راوړل شي؟

8 - 1: الکولونه (Alcohols)

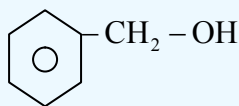
هغه عضوي مرکبونه چې په خپل ماليکولي ترکیب کې د OH وظیفه یي ګروپ ولري، د الکولو په نوم یادېږي. الکول عربي کلمه ده چې معنا یې د شرابو جوهر دی، د الکولو عمومي فورمول R-OH دی چې R کیدای شي د الکایل پاتې شوني د نارمل او یا منشعب زنځیر لرلوسره، الکیل، الکیلینل (د دوه ګوني او یا درې ګوني اړیکې لرونکي) اروماتیک کړی او داسې نور وي؛ د بیلګې په ډول:



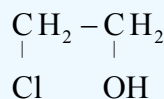
Ethyl alcohol 2-Methyl-2-Propanol Allyl alcohol



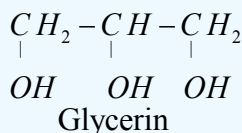
Cyclo hexanol



Benzyl alcohol

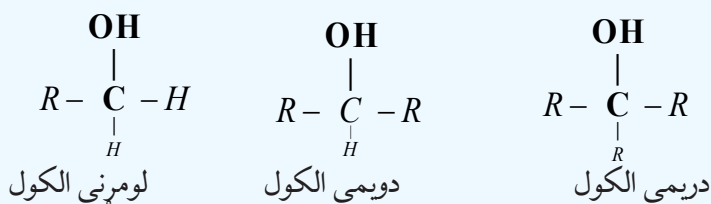


Ethylene chloro hydrin

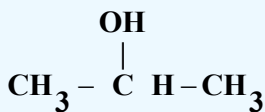


8 - 1 - 1: د الکولو نوم ایښودنه

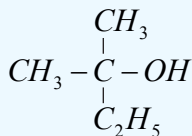
الکولونه د کاربن د اتومونو د شمیر پر بنسټ چې د کاربینول ګروپ یې ($\text{C} - \text{OH}$) سره اړیکه لري یعنې د هغه کاربن سره چې د هایډروکسیل ګروپ په کې نښتی دی، په درې ډلو ویشل شوي دي: لومړنی الکول (primary alcohol) (د OH-ګروپ له لومړني کاربن سره، دویمي الکول (secodary alcohol) (د هایډروکسیل ګروپ (OH-) دویم کاربن سره) او دریمي الکول (Tetiary alcohol) (چې د هایډروکسیل ګروپ (OH-) دریم کاربن سره اړیکه لري) دي چې د هغوی عمومي فورمولونه په لاندې ډول دي:



په پورتنیو فورمولونو کې R بېلابېلې عضوي پاتې شوني بڼې؛ یعنې کیدای شي الیفاتیک ($\text{CH}_3 -$) او یا اروماتیک (C_6H_5) او نور وي. ایتایل الکول (ایتانول) او بنزایل الکول د لومړنیو الکولونو ډولونه دي؛ خو ایزوپروپایل الکول د دویمي الکولونو له ډولونو څخه دی:



دويمی الکول

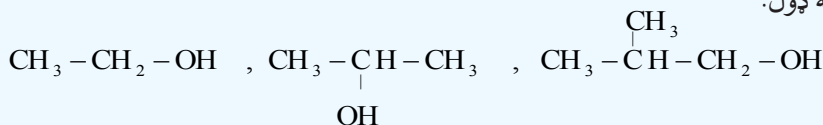


لومړنی الکول



لومړنی الکول

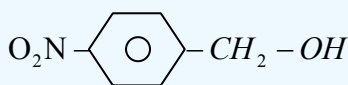
د الکولو عمومي نوم ایښودنه په دوو سیستمونو ترسره کېږي چې یو یې د معمولي یا رادیکالي سیستم (Common names) نوم ایښودنه ده، ساده الکولونه چې پخوا پیژندل شوي دي، په دې طریقې یې نوم ایښودنه کېږي؛ د بیلگې په ډول:



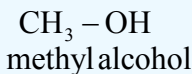
ethyl alcohol

isopropyl alcohol

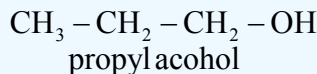
iso butyl alcohol



p - nitrobenzyl alcohol

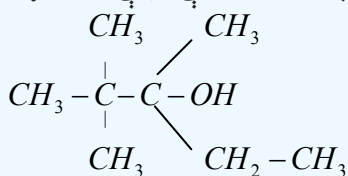


methyl alcohol



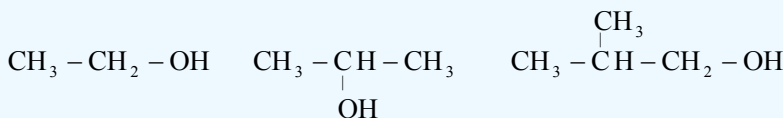
propyl alcohol

دوبلو وړ ده چې دا ډول نوم ایښودنه لږه کارول کېږي او په ښاخ لرونکو او اوږدو زنځیرونو کې د پلې کېدو وړ نه ده؛ د بیلگې په توګه:



2,2,3-trimethyl pentanol(3)

همدارنگه د الکولونو په نوم ایښودنه کې د الکولونو ډولونه (لومړني، دویمي او دریمي) هم ټاکل کېږي؛ د بیلگې په ډول: ایزوپروپیل الکول یو دویمي الکول دی او ایزوبیوتیل الکول یو لومړنی الکول دی؛ نو ددوی نوم ایښودنه په لاندې ډول هم ترسره کېږي.



Primary Ethyl alcohol

Isopropyl alcohol


Primary Methylpropyl alcohol

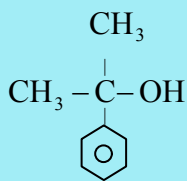
مشق او تمرین وکړئ



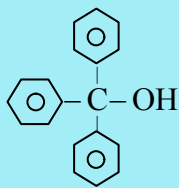
یو ډول الکول چې جمعي فورمول یې $\text{C}_7\text{H}_{15} - \text{OH}$ دی، په پام کې ونیسئ، اته بېلابېل جوړښتیز فورمولونه د هغه لپاره ولیکئ چې په هغوی کې لومړنی، دویمي او دریمي الکول وټاکل شي.

ډیر پوه شئ: ځینې وختونه د الکولونو نوم ایښودنه دهغوي $(-\text{C}-\text{OH})$ Carbinol د ګروپ پر بنسټ ترسره کېږي چې د کاربینول سیستم ورته وایي. په دې ټک لاره کې الکولونه داسې په پام کې نیول کېږي چې له کاربینول څخه په لاس راغلي دي؛ نو $\text{CH}_3 - \text{OH}$ ته هم کاربینول وایي. د هغې نورې بیلگې عبارت دي له:

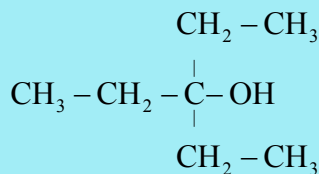




dimethyl phenyl
carbinol

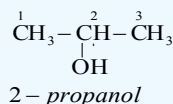
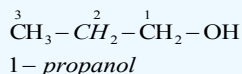


Tri phenyl carbinol

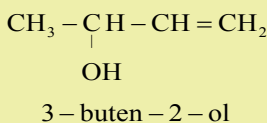
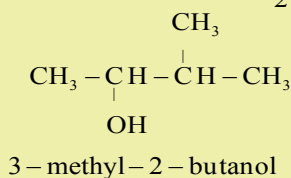
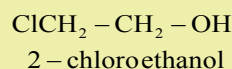
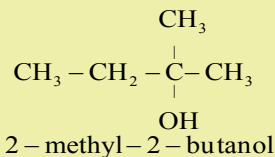
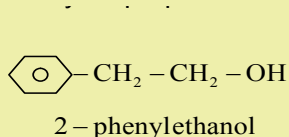
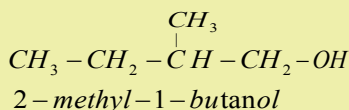
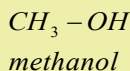
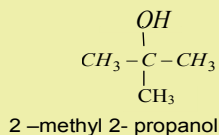


tri ethyl carbinol

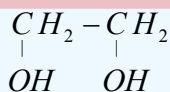
د الکولونو سیستماتیک نوم ایښودنه د (IU PAC) پرنسپ داسې ترسره کېږي چې د اړوند هایډروکاربنونو د نوم وروستی د *e* توره د (ol) په وروستاړي تعویض کېږي او په پایله کې د اړوند الکول نوم لاسته راځي. له دې کبله چې په نوم ایښودنې کې تیروتنې لرې شي؛ نو د هایډروکاربنونو د کاربنونو په اتومونو نمبر وهل کېږي او نمبر وهل د زنځیر له هغه لوري څخه پیل کېږي چې د کاربنول د گروپ کاربن کوچنی نمبر ځانته غوره کړي؛ د بیلگې په ډول:



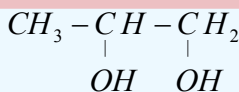
مثال: د لاندې الکولو نوم ایښودنه د ایوپیک پرنسپ ترسره کوو:



الکولونه چې د *OH* - دوو گروپونو لرونکي وي، معمولاً د گلایکولونو (Glycols) په نوم نومول کېږي، د دې الکولونو نوم ایښودنه په دواړو (معمولی او ایوپیک) طریقو ترسره کېږي.

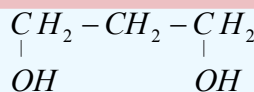


ethylene glycol



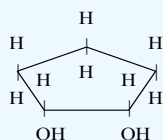
proylene glycol

1,2 - propane di ol



tri methylene glycol

1,3 - propane di ol



cis - 1,2 - cyclopentanedi ol

فعالیت:



د اوکتانول لس ایزومیرونه ولیکئ او د ایوپک په طریقه یې نوم ایښودنه وکړئ.

8-1-2: د الکولونو فزیکي خواص


الکولونه د الکایل او هایډروکسیل گروپ لري، د دې مرکبونو په مالیکولونو کې د کاربن او اکسیجن ترمنځ اړیکه قطبي ده او د دې مرکبونو خواص ټاکي. الکولونه د هغو هایډروکاربنونو په پرتله چې د کاربنونو شمیر یې سره یوشان (ایزولوگ) وي، د ایشیدو ټکي یې ورڅخه لوړ دي؛ ځکه د الکولونو د مالیکولونو ترمنځ هایډروجنی اړیکې شتون لري چې دا اړیکې د الکولونو د مالیکولونو د تراکم لامل کیږي. هایډروجنی اړیکه د الکولو او د اوبو د مالیکولونو ترمنځ هم شته چې د هغوی د حل کیدو لامل گرځي، د اوبو مالیکولونه هم په خپل منځ کې هایډروجنی اړیکې لري.

(8-1) شکل: د اوبو د مالیکولونو ترمنځ او د الکولونو د مالیکولونو ترمنځ هایډروجنی اړیکه.

د نه ښاخ لرونکو الکولونو د ایشیدو ټکي د ښاخ لرونکو الکولونو د ایشیدود ټکي په پرتله لوړ دي. د کاربن د اتومونو د شمیر او مالیکولي کتلي له زیاتوالي سره د ایشیدو ټکي هم لوړیږي.

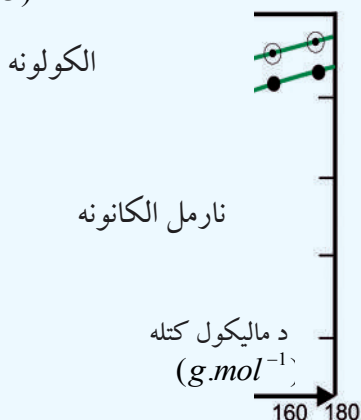
(8-1) جدول: د یو شمیر الکولونو فزیکي خواص او د ایشیدو ټکي

نوم	فورمول	د ایشیدو درجه °C	په اوبو کې حل کیدل (100g اوبو کې په 20°C کې)
Methanol	CH_3OH	65	په هر نسبت حل کیدونکي دي
ethanol	$\text{CH}_3\text{CH}_2\text{OH}$	78,5	په هر نسبت حل کیدونکي دي
1-propanol	$\text{CH}_3\text{CH}_2\text{CH}_2\text{OH}$	97	په هر نسبت حل کیدونکي دي
1-butanol	$\text{CH}_3\text{CH}_2\text{CH}_2\text{CH}_2\text{OH}$	117.7	7,9
1- pentanol	$\text{CH}_3\text{CH}_2\text{CH}_2\text{CH}_2\text{CH}_2\text{OH}$	137.9	2.7
1-hexanol	$\text{CH}_3\text{CH}_2\text{CH}_2\text{CH}_2\text{CH}_2\text{CH}_2\text{OH}$	155.8	0.59



د وظیفه یې گروپونو په زیاتوالي د الکولونو د ایشیدوټکی هم لوړېږي؛ د بیلگې په ډول: ایتلین گلایکول په 197°C کې په اېشېدو راځي، د دې مرکب د مالیکولونو ترمنځ هایدروجنې اړیکې ډیرې دي؛ نو له همدې کبله د هغوی حل کیدل په اوبو کې هم ډېر دي. ایتلین گلایکول څخه په موټرو کې د کنگل کېدو د ضد مادې په توګه کار اخیستل کیږي.

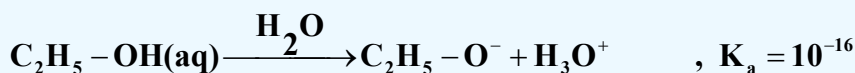
د الکولو د اېشېدو ټکي د هغوی د ایزولوګ الکانونو په پرتله په لاندې ګراف کې ښودل شوي دي.
($^{\circ}\text{C}$) د تودوخې درجه



(8-1) شکل: د الکولو د ایزولوګ الکانونو د ایشیدوټکو د پرتلي ګراف

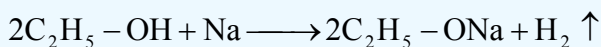
8-1-3: د الکولو کیمیايي خواص او فعالیتونه


الکولونه دوه خاصیتونه (*Amphotric*) مرکبونه دي چې هم تېزابي خاصیت او هم القلي خاصیت ښيي، د ټوټه کېدو ثابت یې خورا ډېر زیات کوچنی دی:



د القلیو فلزونو سره د الکولونو تعامل:

الکولونه له القلي فلزونو سره تعامل کوي، الکولیتونه جوړوي؛ د بیلگې په ډول: ایتانول له سوډیم سره تعامل کوي چې د سوډیم ایتانولیت ($\text{C}_2\text{H}_5 - \text{ONa}$) جوړوي:





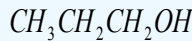
(8 - 2) شکل: له فلزی سودیم سره د ایتایل الکولو تعامل

سودیم الکولیتونه په اوبلن محلول کې قوي القلي ځانګړتیا لري چې د خپل جوړه تېزابونو ضعیفوالی روښانه کوي.


د الکولونو کیمیايي فعالیت د القلیو فلزونو سره په تعامل کې د هغوی د کاربنی زنځیر له اوږدوالي سره ټیټېږي چې د هغوی د فعالیت ټیټوالی په لاندې سلسله کې ښودل شوی دی:

د فعالیت لږوالي

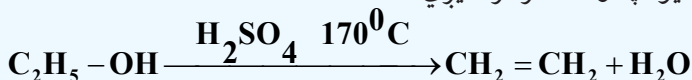
Activity decreases



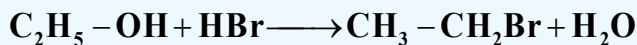
الکولونه کولی شي چې د القلیو خاصیت هم له ځان څخه ښکاره کړي؛ ځکه د $-OH$ - د ګروپ د اکسیجن د اتوم ازاده جوړه الکترونونه د نورو تېزابونو د پروتونونو د جذب وړتیا لري.



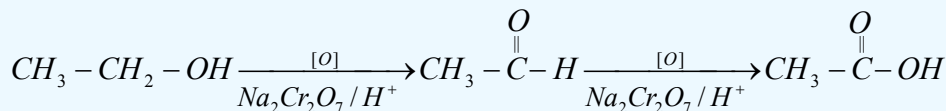
$C_2H_5 - OH_2^+$ د ایتایل الکول مزدوج تېزاب دی او د اکسونیم ایون یوه بیلګه ده، عمومي فورمول یې $R - OH_2^+$ دی، د $R - OH_2^+$ جوړیدل د پرله پسې تعاملونو لومړنی پړاو دی چې الکولونه یې د تېزابي کنستونو په شتون کې ترسره کوي؛ د بیلګې په ډول: له الکولو څخه د اوبو ایستل په تېزابي محیط کې (H_2SO_4) د اکسونیم (*oxonium*) د ایون په واسطه ترسره کیږي:



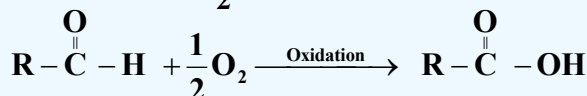
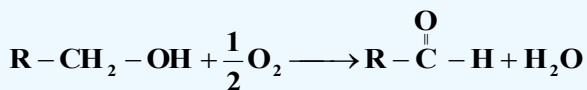
په دې ترتیب د ایتایل الکولو ډی هایدریشن (Dehydration) هایډروکاربنونو ته د نباتی انرژۍ د راکړې ورکړې امکان برابروي؛ ځکه د کرنې محصولاتو؛ لکه غلې، ګنۍ، خرما، انګور او نورو د تخمر څخه چې الکولونه جوړېږي او د الکولو له ډی هایدریشن (Dehydration) څخه ایتلین او بیا پولي ایتیلین لاسته راځي. الکولونه د هایډرو هایدونو او له هایدونو سره تعامل کوي چې الکیل هایدونه جوړېږي:



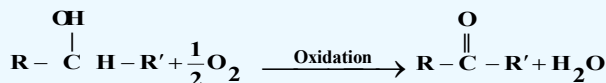
اکسیدي کوونکي مواد؛ د بیلګې په ډول: $K_2Cr_2O_7$ له الکولو سره تعامل کوي چې د الکولو د اکسیدیشن د عملیې په پای کې الیدهایدونه او تیزابونه جوړېږي:



ایتیل الکول په سروازي لوبني کې له څه مودې وروسته د هوا له اکسیجن سره تعامل کوي، الیدهایدونه جوړوي چې عطري بوی لري خو د الکولونو له بوی سره توپیر لري چې د قوي اکسیدیشن په پایله کې په عضوي تیزابونو بدلېږي چې تیز بوی لري. د لومړني الکولو د اکسیدیشن عملیه د الیدهایدونو او تیزابونو د جوړښت په پای کې ترسره کېږي:

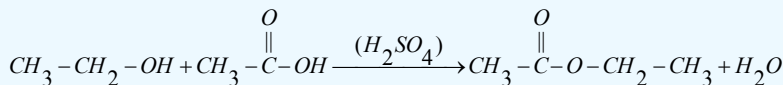
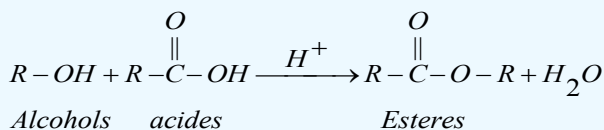


که چېرې دویمي الکول اکسیدیشن شي، د هغه اړوند کیتونونه لاسته راځي:

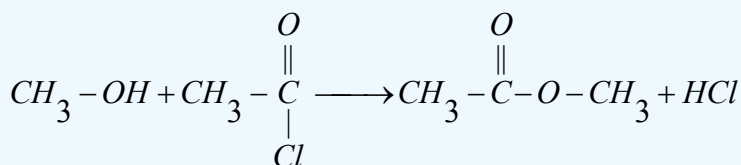


د ایسترو د جوړولو تعامل (Esterification)

د الکولو او تیزابونو تعامل د ایستریفیکشن په نوم یادېږي، دا تعامل د کتلست په توګه د تیزابونو په شتون کې ترسره کېږي چې د هغوی په پایله کې ایستر او اوبه جوړېږي:

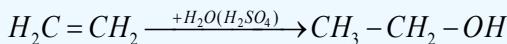


اسیتایل کلورایدونه هم له اوبو سره تعامل کوي چې د هغوی د تعامل محصول هم ایسترونه دي:

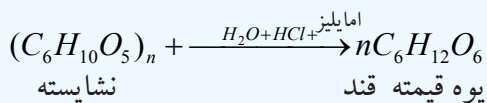


8-1-4: د الكولو لاسته راوړنه

د الكولو د لاسته راوړلو اقتصادي لاره د الكينونو هايديرشن او د قندونو له تخمر څخه عبارت ده:



د تخمر له لارې د الکولو لاسته راوړلو په موخه کوم چې لومړنۍ ماده یې نشایسته وي، د امایلز (*Amylose*) انزایم چې د اوریشو (*malt*) په اوبو کې شتون لري، کارول کیږي، دا انزایم نشایسته په ساده قندونو (ګلوکوز) تبدیلوي. د چغندرو یا ګنیو د قندونو په تخمر کې چې د سکروز او مالتوز لرونکي وي، د انورټیز (*Invertase*) انزایم چې په خمیرې (*vest*) کې شتون لري، کارول کیږي، انزایم د چغندرو، ګنیو او نورو میوو ځوښا په ګلوکوز او فرکټوز تبدیلوي. د زایمیز (*zymase*) انزایم چې خمیرې کې شته دی، ګلوکوز په ایتانول او CO_2 بدلولي:

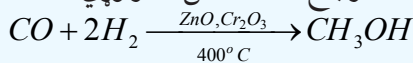


له اوبو څخه د ایتانول جلاکول د پرله پسې تقطیر په واسطه ترسره کیږي؛ داسې چې ایتایل الکول په 78°C او اوبه په 100°C کې په اېشېدو راځي.

د الكولو د لاسته راوړنې صنعتي او مصنوعي لاره

1 - له پټروليم څخه هم کېدای شي، الکول لاسته راوړل شي؛ د بيلگې په ډول: په امريکا کې په يو کال کې 7.10^8 ايټانول او 10^8 ليټرو پټروليم الکول له پټروليم څخه تر لاسه کيږي چې دا ډول الکولونه د الکولي مشروباتو لپاره نه کارول کيږي.

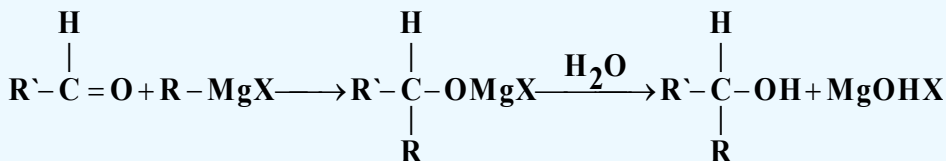
میتانول په 1920 م کال کې له وچو لرگیو څخه په لاس راوړل شوی دی، اوس په امریکا کې لس (10) میلیونه پونده میتانول د CO_2 له تعامل څخه (د CO له ارجاع څخه) لاس ته راوړي:

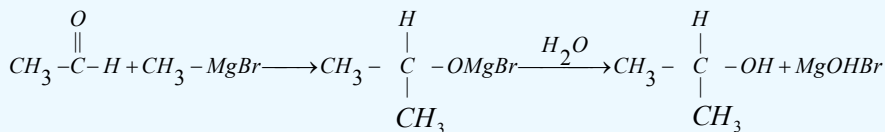


له پورتنیو لاس ته راوړل شوو کمیټونو الکلونو څخه نیمایي یې د فارم الیهاید د لاس ته راوړلو په موخه د پلاستیک د تولید لپاره په کار ورل کیری.

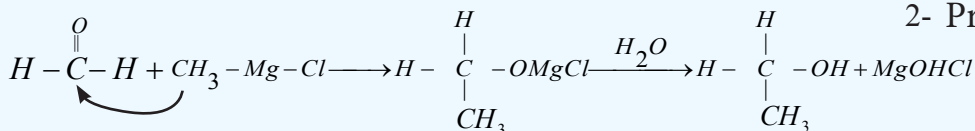
2- دگرینارد نبودونکی ترکیبی تعامل:

الف: د ګرینارد د بنودونکي اود الديهايډونو د تعامل په پايله کې کولونه لاسته راځي:

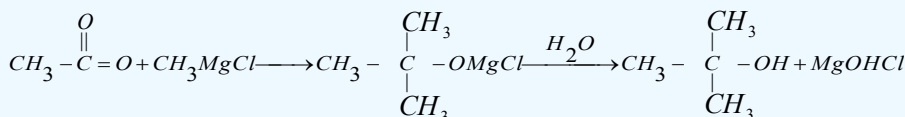
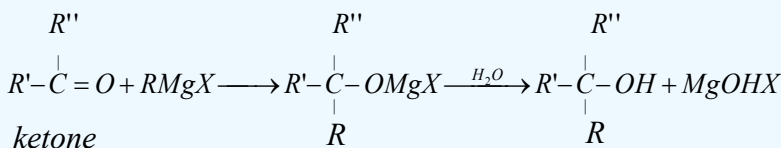




2- Propanol


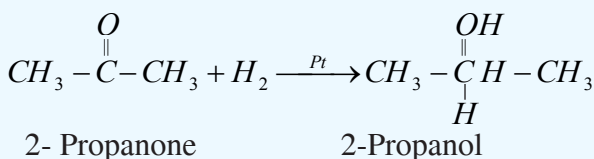
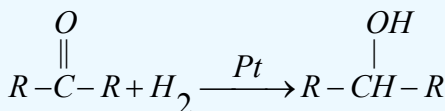
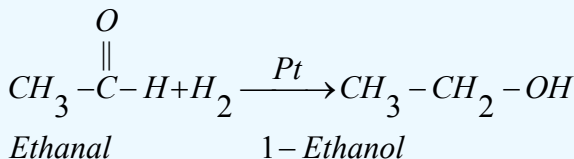
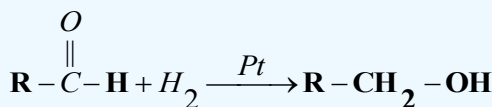


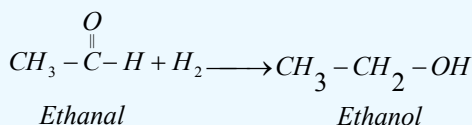
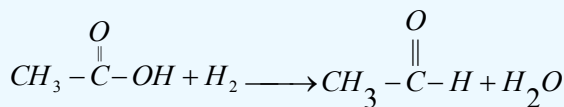
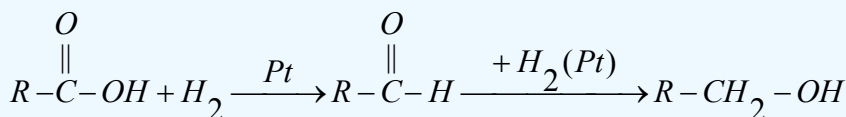
ب - له کیتونونو سره د ګرینارد ښودونکي تعامل:



۳ - د الډیهایدونو، کیتونونو او عضوي تېزابونو ارجاع

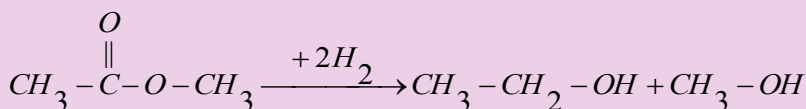
د الډیهایدونو، کیتونونو او عضوي تېزابونو له ارجاع کولو څخه هم الکولونه لاسته راځي. د الډیهایدونو، کیتونونو او عضوي تېزابونو ارجاع کیدل د ارجاع د عامل په شتون کې ترسره کېږي چې د الډیهایدونو او عضوي تېزابونو له ارجاع څخه لومړي الکول او د کیتونونو له ارجاع څخه دویمي الکولونه لاسته راځي. د الډیهایدونو، کیتونونو او عضوي تېزابونو ارجاع د هایدروجن په واسطه د پلاتین (Pt) په شتون کې ترسره او الکولونه لاسته راځي:





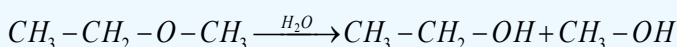
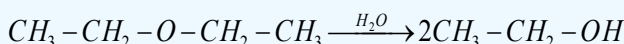
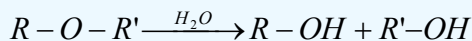
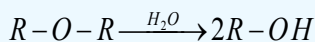
ډېر پوه شئ

ايسټرونه هم ارجاع کيږي چې په پايله کې يې دوه ماليکوله الکول ترلاسه کيږي؛ د بيلگې په ډول: ډای ميتايل ايسټر د ارجاع په پايله کې يو ماليکول ميتايل الکول او يو ماليکول ايتايل الکول لاسته راځي:

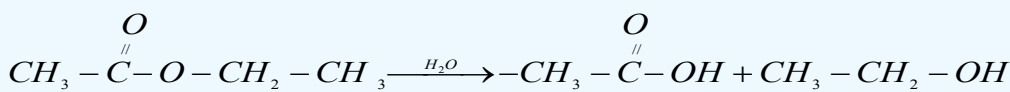
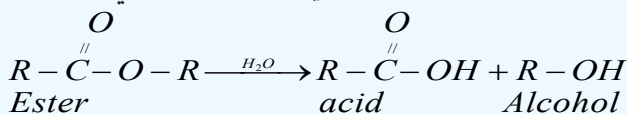


4 - د ايترونو او ايسټرونو له هايډروليز څخه د الکولو لاس ته راوړنه

د متناظرو ايترونو د يو ماليکول هايډروليز څخه د يو ډول الکولو دوه ماليکوله او د غير متناظرو ايترونو له ارجاع څخه د بيلو الکولو نو دوه ماليکولونه لاسته راځي:



د يوه ماليکول ايسټر له هايډروليز څخه يو ماليکول الکول او يو ماليکول عضوي تېزاب لاسته راځي:



Methyl ethyl ester

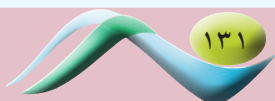
acetic acid

Ethanol

5 - د الکايل هلايدونو د هايډروليز په پايله کې الکول او هايډروجن هلايدونه لاسته راځي:



Alkyl halides alcohol hydrogen halides



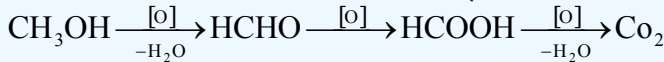
8-1-5: میتانول یا میتایل الکول (CH₃OH)

میتایل الکول بې رنگه مایع ده، ښه اور اخلي، ځانگړی بوی لري چې د ایتایل الکولو خوند لري او زهري دی، لږ خوړل یې د ږوندوالي لامل او زیات خوړل یې د مرگ لامل گرځي، دهغه د براسونو پرله پسې تنفس او د بدن له پوستکي سره پرله پسې تماس یې دانسانانو د وژنې لامل کیږي؛ نو باید دهغه له څښلو څخه ډډه وشي. میتانول د تودوخې 97°C کې کنگل کیږي چې په موټرونو کې د یخ د ضد مادې په توگه کار ترې اخېستل کیږي، میتایل الکول د تودوخې په 64.7°C کې په اېشېدو راځي، په اوبو کې په هر نسبت حلېږي، د عضوي موادو او وازدی ښه حلوونکی دی، د فارم الیهاید د تولید لپاره په ډیره کچه په کاروړل کیږي فارم الیهاید څخه د پلاستیکونو، رنگونو او محلولونو په توگه په صنایعو کې کار اخېستل کیږي.

د میتانول کیمیاوي خواص: د میتایل الکولو تېزابي خواص د نورو یو قیمتو الکولو په نسبت ډېر دي:

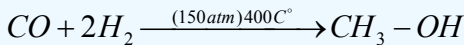
$$\text{CH}_3\text{OH} + \text{H}_2\text{O} \longrightarrow \text{CH}_3\text{O}^- + \text{H}_3\text{O}^+$$

میتایل الکول په اوبو کې له رنگه لمبې سره سوځي، په اسانۍ سره اکسیدیشن کیږي چې په لومړي پړاو کې فارم الیهاید، په دویم پړاو کې د میزبانو تېزاب، په دریم پړاو کې CO_2 او یوه جوړېږي:

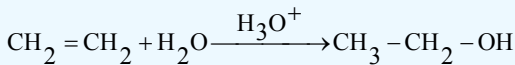


د میتایل الکول لاسته راوړنه

میتانول ډېر ساده الکول دی چې په لوړه تودوخه او د هوا په نه شتون کې د لرگیو له تقطیر څخه په لاس راوړل کیږي؛ نو له دې کبله د لرگیو د الکولو په نوم هم یادېږي، لرگي یا سلولوز په ساده مرکبونو؛ لکه اسیتون، د سرکې تېزاب او په میتایل الکولو تبدیلوي. تر 1925م کال پورې له همدې لارې څخه گټه اخېستل کېده؛ خو یوه بله ډیره ښه لاره د جرمنیانو په واسطه په 1920م کال کې منځته راغلې ده چې نن ورځ دا لاره په کاروړل کیږي، دا طریقه عبارت له CO او H_2 تعامل څخه د ډېر فشار، تودوخې او کتلسنونو په شتون کې ترسره کیږي:




که چیرته ایتلین په تېزابی محیط کې هایدریشن شي ایتایل الکول لاسته راځي.



8-1-6: ایتانول یا ایتایل الکول

خالص ایتانول بې رنگه ماده ده او ځانگړی بوی لري. د ویلې کېدو درجه یې 114°C - د ایشیدو درجه یې 78.3°C او کثافت یې 0.789 g/mL دی چې په اوبو کې په هر نسبت حلېږي.

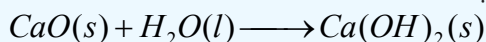


(8-3) شکل: د ایتانول مودل

ایتایل الکول خواص

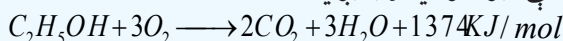
ایتانول چې په لابراتوارونو کې د حلوونکي په توگه کارول کیږي، 95% الکول او 5% اوبه لري او دې مخلوط ته

معمولي الكول هم وايي، په 78°C کې په اېشېدو راځي. 100% الكول (مطلق الكول) له معمولي الكولو څخه د چوڼي په زياتولو سره چې اوبه يې د $\text{Ca}(\text{OH})_2$ په بڼه ښکته کښېږي، په لاس راوړي:



د خالصو ايتانول (مطلق ايتانول) د تصفيې بله لاره، د 95% ايتايل الكولو او اوبو په مخلوط کې د بنزين وړ زياتول دي، بنزين دوه ډوله بېلابېل ايزوتروپونه د اوبو او الكول سره جوړوي چې ترڅو ايتانول په 64.9°C کې په اېشېدو راشي او له اوبو څخه په بشپړ ډول جلا شي.

ايتايل الكول ښه عضوي محلول دی، نو د ټينچر ايوډين، رنگونو، عطرونو او د سينگارو په موادو کې د ښه بوی ورکولو لپاره کارول کېږي، په همدې ترتيب د کلونيا، سپرې (Spray) او څښلو په موادو کې کارول کېږي، د ايتايل الكولو د سوزولو په پايله کې ډيره انرژي توليديږي:



(8 - 4) شکل د ايتايل الكولو کارول د تودوخې او انرژي د لاسته راوړلو په موخه

د ايتانول ښه سوزېدل د دې لامل شوي دي چې د انجنونو د سون د موادو په توگه ترې کار واخېستل شي. ايتايل الكول د يخ د ضد مادې په توگه کارول کېږي او د هغه له محلول څخه د ضد عفوني مادې په بڼه کار اخېستل کېږي. دا مرکب د پروټيني ارگانيزمونو د تخريبولو خاصيت لري چې د بکټرياوو، فنجيو، د ځينو وېروسونو او بکټرياو د سپورونو له منځه وړلو لپاره کارول کېږي.


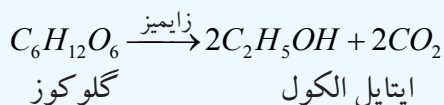
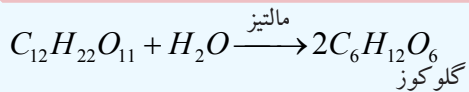
کله چې ايتايل الكول وڅښل شي او د انسانانو بدن ته وردننه شي، په بدن کې منفي اغيزې رامنځ ته کوي؛ داسې چې د مغز د اوبو ماليکولونه جذب او د هغوی ځايونو ته په مغز کې بدلون ورکوي چې داعملیه دعصبي سیستم د بدلون لامل گرځي.

د ايتانول لاسته راوړنه:

1 - ايتايل الكول په ډيره کچه د بورې له تخمر څخه لاسته راځي. د ايتايل الكولو د لاسته راوړنې دوه مهمې سرچينې په لاندې ډول دي:

الف - له نشايسته لرونکو نباتاتو څخه؛ د بيلگې په ډول: له غنمو، جوارو، کچالو، اوريشو، جودرو او نورو څخه کيدای شي چې ايتايل الكول لاسته راوړل شي.

ب - له بورې لرونکي نباتاتو څخه؛ لکه چغندر، گني او ميوو څخه کېدای شي ايتايل الكول لاسته راوړل شي. په تېرو لوستونو کې مو د الکولونو د لاسته راوړنې په هکله په پراخه کچه معلومات تر لاسه کړل، په همدې لارو کيدای شي چې ايتايل الكول هم په لاس راوړل شي، دلته د هغه د لاسته راوړنې دوه کيميايي معادلې چې د بورې او گلوکوز د تخمر له امله لاسته راځي، ليکل کېږي:

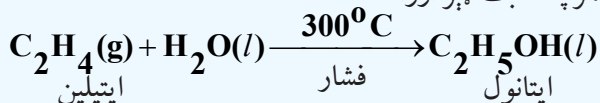


(5 - 8) شڪل: د ٻوري تخمر او د ايتايل الڪولو لاسته راوړل

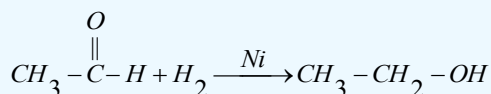


(6 - 8) شڪل: د گلوگوز د تخمر د سټگاه او د ايتايل الڪولو لاسته راوړل

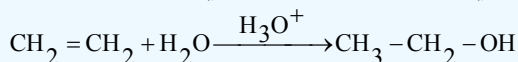
2 - په صنعت کې ايتانول د ايتلين له هايډريشن څخه د H_3PO_4 د کټلست او تودوخې په شتون کې لاسته راوړي، دا تگ لاره د تخمر په نسبت ډېر ارزانه ده:



3 - استيت الډيهايد د نیکل (Ni) د کټلست په شتون کې ارجاع کيږي چې په پايله کې ايتانول لاسته راځي:



4 - که چيرې ايتلين په تېزابي محيط کې هايډريشن شي، ايتايل الڪول لاسته راځي:



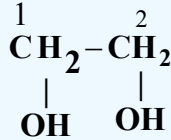
8 - 1 - 7: څو قيمته الڪولونه

که چيرې د الڪولو په ماليکولي ترکيب کې د هايډروکسيل يو گروپ شتون ولري، دا ډول الڪولونه د يو قيمته الڪولو په نوم يادوي او که چيرې د الڪولو په ماليکولي ترکيب کې د هايډروکسيل څو گروپونه شتون ولري، دا ډول الڪولونه د څو قيمته الڪولونو په نوم ياديږي.

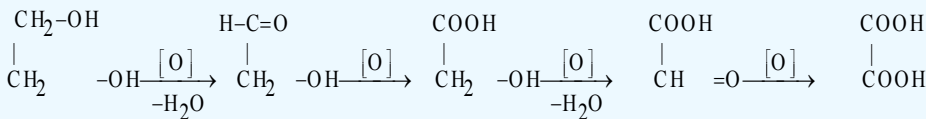
گلايکول (Glycol)

هغه الکولونه چې د $(-OH)$ د دوو گروپونو لرونکي وي، د گلايکولونو په نوم يا دېرې. د هغوی ښه بېلگه ايتلين گلايکول (CH_2OHCH_2OH) ده.

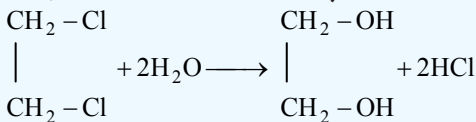
ايتلين گلايکول: د ايتلين گلايکول ماليکول چې د هغه سيستماتيک نوم 1,2 - Ethanediol دی، د دوه قيمته الکولو له ډلې څخه دی چې فورمول يې په لاندې ډول دی:



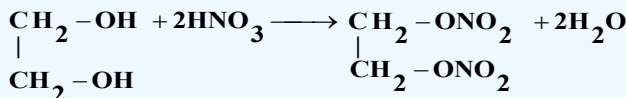
ايتلين گلايکول بې رنگه، بې بوږ او د شربت په شان مايع ده چې په اوبو کې په هر نسبت حل کېدای شي، د کنگل کېدو ښکته درجه (-155°C) لري؛ نو په انټي فريز (د يخ ضد) په توگه په موټرو کې په کارول کېږي، د هغه د اېشېدو درجه (197°C) ده؛ نو د اوړي کې هم د موټرو په اوبو کې ور زياتېږي. د موټرونو په بريک کې د هايډروليک مادې په توگه، په رنگونو، تېلو او د قلم د رنگونو محلولونو په توگه په کار ورل کېږي. ايتلين گلايکول لومړنی دوه قيمته الکول دی، د هغه له اکسیديشن څخه اکزاليک اسيد لاسته راځي:



له اوبو سره د ايتلين ډای کلورايد (1 - 2 - ډای کلورو ايتان) د تعامل په پايله کې ايتلين گلايکول لاسته راځي:

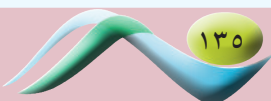


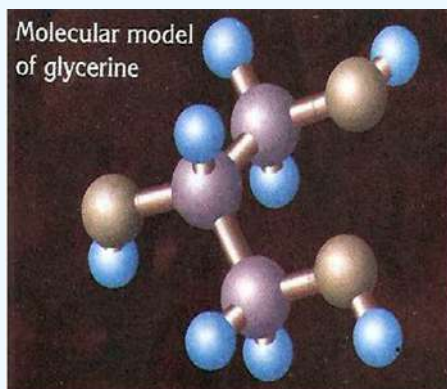
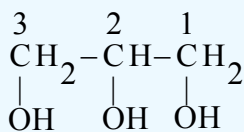
ايتلين گلايکول د $(-OH)$ دوه گروپونه په خپل ماليکولي ترکيب کې لري او له هغه څخه د يخ ضد مادې په توگه په گرځنده موټرونو کې گټه اخېستل کېږي او هم د مصنوعي تارونو په لاسته راوړنې کې له هغه څخه گټه اخېستل کېږي. د گلايکول عمل د يخ د ضد مادې په توگه د هغه دښو حل کيدلو له کبله په اوبو کې دی او د $-OH$ د دوو گروپونو د شتون له امله هايډروجنې اړيکه يې د اوبو له ماليکولونو سره جوړه کړې ده. همدارنگه له نايټريک اسيد (HNO_3) سره تعامل کوي چې د نايټرو گلايکول په نوم چاوديدونکي ماده جوړوي:



گليسرين:

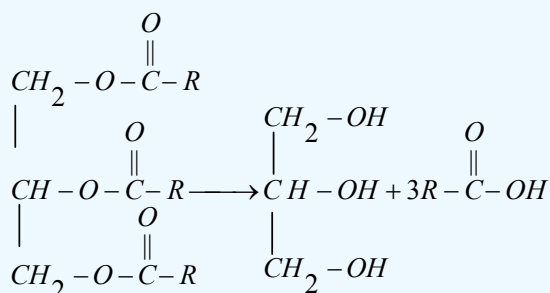
گليسرين يو درې قيمته الکول دی او د $-OH$ درې گروپونه لري چې د هغه فورمول په لاندې ډول دی:



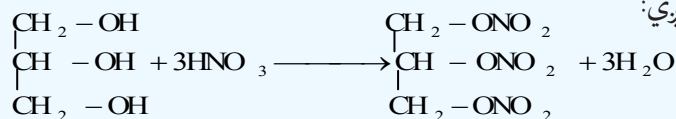


(7-8) شکل: د گلیسرین مودل

د گلیسرین سیستماتیک نوم 1, 2, 3-Propanetriol دی، دا مرکب په عادي شرایطو کې مایع او سربینناک حالت لري چې په اوبو کې په ښه توګه حل کیږي او د اوبو د نرمولو د مادې په توګه په کار وړل کېږي، په 18°C کې کنگل، په 290°C کې په اېښېدو راځي او کثافت یې 1.26 g/mL دی، له اوبو سره د میتانول او ایتانول په شان مخلوط کیږي، د شربتو په شان مایع ده او د جذب ښه وړتیا لري. گلیسرین د حیواني وازدې او نباتي غوړیو د هایدرولیز فرعي محصول دی:



د گلیسرین او نایتریک اسید د تعامل په پایله کې (ایستریفیکیشن) د نایترو گلیسرین په نوم عضوي او غیر عضوي ایستر (گلیسرایل ترای نایتریت) حاصلیږي:



نایترو گلیسرین ډیره زیاته چاودیدونکې او بې ثباته ماده ده چې په 1970 م. کال د نوبل (Noble) په نوم د نارګي کیمیا پوه هغه د ارې له بورې سره لږ څه با ثباته کړه او له هغې زمانې څخه تر اوسه پورې د ډینامیټ په نوم په لګښت رسېږي. نوبل له دې لارې ډیره شتمني په لاس راوړه؛ خو کله چې له هغه څخه د جنګي وسیلې په توګه کار واخیستل شو، د انسانانو د وژلو لامل وګرځېده، نو نوبل خپله ټوله شتمنۍ د نوبل د جایزې په نامه وقف کړه او انسان دوستو پوهانو ته یې له دې شتمنۍ څخه ورکړه ومنله. پورتنۍ تعامل اکزوترمیک دی نو ژر یې سړوي؛ ځکه چې په 45°C کې نایترو گلیسرین چاودنه ترسره کوي، ډینامیټ د گلیسرین او د ارې د بورې له مخلوط څخه لاسته راوړل کیږي چې یوه فوق العاده چاودیدونکې ماده ده.

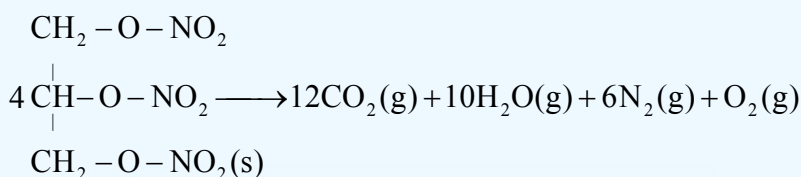
گلیسرین د تنباکو د نم د جذب لپاره، د حمام په صابون او د بربړې خړیلو په کریم، د سینگار په کریمونو او موادو کې، د پلاستیکو په تولید او برابرولو، د رنگونو اوبو، د پرنتر په رنگونو، مطابع، مرهمونو، انټی فریز اوبو او په ډینامیت کې کارول کېږي.



(8 - 8) شکل: الف - ډینامیت

ب - د پوتاشیم پرمگانټ سره د گلیسرین تعامل

قطبي حیوانات د هغوی له ډلو څخه قطبي خوځ په خپل بدن کې د ساریتول (Sorbitol) او گلیسرول (glycerol) د جوړولو قدرت لري چې د سړې هوا په موده کې د هغوی د بدن د اوبو کچه ښکته را ځي او د دې مرکبونو غلیظ محلول په ټیټه تودوخه کې نه کنگل کېږي او د تودوخې په 87°C - هم ژوند کولی شي. گلیسرین د الکولو د استحصال په عمومي تگ لاره کېدای شي چې لاسته راوړل شي؛ خو غیر اقتصادي ده. اقتصادي طریقه یې د وازدې او نباتي غوړپو هایدرولیز او تخمر دی. د سړې وینې لرونکو حشراتو او قطبي حیواناتو په بدن کې د گلیسرین تولید د دې لامل کېږي ترڅو د هغوی د بدن مایع تر 87°C - پورې کنگل نه شي. ترای نایټرو گلیسرین یا ډینامیت د لاندې تعامل سره سم د چاودیدو لامل گرځي:



(8 - 9) شکل: قطبي خوځ:

8 - 2: ایترونه (Ethers):

که چیرې فرض کړو چې الکولونه د اوبو د مالیکولونو مشتق دي؛ داسې چې د اوبو د هایدروجن یو اټوم په عضوي پاتې شوني تعویض او الکول حاصل شوي دي، نو که چیرې د اوبو د هایدروجن بل اټوم هم په عضوي پاتې شوني تعویض شي، ایترونه تر لاسه کېږي:



water

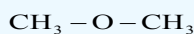
ethanol

Di ethylether

د ايترونو عمومي فورمول $R-O-R$ يا $Ar-O-Ar$ دی، دوی هغه مرکبونه دي چې د $(C-O-C)$ واحد لری.

8-2-1: د ايترونو نوم ايښودنه

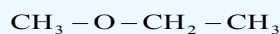
څرنګه چې د ايترونو وظيفه يې ګروپ د اکسيجن اټوم ($-O-$) دی، په معمولي نوم ايښودنه کې له هغه څخه نوم اخېستل شوی نه دی او داسې نوم ايښودنه کېږي چې لومړی د ايترو ګروپ ($-O-$) پورې تړلي عضوي پاتې شونو نومونه د کوچني والي او لوي والي پر بنسټ نومول کېږي او د ايترو کلمه په هغوی باندې ورزياتيږي؛ يعنې د ايترو د وظيفه يې ګروپ په بنسټ د پای الکاييل ايترونو نوم ايښودنه ترسره کېږي؛ که چېرې معاوضې يو ډول وي، د پای (di) مختاري د معاوضو په نوم ورزياتيږي؛ د بيلګې په ډول:



Di methylether



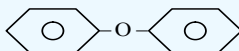
Di ethylether



Methylethyl ether

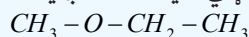
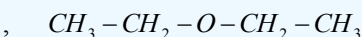
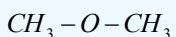


3-Chloro propyl ethyl ether



Di phenyl ether

ايترونه د ايوپک د نوم ايښودنې پر بنسټ د الکا اوکسي (کوچنې معاوضې) په نوم يادوي، داسې چې د الکا کوچنې معاوضه د الکا اوکسي په نوم او بيا د الکانونو د لويو معاوضونوم کوم چې د اوږد زنځير لرونکي او د ايترو ګروپ سره تړلي دي، ورزياتيږي؛ د بيلګې په ډول:



Methoxy methane

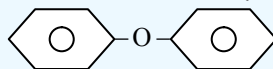
Ethoxy ethane

methoxy ethane



1-Chloro-3-ethoxypropane

3-Chloropropylethylether

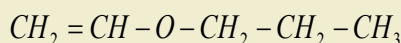
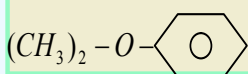
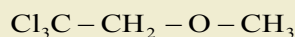
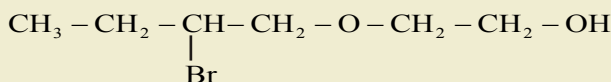
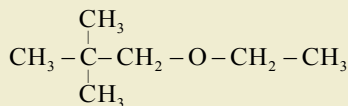


Phenoxybenzene

Diphenylether

مشق او تمرين

د لاندې مرکبونو نوم ايښودنه د معمولي او ايوپک له طريقې سره سم وکړئ:



8-2-2: د ايترونو فزيکي خواص

ايترونه لږ په اوبو کې حلېږي، د ايترونو د ايشيدو ټکي د هغوی د ماليکولونو د لږ قطبيت له کبله د هغو له ايزومېرو

الکولونو اوازولوگو الکانونو څخه لږ دي؛ د بیلګې په ډول:

فورمول او نوم	$CH_3CH_2-O-CH_2CH_3$ Di ethyl ether	$CH_3(CH_2)_3CH_3$ Pentane	$CH_3(CH_2)_3-OH$ 1-Butanol
د ایشیدو ټکی	$35C^\circ$	$36C^\circ$	$117C^\circ$
په اوبو کې حلیدل	7.5g/100mL	نه حل کیدونکی	9g/100mL

د الکولو د ایشیدو لوړه درجه د هایډروجنی رابطې د موجودیت په اساس دي ایترونه نسبت الکولو او اوبو ته ضعیفه هایډروجنی رابطه لري او په الکانونو کې هایډروجنی رابطه وجود نه لري

فعالیت:

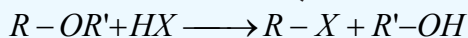


دا لاندې مرکبونو د اېشېدلو او کنگل کیدلو درجې د زیاتوالي او لږ والي پربنسټ ترتیب کړئ او د هغوی جمعي فورمولونه ولیکئ.

1. $CH_3-CH_2-CH_2-CH_2-OH$
2. $CH_3-CH_2-O-CH_2-CH_3$
3. $CH_3-O-\underset{\substack{| \\ CH_3}}{C}-H-CH_3$

د ایترونو کیمیايي خواص د ساده ایترونو کیمیايي فعالیت د الکولونو په نسبت لږ دی، د کاربن او اکسیجن اړیکه په ایترونو کې ډیره کلکه ده او د هغې پرې کیدل په ستونزو ترسره کیږي.

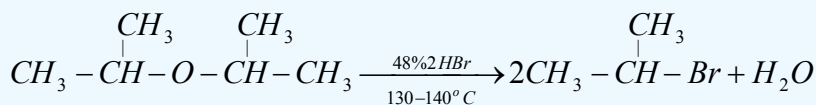
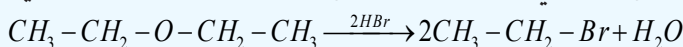
1 - ساده ایترونه د کمزورو القلیو خواصو په درلودلو سره د اکسیدانتونو او تېزابونو په واسطه ټوټه کیږي، د هغوی ایتري اړیکه پرې کیږي؛ د بیلګې په ډول: له هلو جني تېزابونو سره د لاندې معادلې سره سم تعامل کوي:



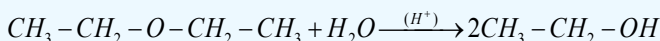
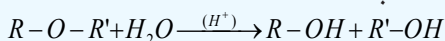
د پورتنۍ تعامل پربنسټ تولید شوي الکولونه له اضافي HX سره تعامل کوي، اوبه او $R-X$ تولیدوي:



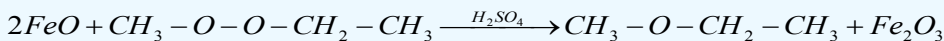
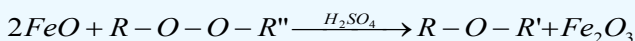
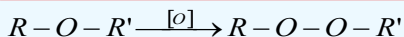
په رښتیا د ایترونو او هایډرو هلو جینیدونو د تعامل وروستني محصولونه له الکایل هالایدو او اوبو څخه عبارت دي:



2 - ایتري د اوبو په واسطه په تېزابي محیط کې هایډرولیز او ایتري اړیکه یې پرې کیږي:



3 - ایترونه د اکسیجن (O_2) په شتون کې په اسانۍ سره په پراکسایدونو بدلون مومي، تولید شوي پراکسایدونه د فیرس (Fe^{2+}) د آیونونو په واسطه د ګوګړو د غلیظو تېزابونو په شتون کې بیرته تجزیه او په عادي ایترو تبدیلېږي:



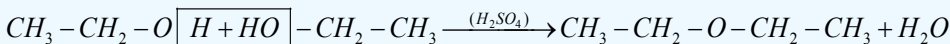
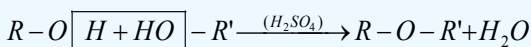
فعالیت



که چیرې 0.2mol ډای ایتایل ایتر ته د HBr له غلیظ تېزابي محلول سره په ټاکلي کچه تعامل ورکړل شي، څه مقدار اړونده الکول به له هغوی څخه ترلاسه شي؟ $(CH_3-CH_2-OH = 46\text{g/mol})$

د ایترونو لاس ته راوړنه

د ایترونو د لاسته راوړنې عمومي طریقه د الکولو د دوو مالیکولونو د دې هایدریشن لاره ده چې د گوگړو تېزاب (د کتلتست په توګه) په شتون کې ترسره کېږي:



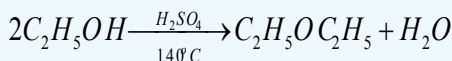
2 - د ویلیم سن لاره

د دې لارې په واسطه کیدای شي چې متناظر او غیر متناظر ایترونه لاسته راوړل شي، د دې لارې کرښه داسې ده چې الکایل هالیدونه له فلزي الکوکسایډونو سره تعامل ورکول کېږي او اړونده ایتر ترلاسه کېږي:



ډای ایتایل ایتر

ډای ایتایل ایتر بې رنگه مایع ده او د بې هوښه کولو خاصیت لري، اور اخیستونکي او د ځانګړې بوی لرونکې ماده ده، ایتر د انسټیزي عمل لري چې د هغه تنفس د جراحي د عمل لاندې ناروغانو د بې هوښۍ لامل کېږي. ډای ایتایل ایتر د عضوي موادو ښه حل کوونکی دی او عضوي مواد په ځان کې حلوي، د ورتس تعامل او د ګرینارډ ښودونکو په جوړولو کې په کارول کېږي، ډای ایتایل ایتر په لابراتوار کې د ایتایل الکولو له دې هایدریشن څخه د اوبو جذبونکي مادې په شتون کې لاسته راوړي:



نوبت: ډای ایتایل ایتر قوی چاودیدونکي خاصیت لري او د هوا سره چاودېدونکی تعامل تر سره کوي، د لابراتواري کار د کړنې په وخت کې باید له هغه سره احتیاط وشي.



(8-8) شکل: د اېتر سوزیدل په چاودېدونکي توگه

ډای ایتایل اېتر په پخوانیو وختونو کې د بې هوښه کوونکي مادې په توگه کارول کېده. ایترونه الوتونکي مواد دي؛ ځکه په دې موادو کې هایدروجنی اړیکه شتون نه لري. د ایترونو کیمیايي فعالیت ډېر لږ او د عضوي مرکبونو لپاره ښه حل کوونکي دي. ایترونه د الکولونو په شان تعویضي تعاملونه ترسره کوي په هغه صورت کې چې کتلستونه شتون ولري.

د اتم څپرکي لنډیز

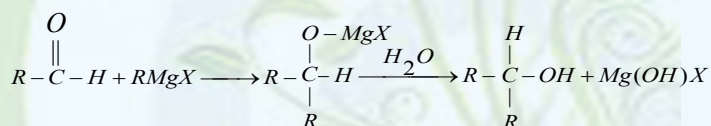


• هغه عضوي مرکبونه چې په خپل مالیکولي ترکیب کې د OH -وظیفه یي گروپ ولري،

د الکولو په نوم یادېږي.

• د الکولو عمومي فورمول $R-OH$ دی چې R کیدای شي د الکایل پاتې شوني (راپیکل) د نارمل او یا منشعب زنځیر په لرلوسره، الکیل، الکیلینیل (د دوه گونې او یا درې گونې اړیکې لرونکي) د اروماتیک کړۍ او داسې نور وي.

• د گړینارد ښودونکي له الکیلایډونو او کیتونونو سره تعامل کوي چې په پایله کې الکولونه جوړېږي.



• خالص میتایل الکول بې رنگه مایع ده، ځانگړې بوی لري چې د ایتایل الکولو خوند لري او زهري دی، لږ خوړل یې د ړوندوالي لامل او د هغه زیات خوړل د مرگ لامل گرځي.

• که چېرې د الکولو په مالیکولي ترکیب کې د هایدروکسیل یو گروپ شتون ولري، دا ډول الکول د یو قیمتته الکول په نوم یا دوي او که چېرې د الکولو په مالیکولي ترکیب کې د هایدروکسیل څو گروپونه شتون ولري، دا ډول الکول د څو قیمتته الکولونو په نوم یادېږي.

• گلیسرین یو درې قیمتته الکول دی او د OH -درې گروپونه لري چې د گلیسرین سیستماتیک نوم

1, 2, 3-Propanetriol دی، دا مرکب په عادي شرایطو کې مایع او سرېسناک دی چې په اوبو کې په ښه توګه حلېږي او د اوبو د نرمولو مادې په توګه په لګښت رسیږي.

- د ایترونو عمومي فورمول $R-O-R$ او یا $Ar-O-Ar$ دی، دوی هغه مرکبونه دي چې د $(C-O-C)$ واحد لري.
- ایترونه لږ په اوبو کې حلېږي، د ایترونو د ایشیدو ټکي د هغو مالیکولو د لږ قطبیت له کبله د هغو له ایزومیرو الکولو او ایزولوګو الکانو څخه لږ دی.

- د ساده ایترونو کیمیايي فعالیت د الکولو په نسبت لږ دی، د کاربن او اکسیجن اړیکه په ایترونو کې ډیره کلکه ده او د هغې پرې کیدل په ستونزو ترسره کېږي.

- ډای ایتایل اتر (Diethyl ether) په پخوانیو وختونو کې د بې هوښه کوونکي مادې په توګه په کارول کېده.
- ایترونه الوتونکی مواد دي؛ ځکه په دې موادو کې هایډروجنی اړیکه شتون نه لري. د ایترونو کیمیايي فعالیت ډېر لږ او د عضوي مرکبونو لپاره ښه حل کوونکي دي.

د اتم څپرکي تمرین

څلور ځوابه پوښتنې

- 1- الکلونه د هایډروکاربنونو ----- مشتقات دي.
- الف - د نایټروجنی، ب - اکسیجن، ج - سلفر، د - فاسفورس.
- 2- دریمې الکل د هغو الکولو له ډول څخه دي چې د $(-OH)$ گروپ کاربن بې له ----- سره اړیکه ولري.
- الف - د کاربن دوو اتومونو سره، ب - د کاربن له درې اتومونو سره، ج - د کاربن له یو اتوم سره، د - OH له دریو گروپونو سره.
- 3- د زایمیز انزایم گلوکوز په ----- بدلوي.
- الف - الکل، ب - کیتون، ج - الډیهاید، د - تېزاب.
- 4 - د ګرینارډ د معرف عمومي فورمول ---- دي.
- الف - $R-Mg$ ، ب - $R-MgX$ ، ج - $R-Mg(OH)$ ، د - $R-Mg(OH)_2$.
- 5 - د الکلونو او تېزابو تعامل د ----- تعامل په نوم یادېږي.
- الف - صابون جوړونه، ب - ایسټریفیکیشن، ج - تجزیې تعامل، د - هیڅ یو.
- 6- د الکلونو او Na تعامل محصول $R-O-Na$ او ----- څخه عبارت دی.

الف - H_2 ، ب - $NaOH$ ، ج - الديهایدونه ، د - کیتونونه.

7- د لومړني الکولونو د اکسیدیشن د تعامل محصول ----- دی.

الف - الديهایدونه ، ب - تېزابونه ، ج - کیتونونه ، د - هیکس یو.

8- هغه الکولونه چې د هایډروکسیل دوه ګروپونه ولري د ----- په نوم یادېږي.

الف - دویمې الکول ، ب - دوه قیمتې الکول ، ج - ګلایکول ، د - ب او ج دواړه.

9- سایکلو بیوتانول د ----- جمعي فورمول لرونکی دی.

الف - $C_6H_{13}OH$ ، ب - C_5H_9OH ، ج - $C_4H_{10}OH$ ، د - C_4H_7OH .

10- $C_6H_{13}OH$ د ----- جمعي فورمول دی.

الف - Hexanol ، ب - CycloHexanol ، ج - Heptanol ، د - pentanol.

11- د الکولو په نوم ایښودنه کې د کاربنول ګروپ بنسټیز زنځیر نوم د ---- وروستاري باندې پای ته رسېږي.

الف - ol ، ب - al ، ج - ane ، د - one

12- د ---- الکولو په شتون کې د هغوی د ایشیدو درجې د لوړېدو لامل ګرځي.

الف - و اندروالس قوه ، ب - هایډروجنی ، ج - د ډای پول - ډای پول قوه ، د - ټول.

13- د ایتلین او د ----- تعامل څخه الکول لاسته راځي:

الف - القلیو ، ب - $NaOH$ ، ج - اوبو ، د - تېزابونو.

14- Iso propyl ether فورمول عبارت دی له:

الف - $CH_3-CH_2-O-CH_3$ ، ب - $CH_3-\overset{\overset{CH_3}{|}}{CH}-O-CH_2-CH_3$

ج - $CH_3-\overset{\overset{CH_3}{|}}{CH}-O-CH_2-CH_3$ ، د - $(CH_3-\overset{\overset{CH_3}{|}}{CH})_2O$

15 - په الکولي تخمر کې د لاندې موادو کوم یو په الکولو بدلون مومي ؟

الف - نشایسته ، ب - بوره ، ج - ګلوکوز ، د - نشایسته او بوره.

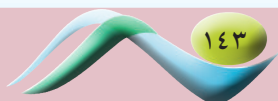
16- د ایتانول د دوو مالیکولونو له دي هایډریشن څخه لاندې کوم یو مرکب جوړېږي.

الف - الديهاید ، ب - کیتون ، ج - ډای ایتایل ایتري ، د - تېزاب.

17- $(R)_2CHOH$ فورمول د لاندې مرکبونو له کوم یو فورمول دی ؟

الف - دریمي الکول ، ب - لومړني الکول ، ج - ایتري ، د - هیکس یو.


18- $(CH_3)_2CO$ فورمول د کوم لاندې مرکب فورمول دی.



- الف - پای میتایل کیتون، ب - الدیهاید، ج - استون، د - الف اوج ددوارو.
- 19- که چیرې الدیهایدونه ارجاع شي، له لاندې مرکبونو څخه به کوم مرکب ترلاسه شي؟
- الف - الکولونه، ب - تېزابونه، ج - ایترونه، د - گلايکولونه.

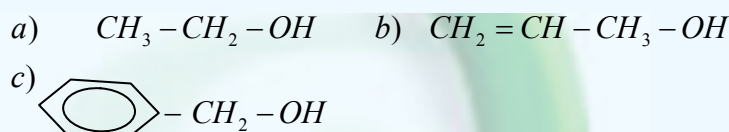
تشریحي پوښتنې

1- لاندې معادلې بشپړې او توازن کړئ

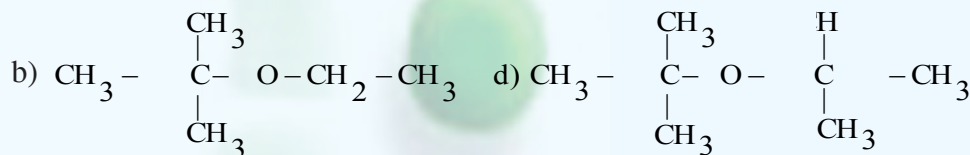
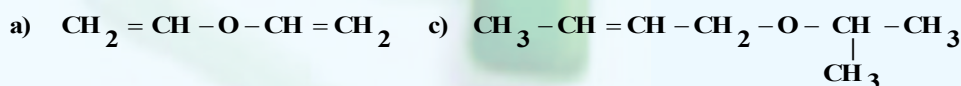


2 - له 200g، 80% خالص کلیسم کارباید څخه به څومره ایتایل الکول حاصل شي؟ که چیرې په دې تعامل کې 75% خالص ایتایل الکول تر لاسه شوي وي، د کلیسم کار باید مالیکول کتله 64g/mol او د ایتایل الکول 46g/mol ده.

3- د هغو ایترونو فورمولونه ولیکئ چې له لاندې الکولونو سره ایزومیر وي:



4 - د لاندې ایترونو معمولي او سیستماتیک نومونه ولیکئ:



5- 0.2mol پای ایتایل اتر ته له HBr غلیظ محلول سره تعامل ورکول شوی دی، څو گرامه الکول او څو گرامه ایتایل بروماید په دې تعامل کې تر لاسه کيږي؟ د ایتایل الکول مالیکولي کتله 46g/mol ده.

6- د معتبرو کتابونو او ماخذونو څخه په گټه اخیستنې سره د گلیسرین او ایتلین گلايکول د کارولو ځایونه ولیکئ

کوم چې د دې درسي کتاب په متن کې ليکل شوي نه وي.

7- 92% خالص ايتايل الکول په 50g کميت د ايتلين د لاسته راوړنې په موخه په کار وړل شوی دی چې لاسته راغلی محصول 80% ايتلين لري.

الف - څومره الکين به حاصل شوی وي؟

ب - له همدې الکولو څخه به څومره ايتر حاصل شي؟

د ايتايل الکول ماليکولي کتله 46g/mol او ډای ايتايل ايتر 74g/mol ده.

8- د لاندې موادو د تعامل محصول او کيميايي معادلې بشپړې کړئ:

الف - که چيرې مېتايل الکول د $K_2Cr_2O_7$ په H_2SO_4 محلول کې اکسیديشن شوی وي.

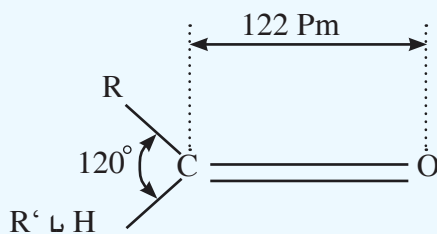
ب - که چيرې 2-propanol د $KMnO_4$ په H_2SO_4 محلول کې اکسیديشن شوی وي.

الديهایدونه او کیتونونه

د هایدروکاربنونو اکسیجن لرونکي مرکبونه ډېر دي؛ له دې کبله په بیلا بیلو ټولګیو وېشل شوي دي،
الديهایدونه او کیتونونه هم د هایدروکاربنونو نور اکسیجن لرونکي مشتقات دي چې په صنعت کې
بنسټیز رول لوبوي. هغوی د رنگونو په جوړولو، د ژویو د جسدونو د ساتلو، د ربړ، پلاستیک، د عطر
جوړونې او په نورو برخو کې دکارولو ځایونه لري. دا مرکبونه په دې خپرکي کې مطالعه کېږي او ددې
خپرکي په لوستلو به پوه شئ چې الديهایدونه او کیتونونه څه ډول مرکبونه دي او له کومو سرچینو څخه
لاسته راځي؟ دکومو ځانګړتیاوو لرونکې او په کومو برخو کې کارول کېږي؟

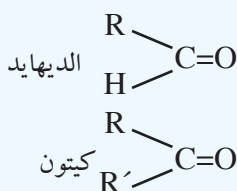
9: الديهيد او کتون (د کاربونیل د گروپ مرکبونه)

د کاربونیل ($C=O$) گروپ په ځانگړو عضوي مرکبونو کې شتون لري چې دې مرکبونو ته يې ځانگړي خواص ورکړي دي، د کاربن او اکسیجن اتومونه په دې گروپ کې دوه گونې اړیکه لري چې يوه يې د پای (π) اړیکه او بله يې د سگما (σ) اړیکه ده چې د کاربن د اتوم sp^2 -hybrid اوربیتال او د اکسیجن د اتوم sp^2 -hybrid اوربیتال د مستقیمې ننوتنې او پوښ څخه منځته راغلي ده. د پای (π) اړیکه د کاربن د $2p$ نه هايبرید شوي اوربیتال او اکسیجن د $2p$ نه هايبرید شوی اوربیتالونو د څنګیز ننوتنې په پای کې منځته راځي. په لاندې شکل کې د کاربونیل وظیفه يي گروپ ځانګړتیاوې وړاندې شوي دي:



(9-1) شکل: د کاربونیل په گروپ کې د اړیکو ځانګړتیاوې

د کاربونیل د مرکبونو جوړښت چې عبارت له الديهيدونو او کيتونونو څخه دي، يو بل ته ورته دي، يوازې د کاربونیل د گروپ له کاربن سره د هايډروجن د اتومونو په شمير کې يو له بل څخه توپير لري چې د هغوی عمومي فورمولونه په لاندې ډول دي:



په دې فورمولونو کې R او R' عضوي پاتې شوني راديکالونه دي چې کيدای شي، الفاتيک يا اروماتيک وي.

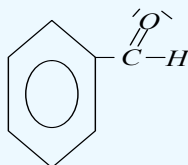
9-1: الديهيدونه (Aldehydes)

الديهيدونه د هايډروکاربنونو اکسیجن مشتقات دي چې د کاربونیل ($C=O$) وظیفه يي گروپ د هايډروکاربنونو يو اتوم هايډروجن يې ځايه کړی دی (په فارم الديهيد کې د کاربونیل د گروپ دواړه اړیکې په استثنایي ډول د هايډروجن له دوو اتومونو سره تړلې دي).

په الديهيدونو کې وظیفه يي گروپ د کاربونیل گروپ دی چې د هغه يو ولانسي الکترون په هايډروجن او دويم ولانسي الکترون يې له عضوي پاتې شونو سره تړل شوی دی، عضوي پاتې شوني کيدای شي، اليفاتيک او يا

اروماتيک وي؛ دبيلگې په ډول: د الديهيدونو عمومي فورمول $R-C(=O)-H$ دی او R کيدای شي چې C_2H_5 , CH_3 او نور راديکالونه وي.

د اروماتيک الديهيدونو فورمول $Ar-C(=O)-H$ دی چې د هغوی بيلگه کيدای شي بنزالديهيد وړاندې کړای شي:



د اليفاتيک الديهايدونو عمومي فورمول له $C_nH_{2n}O$ څخه عبارت دی:

مثال:

د هغه الديهايد ماليکولي فورمول پيدا کړئ چې په هغه کې د کتلې له کبله 40% کاربن شتون ولري (د کاربن د اتوم کتله 12، هايډروجن 1 او اکسيجن 16 ده)

حل: د الديهايد ماليکولي کتله عبارت ده له: $MC_nH_{2n}O = 12n + 1 \cdot 2n + 16 = 12n + 2n + 16 = 14n + 16$

$$100g \quad \text{---} \quad 40g, \quad 100g \cdot 12n = (14n + 16) \cdot 40g$$

$$14n + 16 \quad \text{---} \quad 12n, \quad 12n = \frac{40g(14n + 16)}{100g}$$

$$12n = \frac{2(14n + 16)}{5}, \quad 12n = \frac{28n + 32}{5}, \quad 60n = 28n + 32$$

$$60n - 28n = 32, \quad 32n = 32, \quad n = \frac{32}{32}, \quad n = 1$$

$C_nH_{2n}O = C_1H_{2 \cdot 1}O = CH_2O$ farmldehyde پورتنی لاس ته راغلی مرکب فارم الديهايد دی.

فعاليت:



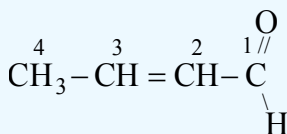
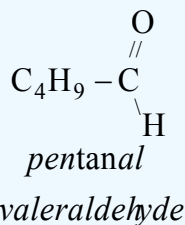
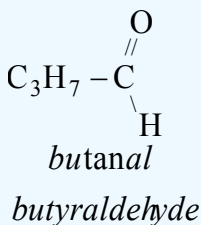
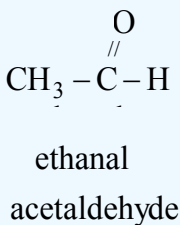
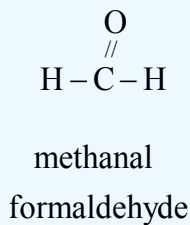
د يو الديهايد کثافت $1.8g/L$ دی، د کوټې په تودوخه کې د هغه يومول $4L$ 22 حجم لري، د هغه فورمول پيدا کړئ (د هايډروجن کتله $1amu$ ، د کاربن کتله $12amu$ او د اکسيجن کتله $16amu$ ده)

9 - 1 - 1: نوم ايښودنه

د الديهايدونو معمولي يا راډيکالي نوم ايښودنه د هغوی د اړوند تېزاب کوم چې د هغه له ارجاع څخه دا الديهايد لاسته راغلی دی، اخېستل شوې ده، داسې چې د *acid* - کلمه په *aldehyde* او د اړوند تېزابونو د نوم د *oic* وروستاړي په (*yl*) بدلون موندلی.

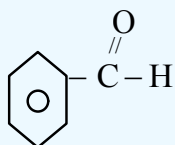
مثال: (Propanoic acid \longrightarrow propylaldehyde)

د ايوپيک په نوم ايښودنه کې د کاربونيل لرونکي ډېر اوږد زنځير په گوته او نمبر وهل کيږي، داسې چې بايد لومړی نمبر د کاربونيل د گروپ کاربن کې وليکل شي. د نمبر وهلو په بنسټ د بنسټيز زنځير د کاربنونو شمېر ټاکل کيږي؛ په دې صورت کې بنسټيز زنځير چې اړوند هايډروکاربن دی، د نوم د وروستي *e* توري پرځای يې د *al* وروستاړی ليکل کيږي، د معاوضو نوم د بنسټيز زنځير د کاربن له نمبر سره چې په هغه پورې تړلی دی، د نوم ايښودلو په پيل کې د بنسټيز زنځير له نوم څخه مخکې ليکل کيږي، لاندې د الديهايدونو د معمولي او ايوپيک د نوم ايښودنې بيلگې وړاندې شوې دي:

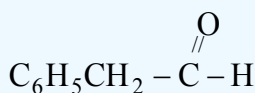


2-methyl propanal

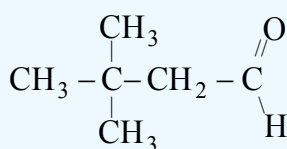
2-butenal



benzene carbaldehyde
benzaldehyde



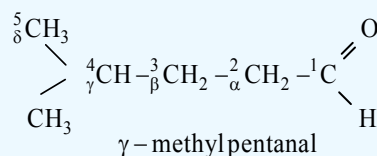
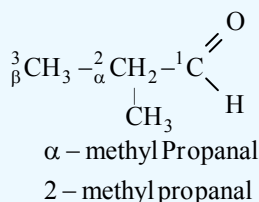
phenyl ethanal
phenyl acetaldehyde



3,3 – dim ethyl bu tan al

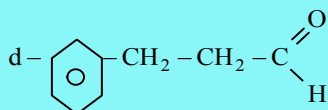
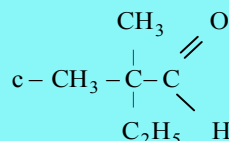
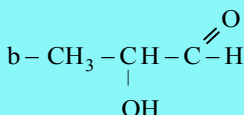
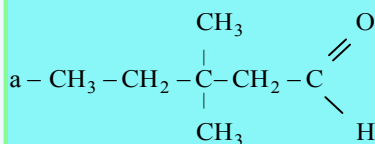
σ باندې هم د کاربونونو اتومونه په بنسټيز زنځير کې چې له دوهم کاربن څخه پيل کيږي، نمبر وهل کيږي، د

معاوضو نومونه په همدې اړونده تورو باندې يادېږي؛ د بيلگې په ډول:



خپل ځان وازمويئ

1 - د لاندې مرکبونو نوم ايښودنه وکړئ:



2 - د لاندې مرکبونو جوړښتيز فورمول وليکئ:

a - iso butanal

b - 2,3,4 - tri hydroxy butanal

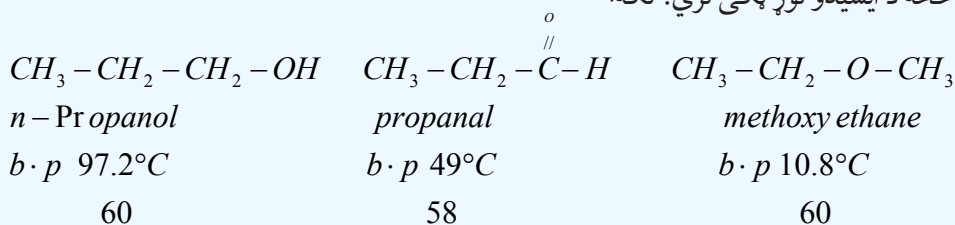
c - p - methy benzaldehyde

d - 2 - bromo propanal

e - 2,3, - di hydroxy hexanal

9-1-2: د الډيهايډونو فزيکي خواص

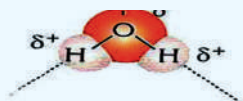
د الډيهايډونو قطبي ماليکولونه د غېر قطبي مرکبونو پر پرتله چې د هغوی ماليکولي کتله يو له بل سره نژدې وي پرته له الکولو څخه د ايشيدو لوړ ټکی لري؛ لکه:



فارم الډيهايډ د کوټې په تودوخه (25°C) کې د گاز حالت او هغه الډيهايډونه چې د کاربن 2-11 اتومه لري، دمايع او له 11 کاربنونو څخه لوړ د جامد حالت لري.

کوچني الډيهايډونه د اوبو له ماليکولونو سره هايډروجنې اړيکه جوړوي؛ نو په اوبوکې د حل کيدلو ښه وړتيا لري، د مولې کتلې په زياتوالي د ماليکولونو قطبيت ټيټېږي او د هايډرو کاربنې گروپ اغيزې ډيرېږي، له همدې کبله په اوبوکې د هغوی د حل کيدلو کچه ټيټېږي.

فارم الډيهايډ او نور الډيهايډونه د ايزولوگو الکولونو له فورمولونو څخه دوه اتومه هايډروجن کم لري؛ نو له دې امله د الډيهايډونو نوم له هايډروجن پرته الکول (Alcohol dehydrogenation = Aldehyd) څخه اخېستل شوی دی.



(9-2) شکل: په الډيهايډونو کې هايډروجنې اړيکې

هغه الديهایدونه چې د کوچنۍ مولې کتلې لرونکي دي، تېز بوی لري او د مولې کتلې په زیاتوالي یې بوی ښه او په زړه پورې وی؛ نو د ښه بوي ورکولو او د خوړو د لاسنه خوند لپاره کارول کېږي. په لاندې جدول کې د ځینو الديهایدونو ځانګړتیاوې لیکل شوي:

(1-9) جدول: ځینو مهمو الديهایدونو ځانګړتیاوې:

نوم	فورمول	$mp(^{\circ}C)$	$bp(^{\circ}C)$	$d_{20}^{\circ}C(g/mL)$	Solubility (g/100gH ₂ O)
Formol dehyde (methanal)	HCHO	-92	-21	0,815	ډیر حل کېږي
Acetaldehyde (ethanal)	CH ₃ CHO	-125	21	0,783	ډیر حل کېږي
Pro pionaldehyde (propanal)	CH ₃ -CH ₂ -CHO	-81	49	0,806	ډیر حل کېږي
n-butyraldehyde (butanal)	CH ₃ (CH ₂) ₂ -CHO	-99	76	0,817	حل کېږي
n-valeraldehyde (pentanal)	CH ₃ (CH ₂) ₃ -CHO	-91,5	102	0,810	لږ حل کېږي
caproaldehyde (hexanal)	CH ₃ -(CH ₂) ₄ -CHO	-51	131	0,833	لږ حل کېږي
benzenecarbaldehyd (benzaldehyde)	C ₆ H ₅ CHO	-26	178	1,42	لږ حل کېږي


9-3-1: د الديهایدونو کیمیاوي خواص

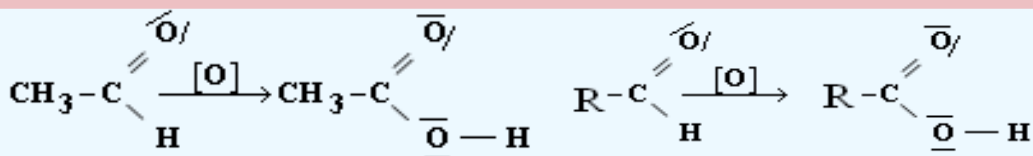
د الديهایدونو کیمیاوي فعالیت له کیتونونو څخه توپیر لري؛ ځکه د الديهاید د کاربونیل په ګروپ کې د هایډروجن او (π) اړیکې شتون د هغوی د ډېر فعالیت لامل شوی دی چې له هایډروجن او نورو مرکبونو سره جمعي تعاملونه ترسره کولی شي، الديهایدونه لاندې ځانګړي تعاملونه ترسره کوي.

- 1 - د کاربونیل ګروپ د جفتو اړیکو پرنسټ جمعي تعاملونه سرته رسوي.
- 2 - د نایتروجن لرونکو بېلابېلو وظیفه یي ګروپونو سره د اکسیجن د اټوم تعویض کېدلو تعامل.
- 3 - د تراکم تعامل (Condensation reaction).
- 4 - د اکسیدیشن او ریدکشن تعاملونه.

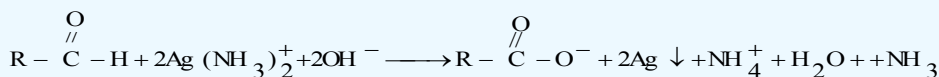
1 - د الديهایدونو اکسیدشن

الديهایدونه د قوي اکسیدانتونو؛ لکه: K_2CrO_4 یا $K_2Cr_2O_7$ ، $KMnO_4$ ، د تېزابونو په شتون کې اکسیدې او په پایله کې کاربوکسلیک اسیدونه جوړېږي:






د تولین (Tollen) تجربه (د ښیښې جیوه): د سپینو زرو د نایتریتو اود امونیا داوبلن محلول مخلوطي بڼه د تولین ښودونکي په نوم یادوي، دا محلول د $[\text{Ag}(\text{NH}_3)_2]$ په بڼه ښکاره کیږي او له هغه څخه د الیدهایدونو په اکسیدیشن کې گټه اخېستل کیږي، په دې صورت کې د $1 +$ اکسیدیشن نمبر لرونکي سپین زر په فلزي سپینو زرو ارجاع کیږي او الیدهایدونه د کاربوکسیلیټونو ایونونو په بڼه اکسیدي کیږي:



د تولین ښودونکي له ځینو الیدهاید ونو سره د تودوخي په شتون او له ځینو نورو الیدهایدونو سره په سرې تودوخي کې تعامل کوي، د تعامل محصول سپین زر دي چې د ښیښې د پاسه رسوب او د ښیښې د جیوه کېدو لامل ګرځي:



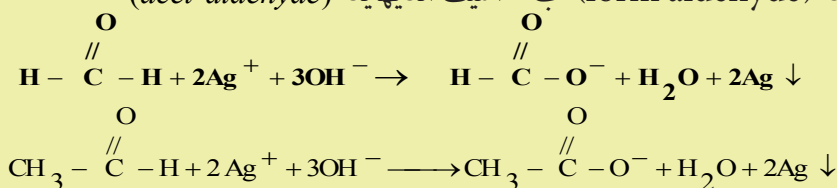
(9-3) شکل: د تولین آزمایش (Tollen test)

- الف - په پاک بیکر کې د سپینو زرو نایتریت او د امونیا داوبلن محلول شتون
 ب - تاسې کولی شئ د محلول رنګ وګورئ چې د ایټنال د اکسیدیشن او د بدلون له امله په اسیتیک اسید باندې منځ ته راځي.
 ج - فلزي سپین زر د ښیښه یي بیکر په دیوال باندې رسوب کوي او هغه جیوه کوي. ټول الیدهایدونه دا ډول تعاملونه سرته رسولی شي.

مثال: د تولین د ښودونکي د تعامل معادله د لاندې الیدهایدونو سره ولیکئ:

الف - فارم الیدهاید (form aldehyde) ب - اسیت الیدهاید (acet aldehyde)

حل



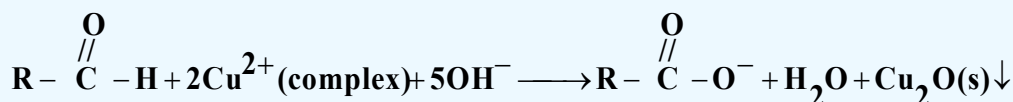


محاسبه یی کری

د گلايکول او اسیت الیهاید د مخلوطو یو گرام د تولین بنودونکی سره تعامل کری چې 1.08g د سپینوزرو ایونونه ترې لاسته راغلي دي، په دې محلول کې به د اسیت الیهاید کچه خومره وي؟


د فهلنگ آزمایش

فهلنگ بنودونکی محلول قلوي خاصیت لري چې د Cu^{2+} ایونو او دپوتا شیم سودیم تارتاریت له مالګې $(Na_2C_4H_4O_6)$ څخه جوړشوی دی او د کامپلکس په بڼه شتون لري، کله چې د فهلنگ بنودونکی له الیهایدونو سره تعامل وکړي، په کامپلکس کې د Cu^{2+} رنگ د خیره اوبو له رنگ څخه په سور رنگه تور د مسو په یو ولانسه اکساید (Cu_2O) بدلون مومي؛ په دې صورت کې الیهاید په همدې وخت کې په کاربوکسلیت ایون $(R - COO^-)$ بدلیږي:



اروماتیک الیهایدونه یوازې د تولین بنودونکي په واسطه اکسیدي کیږي؛ خو د فهلنگ بنودونکي په واسطه نه اکسیدی کیږي.

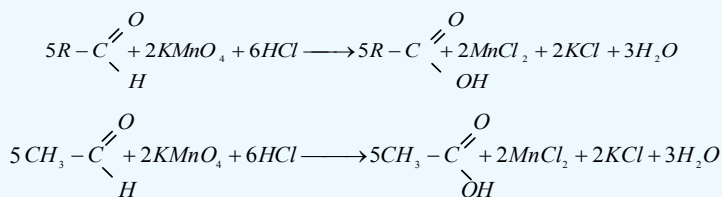
که چیرې ایتانل په $21^\circ C$ تودوخه کې د فهلنگ له محلول سره په یو تست تیوپ (ازمایشي نل) کې واچول شي، په دې صورت کې CuO او اسیتیک اسید لاسته راځي:



(9 - 4) شکل: د ایتانل تعامل د فهلنگ بنودونکي سره

له $KMnO_4$ سره د الیهایدونو تعامل

الیهایدونه له پوتاشیم پرمنگانیت سره تعامل کوي په پای کې الیهایدونه په کاربوکسلیک اسیدونو اکسیدي کیږي او Mn^{+7} له اکسیدیشن نمبر څخه په $+2$ اکسیدیشن نمبر پورې اړجاع کیږي:

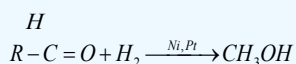


د الډيهايډونو جمعي تعاملونه

د کاربونیل د ګروپ لرونکو مرکبونو د بنسټیزو تعاملونو څخه یو جمعي تعامل دی، په دې تعاملونو کې د $C=O$ د ګروپ د (π) اړیکه پرې کیږي چې د کاربن اتوم څه نا څه مثبت چارج (δ^+) اود اکسیجن اتوم منفي څه نا څه چارج (δ^-) د خپل الکترونیګاتیویتی پر بنسټ تر لاسه کوي اود وروستیو تعاملونو لاره برابرېږي په پایله کې د کاربن او د اکسیجن اتومونه له نورو اتومونو سره نوې اړیکې تړي او نوي مرکبونه جوړېږي.

له هایډروجن سره د الډيهايډونو جمعي تعاملونه

هایډروجن له الډيهايډونو سره د Ni او Pt د کتلستونو په شتون کې تعامل کوي چې په پایله کې لومړني الکولونه



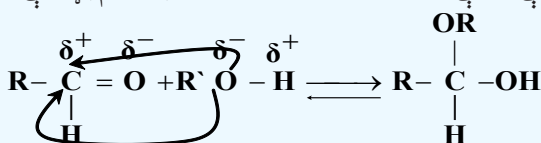
methanal

methanol

له الکولو سره د الډيهايډونو جمعي تعامل

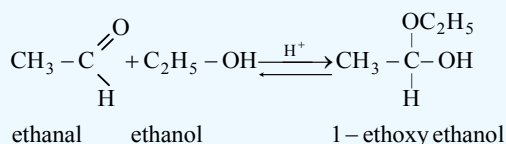
د انهایډرایټ تېزاب (anhydrous acid) د کتلست په شتون کې، الکولونه له الډيهايډونو سره تعامل کوي، داسې چې د الکواکسي ګروپ ($R-O-$) د کاربونیل ګروپ د کاربن له اتوم سره او H^+ د کاربونیل ګروپ د اکسیجن په اتوم باندې نښلی چې په لومړي پړاو کې هیمې اسیټال (hemiacetal) او په دویم پړاو کې Acetal

منځته راځي:

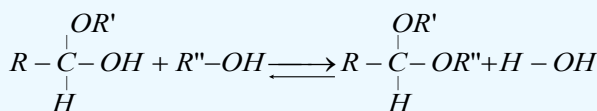


لومړی پړاو

نمونوي بېلګه:

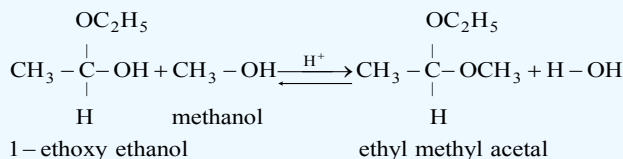


دویم پړاو



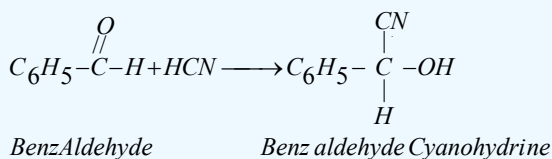
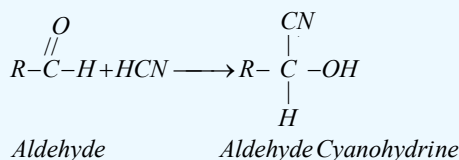
hemiacetal alcohol

acetal



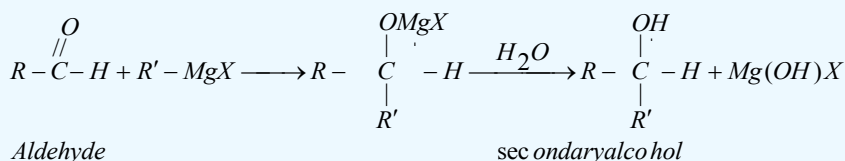
له GCN سره د الديهاید جمعي تعامل

د دې تعامل محصول سيانو هايډرینونه دي. HCN زهري گاز دی؛ نو ددې گاز مستقیم تعامل له الديهایدونو سره اړین نه دی. د CN^- د ایون مالګه چې له فعالو فلزونو؛ لکه: Na او K سره جوړه کړې ده، د H_3PO_4 او H_2SO_4 له غیر عضوي تېزابونو سره تعامل ورکوي او په پایله کې HCN لاسته راوړي چې له جوړېدو وروسته هغه ته له الديهایدونو سره تعامل ورکوي، سيانو هايډرینونه لاسته راځي:



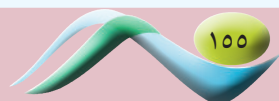
د ګرینارد له ښودونکي سره د الديهایدونو جمعي تعامل

د الديهایدونو جمعي تعامل د ګرینارد له ښودونکي سره د الکولونو د لاسته راوړنې لپاره یو ډېر مهم میتود دی چې د دې تعامل په لومړي پړاو کې الکا اکسایډونه (Alikoxides) تولیدیږي. Alkoxides د تېزابو په شتون کې هايډرولیز کیږي:

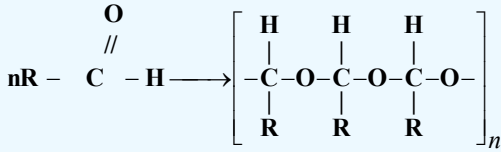


پولیمیرایزیشن (Polymerization)

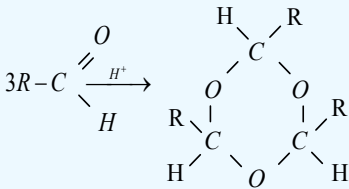
د الديهایدونو ماليکولونه د بیلا بیلو مرکبونو له وظیفه یي ګروپونو سره د پولي میرایزیشن تعامل تر سره کوي او په پایله کې پولي میرونه جوړیږي چې د الديهایدونو د پولي میرایزیشن په تعامل کې د الديهایدونو د پای (π) اړیکه پرې کیږي. یو ماليکول د اکسیجن اتوم د بل ماليکول د کاربن له اتوم سره اړیکه جوړوي او د دې تعامل په پایله کې د هغو کریز او خطي زنځیري مرکبونه جوړیږي:



زنځيري پولي مير:



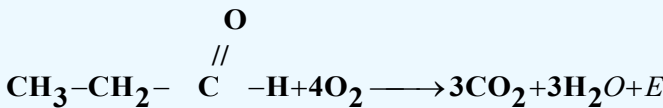
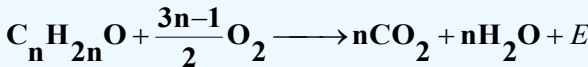
پولي کره ييز پولي مير:



د الیهایدونو پولي مير د الیهایدونو خواص نه لري؛ ځکه په هغوی کې الیهاید گروپ نه شته دی. د پولي مير د ایشیدو ټکی له اړوندو الیهایدونو څخه لوړ دی.

د الیهایدونو د سوزیدلو تعامل (Combustion reaction)

د الیهایدونو د سوزیدلو د تعامل محصول CO_2 ، اوبه او انرژۍ ده، د الیهایدونو د تعامل عمومي معادله په لاندې ډول ده:



فعالیت

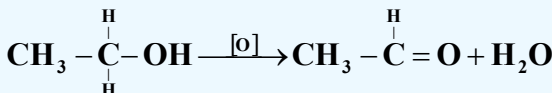
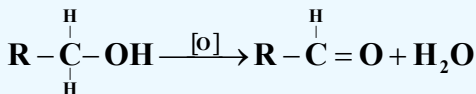


د اسیت الیهاید جمعي تعامل له لاندې مرکبونو سره ولیکئ:

الف - اوبه، ب - هایډروجن، ج - میتیل الکول، د - $NaHSO_3$

9 - 1 - 4: د الیهایدونو لاسته راوړنه

1 - د لومړي الکولونو اکسیدیشن: که چیرې لومړنې الکولونه اکسیدیشن شي، الیهایدونه لاسته راځي. د لومړنيو الکولونو د اکسیدیشن منځنۍ حالت تر کاربوکسلیک اسید پورې، الیهایدونه دي، دا تعامل د کتلست په شتون کې ترسره کېږي:

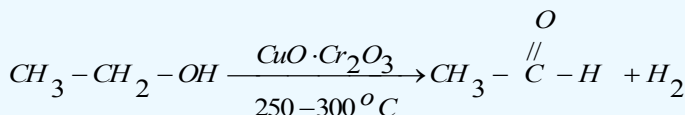
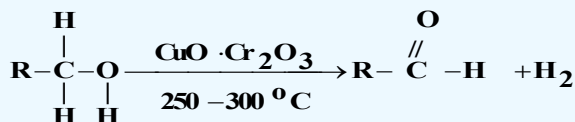


په دې تعامل کې د اکسیدي کوونکي عامل $K_2Cr_2O_7$ دی.

2 - د لومړنيو الکولو دي هایډروجنیشن

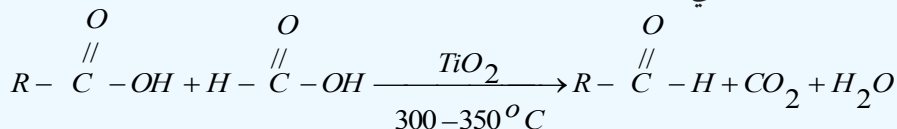
که چیرې لومړني الکولونه د کاپر (II) اکساید او کرومیم (III) اکساید له ($CuO \cdot Cr_2O_3$) مخلوط سره چې د کتلست په توګه دنده ترسره کوي، دي هایډروجنیشن شي، الیهایدونه تر لاسه کېږي. د دې تعامل میتود داسې

ده چې د الكولونو پراسونه په $250-300^{\circ}C$ تودوخې كې له كاپر كرومايت څخه تيروي چې د لومړني الكول له هر ماليكول څخه يو ماليكول هايډروجن جلا كيږي. له هغو الكولو څخه چې د كاربونو د لږو اتومونو لرونكي دي، د CuO د كتلت په شتون كې هم هايډروجن جلا كيږي:



د عضوي تېزابونو د ارجاع كولو په واسطه د الډيهايډونو لاسته راوړنه

كه چيرې عضوي تېزابونه ارجاع شي، په پايله كې الډيهايډونه لاسته راځي، په دې تعامل كې د يو عضوي تېزاب او د فارميک اسيد پراسونه د TiO_2 له كتلت څخه په $300-350^{\circ}C$ تودوخه كې تير وي، په پايله كې الډيهايډونه، CO_2 او H_2O لاسته راځي:



9 - 1 - 5: ځنې مهم الډيهايډونه

فارم الډيهايډ:

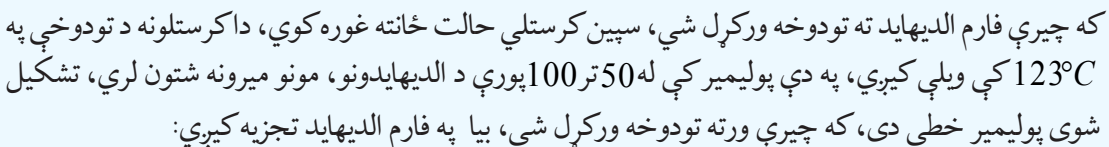
د الډيهايډونو لومړنی مركب فارم الډيهايډ دی چې روسي کيميا پوه بوتليروف په واسطه په 1859م. کال کې کشف شو. فارم الډيهايډ بې رنگه گاز دی چې تېز بوی لري، د الډيهايډونو ډېر ساده مرکب فارم الډيهايډ يا ميتالن دی چې فارمل هم نومول شوی دی. فارم الډيهايډ هغه ماده ده چې زياتره له اوبو سره د محلول په بڼه د ژونديو موجوداتو د جسدونو د ساتلو په موخه ورڅخه گټه اخېستل كيږي. د لرگيو لوگيو كې هم فارم الډيهايډ شته دی



چې يو وژونکی مركب دی. په اوبو كې حل كيږي او د هغه 40% محلول د فارملين په نوم ياد شوی دی چې ډېر استعمال لري، فارم الډيهايډ د ساختماني موادو په صنعت او د كور په وسايلو كې كارول كيږي.

فارم الډيهايډ له آمونيا سره جمعي تعاملونه (پوليميريزېشن) ترسره کوي چې مهم او با ارزښته مرکب هگزا ميتلين تترامين (يورو تروپين) جوړوي. يورو تروپين په طبابت كې د تشو ميتازو د نل د مينځلو او پاكولو لپاره او په صنعت كې د سربښ او كنډ د كلكولو او په همدې ترتيب هغه په خوړو كې وړ زياتوي چې د هغه د خرابيدلو څخه مخنيوی کوي.

شکل: (5 - 9) د فارملين محلول


$$5CH_3OH + 2KMnO_4 + 3H_2SO_4 \longrightarrow 5HCHO + K_2SO_4 + 2MnSO_4 + 8H_2O$$


د تعامل د محصول تند او تیز بوی د فارم الیهاید د جوړیدو ښودونکی دی.

په صنعت کې فارم الیهاید داسې لاسته راوړل کېږي چې د میتانول او هوا مخلوط له سرو او ډیرو تود مسو څخه تېروي او په پایله کې له میتانول څخه یو مالیکول اوبه جلا کېږي:

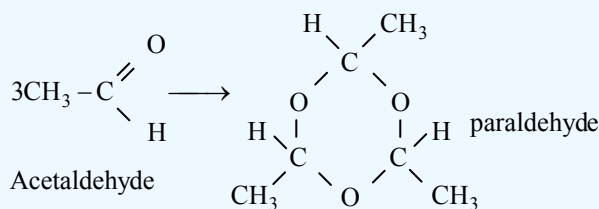


خالص اسیت الیہاید بی رنگه او زهري مایع ده چي په اوبو کی حلېږي، د ایشیدو ټکی یې 21°C دی.

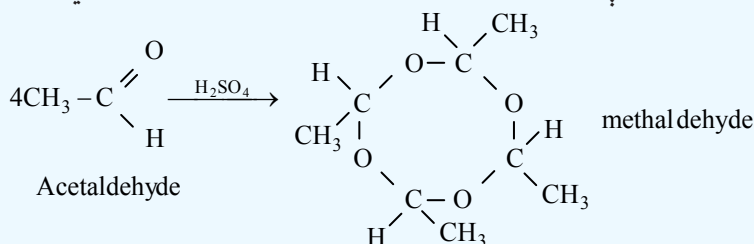
له اسیت الدیهاید خحه اسیتیک اسید، ایتانول او مصنوعی ربړ لاسته راوړي:



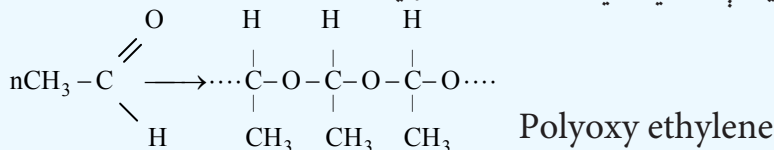
اسیت الیہاید دکوتی په تودوخه کې دگوگرو تېزابو په شتون کې کره ییز پولی میر (پارا الیہاید) جوړوي چې یو تراي میر دی چې دی مرکب ته پارا الیہاید وایي:



پارا الديهاید د میوې په شان خوند لري او په 124°C کې په ایشیدو راځي چې خوب راوړونکی مرکب دی؛ له دې کبله له هغه څخه په ساینس او طبابت کې د خوب راوړونکي مادې (د مقناطیسي خوب) په توګه ګټه اخېستل کیږي. پارا الديهاید بیرته د ګوګرو تېزابو په شتون کې په اسیت الديهاید تبدیلېږي. میتالديهاید جامده ماده ده او په 122°C کې الوزي چې په لومړۍ نړیواله جګړه کې عسکرو د خپل ځان د تودولو لپاره د جامد ایتانول په ځای په کاروړل چې له اسیت الديهاید تترامیرایزیشن څخه لاس ته راځي:

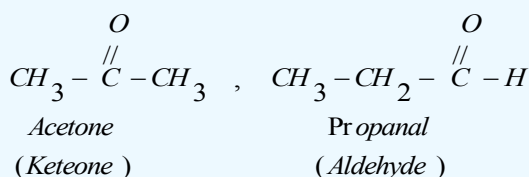


کله چې اسیت الديهاید ته د قوي القلیو غلیظ محلول په شتون کې د ایشیدو پورې تودوخه ورکړل شي، د هغه مالیکولونه یو له بل سره تړل کیږي چې خطي پولي میرونه منځته راوړي:



9 - 2: کیتونونه (Ketones)


په هغو مرکبونو کې چې د کاربونیل وظیفوي ګروپ د الکیلل د دوو پاتې شونو سره اړیکې ولري، دا ډول مرکبونه د کیتونونو په نوم یادېږي. د کیتونونو عمومي فورمول په هغه صورت کې چې $n = 3$ او یا له هغه کم نه وي دی، هغه الديهایدونه او کیتونونه چې یوشان جمعي فورمول ولري، یو د بل ایزومیر دی؛ د بیلګې په ډول:

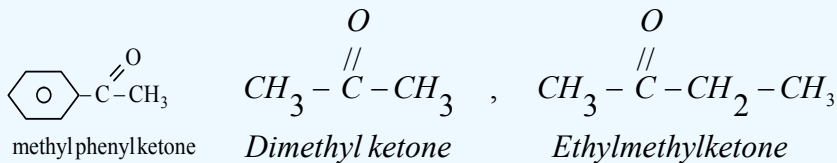


9 - 2 - 1: د کیتونونو نوم ایښودنه

1- معمولي نوم ایښودنه

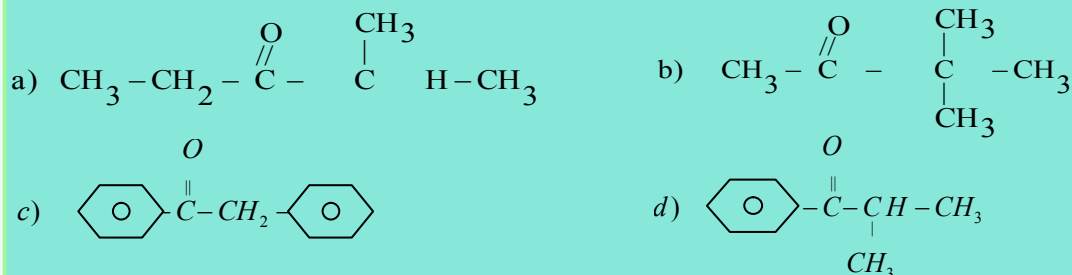
په معمولي نوم ایښودنه کې د R (د الکیلل ګروپونه) یا Ar (د اریل ګروپ) پاتې شونې په جلا ډول (که چېرې سره ورته وي، د ډای کلمه د مختارې په بڼه په هغوي باندې ور زیاتېږي) نومول کیږي او د کیتون کلمه پر هغوی ور زیاتېږي:





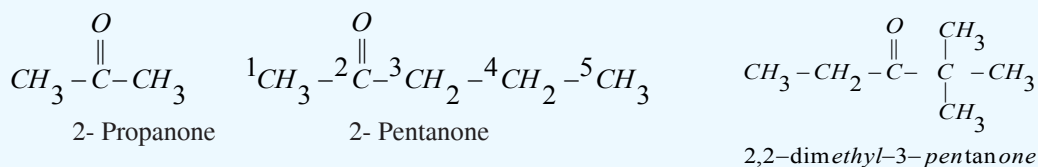
خیل خان و ازموئی

د لاندې کیتونونو نوم ایښودنه په معمولي لارې تر سره کړئ:



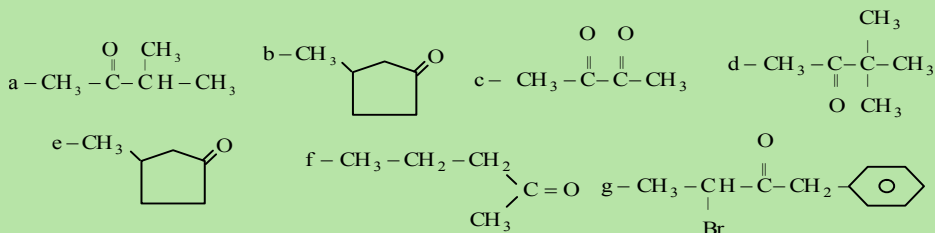
2- د ایوپک (AUPAC) پر لارې د کیتونونو نوم ایښودنه

د کیتونونو په نوم ایښودنه کې اوږد زنځیر چې د کاربونیل ګروپ په هغه کې نښتی وي، ټاکل کېږي او نمبر وهل یې تر سره کېږي، خو نمبر وهل د زنځیر له هغه خوا څخه پیلېږي چې د کاربونیل ګروپ کوچنی نمبر ځانته غوره کړي؛ په دې صورت کې لومړی د هغه کاربن نمبر کوم چې معاوضه ورسره تړلې ده، لیکل کېږي له نمبرونو څخه وروسته د هغو د معاوضو نوم لیکل کېږي چې له همدې کاربن سره اړیکه لري، بیا د کاربونیل د ګروپ د کاربن نمبر مخکې د اوږد زنځیر له نوم سره لیکل کېږي او د اوږد زنځیر په نامه کې چې د کاربونیل ګروپ لرونکي دي، د اړونده هایډروکاربن د نوم وروستی توری (e) یې په one تعویض کېږي:



فعالیت

د لاندې مرکبونو نومونه د IUPAC په سیستم ونوموئ:



9 - 2 - 2: د کیتونونو فزیکي خواص

د کوچنۍ مولې کتلې لرونکي کیتونونه د مایع په حالت موندل کېږي او هغه کیتونونه چې د 11 او یا له دې شمیر څخه ډېر د کاربن اتومونه ولري، د جامد په حالت موندل کېږي، مایع کیتونونه په اوبو کې حل کېږي او د اوبو له مالیکولونو سره هایدروجنې اړیکه جوړوي، مایع کیتونونه د کیمیاوي رنګونو د حل کوونکو په توګه کارول کېږي. په اوبو کې د کیتونونو حل کیدل د هغوی د مالیکولي کتلې په لوړوالي تیتیري او په زړه پورې بوی لري چې الډیهایدونو ته ورته بوی دی. سره له دې چې د کیتونونو مالیکولونه قطبي دي؛ خو د هغوی کاربونیل ګروپ هایدروجنې اړیکه نه شي ټینګولای؛ ځکه د هغوی په مالیکول کې هایدروجن له اکسیجن سره اړیکه نه لري. د الکایل د ګروپونو د کاربن د اتومونو په زیاتوالي، د هغوی قطبیت تیتیري. هغه کیتونونه چې د هغوی مولې کتله د هایدرو کاربنونو او ایترونو سره یو شان ده، د ایشیدو ټکي پې لوړ دی، خو له یوشان الکولونو څخه یې د اېشېدو ټکي ټیټ دی:


	<div>CH₃ CH₃-CH-CH₃</div>	<div>CH₃-O-CH₂-CH₃</div>	<div>O CH₃-C-CH₃</div>	<div>OH CH₃-CH-CH₃</div>
Formula	CH ₃ -CH-CH ₃	CH ₃ -O-CH ₂ -CH ₃	CH ₃ -C-CH ₃	CH ₃ -CH-CH ₃
Name	isobutane	ethyl methyl ether	di methyl Ketone	iso propanol
bp	-120°C	10,8°C	56°C	82,3°C

(9 - 2) جدول: د مهمو کیتونونو فزیکي خواص

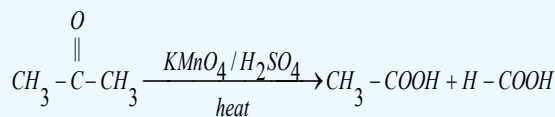
Name نوم	structure جوړښت	np(°C)	bp(°C)	d20°C (g / mL)	Solability in water (g / 100mL H ₂ O)
Acetone	$\text{CH}_3 - \overset{\text{O}}{\underset{ }{\text{C}}} - \text{CH}_3$	-95	56	0,790	زیات حل کېږي
Butanone	$\text{CH}_3 - \text{COCH}_2 - \text{CH}_3$	-86	80	0,805	زیات حلیدونکی
2 - Pentanone	$\text{CH}_3 - \text{CO} - \text{CH}_2 - \text{CH}_2 - \text{CH}_3$	-78	102	0,812	حلیدونکی
3 - Pentanone	$\text{CH}_3 - \text{CH}_2 - \text{CO} - \text{CH}_2 - \text{CH}_3$	-39	102	0,816	حلیدونکی
2 - Hexanone	$\text{CH}_3 - \text{CO} - (\text{CH}_2)_3 - \text{CH}_3$	-57	127	0,830	لږ حلیدونکی
Acetophenone	$\text{CH}_3\text{COC}_6\text{H}_5$	21	202	1,028	نه حل کیدونکی
Benzophenone	$\text{C}_6\text{H}_5 - \text{CO} - \text{C}_6\text{H}_5$	48	306	1,100	نه حل کیدونکی

9 - 2 - 3: د کیتونونو کیمیاوي خواص

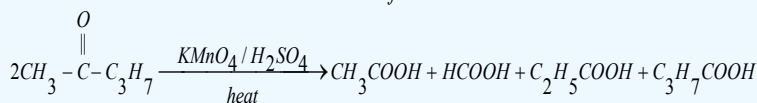
د کیتونونو د کاربونیل په ګروپ کې د هایدروجن اتوم شتون نه لري؛ نو پردې بنسټ د ارجاع د عامل په توګه



فعالیت نه شي تر سره کولی. دا مرکبونه کولی شي په ارجاعي تعاملونو کې د اکسیدیشن د عامل په توګه برخه واخلي. که چیرې کیتونونو ته د قوي اکسیدانتونو په شتون کې زیاته تودوخه ورکړل شي، د هغوی کاربني زنځیر پرې او په پایله کې په عضوي تېزابونو بدلون یا داچې په بشپړه توګه تجزیه کیږي؛ پر دې بنسټ متناظر کیتونونه په دوو بېلابېلو تېزابونو او غیر متناظر کیتونونه په څلورو بېلابېلو تېزابونو تجزیه کیږي:



acetone acetic acid formic acid

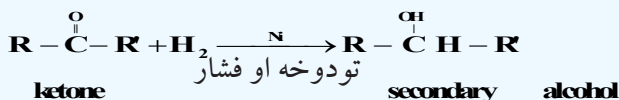
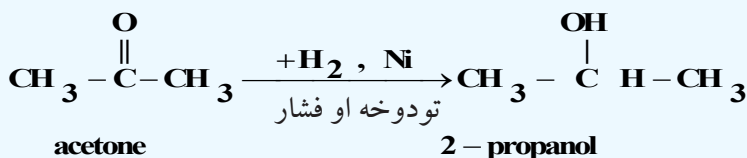


2-pentanone acetic acid formic acid propanoic acid butanoic acid

د کیتون د کاربونیل ګروپ د کاربن اټوم او د اکسیجن اټوم د کاربني زنځیر له ماتیدلو وروسته فعالیت پرې، سره له دې چې له الډیهایدونو څخه لږ فعالیت پرې؛ خو بیا هم جمعي تعاملونه تر سره کولی شي:

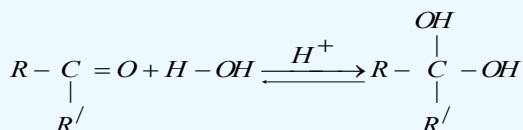
1- د هایدروجن سره د کیتونونو جمعي تعامل

کیتونونه له هایدروجن سره د فلزي کتلسټونو (Pd, Pt, Ni) په شتون کې تعامل کوي چې په پایله کې دویمي الکولونه جوړیږي. په دې صورت کې کیتونونه ارجاع کیږي:

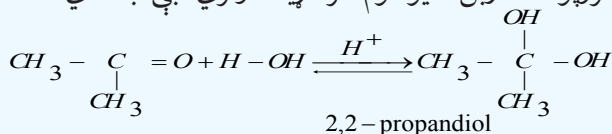


2- له اوبو سره د کیتونونو جمعي تعامل

که چیرې کیتونونه په اوبو کې حل شي، د کیتونونو هایدرايتي بې ثباته حالت منځته راځي؛ داسې چې د اوبو د هایدروجن اټوم د کاربونیل ګروپ د اکسیجن په اټوم باندې او د اوبو د OH- ګروپ د کاربونیل ګروپ د کاربن په اټوم باندې نښلي، په اوبو کې حل شوی کیتون او هایدرايتي حالت یې په یوه تعادل کې شتون لري:



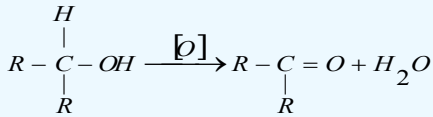
نوبت: په هغو الکولو کې چې د هایدروکسیل دوه ګروپونه د کاربن له یو اټوم سره اړیکه ولري، بې ثباته دي.



اسیتون

9-2-4: د کیتونونو لاس ته راوړنه:

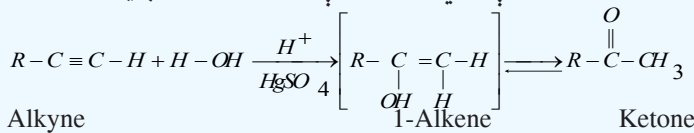
۱- د دویمي الکولونو له اکسیدیشن څخه کیدای شي چې کیتونونه لاس ته راوړل شي، له اړوند الکول څخه د لاس ته راغلو کیتونونو د ایشیدو ټکي ټیټ دی؛ نو له دې کبله کیتونونه د براسونو په حالت لاسته راځي:



۲- که چېرته دویمي الکول د هایډورجنیشن شي کیتونونه حاصلیږي د دویمي الکولو براس د تودو ($\text{CuO} \cdot \text{Cr}_2\text{O}_3$) د پاسه تېر شي یو مالیکول هایډروجن د اړوند الکولو څخه جدا او کېون حاصلیږي.



۳- د اوبو او استین د کورنۍ د جمعي تعامل څخه هم کولی شي چې کېتونونه په لاس راوړي. د ګوګرو تېزابو د سیمابو د مالګې (HgSO_4) د الکاینونو د پاسه اوبو ورزیاتې شي په نتیجه کې کېتونونه حاصلیږي.



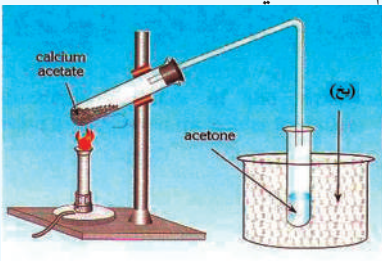
د کیتونونو مرکبونه

اسیتون (Aceton): اسیتون د پروپانون اویا ډای میتیل کیتون په نوم هم یادیږي. دا مرکب بې رنگه مایع ده چې تیزبوی لري او الوتونکي ماده ده، په 56°C کې په ایشیدو راځي، په اوبو، الکولو او ایترونو کې په هر نسبت حل کیږي، د عضوي موادو ښه محلول هم دی. د ورنسو رنګونو، د نوکانو په رنګونو، پلاستیکو، د غوړو په رنګونو او د هغوی د مشتقاتو، د کنډو او لاکو ښه حلونکې ماده ده. اسیتون د هغو وګړو په تشو میتيازو کې شتون لري کوم چې د شکرې له ناروغۍ څخه ځورېږي. ددې وګړو تشې میتيازې د اسیتون بوی لري. اسیتون په اوبه رنګه لمبه سوځي او په ستونزو سره اکسیدایز کیږي.

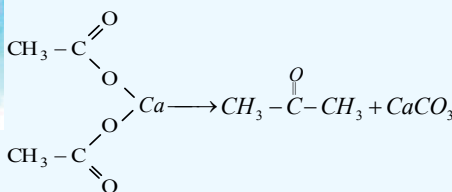
د اسیتون لاسته راوړنه:

1- د لرګیو تقطیر: د لرګیو تقطیر له ټولو محصولاتو څخه 0.5% یې اسیتون دی چې کیدای شي هغه د تدریجي تقطیر له امله جلا کړای شي.

2- د لاندې دستگاه په واسطه، کلسیم اسیتیت ته د تودوخې په ورکولو هم کیدای شي، اسیتون لاس ته راوړل شي:



(9-6) شکل: له کلسیم اسیتات څخه د لاس ته راوړلو دستگاه



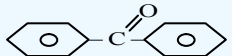


گروپ په ځانگړو عضوي مرکبونو کې شتون لري چې دې مرکبونه يې ځانگړي خواص ورکړي دي.

- الديهيدونه د هايډروکاربنونو اکسيجنې مشتقات دي چې د کاربونيل ($C=O$) وظيفه يې گروپ د هايډروکاربنونو اتوم هايډروجن تعويض کړی دی.
- د الديهيدونو معمولي يا راډيکالي نوم اېښودنه د هغوی د اړونده تېزابونو کوم چې د هغه له ارجاع څخه دا الديهيد لاس ته راغلي دي، اخېستل شوې ده، داسې چې د *acid* - کلمه په *aldehyde* او د اړوند تېزابونو د نوم د *oic* وروستاړي په (*yl*) بدلېږي.
- د الديهيد قطبي ماليکولونه د غېر قطبي مرکبونو په نسبت چې د هغوی ماليکولي کتله يو له بل سره نژدې وي (د الکولو په استثنا) د اېښېدو لوړ ټکی لري.
- د الديهيدونو کيميايي فعاليت له کيتونونو څخه توپير لري؛ ځکه د الديهيد د کاربونيل په گروپ کې د هايډروجن او د (π) اړيکې شتون د هغوی فعاليت ډېر کړی دی چې له هايډروجن او نورو مرکبونو سره جمعي تعاملونه ترسره کولی شي.
- فارم الديهيد هغه مایع ده چې عموماً له اوبو سره د محلول په بڼه د ژونديو موجوداتو د جسدونو د ساتلو په غرض ورڅخه گټه اخېستل کېږي او د هغه 40% محلول د فارملین په نوم ياد شوی دی چې ډېر استعمال لري، فارم الديهيد د ساختماني موادو په صنعت او د کور په وسايلو کې کارول کېږي.
- د اسيتيک اسيد له ارجاع څخه اسيت الديهيد او د هغه له اکسيډيشن څخه اسيتون لاسته راځي.
- خالص اسيت الديهيد بې رنگه او زهري مایع ده چې په اوبو کې حلېږي، د ايشيدو ټکی يې $21^\circ C$ دی.
- له اسيت الديهيد څخه اسيتيک اسيد، ايتانول او مصنوعي رېر لاسته راوړي.
- د کيتونونو عمومي فورمول په دې صورت کې چې $n=3$ او له درېو څخه کم نه وي صحيح دی ($R-C(=O)-R$ يا $R-C(=O)-R$)، دی، هغه الديهيدونه او کيتونونه چې يوشان جمعي فورمول ولري، يو له بل ايزومير دي.
- د لومړنيو الکولونو له اکسيډيشن څخه الديهيد او د دويمې الکولونو له اکسيډيشن څخه کيتون لاسته راځي.
- اسيتون د پروپانول اويا ډای ميتايل کيتون په نوم هم يا دوي. دا مرکب بې رنگه مایع ده چې تيز بوی لري او مفر (فرار کيدونکی) ماده ده، په $56^\circ C$ کې په ايشيدو راځي.
- دلرگيو د تقطير له مجموعي محصولاتو څخه، 0.5% يې اسيتون دی چې کيدای شي هغه د پرله پسې تقطير په واسطه جلا کړی شي.

د نهم څپرکي پوښتنې

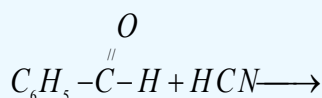
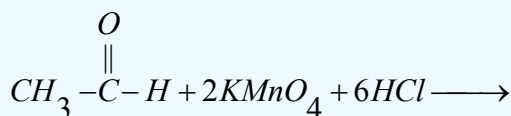
څلور ځوابه پوښتنې

1. د کاربونیل د وظیفه یي گروپ فورمول ----- دی.
الف - $(C=S)$ ، ب - $(C=O)$ ، ج - $(C-OH)$ ، د - $(COOH)$
2. د الډیهاید او HCN د جمعي تعامل محصول ----- دی.
الف - الډیهاید سیانو هاید رین، ب - سیانو هاید رازین، ج - الف او ب دواړه، د - هیڅ یو
3. پارا اسیت الډیهاید کره ییز مرکب دی چې د تودوخې په واسطه ----- تبدیلېږي.
الف - فارم الډیهاید، ب - اسیت الډیهاید، ج - اسیتون، د - اسیتیک اسید.
4.  د ----- فورمول دی.
الف - ډای فینیل کیتون، ب - نفتالین، ج - انتراسین، د - فینول.
5. د غیر متناظر کیتون له کنلستي تجزیې څخه ----- ډوله تېزابونه جوړېږي.
الف - دوه، ب - څلور، ج - یو، د - درې
6. $R-\overset{O}{\parallel}{C}-R'$ د ----- کیتون فورمول دی.
الف - متناظر، ب - غیر متناظر، ج - الډیهاید، د - اسیتون.
7. $CH_2=CH-CH_2-\overset{O}{\parallel}{C}-H$ د مرکب نوم ----- دی.
الف - 1-butenal، ب - 3-butenal، ج - 1-propenyl aldehyde، د - ب او ج دواړه.
8. د فارمیک اسید او دیو بل عضوي تېزاب د سون د تعامل محصول دی.
الف - CO_2 او H_2O ، ب - H_2O ، CO_2 او الډیهاید ج - $\overset{O}{\parallel}{C}-H + CO_2 + H_2O$ ، د - ب او ج سم دي.
9. د گرینارډ معرف او الډیهاید د تعامل وروستی محصول دی.
الف - دویمي الکول او $Mg(OH)X$ ، ب - لومړني الکول $Mg(OH)X$
ج - دریمي الکول او $Mg(OH)X$ ، د - هیڅ یو.
10. د الډیهاید د فعالیت لامل جوړښتی دی.
الف - د کاربونیل گروپ، ب - (π) اړیکې، ج - د کاربونیل په گروپ کې H او (π) اړیکه، د - دا ټول.
11. د الډیهایدونو په نوم ایښودنه کې د اړونده الکانونو دنوم پای e توری په- مختاري باندې تعویض کیږي:
الف: one: ب: al: ج: ene: د: ol
12. $C_6H_5-CH_2-\overset{O}{\parallel}{C}-H$ مرکب نوم عبارت دی له:
الف: فینیل ایتانل، ب: فینیل اسیت الډیهاید، ج: الف او ب سم دي، د: بنزالډیهاید.
13. د الکواکسي گروپ عبارت دی له:
الف - $R-H$ ، ب - $RO-$ ، ج - $R-O-R$ ، د - $-O-$.

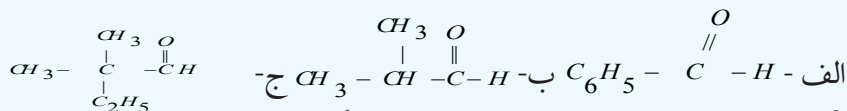
14. د الډيهايډونو له ارجاع څخه کوم مواد لاسته راځي.
الف: الکان، ب - الکولونه ج - لومړنی الکول د - کيتونونه

تشریحي پوښتنې

1 - دا لاندې معادلې بشپړې کړئ:



2 - دلاندینيو الډيهايډونو او کيتونونو نوم ایښودنه د IUPAC پر بنسټ تر سره کړئ:



3 - د لاندې الډيهايډونو جوړښتیز فورمولونه ولیکئ:

الف - *butenal* - 3 ب - *2-methyl butanal* ج - *4-nitrobenzen aldehyde*
د - *3,3,3-trichloropropanal*

4 - په STP شرایطو کې 2.464L اکسیجن د یو الډيهايډ له 1.44g پرا سونو سره تعامل کړی دی، د تعامل کوونکي الډيهايډ مالیکولي فورمول به کوم وي؟ (C=12g/mol H=1g/mol O=16g/mol)

5 - کوم الکولونه باید اکسیدي شي، تر څو لاندې مرکبونه حاصل شي؟

الف - *form aldehyde* ب - *2-methyl propanal* ج - *2,2-dimethyl butanal*

6 - کوم ساختماني فورمولونه د $\text{C}_5\text{H}_{10}\text{O}$ جمعې فورمول لرونکي کیتون ته لیکلی شو؟ هغه رسم کړئ.

7 - که چیرې 0.2mol د یو کیتون له 22.4g HCN سره تعامل کړی وي، د دې کیتون فورمول به کوم وي؟

8 - که چیرې د کیتون 0.2mol د 35.2g NaHSO_3 له مرکب سره تعامل کړی وي، د کیتون مالیکولي کتله به کومه وي؟ (H=1g/mol او O=16g/mol او C=12g/mol)

لسم څپرکی

عضوي تېزابونه (کاربوکسلیک اسید)



د عضوي مرکبونو د اکسیجن لرونکي مشتقاتو څخه مهم یې کاربوکسلیک اسیدونه دي د دې په ترکیب کې د کاربوکسیل (-C(=O)-OH) گروپ شتون لري، دا گروپ د تېزابو د وظیفه یي گروپ په نوم هم یادېږي.

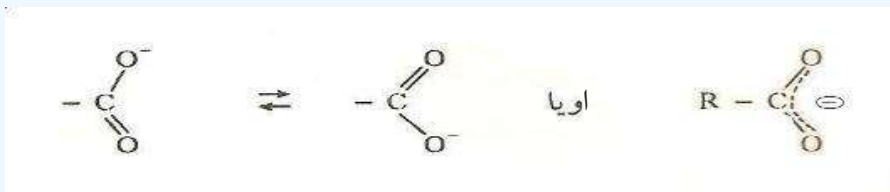
د عضوي تېزابونو؛ لکه: د سرکې تېزاب، د شیدو تېزاب او نورو سره آشنایي لری. د شحمیاتو بنسټیز جز شحمي تېزاب دي. په دې څپرکي کې به د عضوي تېزابونو په اړه معلومات لاسته را وړئ او زده به یې کړئ چې د تېزابونو طبیعي سرچینې کومې دي؟ د انسانانو د ژوند په کومو اړخونو کې کارول کېږي، کوم کیمیايي فعالیتونه لري؟

د دې څپرکي په زده کړې به پورتنیو پوښتنو او هغوی ته ورته پوښتنو ته ځوابونه ورکړل شي.

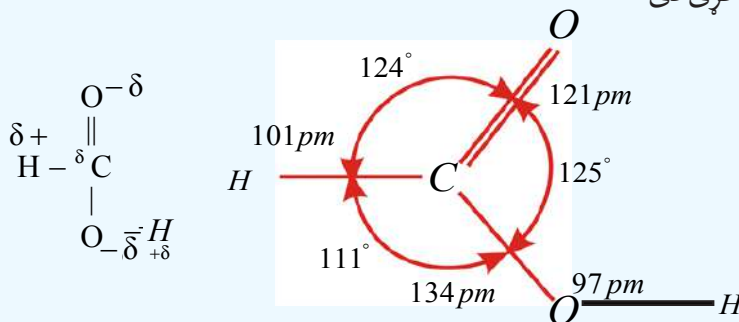
10_1: عضوي تېزابونه

د کاربوکسیل گروپ (Group Carboxylic)

د کاربوکسیل گروپ ($\text{O}=\text{C}-\text{O}-\text{H}$) د کاربونیل او هایډروکسیل له گروپونو څخه جوړ شوی دی چې زیاتره د COOH - په بڼه لیکل کیږي؛ خو په هغه کې هیڅ کله هایډروجن او د کاربن د اتومونو ترمنځ اړیکه شتون نه لري. دا گروپ کولی شي چې د پروتون ورکونکي په توګه ($\text{Proton} - \text{Donator}$) عمل وکړي او د (COO^-) ایون چې د کاربوکسلات په نوم یادېږي، بدلون ومومي. په دی انیون کې د اکسیجن دواړه اتومونه یو ډول ارزښت لري؛ ځکه په هغه کې د π الکترونونه د ریزونانس په حالت کې دي:



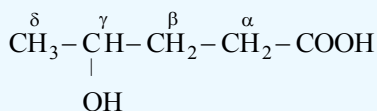
ټول هغه مرکبونه چې په خپل مالیکولي جوړښت کې د کاربوکسیل گروپ ولري، د کاربوکسیلیک اسید د مرکبونو په نوم یادېږي. د فارمیګ اسید په مالیکول کې د اړیکو ځانګړتیاوې چې لاندې لیکل شوې دي، د اکسیجن، هایډروجن او کاربن اتومونه چې په دې مرکب کې شتون لري، د بېلابېلو الکترونیکاتیوټي سره یې د دوی مالیکول قطبي کړی دی:



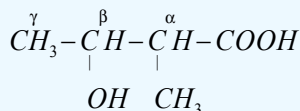
10_1_1: د عضوي تېزابونو نوم ایښودنه

1_ د عضوي تېزابونو معمولي نوم ایښودنه: د عضوي تېزابونو معمولي نوم ایښودنه د اړوندو تېزابو د سرچینو له لاتینو یا یوناني کلمو څخه اخیستل شوې ده؛ د بیلګې په ډول: *Formic acid* د میږي (*Formica*) د لاتین نوم څخه اخیستل شوی دی چې د سرو میږیو دکالپوتونو (جسد ونو) له تقطیر څخه لاسته راوړل شوی دی، د اسیتیک اسید (*acetic acid*) نوم د سرګی له لاتین نوم (*acetum*) څخه اخیستل شوی دی، د بیوتاریک اسید (*butyric acid*) نوم د کوچو د لاتین نوم (*butyrum*) او د ستیاریک اسید (*stearic acid*) نوم د غوړو له لاتین نوم (*Stear*) څخه اخیستل شوی دی، په همدې ترتیب ټول معمولي نومونه د اړوندو تېزابو د لاسته راوړنې د سرچینې پرنسټ ایښودل شوی دی.

که چیرې په داسې تېزابونو کې بېلابېلې معاوضې شتون ولري؛ نو په دې صورت کې کاربنونه د کاربوکسیل له گروپ سره د اړیکو له کبله د یوناني ژبې په تورو، الفا (α)، بیتا (β)، گاما (γ)، دلتا (δ) او نورو باندې په نښه کېږي، داسې چې د کاربوکسیل په گروپ پورې تړلې کاربن په الفا (α) او په نورو تورو ښودل کېږي؛ د بېلگې په ډول:



γ - hydroxyvaleric acid




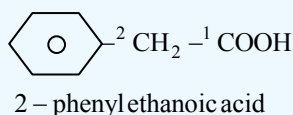
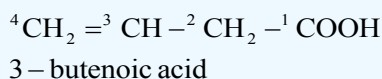
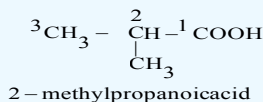
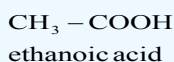
α - methyl - β - chlorobutyric acid

(1_10) جدول: د لسو عضوي تېزابونو معمولي نومونه اود هغوی سرچینې

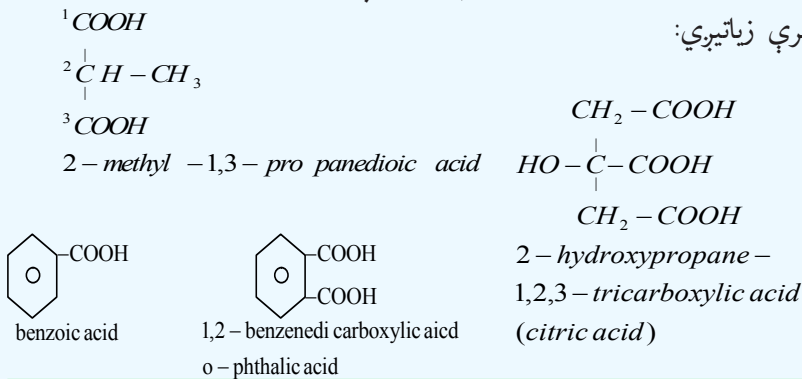
د کاربن شمیر	جوړښت	معمولي نوم	سرچینې
1	HCOOH	فارمیک اسید	میري (لاتین- فارمیکا)
2	CH_3COOH	اسیتیک اسید	سرکه (لاتین- اسیتوم)
3	$\text{CH}_3 - \text{CH}_2 - \text{COOH}$	پروپینیک اسید	شیدې، کوچ او خیدک
4	$\text{CH}_3(\text{CH}_2)_2\text{COOH}$	بوتریک اسید	کوچ (لاتین- بوتیروم)
5	$\text{CH}_3(\text{CH}_2)_3\text{COOH}$	والیریک اسید	سنبل د گل رښه (لاتین- والیر)
6	$\text{CH}_3(\text{CH}_2)_4\text{COOH}$	کپرویک اسید	اوزه (لاتین- کاپر)
7	$\text{CH}_3(\text{CH}_2)_5\text{COOH}$	اینان توییک اسید	د پیچک وړۍ (لاتین- اینانت)
8	$\text{CH}_3(\text{CH}_2)_6\text{COOH}$	کپریلیک اسید	اوزي (لاتین- کاپر)
9	$\text{CH}_3(\text{CH}_2)_7\text{COOH}$	پیلار گونیک اسید	د شمعدانی گل (دافریقایی نبات)
10	$\text{CH}_3(\text{CH}_2)_8\text{COOH}$	کپریک	اوزه (لاتینی - کاپر)

2_ د IUPAC په لاره د تېزابونو نوم ایښودنه

د IUPAC په نوم ایښودنه کې اوږد زنځیر چې د کاربوکسیل گروپ لرونکی وي، ټاکل، موندل او نمبر وهل کېږي، نمبر وهل د کاربوکسیل گروپ له کاربن څخه پیل کېږي. په نوم ایښودنه کې لومړی په معاوضو پورې تړلی کاربن نمبر او له هغه څخه وروسته د معاوضو نومونه لیکل کېږي، د نوم په پای کې د کاربوکسیل لرونکې اوږد زنځیر نوم لیکل کېږي. څرنګه چې د اړوند هایډروکاربن (الکان، الکین او الکاین) د نوم وروستی برخې د e توری یې *oic* - په وروستاړي تعویض او د اسید (acid) کلمه پرې ور زیاتېږي؛ د بیلګې په ډول:

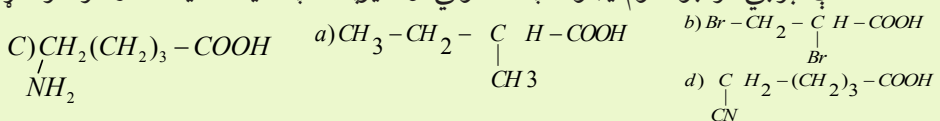


که چیرې عضوي تېزابونه په خپل مالیکولي ترکیب کې له یو کاربوکسیل ګروپ څخه ډېر ولري، په دې صورت کې د هغوی د اړوند هایدروکاربن (الکان، الکین، الکاين) د نوم په پای کې Trioic, dioic او نور وروستاړي لیکل کېږي او د اسید کلمه پرې زیاتیږي:



مشق او تمرین وکړئ

1 - د لاندې تېزابي مرکبونه نوم ایښودنه په معمولي او د ایویک په سیستماتیکه لاره تر سره کړئ:

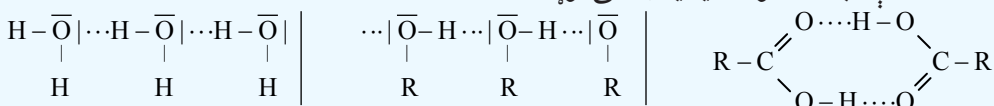


2 - د لاندینو تېزابي مرکبونو جوړښتیز فورمولونه ولیکئ:

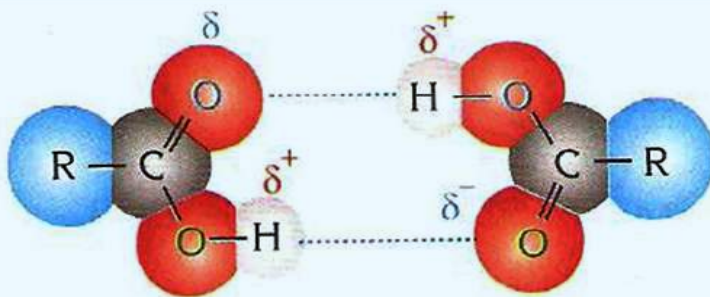
- | | |
|--|--------------------------------|
| a) 2-methylbutanoic acid | b) 5-aminopentanoic acid |
| c) 2-methyl-3-hydroxybutanoic acid | d) 1.5-pentanedioic acid |
| e) α -methyl- β -chloropropanoic acid | f) α -oxypropionic acid |

د عضوي تېزابونو فزیکي خواص

د مشبوع هایدروکاربنونو درې لومړي یو قیمت ته تېزابونه بې رنگه مایع حالت او تیزبوی لري، د مشبوع هایدروکاربنونو یو قیمت ته تېزابونه چې د کاربن د اتومونو شمېر یې له څلورو تر نهو (9) پورې وي، دکوچو او د بادامو د غوړیو بوی لري، له دې کبله چې مصنوعي کوچ او شیرینی په زړه پورې بوی ولري؛ نو نوموړي تېزابونه په هغو کې ورزیاتوي. د مشبوع هایدروکاربنونو تېزابونه چې له لسو څخه د کاربن ډېر اتومونه ولري، بې بویه دي، هغه تېزابونه چې له 14 څخه تر 22 د کاربن اتومونه په خپل مالیکولي ترکیب کې ولري، په حیواني او نباتي غوړیو کې موندل کېږي؛ نو له دې کبله د شحمي تېزابونو په نوم یادېږي. څرنگه چې د عضوي تېزابونو د دوو مالیکولونو تر منځ دوه هایدروجني اړیکې شتون لري؛ نو د هغوی د مالیکولونو تر منځ د جذب قوه د نورو اکسیجن لرونکو مرکبونو په پرتله چې یوشان کنلې لري، زیاته ده؛ له دې کبله د هغوی د ایشیدو ټکی لوړ دی:

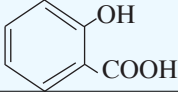


په عضوي تېزابونو کې هایدروجني اړیکه په الکولونو کې هایدروجني اړیکه په اوبو کې هایدروجني اړیکه

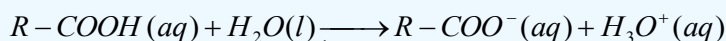


شکل: د تېزابونو د دوو ماليکولونو تر منځ هايډروجنې اړيکه (1_10)

(2_10) جدول: د عضوي تېزابونو ځينې فزيکي خواص او په اوبو کې د هغوی حل

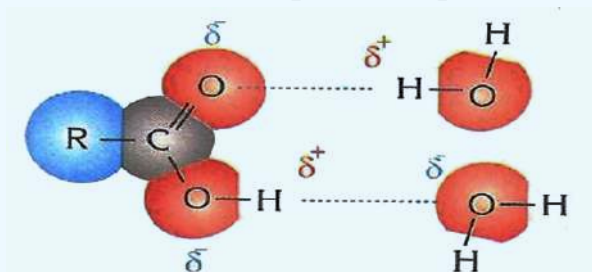
ايوپک نوم	معمولی نوم	فورمول	mp(°C)	bp(°C)	په اوبو کې حل کېدل (g/100mL)
Methanoic acid	Formic acid	HCOOH	8,5	100,5	په هر نسبت
Ethanoic acid	Acetic acid	CH ₃ COOH	16,6	118	په هر نسبت
Propanoic acid	Propionic acid	CH ₃ CH ₂ COOH	-12,5	141	په هر نسبت
Butanoic acid	n-butyric acid	CH ₃ (CH ₂) ₂ COOH	-8	164	په هر نسبت
Pentanoic acid	n-valeric acid	CH ₃ (CH ₂) ₃ COOH	-19	187	4,97
Hexanoic acid	Caproic acid	CH ₃ (CH ₂) ₄ COOH	-3	205	1,08
Heptanoic acid	Enanthic acid	CH ₃ (CH ₂) ₅ COOH	-10,5	223	0,26
Propenoic acid	Acrylic acid	CH ₂ =CHCOOH	-13	141	لږ منحل
benzenecarboxylic acid	Benzoic acid	C ₆ H ₅ COOH	122	250	0,34
2-hydroxy benzoic acid	Salicylic acid		159	211	0,22
Ethanedioic acid	Oxalic acid	(COOH) ₂	189	149-160 د الوتنې وړ	15,00

عضوي تېزابونه د ارهينوس له تيوري سره سم په اوبو کې حل او ټوټه کېږي چې د هغوی د تعادل عمومي معادله په لاندې ډول ده:




د تېزابونو د ايوناي زیشن ثابت عبارت دی له:

$$K_a = \frac{[R-COO^-][H_3O^+]}{[R-COOH]}$$



شکل: د عضوي تېزابونو او اوبو د ماليکولونو تر منځ هايډروجنې اړيکه (2_10)

فارمیک اسید له ټولو عضوي تېزابونو څخه د ایونایزیشن ډېر لوړ ثابت لري:



formic acid formate ion

$$K_a = 1.8 \cdot 10^{-4}$$

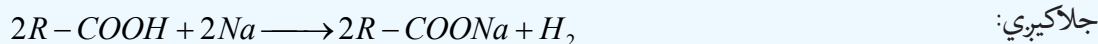
فعالیت: حل یې کړئ:

د اسیتیک اسید د 0.5molar محلول pH محاسبه کړئ، دهغه $K_a = 1.8 \cdot 10^{-5}$ دی.

10_1_3: د عضوي تېزابونو کیمیايي خواص: د عضوي تېزابونو تعاملونه چې د هغوی په تېزابي گروپ پورې اړه لري؛ په دوو تگلارو ترسره کیږي. یو دا چې د هایډروجن او اکسیجن (O-H) تر منځ اړیکه پرې او پروتون (H^+) تولیدیږي. بل دا چې د کاربن او اکسیجن تر منځ اړیکه (C-O) پرې او OH- جوړیږي. ځینې وختونه په زنځیري مشبوع هایډروکاربونونو کې تعویضي تعاملونه قطع شوي او د زنځیري غیر مشبوع هایډروکاربونونه د تېزابونو سره جمعی تعامل صورت نیولی شي.

1_ د (O-H) اړیکې د پریکړې له امله تعاملونه: که چېرې د COOH- د هایډروجن اتوم د H^+ ایون په ښه جلاشي، په پایله کې د مالګې اینون ترلاسه کیږي چې د تېزاب دنوم oic- وروستاړي په مالګه کې د ate- په وروستاړي تعویض او د acid کلمه په بشپړه توګه ور څخه لرې کیږي؛ دبیلګې په ډول: (CH_3COO^-) ایون د استیت په نوم یادېږي.

د مالګو جوړېدل: کاربوکسلیک اسیدونه له فعاله فلزونو سره تعامل کوي، په پایله کې مالګه جوړوي او H_2



caboxylic acid salt



formic acid + sodium \rightarrow sodium formate + hydrogen

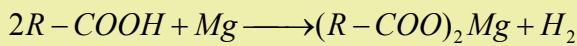
مثال:

په ټاکلي (ستندرد) شرایطو کې 24g د مونواسید له مګنیزیم فلز سره تعامل کړی او 4,48L د هایډروجن گاز یې ازاد کړی دی، دکاربوکسلیک اسید مالیکولي فورمول به کوم وي ؟

حل: د ازاد شوي هایډروجن مولونه پیدا کوو:

$$1mol H_2 - 22.4L$$

$$n - 4.48L \quad n = \frac{1mol \cdot 4.48L}{22.4L} = 0.2mol$$



د تعامل معادله په لاندې ډول ده:

$$\frac{2 \text{mol}}{n} - \frac{1 \text{mol H}_2}{0.2 \text{mol}} \quad n = \frac{0.2 \text{mol} \cdot 2 \text{mol}}{1 \text{mol}} = 0.4 \text{mol}$$

$$n - 0.2 \text{mol}$$

$$M = \frac{m}{n} = \frac{24 \text{g}}{0.4 \text{mol}}$$

$$M = 60 \text{g/mol}$$

څرنگه $n = \frac{m}{M}$ دي؛ نولرو چې:

نو ددي تېزابو فورمول عبارت دی له:

$$\text{C}_n \text{H}_{2n+1} \text{COOH} = 12n + 1 \cdot 2n + 1 + 12 + 32 + 1 = 60$$

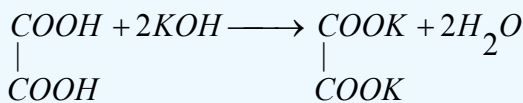
$$14n = 60 - 46 = 14 \quad n = \frac{14}{14} = 1$$

نو دتېزاب فورمول CH_3COOH دی.

$$n = 1 \quad \text{CH}_3\text{COOH}$$

د عضوي تېزابونو دڅښتنې کیدو تعاملونه

کاربوکسلیک اسیدونه د غیر عضوي تېزابونو په شان له القلیو سره تعامل کوي چې په پایله کې مالګه او اوبه جوړېږي؛ دا چې عضوي تېزابونه کمزوري دي؛ نو د مالګې او اوبو محلول یې د القلیو خواص لري؛ ځکه په اوبو کې هایډرولیز کېږي، چې کمزوری تېزاب او قوي القلي جوړوي:

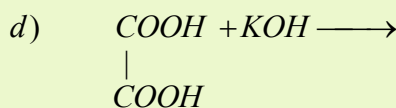
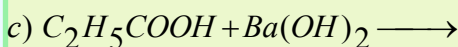
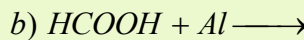
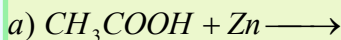


Oxalic acid

Potassium Oxalate

مشق او تمرین وکړئ

د لاندې تعاملونو معادلې بشپړې کړئ:

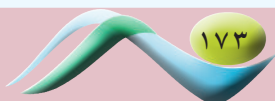


2- د C-O اړیکې د پرې کیدو پرنسټ دتېزابونو تعاملونه

که چیرې هایډروکسیل ګروپ (OH-) له کاربوکسیل ګروپ (C(=O)-OH) څخه جلا شي، د هغه پاتې شوني د اسایل ګروپ

(R-C(=O)-) په نوم یادېږي، د کاربوکسیل له ګروپ څخه د OH- ګروپ جلا کیدل د بېلابېلو ګروپونو د منځ ته راتلو لامل

کېږي.

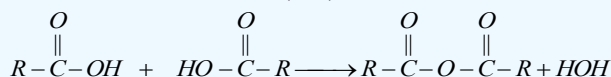


د اسید انهایدرايد جوړيدل

که چيرې عضوي تېزابونه دي هايډرېشن شي، اسيد انهایدرايدونه جوړېږي. د اسيد انهایدرايدونو وظيفوي گروپ

$$(-\overset{\overset{O}{\parallel}}{C}-O-\overset{\overset{O}{\parallel}}{C}-)$$

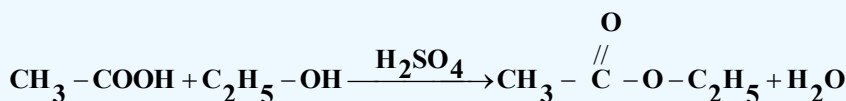
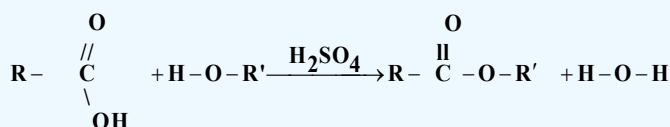
دی چې د اړونده تېزاب د نوم په پاي کې يې د انهایدرايد کلمه ورزياتېږي:



ايسټر يفيکشن (د ايسټر جوړونه)

د ايسټر يفيکشن په تعامل کې د تېزابونو د $-OH$ گروپ د الکولونو له H^+ گروپ سره، اوبه جوړوي اود اساييل گروپ

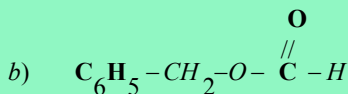
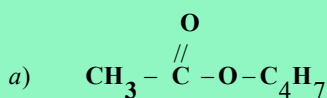
($R-\overset{\overset{O}{\parallel}}{C}-$) د الکواکسايډ گروپ ($R-O-$) سره ايسټر توليد وي. دا تعامل د سلفوريک اسيد په شتون کې د کتلست په توگه ترسره کېږي:



فعاليت

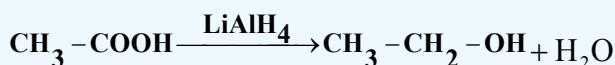
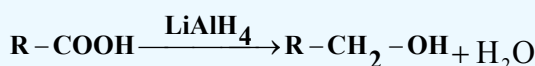


کوم تېزاب او کوم الکول به يو له بل سره تعامل وکړي ترڅو لاندې ايسټرونه جوړ شي؟

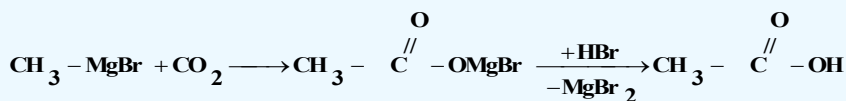


د عضوي تېزابونو د ريډکشن تعاملونه

د څو کتلستونو؛ لکه: $LiAlH_4$ يا $NaBH_4$ په شتون کې، د تېزابونو د کاربوکسيل گروپ ارجاع او په الکولو بدلون مومی:

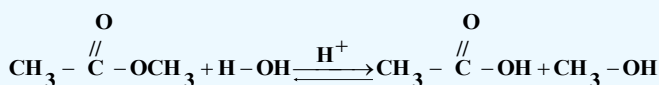
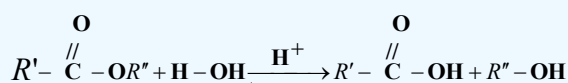


د سرکې تېزاب د لاندې فورمول په وسیله لاس ته راځي:



4_ دکاربوکسیلیک اسید د مشتقاتو د هایدرولیز په واسطه دکاربوکسیلیک اسید لاسته راوړنه

ایسترونه د تېزابي کتلستونو په شتون کې هایدرولیز کېږي چې په پایله کې الکول او عضوي تېزاب لاسته راځي:



فعالیت



لاندې تعامل کوونکي مواد او د هغوی د تعامل محصولونه لیکل شوي دي: تا سې یې کیمیاوي معادلې ولیکئ او هغه کتلست مواد چې د تعامل دجهکتیا لامل گرځي، وټاکئ:

- a) $n - \text{pentanol} \longrightarrow n - \text{pentanoic acid}$
- b) $\text{cyclopentane} \longrightarrow \text{cyclopentanoic acid}$
- c) $1,4 - \text{dibromobutane} \longrightarrow 1,4 - \text{hexanedioic acid}$
- d) $\text{ethyl formate} \longrightarrow \text{formic acid}$

10_2: ځینې مهم کاربوکسیلیک اسیدونه

1_ فارمیک اسید

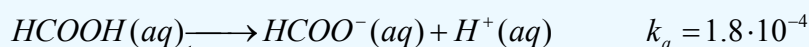
د فارمیک اسید ساختماني فورمول ($\text{H} - \overset{\text{O}}{\underset{\text{O}}{\text{C}}} - \text{OH}$) دی چې ډېر ساده کاربوکسیلیک اسید دی، د ډېرو حشراتو په لیشه او زهرو کې په ځانگړې توگه په مچيو او مېرینانو کې شتون لري. د هغه نوم هم دمیري د لاتین نوم (farmica) څخه اخېستل شوی دی.



(10_3) شکل: مچۍ د فارمیک اسید سرچینه

د فارمیک اسید فزیکي خواص

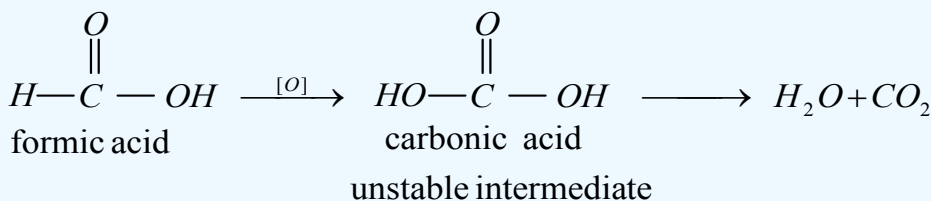
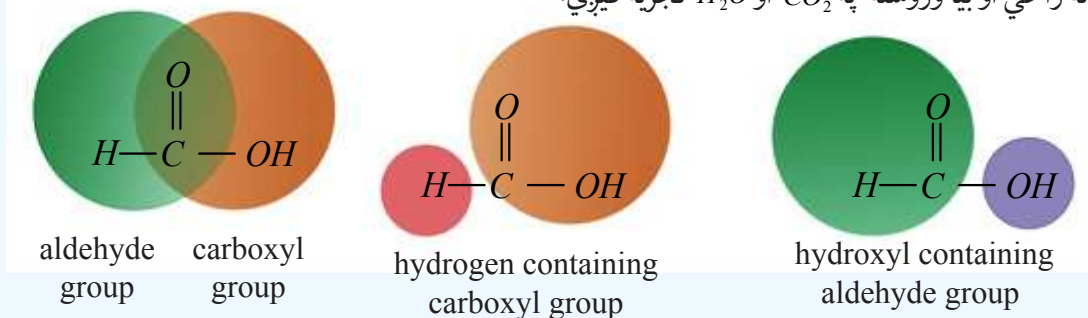
فارمیک اسید په اوبو کې بڼه او په هایدروکاربنونو کې لږ حلېږي، په اوبلنو محلولونو کې په ایونونو ټوټه کېږي:



فارمیک اسید یوه بې رنگه مایع ده، تېز بوی لري، لوگی کوونکی او تخریب کوونکی دی او د ایشیدوټکی یې 100°C دی.

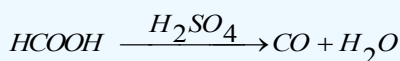
کیمیایي خواص یې

که چیرې د فارمیک اسید جوړښت $(\text{H}-\overset{\text{O}}{\parallel}{\text{C}}-\text{OH})$ ته په څیر سره وکتل شي، په اسانۍ سره به پوه شو چې په رښتیا فارمیک اسید له دوو وظیفه یي گروپونو هایدروکسیل OH او بل الیهایدی گروپ $(\text{H}-\overset{\text{O}}{\parallel}{\text{C}}-)$ څخه چې یو له بل سره یوځای شوي، جوړ شوی دی؛ پر دې بنسټ فارمیک اسید او د هغه مالګې د نورو کاربوکسلیک اسیدونو او د هغوی مالګو پرتله په اسانۍ سره اکسیدایز کېږي، په لومړي پړاو کې یې ثباته کاربونیکی اسید لاس ته راځي او بیا وروسته په CO_2 او H_2O تجزیه کېږي:



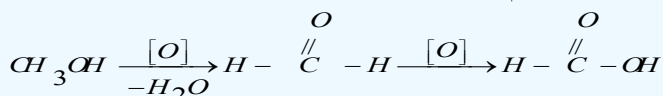
(منځنۍ ثبات نه لرونکی حالت)

که چیرې د گوګړو تېزاب د کتلست په توګه وکارول شي، په ټیټه تودوخه کې فارمیک اسید په CO او اوبو تجزیه کېږي:



د فارمیک اسید لاسته راوړنه

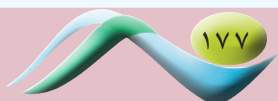
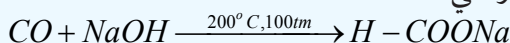
1- په ډېره کچه فارمیک اسید د فارم الیهاید له اکسیدیشن څخه لاسته راوړي:

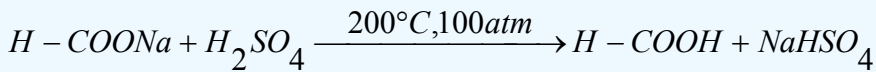


2- په صنعت کې په لومړي سر کې د لوړ فشار او لوړې تودوخې په شتون کې د فارمیک اسید مالګه د CO او

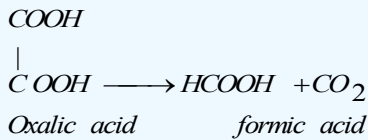
NaOH د تعامل په واسطه لاسته راوړي، بیا وروسته د مالګې ته له H_2SO_4 یا H_3PO_4 سره تعامل ورکوي، په

پایله کې فارمیک اسید لاسته راځي:





3_ په لابراتوارونو کې فارمیک اسید د آگزالیک اسید او بلن محلول څخه د تودوخي ورکولو په واسطه د گلیسرینو په شتون کې لاسته راوړي:



فعالیت

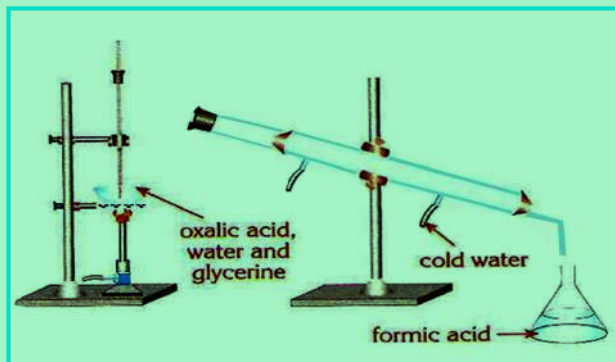
د فارمیک اسید لاسته راوړنه

د اړتیاوړ مواد او سامان: بالون، ترمامتر، کاندنسر، ستیند له پايې سره، ایرلین مایر، آگزالیک

اسید، گلیسرین او اوبه.

کړنلاره

د آگزالیک اسید د محلول یوه ټاکلې کچه په یو بالون کې واچوئ، هغه له (4-10) شکل سره سم په ستیند کې ټینگ کړئ، د بالون خوله د دوو سوړیو لرونکي کارکي سرپوښ په واسطه وتړئ، د سرپوښ په یو سوړي کې ترمامتر او په بل سوړي کې یې زنگون کوږی نل کیږدئ، دا نل له کاندنسر سره وتړئ، د کاندنسر وتونکی نل د ایرلین مایر په خولې کې د تعامل دمحصولو دټولولو لپاره کیږدئ، وروسته د بالون دننه محتویاتو ته تودوخه ورکړئ، به دې کړنه کې خپلې لیدنې او د تعامل معادله ولیکئ.



(4_10) شکل: د فارمیک اسید لاس ته راوړنه

د فارمیک اسید کارول

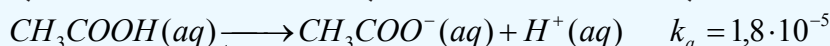
فارمیک اسید د الډیهایډونو په شان د عفوني ضد (بدبوي ضد) ښه خواص لري، د هغه لږه کچه په شاتو (عسل) کې شتون لري چې د هغه له خوسا کیدو او ورسیدلو څخه مخنیوی کوي. له فارمیک اسید څخه د حیواناتو د جسدونو (کالپوتونو) په ساتلو اود څرمنې په صنعت کې ګټه اخیستل کیږي چې په عمومي ډول فارمیک اسید د سرو او پلاستیک د تولید د لومړنیو موادو په توګه په کارول کېږي.

2_ اسیتیک اسید

د اسیتیک اسید شرح فورمول $CH_3 - \overset{O}{\parallel} C - OH$ دی چې له مهمو عضوي تېزابونو څخه شمېرل کېږي. په سر کې له 4-6% غلظت سره شته دی، د سرکې خوند او بوی لري. د هغه نوم هم د سرکې له لاتین نوم (acetum) څخه اخیستل شوی دی. په $16.7^\circ C$ تودوخه کې جامد حالت لري او د یخ په بڼه لیدل کېږي؛ نو له دې کبله د سرکې جامد تېزاب د جامد ایتانویک اسید په نوم یاد شوی دی.

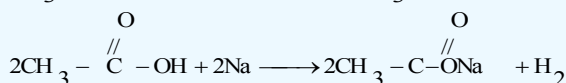
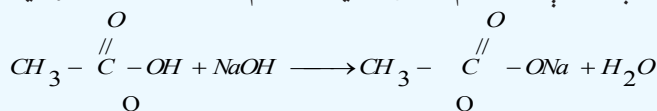
د اسیتیک اسید فزیکي خواص

د سرکې خالص تېزاب بې رنگه کرسټلونه لري، د تودوخې په $67.7^\circ C$ کې ویلي کېږي او له تودوخې په $118^\circ C$ کې په اېشېدو راځي، په اوبو کې حل کېږي؛ د ایونایزیشن درجه یې ډېره ښکته او د 3% په شاوخوا کې ده:



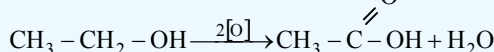
د اسیتیک اسید کیمیاوي خواص

اسیتیک اسید د نورو عضوي تېزابونو په شان تېزابي خواص ښيي، د فلزونو او القلیو سره تعامل کوي چې مالګه جوړوي؛ د بیلګې په ډول: له سوډیم سره د لاندې معادلې سره سم تعامل کوي د سوډیم استات مالګه جوړوي:




د اسیتیک اسید لاسته راوړنه

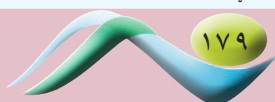
1_ اسیتیک اسید د انزایم په شتون کې د ایتانول له کټلستي اکسیدیشن څخه لاسته راوړل کېږي، د سرکې تېزاب د میوو، لکه: د انگورو او دمنو له اوبو څخه هم په لاس راوړل کېږي چې هغه ته د طبیعي سرکې تېزاب وایي:



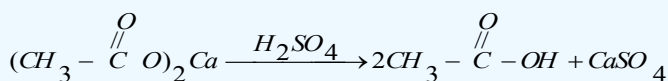
2_ د سرکې تېزاب د فارمیک اسید پر خلاف په اسانۍ نه اکسیدایز کېږي؛ نو له دې امله د استات مالګې ته له H_2SO_4 سره تعامل ورکوي او اسیتیک اسید لاسته راوړي. په پخوانیو وختونو کې اسیتیک اسید یې له لرګیو څخه داسې لاسته راوړل چې لرګي یې د هوا په نشتوالي کې په مایع تبدیلول، د لرګیو په مایع کې شامل اسیتیک اسید یې CaO په واسطه په $(CH_3 - \overset{O}{\parallel} C - O)_2Ca$ بدلون ورکوي، له دې کړنې څخه وروسته به یې جلا کول، لاسته راغلي استات مالګې ته به یې تودوخه ورکوله او له لاندې شکل سره سم به یې په اسیتیک اسید تبدیلوله:



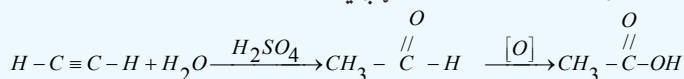
(10-5) شکل: د تودوخې په واسطه له سوډیم استات څخه د اسیتیک اسید لاسته راوړنه



په دې تعامل کې میتانول او استون هم تولیدېږي چې هغوی براس کیږي. د H_2SO_4 په زیاتوالي سره 99.5% د سرکې خالص تېزاب لاسته راوړي:



3_ په صنعت کې د سرکې تېزاب داسې لاسته راوړي چې په استیلین باندې اوبه اچوي او په پایله کې استیلین اکسیدایز او اسیتیک اسید جوړېږي:



مشق او تمرین وکړئ



په ټاکلو (ستندرد) شرایطو کې به خومره د هایدروجن گاز له 150g اسیتیک اسید محلول او مگنزیم سره تعامل وکړي؟
دا محلول 18% دی.

د اسیتیک اسید کارول

د سرکې تېزاب د مومو، کنډو اوتیلو ښه حلکونکی دی. د هغه له مالګې څخه ارزښت لرونکي عضوي مرکبونه تر لاسه کیږي؛ دیلګې په ډول: میتان له سودیم اسیتیت څخه او استون له کلسیم اسیتیت څخه لاسته راوړل کیږي. المونیم اسیتیت د رنگونو د جلا ورکونکو موادو په توګه، د کاغذ د جلا لپاره، د ټوکرانو د جلا لپاره او په دوا جوړونه کې د انتي سپتیک مادې او د اسهال ضد دوا په توګه کارول کیږي. سلولوز اسیتیت چې د سرکې د تېزابو له مشتقاتو څخه دی، د لاکو، نه ماتیدونکو ښینو، د روغنی (غوړو) درنګونو د جلا او د تارونو په جوړولو کې ورڅخه ګټه اخېستل کیږي؛ په همدې توګه د رېر جوړونې لومړنۍ مواد هم دی.

3_ اګزالیک اسید (Oxalic acid)

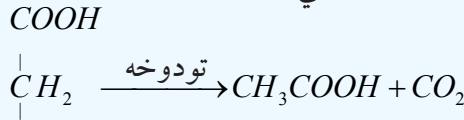
اګزالیک اسید د تنباکو په پانو، رومي بادنجانو، نعنای او مارچوبه کې موندل کیږي، د هغه نوم هم د رومي بادنجان له لایتین نوم (Oxalic) څخه اخېستل شوی دی.

اګزالیک اسید سپینه بلوري جامده ماده ده چې په $157^\circ C$ تودوخه فرار کوي دا مرکب زهري دی او د هغه کلسمي مالګه په پښتورگو کې رسوب کوي. د کیمیايي خواصو له کبله دوه قیمته عضوي فعال تېزاب دی، دا مرکب سودیم فارمیت ته د تودوخې ورکولو په واسطه لاسته راځي:



4_ مالونیک اسید (Malonic acid)

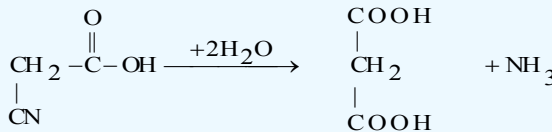
مالونیک اسید یې لومړی ځل د ملیک اسید (د منې تېزاب $HOOC-CH(OH)-COOH$) له اکسیدیشن څخه لاسته راوړی دی؛ نو ځکه یې نوم د همدې تېزاب له نامه څخه اخیستل شوی دی، دامرکب یې رنگه مایع ده او په $136^\circ C$ کې په ایشیدو راځي، په اوبو او الکولو کې حل کیږي، که چیرې مالونیک اسید ته له $140^\circ C$ څخه زیاته تودوخه ورکړل شي، اسیتیک اسید ورڅخه لاسته راځي:



مالونیک اسید

اسیتیک اسید

که چیرې سیانو اسیتیک اسید هایدرولیز شي، مالونیک اسید لاس ته راځي:



سیانو اسیتیک اسید

مالونیک اسید

5_ شحمي تېزابونه

د شحمي اسیدونو لومړی مرکب، بیوتاریک اسید دی چې دکاربن څلور اتومونه لري او د هغه فورمول $(C_3H_7 - COOH)$ دی شحمي اسیدونه په مشبوع او غیر مشبوع تېزابونو ویشل شوي دي:

الف_ مشبوع شحمي تېزابونه

1_ پالمیتیک اسید $(C_{15}H_{31} - COOH)$

پالمیتیک اسید سپینه بلوري جامده ماده ده چې په $63^\circ C$ کې ویلې کیږي، د حیواني وازدې او نباتي تیلو څخه لاسته راځي په او بوکې نه حلېږي، په الکولو او ایتروکې حل کیږي.



(6_10) شکل: شمع د ستیاریک او پالمیتیک اسید مخلوط _ ناریل د پالمیتیک اسید سرچینه

2_ ستیاریک اسید $(C_{17}H_{35} - COOH)$

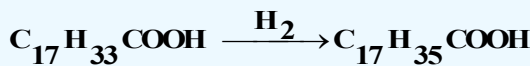
ستیاریک اسید (Stearic acid) کرسټلي جامد حالت لري چې د هغه د ویلې کیدو درجه $70^\circ C$ ده، په تودو الکولو او عادي ایترونو کې حلېږي، د شحمي معمولي تېزابونو له ډلې څخه دی، په حیواني او نباتي شحمي گلیسرایدونو کې شتون لري. پالمیتیک اسید او ستیاریک اسید یو له بل سره په جامده بڼه گډ وي او شمع جوړوي.

ب. غیر مشبوع شحمي تېزابونه

د شحمياتو په ماليکولونو کې د کاربن - کاربن داتومونو ترمنځ دوه گونې اړیکه شته ده چې دا ډول شحميات دمايع حالت لري او د مشبوع شحمياتو په ترتيبه بې ثباته دي چې د هايډروجنيشن په واسطه په جامد و مومو بدلېږي، دا ډول شحميات له غیر مشبوع شحمي اسيد ونوڅخه لاسته راځي چې لاندې مطالعه کيږي:

اوليک اسيد: $(C_{17}H_{33} - COOH)$

اوليک اسيد په خالص ډول د گليسرايدونو په شکل د زيتون، بادام، پنبه دانې او لمرگلي په تيلو کې موندل کيږي چې په مايع حالت کې بې رنگه، بې بوږه او بې خونده ماده ده، د تودوخې په $13^\circ C$ کې ويلې کيږي، د ټولوشحمي تېزابونو $\frac{1}{3}$ برخه چې د غوا په شيدو، رنگونو، د مينځلو موادو او نور جوړ کړي دي د ستيريک اسيد د ارجاع څخه جوړ شوی دی:



د لسم څپرکي لنډيز

- د عضوي مرکبونو له اکسيجن لرونکي مشتقاتو څخه مهم مشتقونه له کاربوکسليک اسيدونو څخه عبارت دي چې د دې مرکبونو په ترکيب کې د کاربوکسيل وظيفه يې گروپ $(-C(=O)-OH)$ شتون لري.
- د مشبوع هايډروکاربنونو درې لومړي يو قيمته تېزابونه بې رنگه مايع ده او تېزبوی لري، د مشبوع هايډروکاربنونو يو قيمته تېزابونه چې د کاربن داتومونو شمېر يې له څلورو څخه تر 9 پورې وي، د کوچو او بادامو د غوړيو بوي لري.
- د عضوي تېزابونو تعاملونه چې د هغوي تېزابي گروپ پورې اړه لري؛ په دوو ميتودونو ترسره کيږي: يوداچې د هايډروجن او اکسيجن تر منځ اړیکه $(O-H)$ پرې او پروتون (H^+) جوړيږي؛ بل داچې د کاربن او اکسيجن ترمنځ اړیکه $(C-O)$ پرې او OH - لاسته راځي:
- که چيرې لومړني الکولونه اکسيديشن شي، الډهايد او د الډهايدونو له اکسيديشن څخه عضوي تېزابونه لاسته راځي.
- د استرifikasiشن په تعامل کې د تېزابونو د OH - گروپ د الکولونو د H^+ گروپ سره اوبه جوړوي او د اساييل گروپ $(R-C(=O)-)$ د الکوکسايډ گروپ $(R-O-)$ سره ايسټر توليد وي.
- فارميک اسيد د الډهايدونو په شان د عفوني ضد بڼه خواص لري، د هغه لږه کچه په شاتو کې شتون لري چې د هغه له خسا کيدو او ورستيدلو څخه مخنيوي کوي. له فارميک اسيد څخه د حيواناتو د جسدونو په ساتلو او د خرمې په صنعت کې گټه اخېستل کيږي.
- د سرکې تېزاب د مومو، کنډو او تيلو بڼه حل کوونکی دی. د هغه له مالگو څخه ارزښت لرونکي عضوي مرکبونه تر لاسه کيږي.
- د شحمي اسيدونو لومړی مرکب، بيوتاريک اسيد دی چې د کاربن څلور اتومونه لري او د هغه فورمول $(C_4H_7 - COOH)$ دی، شحمي اسيدونه په مشبوع او غیر مشبوع ويشل شوي دي:

د لسم څپرکي پوښتنې څلور ځوابه پوښتنې

1- د عضوي تېزابونو د ماليکولونو تر منځ هايډروجنې اړيکه د الکولونو په نسبت..... ده

الف- کلکه، ب- سسته، ج- يوشان، د- هېڅ يو.

2- د پالمتيک اسيد فورمول ----- دی:

الف- $C_{15}H_{31}COOH$ ب- C_3H_7COOH ج- $C_{17}H_{35}COOH$ د- $C_{17}H_{33}COOH$

3- لاندې کوم فورمول به کاربوکسليک اسيد ولري ؟ که چېرې د هغه په جوړښت کې %40.68 کاربن،

%54.234 اکسيجن او %5.06 هايډروجن شتون ولري؟

الف- $HCOOH$ ، ب- CH_3COOH ، ج- $HOOC(CH_2)_2COOH$ ، د- $COOH$

4- د $CH_3 - \underset{\text{CH}_3}{\underset{|}{CH}} - \underset{\text{NH}_2}{\underset{|}{CH}} - \underset{\text{OH}}{\underset{|}{CH}} - COOH$ مرکب سم نوم عبارت دی له:

الف- 1,2-dihydroxy-3-amino-4-methylpentanol

ب- 2-hydroxy-3-amino-4-methylpentanoic acid

ج- 1-hydroxy-2-amino-3-methylpentanoic acid

د- 1,2-dihydroxy-3-amino-4-methylpentanoic acid

5- د فارميک اسيد $10^{-2} m$ محلول د کوم pH لرونکی دی ؟ $K_a = 10^{-4}$

الف- 2، ب- 3، ج- 4، د- 5.

6- له لاندې مرکبونو څخه د کوم يوه د اېشېدوونکي لوړ دی؟

الف- $CH_3CH_2CH_2CH_3$ ، ب- CH_3COOH ، ج- CH_3CH_2COOH

د- $HOOC-CH_2CH_2CH_3COOH$

7- له لاندې مرکبونو څخه کوم يو کيتو اسيد دی؟

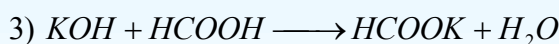
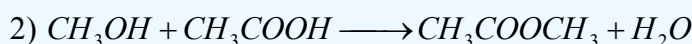
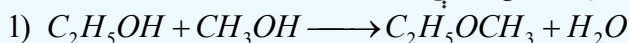
الف- $HO-C(=OOH)-C(=OH)-C(=O)-C(=O)-CH_3$ ب- $HO-C(=OH)-C(=O)-C(=O)-CH_3$ ج- $HO-C(=OH)-C(=O)-C(=O)-CH_3$ د- هېڅ يو

8- لاندی کوم کميت د ايسټرونو ماليکولي کتله را ښيي ؟ که چېرې د هغه په جوړېدو کې 60g کاربوکسليک

اسيد او 46g الکولو تعامل کړی وی:


الف- 60، ب- 124، ج- 106، د- 98.

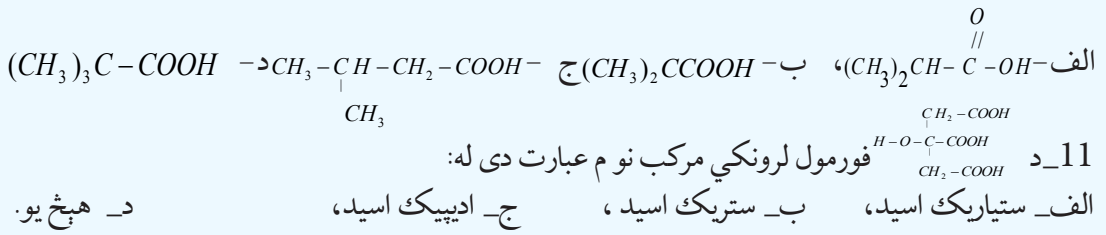
9- دلاندې تعاملونو څخه کوم يو د ايسټرifikasiشن د تعامل له ډلې څخه دی؟



الف- لومړي تعامل ب- دوهم تعامل ج- دريم تعامل د- هېڅ يو.

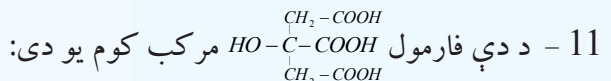
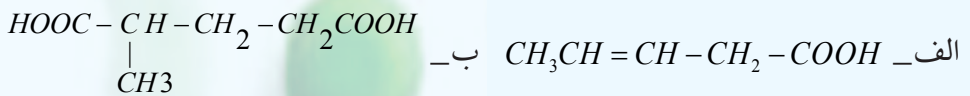
10- د 2,2-di methylpropanoic acid فورمول عبارت دی له:






تشریحي پوښتنې

- د $C_5H_{10}O_2$ فورمول لرونکي کاربوکسلیک اسید نوم، جوړښتیز فورمول او ټولې ایزو میري پې ولیکئ.
- د کاربوکسلیک اسیدونو عمومي فورمول کوم دی؟ دکاربوکسلیک اسید، الډیهایډ او کیتون تر منځ توپیرونه ولیکئ.
- دلاندې تېزابونو د IUPAC نومونه او د هغوی فورمولونه ولیکئ:
الف- Oxalic acid، ب- Adipic acid، ج- Malonic acid.
- د بنزوویک اسید د تعامل معادله د لاندې موادو سره ولیکئ:
- د لاندې عضوي تېزابونو مالیکولی او د جوړښت فورمولونه ولیکئ:
الف- 2-oxypropanoic acid، ب- 2,3-di methylbutanoic acid، ج- 2-bromopentanoic acid.
- شحمي تېزابونه څه شی دي؟ ولې په دې نوم یادېږي؟ روښانه پې کړئ.
- له لاندې تېزابونو څخه کوم یو د شحمي تېزابونو له ډلې څخه دي؟ معلومات ورکړئ.
- الف- CH_3COOH ، ب- C_2H_5COOH ، ج- C_3H_7COOH ، د- $C_{15}H_{31}COOH$
- د کاربوکسلیک اسید د یو اساسه تېزاب په ترکیب کې 55.8% کاربن، 7% هایدروجن او 37.2% اکسیجن شته دی، د دې تېزاب فورمول ولیکئ.
- روښانه پې کړئ چې ولې کاربوکسلیک اسیدونه په اوبو کې له الکولونو څخه ډېر زیات حل کېږي؟
- دلاندینیو اسیدونو نومونه د IUPAC په تگ لاره ولیکئ:



الف- ستیاریک اسید، ب- ستریک اسید، ج- اډیپیک اسید، د- هیڅ یو

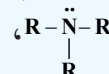
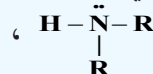
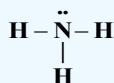
امینونه Amines



دهایدروکاربنونو د اکسیجن لرونکو مشتقاتو سربېره د دې مرکبونو نور مشتقات هم شته چې د هغوی له ډلې څخه نایتروجنی مشتقات دي، دهایدروکاربنونو د نایتروجن لرونکو مشتقاتو ترڅنګ د هغوی یو ډول پې امینونه دي چې د امین دگروپ لرونکي دي اود امونیایي مشتقاتو په نوم هم یې دېرې؛ یعنې د NH_3 یو، دوه یا درې د هایدروجن اتومونه د هایدروکاربنونو دگروپونو په واسطه تعویض شوي دي او یا دا چې د هایدروکاربنونو د هایدروجنونو یو یا څو اتومونه د امین دگروپ په واسطه پې ځایه شوي دي. په دې څپرکي کې به د امینونو په اړه معلومات تر لاسه کړئ او زده به پې کړئ چې امینونه له کوم ډول مرکبونو څخه دي او د کومو خواصو لرونکي دي؟ څرنگه لاس ته راځي او د هغوی طبیعي سرچینې کوم مواد دي؟ په کومو حیاتي او صنعتي برخو کې کارول کېږي؟

11_1: د امینونو جوړښت او ډلبندی

دامینونو وظیفوي گروپ NH_2 - دی چې د امینو (Amino) په نوم یادېږي، د دې گروپ د نایتروجن اتوم د SP^3 هایبرید حالت لري چې دکاربن یو اتوم د یو یا څو اتومونو سره اړیکې لري، که چېرې د څو عضوي معاوضو سره اړیکې ولري، د امینونو ډولونه تر لاسه کېږي چې د لومړني، دویمي او دریمي امینونو په نامه یادېږي، لومړني امینونه هغه امینونه دي چې د امونیا د نایتروجن اتوم د هایډروکاربنونو دکاربن له یوه اتوم سره اړیکه لري. دویمي امینونه له هغو امینونو څخه عبارت دي چې د امونیا د نایتروجن اتوم د هایډروکاربنونو له دوو گروپونو سره اړیکه لري. دریمي امینونه هغه امینونه دي چې د هغوی د امونیا د نایتروجن اتوم د هایډروکاربنونو له درې اتومونو سره اړیکې لري، د دې امینونو عمومي فورمولونه په لاندې ډول دي:



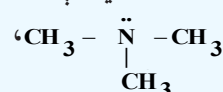
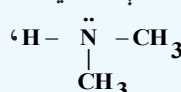
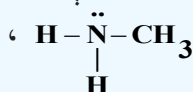
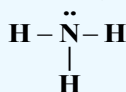
ammonia

Primary amine

Secondary amine

tertiary amine

R کیدای شي چې د الکایل یا ارایل پاتې شوني وي؛ د امینونو د ډلو بیلگې په لاندې ډول دي:




ammonia

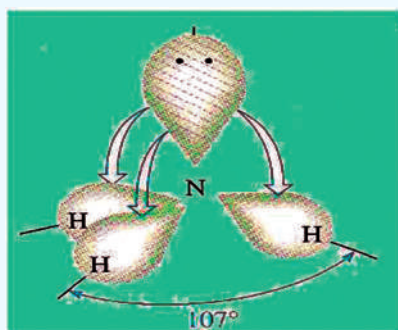
methylamine

di methyl amine

tritmethy l amine



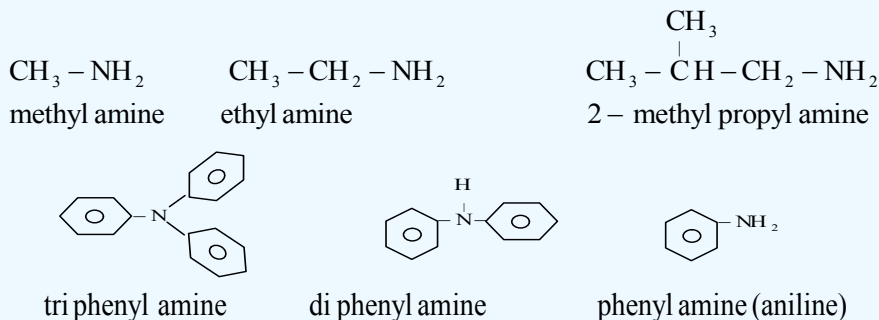
(11_1) شکل د امونیا مودل، لومړني، دویمي او دریمي، امینونه (له کینې خوا څخه ښي لورته)



(11_2) شکل د امونیا جوړښت

عضوي رادیکالونه چې د امینونو په جوړښت کې د نایتروجن له اتوم سره اړیکه لري، څلورمخیزو ته نژدې جوړښت لري؛ ځکه د څلور مخیزو جوړښتیزو زاویه 109.5° اود امونیا زاویه 107.3° ده، د امینونو مالیکول دهنډسي هرم (pyramid) جوړښت لري:

که چیرې د امین گروپ د مشبوع او یا غیر مشبوع زنځیري هایډروکاربنونو د کاربن د اتومونو دهایډروجن اتومونه تعویض کړي، دا ډول امینونه د الیفاتیک په نوم او که د اروماتو له کړيو سره اړیکه ولري، د اروماتیکو امینونو په نوم یادېږي.

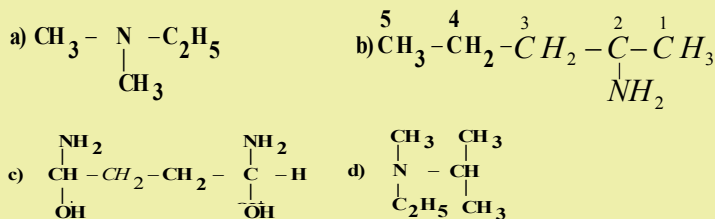


مثال: د لاندې مرکبونو د جوړښت فورمولونه ولیکئ:

2 - aminopentane - b dimethyl ethyl amine - a

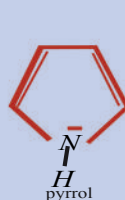
methyl ethyliso propyl amine - d 1.4 - diamino - 1.4 - butanediol - c

حل:

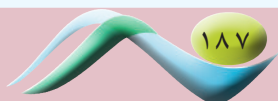


اضافي معلومات:

هتروسکلیت امینونه هم شته چې په کاربنی کړيو کې یې نایتروجن شتون لري او مهم مرکبونه د دوی عبارت له پایرولیدین، پایریدین او پایرولونو څخه دي چې دهغوی دجوړښت فورمولونه عبارت دي له:



مورفین، کوکابین او نیکوتین د امینونو ډولونه دی چې په کوکنارو (افین) او تنباکو کې شته چې د هغوي دجوړښت فورمولونه په لاندې ډول دي:



د 500 ډولو په شاوخوا کې بیا لورژیکي الکولویدونه (Alkaloide) پیژندل شوي دي چې د مورفین اصلي الکولوید په افین کې شته، نایتروجن لرونکي مرکب الکولوید القلي دي، له دې مرکب څخه پخوا به د درد د ارامولو لپاره کار اخیستل کیده او د درد د ارامولو ساده مرکب دی چې پرته د بې هوشۍ د مریض درد د ارامولو لامل گرځي، د امریکا د خپل منځي جنگونو په بهیر کې د زخمیانو د دردونو د تسکین لپاره له مورفین څخه ګټه اخیستل کیده. مورفین ځینې نورې ستونزې را منځ ته کوي چې د وینې فشار ټیټوي او د ناروغانو دمړینې لامل گرځي او هم د روږدېدلو لامل گرځي؛ له دې کبله د هغه د ځینو نورو ستونزو د لږوالي په موخه له هغه څخه هیروین لاسته راوړل کیږي چې هیروین ځینې نورې ستونزې لري؛ خو خطرناک روږدي کوونکي دي، دهغوی پریښودل د روږدو وګړو لپاره ستونزمن دی. کوکاین او نور نشه راوړونکي توکي ټول نایتروجن لرونکي مرکبونه دي.



شکل: کوکنار د مورفین او هیروین سرچینه (3_11)

1_1_1: د امینونو نوم ایښودنه

څرنگه چې په تېرو لوستونو کې وړاندې شول، امینونه د کاربن د اتومونو د زنځیر له کبله او د هغوی اړیکه د نایتروجن له اتوم سره په درې ډولو ویشل شوي چې لومړني امین ($R-NH_2$)، دویمي امین ($R-\bar{N}-R$) او دریمي امین ($R-\bar{N}-R$) دي، د امینونو څلورم ډول د څلور وجهي ایون په بڼه $[N^+(R)_4]$ دی چې د هغې بیلګې کیدای شي تترا میتایل امونیم ($Tetramethyl amonium$)، $[(CH_3)_4N^+]$ وړاندې شي، د R پاتې شوني کیدای شي الفاتیک، سکلیک او یا اروماتیک وي.

د امینونو په نوم ایښودنه کې په نایتروجن باندې نسبتي پاتې شوني د yl له وروستاړي سره د نوم په پیل کې دهغوی

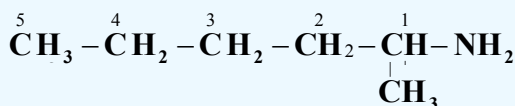
د نوم د لومړي توري د انگرېزي ژبې د الفبا دمخکيوالي په پام کې نيولو سره سم ليکل کيږي او بيا وروسته د امين (amine) کلمه ورزياتيږي، د بيلگې په ډول:

د $(C_2H_5)_2N - C_3H_7$ جمعې فورمول لرونکي مرکب نوم چې د هغه د جوړښت فورمول په لاندې ډول



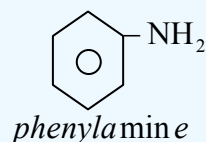
Di ethyl propylamine

په ځينو برخو کې د امينونو په نوم ايښودنه کې کيدای شي چې د مرکبونو د ماليکول د کاربن د اتومونو نمبر وهنه تر سره شي؛ د بيلگې په ډول:



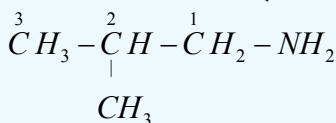
1 - Methyl. 1 - Penthyl amine

لومړني امينونه د ايوپيک IUPAC په سيستم کې په دوو لارو نوم ايښودنه کيږي چې له الکايال امين (alkylamine)



(Aniline)

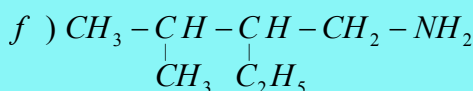
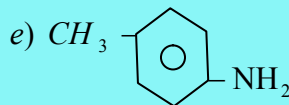
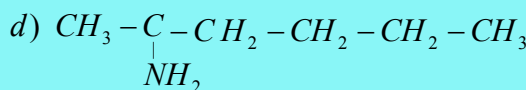
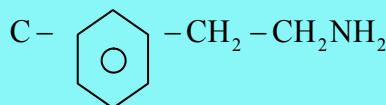
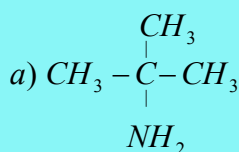
امينو الکان (Amino alkane) څخه عبارت دي، د بيلگې په ډول:



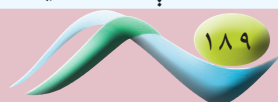
2 - methyl propyl amine

خپل ځان ازماينست کړئ

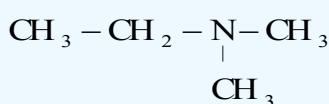
د لاندې مرکبونو نوم ايښودنه ترسره کړئ:



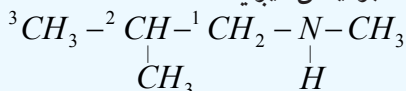
د دويمې او دريمې امينونو نوم ايښودنه داسې ترسره کيږي چې د الکان اوږد زنځير د اصلي زنځير په توگه او الکايال منل کيږي او نورې پاتې شوني چې له نايټروجن سره اړيکې لري، د معاوضو په توگه منل شوي دي او داسې نوم ايښودنه يې ترسره کيږي چې د نايټروجن سمبول (N) د معاوضو د نوم له يادوني څخه مخکې ليکل کيږي، د نايټروجن د سمبول او معاوضو د نوم تر منځ د (-) علامه ليکي، که چيرې دواړه معاوضې يوشان وي؛ نو



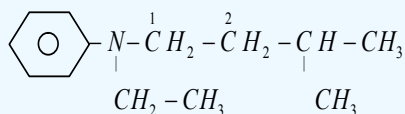
په دې صورت کې $N-N$ او د پای کلمه چې د دوو په معنا ده، د معاوضو له نوم څخه مخکې لیکل کېږي او د هغه د نوم د e توري يې د a mine په کلمې تعویضیږي، کله چې اوږد (اصلي) زنځیر څو معاوضې ولري؛ یعنې ښاخ لرونکی وي، د اړوندو هایدروکاربنونو اوږد زنځیر نمبر وهل کېږي او نمبر وهل د امین (a mine) له گروپ لرونکي کاربن څخه پیل کېږي، د هایدروکاربن د نوم او د امین له کلمې څخه تر مخه د معاوضو نوم او دهغوي د اړونده کاربن نمبر لیکل کېږي:



$N-N$ - dimethyl ethan amine



N - methyl- 2 - methylpropanamine



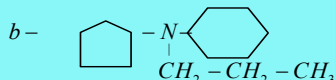
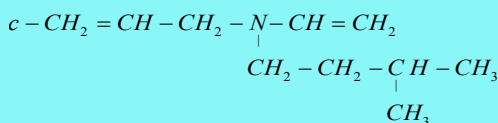
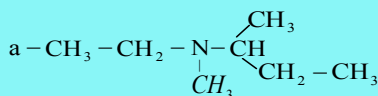
N - ethyl- N - phenyl- 3 - methyl butanamine



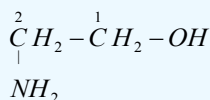
$N-N$ - diethylamine

ځان وازمويئ

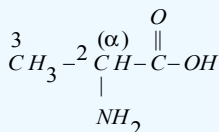
دلاندې مرکبونو نومونه ولیکئ:



که چیرې د NH_2 - گروپ د نورو وظیفوي گروپونو؛ لکه: د الکولونو، الیهایدونو، اسیدونو او داسې نورو وظیفه یي گروپونو سره په یوه هایدروکاربن مرکب کې شتون ولري، په دې صورت کې د دې گروپ نوم د اړوند کاربن له نمبر سره د امینو a mine په نامه یاد او د اړوندو الکولو، الیهایدونو او تېزابونو د نومونو په سر کې لیکل کېږي:



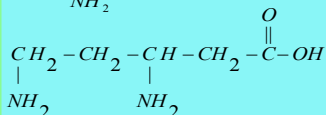
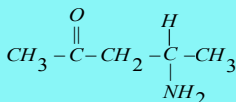
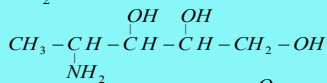
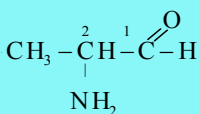
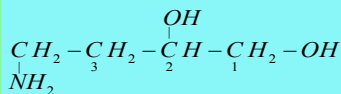
2- amino ethanol



2- amino propanoic acid

خپل ځان وازمويئ

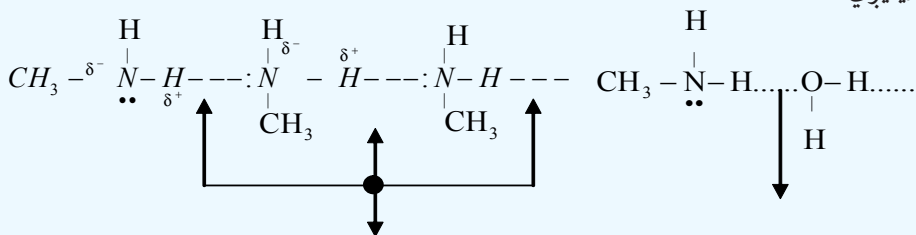
د لاندنيو مرکبونو نوم ايښودنه وکړئ:



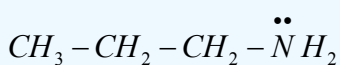
11_1_2: د امينو نو فزيکي خواص

هغه امينونه چې کوچنۍ ماليکولي کتله لري (ميتايل امين، ډاي ميتايل امين، تري ميتايل امين او ايتايل امين) د گاز په حالت موندل کېږي، امينونه چې د کاربن د ډيرو شمېرو اتومونو لرونکي دي، تر $\text{C}_{12}\text{H}_{25}\text{NH}_2$ پورې د مايع په حالت موندل کېږي او له $\text{C}_{12}\text{H}_{25}\text{NH}_2$ مرکب څخه لوړ د کاربن د اتومونو لرونکي امينونه جامد حالت لري. د کوچنيو امينونو بوی امونيا او خوسا شوو کبانو ته ورته دی.

لومړني او دويمې امينونه له امونيا سره ورته خواص لري او د ماليکولونو تر منځ يې هايډروجنې اړيکې شتون لري د هغوی ماليکولونه قطبي دي. د کب (ماهي) بوی ته ورته دي. له دې کبله د امينونو د ايشيدو ټکی د هغو هايډروکاربنونو په نسبت چې له دې امينونو سره د کاربن او هايډروجن عين شمېر اتومونه لري، لوړ دی او هم له دريمي امينونو څخه لوړ دي. لومړني او دويمې امينونه په اوبو کې ښه حل کېږي، په داسې حال کې چې دريمي امينونه په اوبو کې په اسانۍ سره نه حل کېږي، همدا رنگه د کاربن د اتومونو د شمير په زياتوالي د هغوی حل کيدل په اوبو کې ټيټېږي:

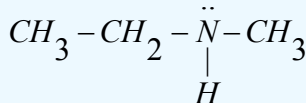


د اوبو او امينونو تر منځ هايډروجنې اړيکې په امينونو کې هايډروجنې اړيکې



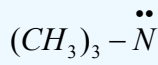
propylamine

bp = 40°C



Methylethylamine

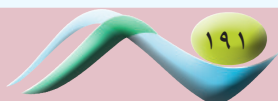
bp = 37°C



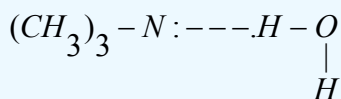
trimethylamine

bp = 3°C

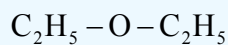
دريمي امينونه هم کولی شي چې له اوبو سره هايډروجنې اړيکه جوړه کړي؛ ځکه د نايټروجن اتوم ($\ddot{\text{N}}$) د آزادجوړه الکترونونو لرونکی دی او دا جوړه الکترونونه د اوبو له ماليکولونو سره د اړيکو د جوړيدو لامل گرځي؛ دا چې په دريمي امين کې د هايډروجن او نايټروجن ترمنځ اړيکه ($\text{N} - \text{H}$) نه شته؛ نو پردې بنسټ د دريمي



امینونو مالیکولونه په خپل منځ کې هایډروجنی اړیکه نه شي جوړولای:

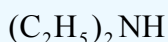


د امینونو د اېشېدو ټکي د هغوی د ایزو لوگو هایډروکاربنونو او ایترونو په پرتله لوړ او له ایزولوگو الکولونو او تېزابونو څخه ټیټ دی، لامل یې دا دی چې په هایډروکاربنونو او ایترونو کې هایډروجنی اړیکه نه شته او د هغوی د مالیکولونو تر منځ د جذب قوه لږه ده، د الکولونو او تېزابونو د مالیکولونو تر منځ هایډروجنی اړیکه شتون لري او په دې مرکبونو کې د اکسیجن اټوم د هایډروجن له اټوم سره اړیکه ($O-H$) لري چې دا اړیکه د اکسیجن د قوي الکترونیګاتیویتی له کبله د نایتروجن او هایډروجن له اړیکې څخه ډیره قطبي ده او د هغوی هایډروجنی اړیکه هم قوي ده:



Diethyleter

bp = 54.6°C



Di methyla min e

bp = 55°C



1 - butyla min e

bp = 1.18°C



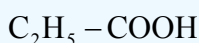
n - bu tan e

0.5°C



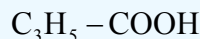
n - pen tan e

bp = 36.1°C



propanoic acid

bp = 141.1°C



butan oic acid

bp = 163.5°C

(1-11) جدول: د بنسټیزو امینونو فزیکي خواص

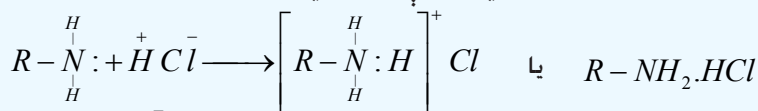
Name	structur	mp by (°C)	bp by (°C)	solubility (g/100L H ₂ O)	Kb	density d_4^{20} Relative
methylamine	CH ₃ NH ₂	-94	-6	زیات حل کیږي	4-4.10 ⁻⁴	0,769(at - 79°C)
ethylamine	CH ₃ -CH ₂ NH ₂	-81	17	زیات حل کیږي	4-7.10 ⁻⁴	-
propylamine	CH ₃ CH ₂ -CH ₂ NH ₂	-83	49	زیات حل کیږي	4.10 ⁻⁴	-
dimethylamine	(CH ₃) ₂ NH	-92	7	لږ حل کیږي	5.10 ⁻⁴	0,680(at - O°C)
trimethylamine	(CH ₃) ₃ N	-117	3	لږ حل کیږي	6.10 ⁻⁵	-
aniline	C ₆ H ₅ NH ₂	-6	184	حل کیږي	4-2.10 ⁻¹⁰	-
methylaniline	C ₆ H ₅ NHCH ₃	-	196	-	-	0,989
dimethylaniline	C ₆ H ₅ N(CH ₃) ₂	2,5	194	-	-	0,956
diphenylaniline	(C ₆ H ₅) ₂ NH	54	302	-	-	1,158

هغه امینونه چې دکاربن شمېر یې له یوه څخه تر پنځو اټومونو پورې وي، په او بوکې په هر نسبت حل کیږي

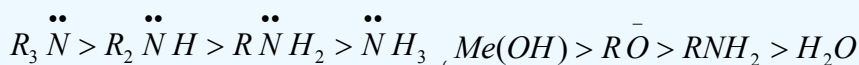
او هغه امینونه چې د هغوی دکاربن د اتومونو شمیر شپږ او له شپږو څخه لوړ وي، په او بو کې لږ حل کیږي.

11_1_3: د امینونو کیمیايي خواص

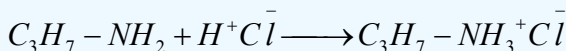

امینونه له تېزابونو سره تعامل کوي، مالګې جوړوي:




د الکایل امونیم کلوراید مالګه د هایډروکساید او الکوآکسایدونو (OH^- او OR^-) څخه کمزوری القلي خاصیت لري او د اوبو په نسبت هم کمزوری قلوي خاصیت له ځان څخه ښکاره کوي، لاندې سلسلې ته څیر شئ:



لاندې کیمیايي تعامل د امینونو القلي خواص ښيي:



له پورتنیو معادلو سره سم د امونیم تشکیل شوې مالګه، د قوي القلي او تودوخې په شتون کې بیرته په امینونو، غیر عضوي مالګې او اوبو تجزیه کیږي:



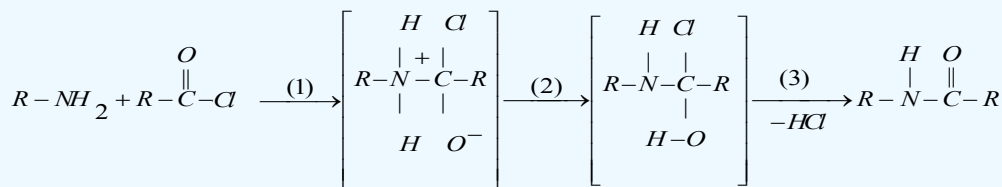
د امینونو الکالیشن

امینونه له الکلونو سره تعامل کوي، د امینونو بېلابېل مرکبونه جوړوي:



د امینونو د اسایلیشن تعامل

امینونه له اسایل سره تعامل کوي، امایډونه جوړوي چې تعامل یې په درې پړاونو کې ترسره کیږي:

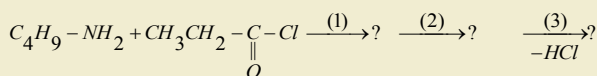
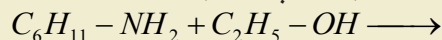




1 - د میتیل امین 500 ملي لیتر 0.1m مولره او بلن محلول به دکوم pH لرونکی وي؟

که چیرې $K_b = 5.10^{-4}$ وي.

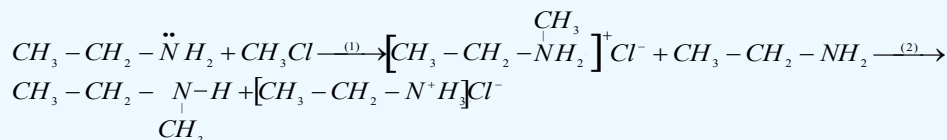
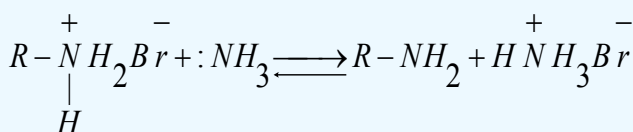
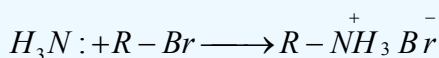
2 - لاندې معادلې بشپړې کړئ:



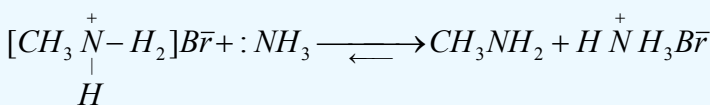
11_1_4: د امینونو لاسته راوړنه

د الکایلشن د عملیې په واسطه د امینونو لاسته راوړنه

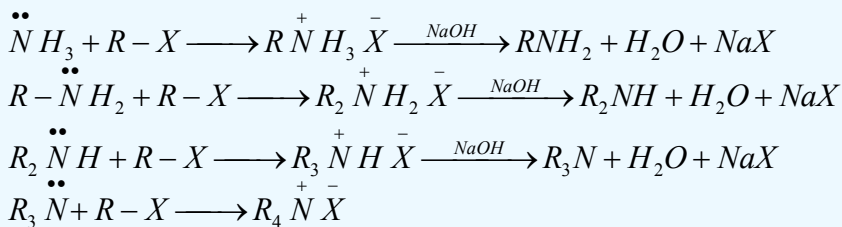
دا لاره له هغو لارو څخه ده چې دویمي امینونونه له لومړنیو امینونو او دریمي امینونو له دویمي امینونو څخه ترلاسه کیږي، داسې چې الکایل هلايدونو ته له امونیا سره تعامل ورکوي، لومړني، دویمي او دریمي امینونه لاسته راوړي.



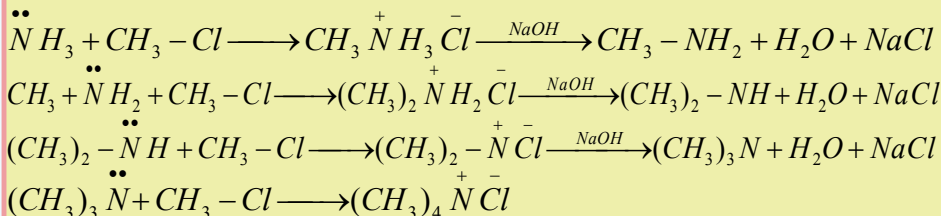
امونیا له الکایل هلايدونو سره تعامل کوي، لومړني امینونه جوړوي:



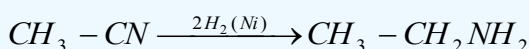
لومړني، دویمي او دریمي امینونه کېدای شي چې د امونیا له الکایلشن څخه لاسته راوړل شي؛ داسې چې الکایل هلايدونو ته له امونیا سره تعامل ورکوي، لومړنی امین لاسته راځي، خو که چیرې د الکایل هلايدونو نسبت لوړ شي، په پایله کې دویمي او دریمي امینونه هم لاسته راځي. که دریمي امین ته هم له الکایل هلايدونو سره تعامل ورکړل شي، د کوار ترنري مالګه لاسته راځي:



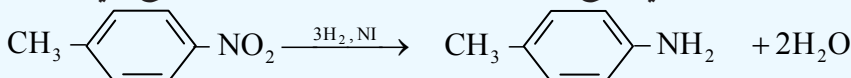
مثال



همدارنگه که چیرې د نتریل مرکبونه د کتلتونو په شتون کې هایدروجنشن شي، امینونونه ترلاسه کیږي:



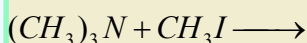
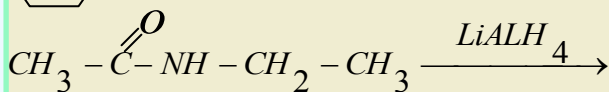
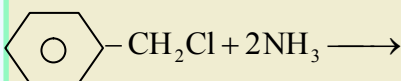
د اروماتیکي لومړنیو امینونو د لاسته راوړلو ډیره ښه لاره د اړونده نایټرو مرکبونو ارجاع کول دي، د نایټرو مرکبونه کیدای شي د اروماتیک د الکتروفيلي له نایټرو کیدلو تعامل څخه لاسته راوړل شي، د نایټرو گروپ کیدای شي د کتلتونو په شتون کې د هایدروجن یا کیمیايي ارجاع کوونکو عاملو په واسطه په اسانۍ سره ارجاع شي:



مشق او تمرین وکړئ



لاندې معادلې بشپړې کړئ



11_1_5: مهم امینونه

1_ میتایل امین

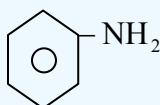
که چیرې میتانول ته د تودوخې په $400^0 C$ او د Al_2O_3 کتلست په شتون کې له امونیا سره تعامل ورکړل شي، میتایل



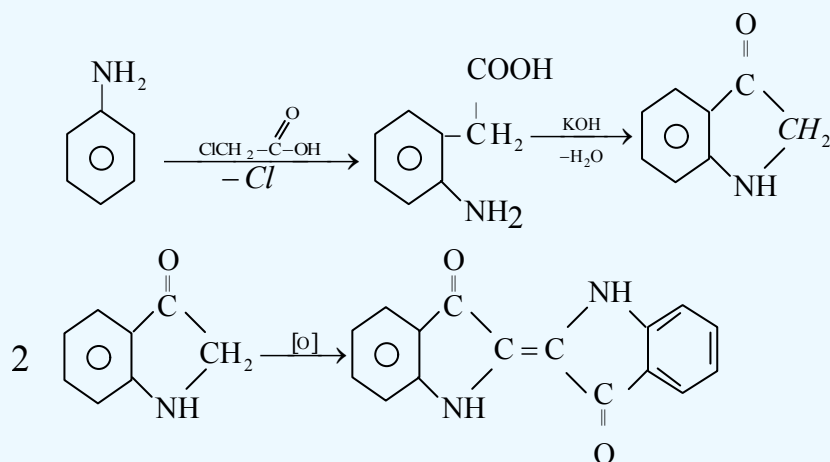
همدا رنگه کیدای شي، ډای میتایل امین او ترای میتایل امین هم په لاس راوړل شي، له ډای میتایل امین څخه د موادو په حل کولو کې ګټه اخیستل کېږي.

2_ انیلین یا بنزین امین (Aniline or Benzene amine)

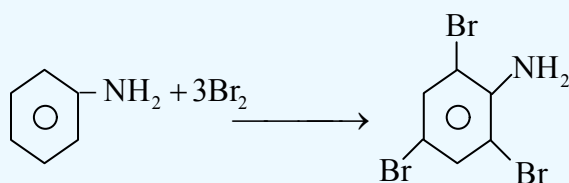
انیلین له اروماتیکو مهمو امینونو څخه دی چې د کمزورو قلوبو خاصیت لري او د سایکلو هگزان امین په پرتله یو میلیون ځله کمزوری دی، د هغه فورمول په لاندې ډول دی:



په صنعت کې د انیلینکو ($C_{16}H_{10}O_2N_2$) د رنگ مهمه سرچینه انیلین دی او دا رنگ داسې لاسته راوړل کېږي چې انیلین ته له کلورو استیک اسید سره تعامل ورکوي او په پایله کې انیلینګو لاسته راځي:

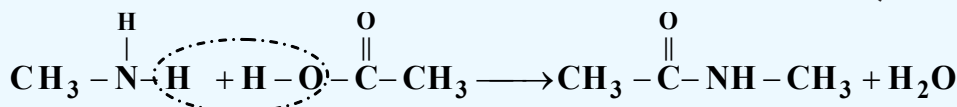


د انیلینګو څخه بېلابېل رنگونه جوړوي؛ له دې امله هغه د بنسټیز رنگ په نوم یاد وي. انیلین د برومین له اوبو سره تعامل کوي، ترای بروموانیلین جوړوي:

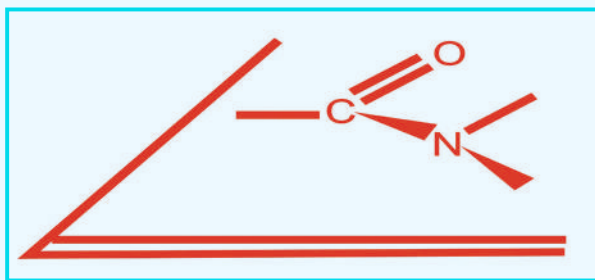


2_11: امایدونه (Amides)

لومړني او دویمي امینونونه له تېزابونو سره (الکولو ته ورته) تعامل کوي، داسې مرکبونه جوړوي چې د امایدونو په نوم یادېږي؛ د بیلګې په ډول:



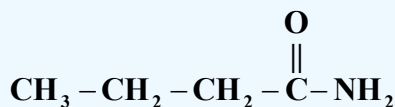
امایدونه هم په طبیعت کې شته اوهم دستتیز په پایله کې په مصنوعي توګه له لومړنیو توکو څخه لاسته راځي، د فزیکي تګ لارو په واسطه، (د بیلګې په ډول: جذبې سپکتر) د وظیفه یي ګروپونو د جوړښت څېړنه ټاکي چې د نایتروجن او د کاربونیل د وظیفه یي ګروپ تر منځ ټولې اړیکې په یوه سطحه کې شتون لري او دهغوی د مسطح والي لامل د π الکترونونو د (C-O) تر منځ اړیکې د نایتروجن د اتوم د ازادو الکترونونو پر کړنې پورې اړه لري چې سره یو ځای د څلورو الکترونونو د نه ځای پرځای شوي الکتروني ورېځې د درې واړو اتومونو (N, O, C) د پاسه جوړ کړي او دې عمل ته د نایتروجن د اتوم ازادو جوړو الکترونونو اړ کړې دي او په همدې دلیل دی چې امایدونه په اولین محلول کې دومره قلوي خاصیت له ځان څخه نه ښکاره کوي، د دې نه ځای پرځای شوې اړیکې امایدونو ته کیمیايي ثبات وربخښلی دی چې له القلیو، نړیو تېزابونو او یو سره قوی والی رانښيي:



شکل: د نایتروجن له کاربونیل ګروپ سره د اړیکو مسطح والی (4_11)


2_11_1: د امایدونو نوم ایښودنه او لاسته راوړنه

امایدونه د IUPAC پر بنسټ داسې نومول کېږي چې د تېزاب د جوړونکو الکانونو د تېزابونو د نوم oic وروستاړي په امایدونو کې د اماید amide په کلمه تعویض کېږي او د اسید کلمه نه لیکل کېږي؛ د بیلګې په ډول:

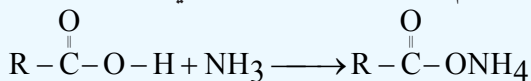


Butan amide

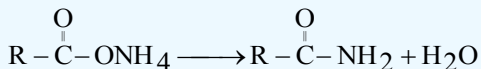
د $\text{R} - \text{C}(=\text{O}) - \text{NH}_2$ عمومي فورمول لرونکو امایدونو د لاسته راوړلو لپاره کیدای شي چې د کاربوکسلیک اسید



مرکبونه نیغ په نیغه له امونیا سره تعامل وکړي، په پایله کې امونیم کاربوکسلات لاس ته راځي:

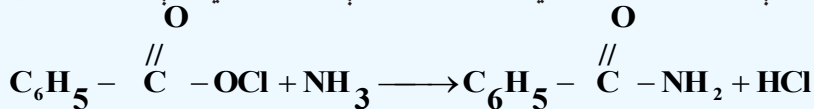


که چیرې لاسته راغلی کاربوکسلات ته تودوخه ورکړل شي، په پایله کې له هغو څخه یومالیکول او به جلا او

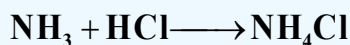


غښتلی اماید لاسته راځي:

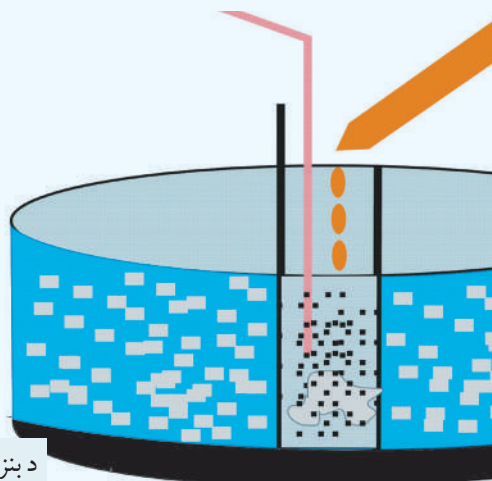
په پورتنیو تعاملونو کې د امایدونو لاسته راوړنه ډیره ورو او دهغوی محصولات لږ دي؛ له دې کبله نور میتودونه د امایدونو د لاسته راوړنې لپاره په کار وړل شوي دي؛ د بېلګې په ډول: دبنزایل کلوراید او امونیا د تعامل په پایله کې امایدونه لاسته راځي، داسې چې په یوه فلاسک کې د امونیا محلول اچوي او دا محلول دیځو اوبو په یو ډک لوبښي کې ږدي، بیا په دې محلول باندې په څاڅکو، څاڅکو بنزایل کلوراید ورزیاتوي چې په پایله کې بنزاماید لاسته راځي او په فلاسک کې ښکته کیني یعنې رسوب کوي:



لاسته راغلی HCl په فلاسک کې له اضافي امونیا سره تعامل کوي او NH_4Cl جوړېږي:



د امونیا غلیظ محلول

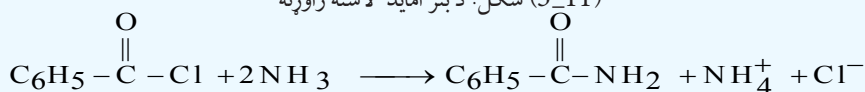


بنزائیل کلوراید

د بنزائیل اسید رسوب

دیځو اوبو تښت

شکل: (5_11) د بنز اماید لاسته راوړنه





د یوولسم څپرکي لنډیز

* دامینونو وظیفه یي گروپ NH_2 دی چې د امینو د گروپ (Amino) په نوم یادېږي، د دې گروپ د نایتروجن اتوم د SP^3 هایبرید حالت لري.

* لومړني امینونه هغه امینونه دي چې د امونیا د نایتروجن اتوم د هایډروکاربنونو د کاربن له یوه اتوم سره اړیکه لري.

* دویمي امینونه له هغه امینونو څخه عبارت دي چې د امونیا د نایتروجن اتوم د هایډروکاربنونو له دوو گروپونو سره اړیکه لري.

* دریمي امینونه هغه امینونو دي چې د هغوی د امونیا د نایتروجن اتوم د هایډروکاربنونو له درې اتومونو سره اړیکې لري.

* عضوي رادیکالونه چې د امینونو په جوړښت کې د نایتروجن له اتوم سره اړیکه لري، څلورمخیزو ته نژدې جوړښت لري؛ ځکه د څلور مخیزو جوړښتیزو زاویه 109.5^0 او د امونیا زاویه 107.3^0 ده.

* د امینونو په نوم ایښودنه کې په نایتروجن باندې نښتي پاتې شوني د yl د وروستاري سره د نوم په پیل کې دهغوي د نوم د لومړي توري د انگریزي ژبې د الفبا د مخکيوالي په پام کې نیولو سره سم لیکل کېږي او بیا وروسته د امین (amine) کلمه ورزیاتېږي. * که چېرې د امین گروپ د مشبوع او یا غیر مشبوع زنځیري هایډروکاربنونو د کاربن د اتومونو د هایډروجن اتومونه تعویض کړي، دا ډول امینونه د الیفاتیک په نوم او که د اروماتو له کړيو سره اړیکه ولري، د اروماتیکو امینونو په نوم یادېږي.

* دامینونو د اېشېدو ټکي د هغوی د ایزو لوگ هایډروکاربنونو او ایترونو په پرتله لوړ او له ایزولوگو الکولونو او تېزابونو څخه ټیټ دی، لامل یې دا دی چې په هایډروکاربنونو او ایترونو کې هایډروجنی اړیکه نه شته او د هغوی د مالیکولونو تر منځ د جذب قوه لږه ده.

* که چېرې میتانول په $400^0 C$ تودوخه کې او د Al_2O_3 کتلست په شتون کې له امونیا سره تعامل ورکړل شي، میتایل امین لاسته راځي. * انیلین داروماتیکو امینونو له مهمو مرکبونو څخه دي چې د کمزورو قلوبو خاصیت لري او د سایکلو هگزان امین په پرتله یو میلیون ځله کمزور دی.

* امایډونه د IUPAC پر بنسټ داسې نومول کېږي چې د تېزاب د جوړونکو الکانونو د تېزابو د نوم oic وروستاري په امایډونو کې د امایډ (amide) په کلمه تعویض کېږي او د اسید کلمه نه لیکل کېږي.

د یوولسم څپرکي پوښتنې

څلور ځوابه پوښتنې

1- د امینونو وظیفه یي گروپ له..... څخه عبارت دی.

الف - NH_2 ، ب - NH ، ج - NH_3 ، د - NH_4^+ .

2- فورمول له ----- مرکب فورمول دي.



الف - تالوین، ب - اندیگو، ج - انیلین، د - الډیهایدونه.

3- له لاندې مرکبونو څخه کوم یو یې دقلوي خاصیت لري؟

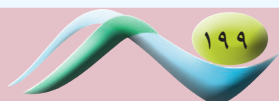
الف - $CH_3 - NH_2$ ، ب - $CH_3 - OH$ ، ج - NH_3 ، د - الف اوج دواړه.

4- $CH_3 - \overset{H}{\underset{CH_3}{C}} - NH_2$ د مرکب اوبلن محلول د لاندې کومو خاصیتونو لرونکی دی؟

الف - $pH > 7$ ، ب - د جستو سره تعامل کوي هایډروجن ازادوي، ج - دقلوي خاصیت لري، د - الف اوج سم دي.

5- له لاندې مرکبونو څخه کوم یو لومړنی امین دی؟

الف - $CH_3 - NH_2$ ، ب - $CH_3 - CH_2 - NH_2$ ، ج - $CH_3 - \overset{CH_3}{CH} - NH_2$ ، د - ټول سم دي.



6- که چیرې د امین کتله 45amu وي، له لاندینو پاتې شونو څخه به کومه یوه په هغې پورې اړه ولري؟

الف - methyl، ب - ethyl، ج - propyl، د - isopropyl - Aryl

7- د امینونو د ایشیدو ټکي دهغوی د ایزو لوگ هایدرروکاربنونو او ایترونو پرتله... او له ایزلوگو الکولونو او تیزابونو څخه... دی:

الف - لوړ، ټیټ ب- ښکته، ښکته ج- نژدې، مساوي د- هیڅ یو.

8- د ایتایل امین او HCl له تعامل څخه لاندې کوم مرکب حاصلیږي؟

الف- پروپایل امین ب- پروپایل امونیم کلوراید ج- ایتایل امین کلوراید د- ایتایل امونیم کلوراید.

9- $CH_3 - \overset{O}{\parallel} C - NHCH_2 - CH_3$ فورمول لرونکي مرکب په..... نوم یاد یږي؟

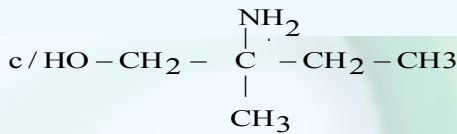
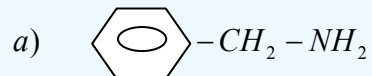
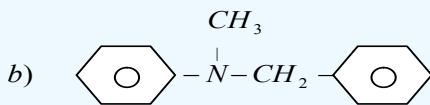
الف- اماید ب- ایتایل اسیت اماید ج- ایستر د- کیتون

10- له لاندې مرکبونو څخه کوم یو دویمي امین نه دی؟

الف- $CH_3 - NH - CH_2 - CH_3$ ب- $H_3C - NH_2$ ج- $H_3C - NH - CH_3$ د- $C_6H_5 - NHCH_3$

تشریحي پوښتنې

1- د لاندې مرکبونو نوم ایښودنه وکړئ او دهغوی ډولونه وټاکئ:



2- د لاندې امینونو ساختماني فورمولونه ولیکئ:

الف - cyclopropyl amine ب - dimethylethyl amine ج - ethylhexyl amine

3- د نایتروجن سلنه به cyclopropylamine په مرکب کې څومره وي؟

$Cl: 35.5g/mol$, $O: 16g/mol$, $H: 1g/mol$, $C: 12g/mol$, $N: 14g/mol$

4- 3.4g امونیا له 20.2g $CH_3 - Cl$ مرکب سره تعامل کړی چې امین یې جوړکړی دی، دغوښتل شوي مرکب فورمول

او نوم یې ولیکئ. $O: 16g/mol$, $H: 1g/mol$, $C: 12g/mol$, $N: 14g/mol$

5- د امینونو او امایدونو ترمنځ څه توپیر دی، په دې اړه لازم معلومات وړاندې کړئ؟

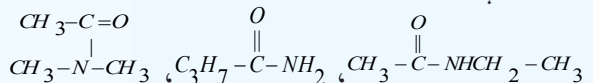
6- د propylamine مرکب په 0.25molar محلول کې د هایډروجن د ایون غلظت $[H^+] = 10^{-12}$ سره مساوی

دی، دهغه k_b تر لاسه کړئ.

7- په څلورم امین کې 65.75% کاربن، 19.18% نایتروجن او 15.07% هایډروجن دکتلې له کبله شتون لري دهغه

مالیکولي فورمول ترلاسه کړئ.

8- د لاندې امایدونو نومونه ولیکئ:



9- 5.95 g امونیا له اسیت کلوراید ($CH_3 - COCl$) سره تعامل کړی دی، څومره اسیت اماید حاصل شوی دی؟

10- امین په اوپلن محلول کې له خپل ځان څخه القلي خاصیت ښکاره کوي، ولې؟ سره له دلایلو معلومات وړاندې کړئ.

طبیعی پولي میرونه



هغه مالیکولونه چې د څو کوچنیو مالیکولونو له یوځای کېدو څخه جوړ شوي دي، د پولي میر په نامه او هغه کوچني مالیکولونه چې پولي میرونه جوړوي، د مونومیرونو په نوم یا دیږي. پولي میرونه په دوو ډلو ویشل شوي دي چې طبیعي پولي میرونه او مصنوعي پولي میرونه دي. په دې څپرکي کې د طبیعي پولي میرونو په اړه معلومات وړاندې کېږي او په راتلونکي څپرکي کې به د مصنوعي پولي میرونو په هکله معلومات وړاندې شي.

د طبیعي پولي میرونو تر سرلیک لاندې هغه مرکبونه څېړل کېږي چې طبیعي بنسټ لري او پروتینونه، نوکلیوټیک اسیدونه، امینو اسیدونه، انزایمونه، نشایسته، سلولوز، وریښم او طبیعي وریښم دي چې په دې څپرکي کې به یې ځینې ځانګړتیاوې مطالعه کړئ.

د دې څپرکي په لوستلو به پوه شئ، چې دا مرکبونه کوم جوړښت او خواص لري او په ورځني ژوند کې کوم رول لوبوي؟

12_1: د طبيعي پولي ميرونو ډلبندي

پولي ميرونه هغه مركبونه دي چې د هغوی ماليكولونه د څوكوچنيو ماليكولونو د نښتلو له امله جوړ شوي دي، كوچني ماليكولونه چې پولي ميرونه جوړوي، د مونو ميرونو په نوم ياديږي. پولي ميرونه كيداى شي، له يو ډول مونو ميرونو او يا له بيلا بيلو مونو ميرونو څخه جوړ شوي وي. پولي ميرونه چې د يو ډول مونو ميرونو څخه جوړ شوي دي، د هومو پولي مير په نوم يا ديري او پولي ميرونه چې له بيلا بيلو مونو ميرونو څخه جوړ شوي وي، د كوپولي ميرونو په نوم يا ديري.

پولي ميرونه په دوو ډلو وېشل شوي دي چې له طبيعي پولي ميرونو او مصنوعي پولي ميرونو څخه عبارت دي، طبيعي پولي ميرونه له څو قيمته قندونو (نشايسته او سلولوز)، پروتينونو، نو كليك اسيدونو، انزايمونو، وريښمو او طبيعي رېږ څخه عبارت دي چې لاندې يې لولو:

12_1_1: قندونه

كاربو هايډريتونه د ژوندانه مهم مركبونه دي چې زموږ د ورځني ژوند په بيلا بيلو برخوكې په كار وړل كيږي. ډكورونو ورونه، موبل (ميز او چوكۍ)، خوراكي مواد، كالي او نور توکي له كاربو هايډريتونو څخه جوړ شوي دي. كاربو هايډريتونه په طبيعت كې ډېر موندل كيږي او په ټولو ژونديو جسمونوكې شتون لري چې د ژويو او له هغې ډلې څخه د انسانانو د خوړو مواد دي.

كاربو هايډريتونه زياتره د شنو نباتاتو په واسطه جوړيږي چې د نباتاتو د پاهو شنه ماده د لمر د رڼا په شتون كې د هوا كاربن ډاي اكسايډ او هغه اوبه چې د ريښو له لارې يې جذب شوي دي، په گلوکوز تبديلوي، دا عمليه د فوتو سنتيز په نامه ياديږي:



(۱۲_۱) شکل: نباتات د گلوکوز او اكسيجن توليد كوونكى توکي




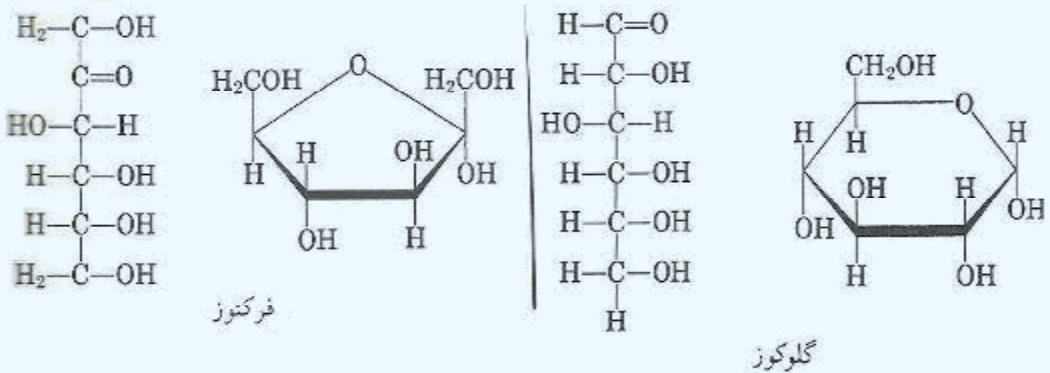
په رښتیا چې نباتات طبیعي لابراتوارونه دي او د خوړو مواد جوړوي. په پورتنۍ معادله کې لیدل کیږي چې په نباتاتو کې د کلوروفیل د شنبې مادې په مرسته د گلوکوز د جوړیدو عملیه ترسره کیږي او اکسیجن هم تولیدیږي، ټول ژوي اکسیجن تنفس کوي، اکسیجن د کاربوهایدریتونو او د خوړو نورو توکو د اکسیدیشن لپاره په کار وړي چې د ژونديو په ارګانیزم کې انرژي ازاد وي:



د فوتو سنتیز عملیه او د ژویو د تنفس عملیه دوی معکوسې عملیې دي؛ په دې دوو عملیو کې د کاربن ډای اکساید او اکسیجن د کچې توازن کنټرولېږي.

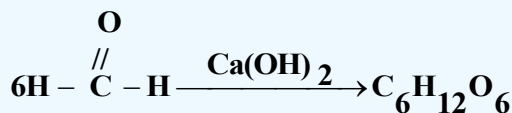
2_1_12: د کاربوهایدریتونو جوړښت او نوم ایښودنه

کاربوهایدریتونه د کاربن د هایدریتونو په نوم هم یا دوي، څرنګه چې د هغوی ساده فورمول $\text{C}_n(\text{H}_2\text{O})_n$ یا $\text{C}_n\text{H}_{2n}\text{O}_n$ دی؛ پردې بنسټ د اوبو لرونکي کاربن په بڼه لیدل کیږي. د دې ډلې مرکبونه گلوکوز $\text{C}_6\text{H}_{12}\text{O}_6$ (چې د الډیهایډي ګروپ لرونکی دی)، فرکتوز $\text{C}_6\text{H}_{12}\text{O}_6$ (د کیتوني ګروپ لرونکی دی) اونور دي چې په مېووکې شتون لري. د دې دواړو قندونو مشرح فورمولونه عبارت دي له:



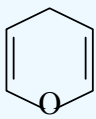
(2_12) شکل: الف_ ځمکنی توت د فرکتوز سرچینه، ب_ انگور د گلوکوز سرچینه، ج_ شات د مونو سکرایډونو سرچینه

د عمومي فورمولونو په پام کې نیولو سره، ډېر ساده کاربو هایدريت، فارم الديهيد (CH_2O) دي، نوڅکه کېدای شي چې کاربو هایدريتونه د فارم الديهيد پولي میرونه وي؛ د بیلگې په ډول:



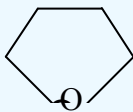
د پیرانوز او فورانوز بڼې

گلوکوز د الکولو او الديهيدو د وظیفه یې گروپونو لرونکی دی او لږ څه لوړ، د کېږدو او کړۍ کېدو وړ زنځیر لري چې کولی شي یو کپز هیمي اسیتال جوړکړي، دا کړۍ له شپږو اتومونو سره، د گلوکوز پیرانوز په نوم یا ډیري؛ څکه د پیران په نوم کړه یز ایتر ته ورته دی، د پیران فورمول په لاندې ډول دی:



د پیران کړۍ

فرکتوز هم د محلول په حالت کې، 70% د کړه یز هیمي اسیتال بڼه لري او د پیرانوز کړۍ ته ورته شپږ اتومونه لري؛ خو 30% یې د پنځه اتومي کړۍ په بڼه دی؛ دا چې فوران ته ورته دی؛ نو د فورانوز (Furanose) په نوم یاد یږي او په ټاکلي ډول کړۍ یز فرکتوز د فرکتوز فورانوز په نوم یا ډیري، لاندې شکل فوران بڼې:



د فوران کړۍ

پیچلي کاربو هایدريتونه چې په هغوی کې گلوکوز او فرکتوز دواړه شتون ولري؛ د خوځیمته قندونو (پولي سکرایدونو) (Polysaccharides) په نوم یا ډیري، د هغوی له ډلې څخه یوه هم بوره (Sacarose) ده چې د دوه قیمته قندونو (disaccharides) په نوم یا ډیري، چې د یو مالیکول گلوکوز پیرانوز او د یوه مالیکول فرکتوز فورانوز د یوځای کیدو او د یو مالیکول اوبو په ایستلو سره لاسته راځي. دا هر واحد د مونو سکرایدونو (Monosacride) په نوم یا ډیري، مونو سکرایدونه یو له بل سره یوځای کیږي، اولیگو سکرایدونه جوړوي:

مثال: دلاندي کاربو هايډریتونو نوم ایښودنه وکړئ:

حل:

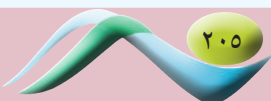
a) aldo pentose b) Keto pentose C) aldohexose d) Keto hexose e) Ketotetrose

12_1_3: د کاربو هايډریتونو ډلبندي

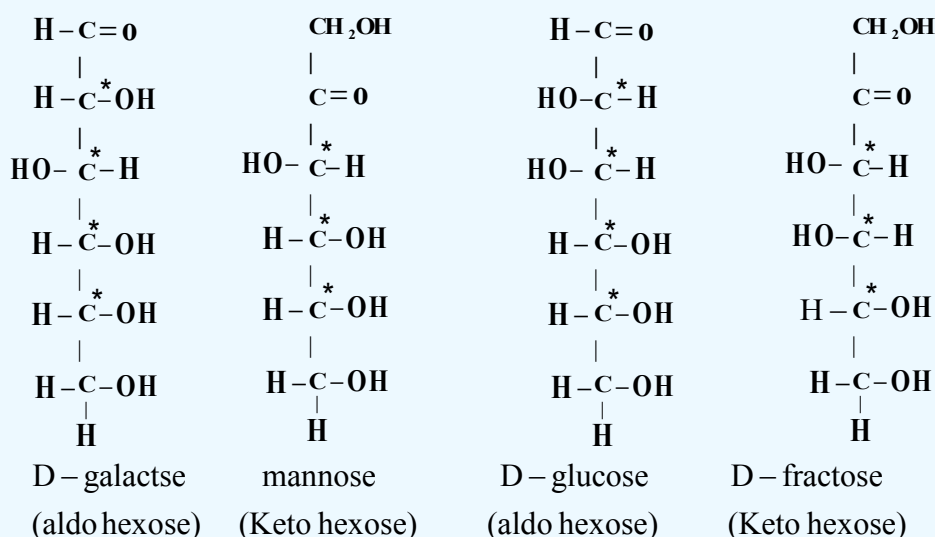
کاربو هايډریتونه په دوو ډلو وېشل شوي دي چې له ساده او پیچلو څخه عبارت دي.

1_ مونو سکرایډونه

ساده قندونه (Simple sugars) یا مونو سکرایډونه (Monosacharides) د کاربو هايډریتونو هغه ډول دي چې نه هايډرولیز کېږي او د هغوی په مالیکولونو کې د کاربن د اتومونو شمیر له 3 څخه تر 9 اتومونو پورې رسېږي. مونو سکرایډونه چې په خوراکي توکو کې شته، د هکسوز (Hexoses) په نوم



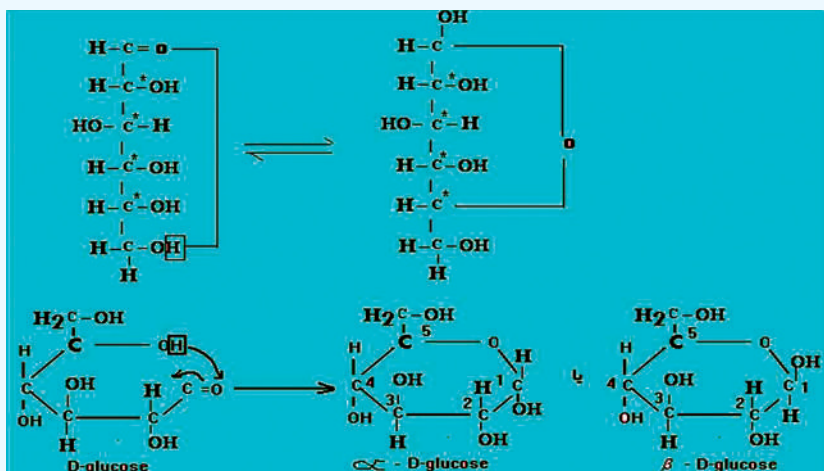
ياد پري. گلوکوز ډېر ساده مونو سکراید دی چې په ژونديو اورگانيزمونو کې د انرژي د توليد او د ميتابوليزم په عمليه کې بنسټيز رول لوبوي، دا مرکبونه په ځيگر (ينه) او نسجونو کې ذخيره کيږي او د هغوی مهمې سرچينې انگور او شات دي، مونو سکرایدونه سپين رنگه کرسټالي مرکبونه دي او خوږ خوند لري، له اوبو سره هايډروجنې اړيکه ترې؛ نو ځکه حل کيدونکی دي، هايډروکاربنونه په ايترونو کې نه حلېږي. گلوکوز، فرکتوز او مانوز مهم مونو سکرایدونه دي چې د هغوی ماليکولي فورمول $C_6H_{12}O_6$ دي او يو د بل ايزومير دي.



د الدوز مونوسکرایدونه په خپل ماليکولي ترکيب کې څلور نه برابر شوی کاربنونه لري چې په (*) علامې سره ټاکل شوي دي. دا مرکبونه په جامد حالت کې د روښنايي عمل لرونکی دي. گلوکوز چې دالډو هکسوز په نوم هم يا ديږي، د څلور نه برابر شویو کاربنونو لرونکی دی او د هغه نه برابر شوی کاربنونه په پام کې نيولوسره، د دې مرکبونو د روښنايي ايزوميري په لاندې ډول محاسبه کيږي:

$$2^n = 2^4 = 16 \text{ د الدو هکسوز د ايزومرونو شمېر}$$

په پورتنۍ معادله کې n د نه برابر شوو کاربنونو شمېر ښيي. مونو سکرایدونه کېدای شي چې کړۍ يا زنځيري ماليکولونه ولري، د زنځيري مونو سکرایدونو د هايډروليز په پايله کې کړۍ يز مونوسکرایدونه لاس راځي چې په دې حالت کې د هغوی نه برابر شوو کاربنونو شمير له څلورو اتومونو څخه پنځو اتومونو ته زياتيږي، د مونو سکرایدونو د کړۍ په جوړېدو کې د نه برابر شوو کاربنونو داتومونو د زياتوالي عمليه د هيمي اسيتال په نوم يا ديږي، د گلوکوز د ماليکول د کړۍ يز جوړښت جوړېدل گورو:



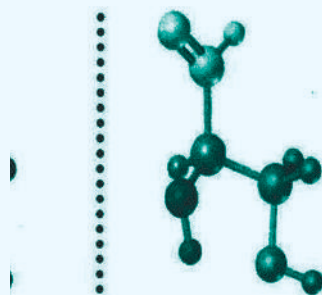
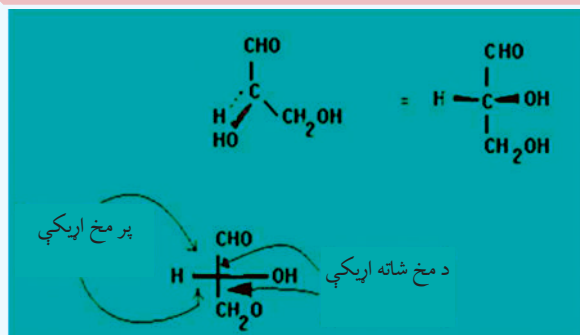
الف - که چېرې ډي - گلوکوز (D - glucose) په اوبو کې حل شي، د هغه کرۍ یز گلوکوز لاسته راځي.

ب - په α -D-glucose کې د OH- گروپونه د کرۍ په لومړي او څلورم کاربن کې د Cis په حالت کې شتون لري او یوازې د لومړي کاربن د OH- گروپ، اکزیال (axial) دي او نور اکواتریال (aquatorial) دي.

ج - په β -D-glucose کې د OH- گروپونه د کرۍ په لومړي او څلورم کاربن کې د اکواتریال (aquatorial) په حالت کې دي.

د مونو سکرایدونو اسکلیت بندي

څرنگه چې د ټولو هایډروکاربنونو د کاربن اتومونه د تاویدو وړ دي؛ له دې کبله پوهانو معیاري میتودونه د کاربوهایډریتونو د سټریو شمیې د ښودنې لپاره په کار وړي دي، نو یو له دې میتودونو څخه د فیشر میتود دی چې د تاویدلو د مرکز د ښودلو لپاره یې د یوې سطحې د مخ څخه ګټه اخیستل کیږي. په تیرو لوستونو کې مو مطالعه کړل چې له څلور مخو کاربنونو څخه یو اتوم د فیشر په ښودنه کې په دوو پرې کړو خطونو سره ښودل کیږي، افقي خطونه د مخ د بهرنۍ سطحې د اړیکو ښودونکي او عمودي خطونه د مخ د شا اړیکو ښودونکي دي، د پرې کړې سره سم د کاربونیل د گروپ کاربن د فیشر د فورمول په پاسنۍ برخې او یا هغې ته نژدې لیکل کیږي، پردې بنسټ R- گلیسر الډیهایډ چې ډېر ساده مونو سکراید دی، په لاندې شکل کې لیدل کیږي:



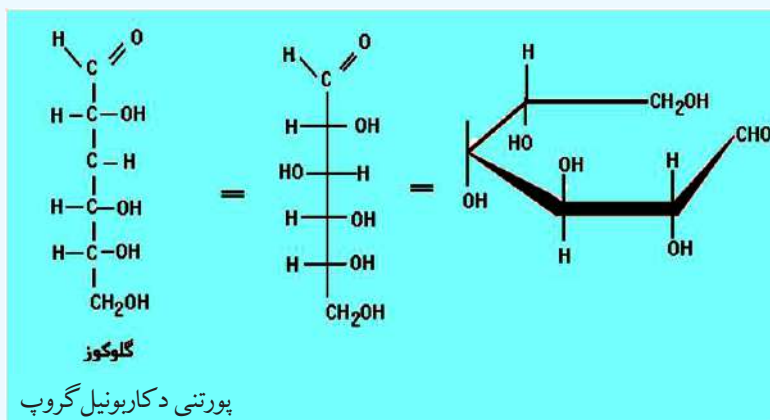
(12_3) شکل: د فیشر بنودنه د گلیسرایدونو لپاره

د یادولو وړ ده دا چې د فیشر بنودنه کیدای شي د هغه د جوړښت له بدلون پرته، د 180° درجو په کچه (پرته له 90° یا 270° درجو څخه) د سطحی پرمخ تاو شي:



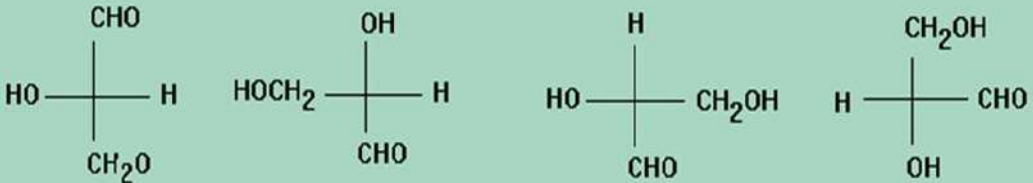
[R] - گلیسر ال دیهايد

هغه کاربوهایدریتونه چې د تاویدلو څلور مرکزونه ولري، داسې ښودل کیږي چې د تاویدلو مرکز ونه یو د بل له پاسه شتون لري او د کاربونیل د گروپ کاربن د هغوی د پاسه او یا لاندې ښودل کیږي؛ د بیلگې په ډول: گلوکوز د تاویدلو څلور مرکزونه لري چې د فیشر په بنودنه کې یو د بل له پاسه شتون لري، خو دا تصوري بنودنه د مالیکولونو د سم جوړښت چې کور تاو چې پیچ وي، معلومات نه ورکوي:





د گلیسر الډیهایدونو فیشرې ښودنه چې لاندې لیکل شوي، کوم یو یې د یو انانتومیر بیانوونکی دی؟



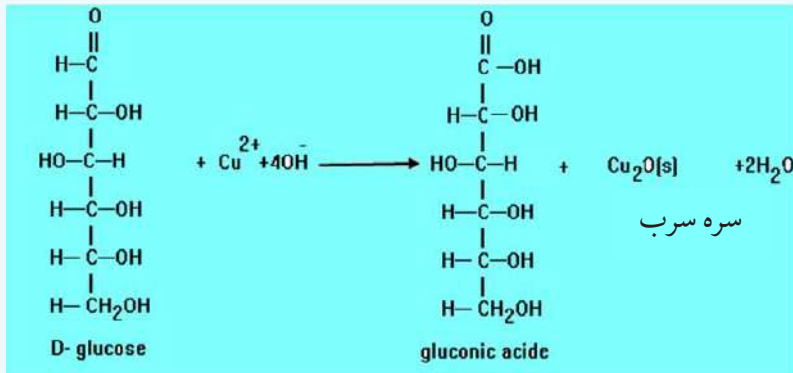
د D او L قندونه

گلیسر الډیهایدونه (Glyceraldehyde) ډېر ساده الډوزنه دي چې د تاویدلو یو مرکز لري او د دوو انانتومیرو شکلونو لرونکي (اښه وي تصویر) دي چې د ښي لور تصویر یې په طبیعت کې زیات موندل کېږي؛ یعنې که چیرې د طبیعي گلیسر الډیهایدونو یوه نمونه په یو پولارومتر کې کښودل شي، رڼا پولارایز کېږي او د ساعت د عقربې سره سم تاوېږي چې په مثبت (+) علامه ښودل کېږي. دا چې د C_2 اسکلیټ په (+) گلیسر الډیهایدونو کې په (R) ښودل شوی؛ نو دا گلیسر الډیهاید د D- گلیسر الډیهاید په نوم هم یادېږي، (D له Dextrorotatory څخه اخېستل شوی دی چې ښي خوا ته د تاویدلو په معنا ده) د هغې بل انانتیومتر؛ یعنې (L) _ گلیسر الډیهاید د L- گلیسر الډیهاید په نوم یاد وي (L له levorotatory کلمې څخه اخېستل شوی دی چې کښي خوا ته د تاویدلو په معنا دی).

د مونو سکرایدونو کیمیاوي خواص

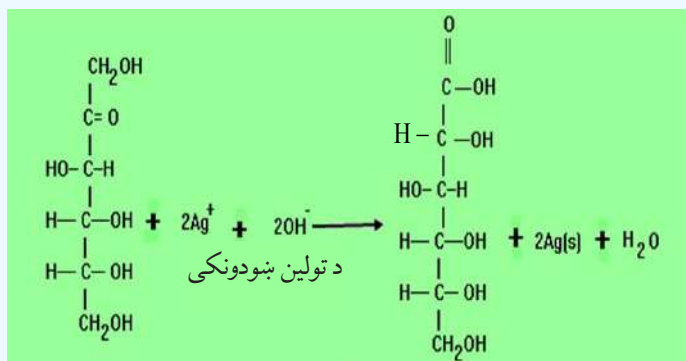
۱- د مونو سکرایدونو اکسیدشن

د الډوزو مونو سکرایدونه د فېلنګ او تولین د محلولونو په شتون کې اکسیدي کېږي او د هغوی د کاربونیل په ګروپ کې اکسیدیشن ترسره کېږي:



په دې تعامل کې سور رنگی رسوب کېدونکې ماده جوړېږي چې له دې تعامل څخه د وینو د شکرې د کچې په ټاکلو کې ګټه اخیستل کېږي، لږ څه یوریا د فېلنګ له محلول سره مخلوط وي چې دا مخلوط بیا پرویني زیات وي، په دې صورت کې سور رنگه رسوب جوړېږي چې په وینه کې د شکرې شتون ټاکي.

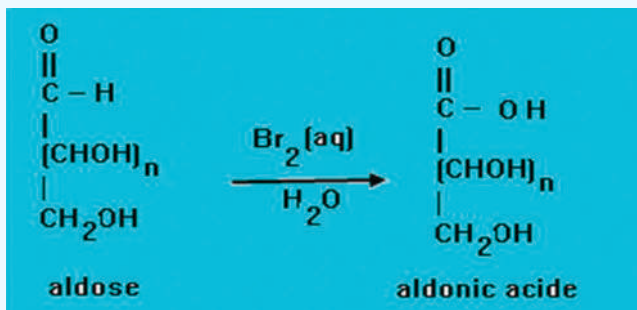
د کیتوز مونو سکرایډونه د فېلنګ او تولین د ښودونکو په واسطه په جامد حالت کې اکسیدي او په تېزاب نه تبدیلېږي؛ نو د محلول په حالت کې له نوموړو ښودونکو سره تعامل کوي، د هغوی کیتوني ګروپ د کاربوکسیل په ګروپ بدلون مومي، خو لومړی د کیتون ګروپ په الډیهایدی ګروپ او بیا د هغوی الډیهایدی ګروپ د کاربوکسیلیک اسید په ګروپ تبدیلېږي:



د برومین د اوبو په واسطه د مونو سکرایډونو اکسیدیشن

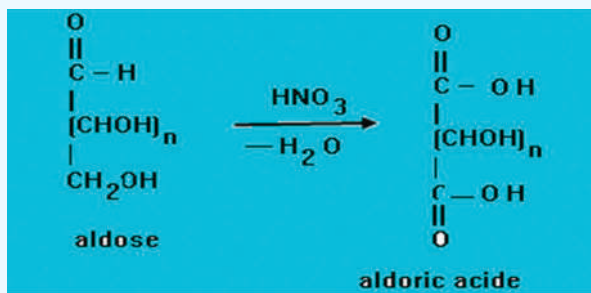
د برومینو اوبه د الډوزونو الډیهایدی ګروپ اکسیدي کوي او د کاربوکسیل په ګروپ یې تبدیل او الډونیک

اسید جوړوي:



د نایتریک اسید په واسطه د مونو سکرایډونو اکسیدیشن

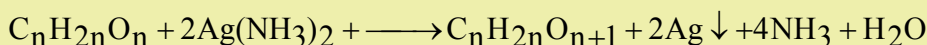
نایتریک اسید د برومین د اوبو په نسبت ډېر قوي اکسیدي کوونکی دی چې د الډیهاید ($\text{C}=\text{O}$) او الکولي CH_2OH ګروپ اکسیدي کوي او په کاربوکسیلیک اسید یې تبدیلوي:



مثال:

یو الدوز چې عمومي فورمول یې $C_nH_{2n}O_n$ دی، 36g یې د تولین له ښودونکي سره تعامل کړی او 43.2g سپینو زرو ته یې رسوب ورکړی، د دې الدوز مالیکولي فورمول به کوم وي؟ د کاربن اتومي کتله $12g/mol$ ، د هایدروجن اتومي کتله $1g/mol$ ، د اکسیجن اتومي کتله $16g/mol$ او د سپینو زرو اتومي کتله $108g/mol$ ده.

حل:




$$C_nH_{2n}O_n = 12n + 2n \cdot 1 + 16n = 30ng/mol$$

$$30n \text{ g aldose} - 216gAg$$

$$36g \text{ aldose} - 43.2gAg$$

$$n = \frac{36g \cdot 216g}{30g \cdot 43.2g} = 6$$



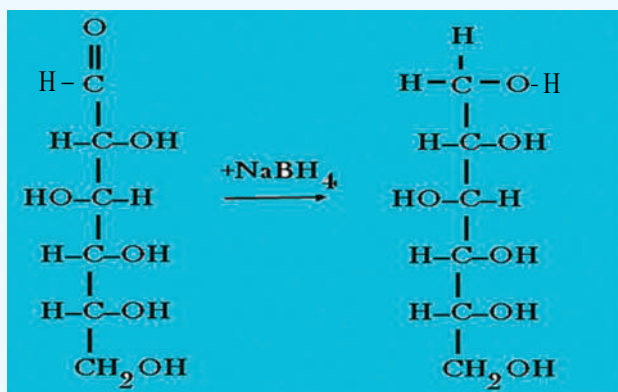
فعالیت



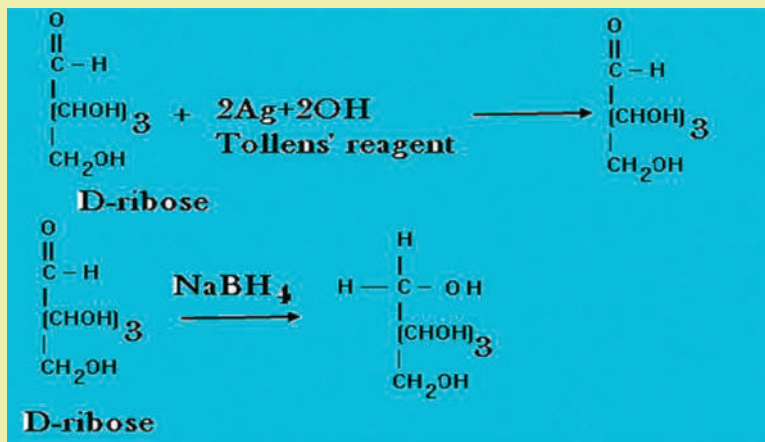
500g د گلوکوز 1.2% کتلوي محلول نمونه د فهلنگ له ښودونکي محلول سره تعامل ورکړ شوی دی، خومره Cu_2O به رسوب کړی وي؟ د Cu_2O مالیکولي کتله 143 او د گلوکوز $C_6H_{12}O_6$ مالیکولي کتله 180 ده.

د مونو سکرایدونو ارجاع کول

د مونو سکرایدونو کیتوني او الډیهایدی گروپونه د د قوي ارجاع کوونکو په واسطه ارجاع کیږي؛ د بیلگې په ډول: که چېرې د $D-C_6H_{12}O_6$ د $NaBH_4$ او یا د H_2 په واسطه د کتلست په شتون کې ارجاع شي، $D-glucitol$ (Sorbitol) لاس ته راځي:



مثال: د $D-ribose$ (aketo pentose) د محصول تعامل د تولین او $NaBH_4$ سره به کوم وي ؟



فعالیت



د $D-ribose$ ketopentose د تعامل محصول د تولین دښودونکي او د $NaBH_4$ سره به څه وي؟

2_ ډای سکرایډونه

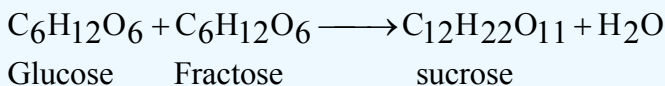
د مونو سکرایډونو د دوو مالیکولونو د یو ځای کیدو، تراکم او له دی هایډریشن څخه د ډای سکرایډونو مالیکول لاسته راځي چې د دوو مونو سکرایډونو تر منځ یو اکسیجني پول تړل کیږي.

د ډای سکرایډونو عمومي خواص

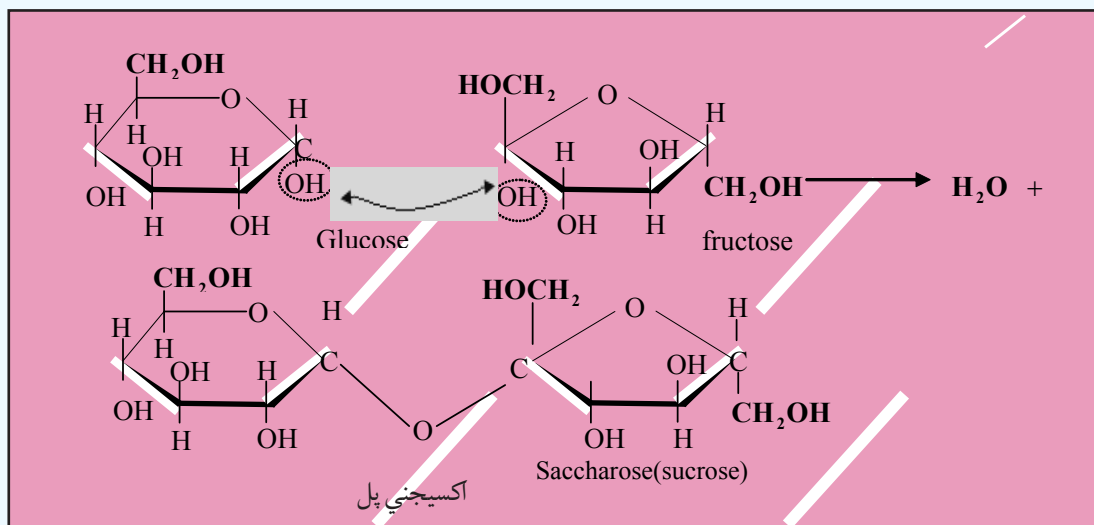
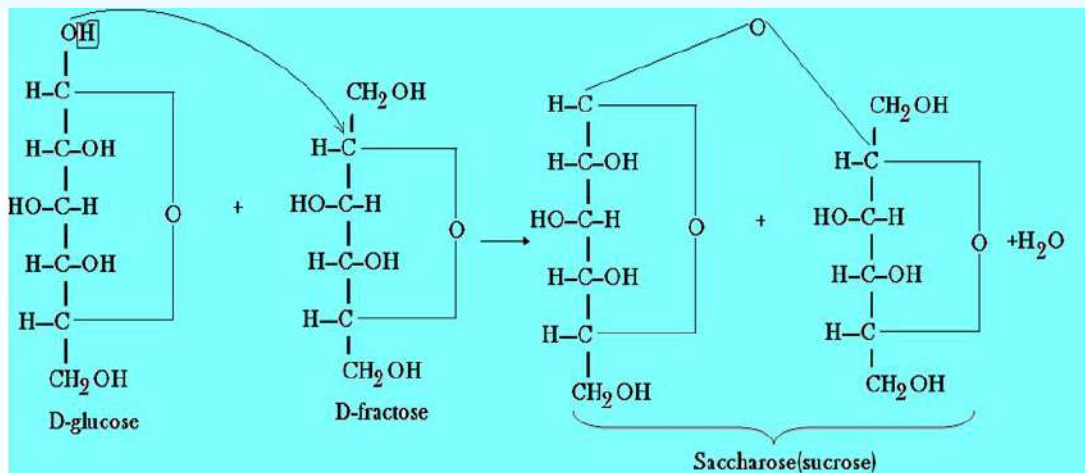
- 1_ د ډای سکرایډونو عمومي فورمول $C_{12}H_{22}O_{11}$ دی.
- 2_ ډای سکرایډونه سپین رنگ لري او خوند یې خوږ دی.
- 3_ د ټولو ډای سکرایډونو مالیکولونه ښي خوا ته تاوېږي او نور پولاریزیشن کوي.
- 4_ ډای سکرایډونه هایډرولیز کیږي او د هغوی د هایډرولیز په پایله کې مونو سکرایډونه لاسته راځي.
- 5_ د مهمو ډای سکرایډونو څخه یوه بوره ده او نور مهم ډای سکرایډونه لکتوز، مالتوز او سلیبوز دي.

سکروز (بوره)

بوره د یو مالیکول ګلوکوز او یو مالیکول فرکتوز د نښلېدو له امله لاسته راځي:



دا دواړه نوموړي هکسوزونه د گلايکوسايد (glycoside) اړيکې په واسطه چې د گلوکوز د لومړي کاربن (C-1) او د فرکتوز د دويم کاربن (C-2) سره تړل کيږي، نښتي دي. بوره په ډيره کچه په نباتاتو؛ لکه: لبلبو او گنيو کې موندل کيږي چې د اکسترکشن په ميتود له هغوی څخه خالصه بوره په لاس راوړل کيږي. بوره په اوبو کې په اسانۍ سره حل کيږي؛ خو په الکولو کې ډيره لږه حل کيږي. کله چې بوره هضم شي؛ په دې صورت کې په ځيگر کې گلوکوز او فرکتوز جوړ او وروسته له جوړيدو څخه په وينه کې جذبېږي:



څرنگه چې سکروز د کاربونيل گروپ نه لري؛ له دې کبله د فهلنگ او تولين له ښودونکو سره تعامل نه کوي او د ارجاعي ځانگړتيا هم نه لري.



(12-4) شکل: د سکروز ویلې کیدل او د شیریني جوړیدل

فعالیت

په یورین کې د شکرې د کچې ټاکل

زیاتې عضوي مالګې په خپل جوړښت کې د الډیهایدونو او کیتونونو ګروپونه لري؛ له دې کبله هغوی ډېر لږ کولی شي چې فلزي ایونونه؛ لکه: Cu^{2+} , Hg^{2+} , Bi^{3+} او Ag^{+} جوړ کړي. کله چې دا مالګې په کاربوکسلیک اسید اکسیدایز کېږي، دا معلومات په وینه او یورین کې د شکرې د کچې د ټاکلو لپاره بېلابېل میتودونه په کار ورل کېږي؛ خو مهم میتود د فېلنګ د ښودونکي کارول دي (هغه ماده چې د کیمیايي تعامل لپاره کارول کېږي، په ځانګړې توګه د دې د پوهیدلو لپاره ده چې د نظر وړ ماده کې موکوم نور مواد هم شته). په دې هکله د کار لاره په لاندې ډول ده:

- 1_ په یو تست تیوب کې د فېلنګ په محلول باندې د 70% په کچه CuSO_4 محلول ورزیاد کړئ.
- 2_ د جوړ شوي فېلنګ محلول له مساوي کچې سره سم، د سودیم پوتاشیم تارتاریت او سودیم هایډروکساید محلول کچه (له اوبو سره د 100 mL ملي لیټرو په اندازه جوړ کړي) په یو تست تیوب کې یې واچوئ.
- 3_ محلولونه یو په بل کې تر هغه وخته پورې حل کړئ چې د اوبو په شان تیاره رنګ یې ولیدل شي.

- 4_ بیا له دې څخه وروسته محلول وښوروئ (د اوبو د رنګ په شان تیاره رنګ باید ولیدل شي، که چیرې ونه لیدل شي، نو تست تیوب پاک نه دی)

5_ نو یورین یا دوینی سیروم باید په لاس راغلي محلول کې واچول شي (د یورین کچه باید له ښودونکي څخه زیات نه وي) که چیرې یورین یا سیروم شکره ولري، نو سور اویا ژېړ رنگه رسوب په تست تیوب کې جوړېږي.

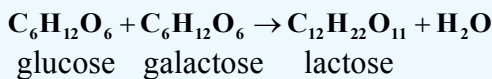
په وینه کې د گلوکوز نورماله کچه له 80mg څخه تر 120mg په شاوخوا کې ده. د سوځیدلو توقف او په وینه کې د گلوکوز فعالیت د انسولین د هارمون فعالیت پورې اړه لري.



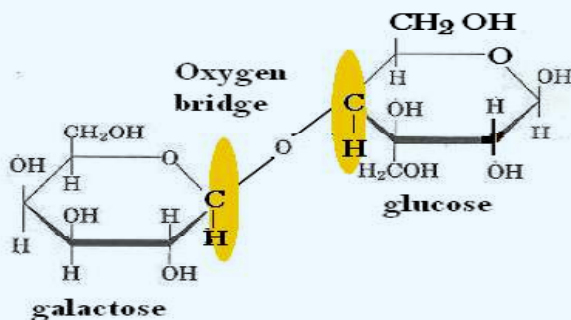
(5_12) شکل: د شکرې د اندازې موندل په وینه کې

لکتوز (lactose)

لکتوز د شیدو په قند هم مشهور دی، دا قند د تي لرونکو ژویو په شیدو کې شته چې د انسانانو شیدې 6% او د غوا وشدې 4% له لکتوز څخه جوړې شوي دي:



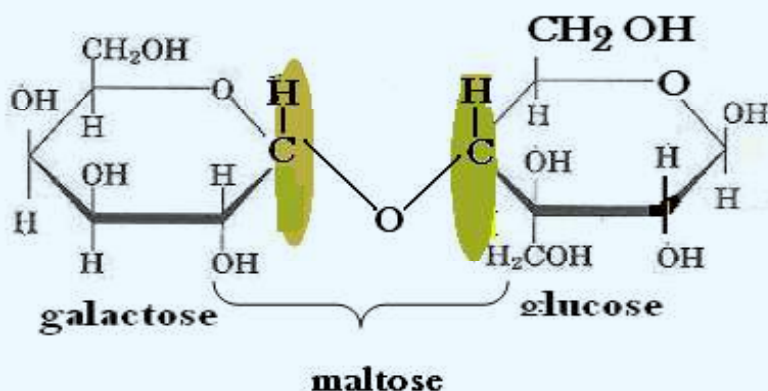
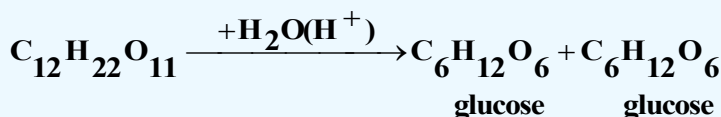
د لکتوز جوړښت په لاندې ډول دی:



(6_12) شکل: شیدې د لکتوز سرچینه:

مالتوز (Maltose)

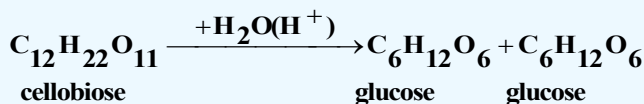
مالتوز د ډای سکرایدنو هغه ډول دی چې د اوربشو په دانو او نورو نباتاتو کې موندل کېږي. دا قند کیدای شي چې له نشایستې او گلايکوجن څخه د امایلاز (Amylase) انزایم د کړنې په واسطه لاسته راوړل شي. دا قند په $102 - 103^{\circ}C$ تودوخه کې ویلې کېږي چې د څښلو او د خوراکي موادو په تولید کې ورڅخه ګټه اخیستل کېږي. په مالتوز کې الډیهایدی ګروپ شته؛ له دې کبله د فهلنگ محلول ارجاع کولی شي او د برومین د اوبو په شتون کې په مالتونیک اسید (moltonic acid) تبدیلېږي. که چیرې مالتوز د تېزابونو په شتون کې هایدرولیز شي، په ګلوکوز بدلیږي:



سلیویوز (cellobiose)

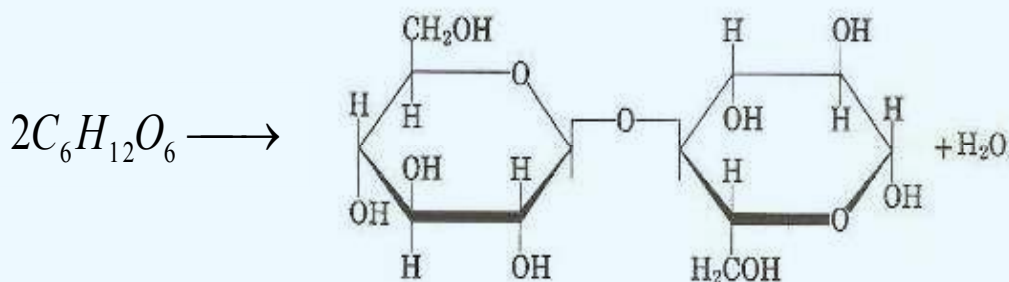
د سلولوز د قسمي هایدرولیز په پایله کې، سلیویوز جوړېږي، که چیرې هایدرولیز ته دوام ورکړل شي، په پای کې دوه مالیکوله ګلوکوز لاسته راځي. سلیویوز د مالتوز په شان دی او یو د بل هندسي ایزومیر

دي، په ځينې هيوادونو کې لرگيو ته له ګرموتېزابونو سره تودوخه ورکوي، په پايله کې سليوبيوز لاسته راوړي چې له هغه څخه د ژويو د خوړو لپاره ګټه اخيستل کېږي. که چېرې سليوبيوز هايډروليز شي، دوه ماليکوله ګلوکوز لاسته راځي:




2_2_12: پولی سکرایدونہ (Polysacarides)

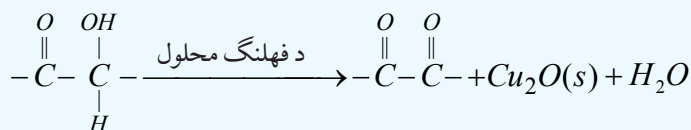
پولي سکرایدونه د پیرانوز گلوکوز د واحدونو یو له بل سره د یوځای کېدو او د هغوی د دې هایدریشن په پایله کې جوړېږي. نشایسته هم له دې مرکبونو څخه ده چې د ښاخ لرونکي جوړښت له کبله دهضم کیدو وړتیا لري؛ خو سلولوز هم چې د پولي سکرایدونو له زنځیر څخه د اوږدو رینسو په بڼه لاسته راغلي دي؛ نو څرنگه چې دا رینسې د هایدروجني اړیکو په واسطه یو له بل سره یوځای شوي دي، کلکه ماده ده، چې د هضم وړ نه ده. د نباتاتو تنه، رینسې او ښاخونه له سلولوز څخه جوړې شوي دي:



د دې قندونو د پیژندګلۍ او له نورو مرکبونو څخه د دې مرکب د بیلولو لپاره د فېلنګ له ښودونکي څخه کار اخیستل کیږي کوم چې له ګلوکوز سره سور رسوب جوړوي:



فرکتوز هم د گلوکوز په شان اکسیدي کيږي؛ خو د هغه هایډروکسیل گروپ اکسیدیشن کيږي، د هغه ډاکسیدیشن یوه برخه په لاندې ډول ده:

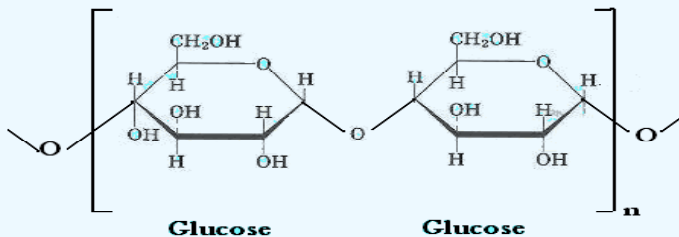


عمومي خواص

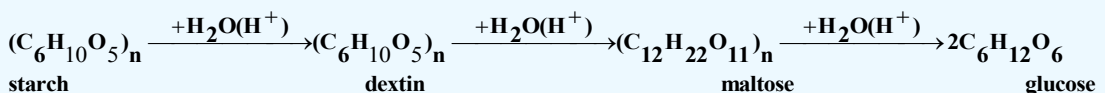
- 1_ د پولي سکرایدونو عمومي فورمول له $(C_6H_{10}O_5)_n$ څخه عبارت دی.
- 2_ د نباتاتو په تخمونو او نیغونو کې پیداکېږي.
- 3_ پولي سکرایدونه هغه مواد دي چې د کرسټال کیدو وړتیا نه لري او بې خونده دي. دا مرکبونه په اوبو او الکولو کې نه حل کېږي؛ که چېرې هایډرولیز شي، په مونو سکرایدونو بدلیږي: مهم پولي سکرایدونه له نشایستې (Starch)، گلايکوجن (Glycogen)، سلولوز (Cellulose) او دکستین (Dextrin) څخه عبارت دي.

نشایسته (Starch)

د پولي سکرایدونو له مهمو مرکبونو څخه یوه هم نشایسته ده چې د گلوکوز د مالیکولونو د ترکیب د گلايکوسایډي اړیکې پر بنسټ جوړېږي، جوار، کچالو، وریجې، د نباتاتو تخمونه او ریښې د نشایستې مهمې سرچینې دي. نشایسته د خواړو ښه سرچینه ده چې د هغې هر مالیکول د گلوکوز له زرگونو مالیکولونو څخه جوړ شوی دي، د فورمول یوه برخه یې په لاندې ډول ده:



څرنگه چې وویل شو، نشایسته په اوبو کې نه حل کېږي؛ که چېرې له اوبو سره یوځای تودوخه ورکړل شي، د هغوی هایډرولیز ترسره کېږي او په یو قیمت قندونو ټوټه کېږي. نشایسته د فهلنگ ښودونکي ارجاع کوي او که چېرې له ایوډین سره یوځای شي اوبه رنګه محلول جوړوي. دا چې په دې مرکب کې د $-OH$ گروپونه زیات شتون لري؛ نو د اوبو ښه جذبونکي دی، د تودوخې د ورکولو په پایله کې د نشایستې هایډرولیز ترسره کېږي او د هایډرولیز محصول یې گلوکوز دی:



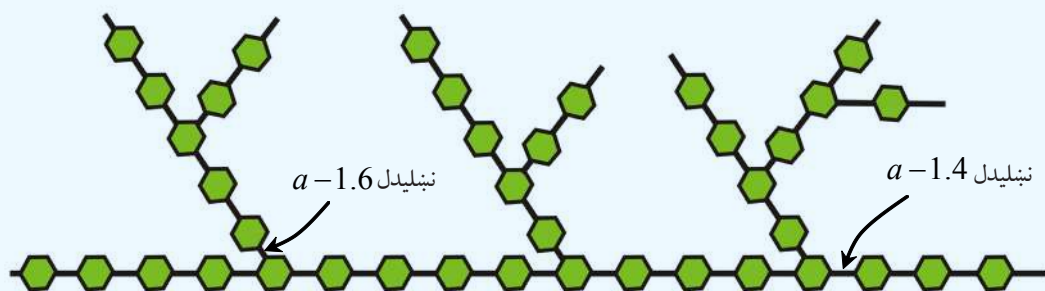


(7_12) شکل: الف کچالو د نشايستې سرچينه

ب - ډوډۍ د نشايستې سرچينه

گلايکوجن (Glycogen)

گلايکوجن حيواني نشايسته ده چې د حيواناتو په ځيگر کې شته او د حيوانات د انرژي د ذخيرې په توگه رول لوبوي. هغه دخوړو کاربو هايډريتونه چې په انرژي تبديل شوي نه وي، په ځيگر کې په گلايکوجن تبديل او ټولېږي، د گلوکوز د واحدونو شمير په گلايکوجن کې سل زرو عددونو ته رسېږي. د گلايکوجن د پيچليو جوړښتونو يوه برخه د $4',1$ او $6',1$ له يوځای کيدو سره په لاندې ډوله ده:


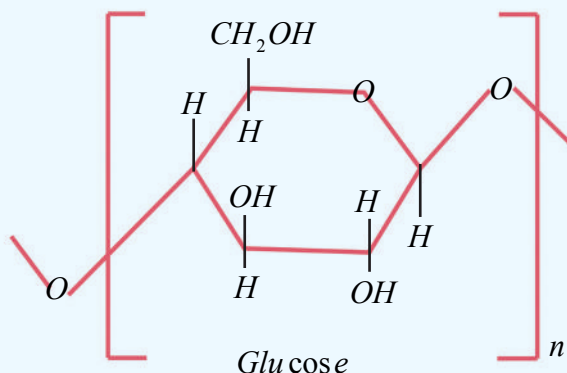


(8_12) شکل: د گلايکوجن د پيچلي جوړښت يوه برخه د او د يوځای کيدو سره $4',1$ او $6',1$.

سلولوز (Cellulose)

له مهمو پولي سکرايدونو څخه يو هم سلولوز دی چې د گلوکوز د ماليکولونو د يو ځای والي په واسطه اود گلايکوزيد اړيکې پر بنسټ جوړ شوی دی او د 350 مونو ميرونو واحدونه لري، د هغه ماليکولي کتله 500000 ته رسېږي. د سلولوز کچه په طبيعت کې ډيره زياته ده، د نباتاتو د حجرو د يوال له دې مرکب څخه جوړ شوی دی. د سلولوز مهمې سرچينې لرگي، وابنه، کتان او کنف دي. سلولوز امورف (Amorph) ماده ده چې په اوبو کې نه حل کېږي، دا مرکب د نورو پولي سکرايدونو پر خلاف له تېزابونو او القليو سره له ځانه کلکوالی ښيي،

خو د تودوخې او لوړ فشار په شتون کې د نړيو تېزابونو په واسطه هايډروليز کيږي او په گلوکوز بدليږي:



(شکل: 9_12) لرگي د سلولوز د پولي ميرونو ډول

2_12: پروټينونه

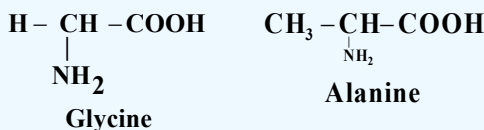
پروټينونه د طبيعي پولي ميرونو له ډولونو څخه دي چې د انسانانو اورگانيزم يې تر 15% جوړ کړی دی او په بدن کې ډيرې دندې ترسره کوي. رشتوي پروټينونه (fibres proteins) د بدن د پوستکي او نسجونو بنسټيزې اجزا وې دی او نور پروټينونه په ميعاتو او وينه کې هم شتون لري چې حجرونه د اکسيجن، شحمياتو او نورو موادو د ليرلو لامل شوي دي او د ميتابوليزم په عمليې کې برخه اخلي؛ همدارنگه هارمونونه؛ لکه: انسولين او انزايمونه د پروټينونو له ډولونو څخه دي. پروټينونه د خوراكي توکو بنسټيزې اجزا وې دي، ډېر خوراكي مواد پروټين لري، سره غوښه، سابه، حبوبات؛ لکه: نخود او لوبيا له پروټينونو څخه ډک دي. د خوړو موادو پروټينونه د اورگانيزم او د هاضمي سيستم کې په کوچنيو اجزاوو؛ يعنې په امينواسيدونو ټوټه کيږي او دا امينواسيدونه په حجرو کې بيرته د بدن د اعضاو په اړنيو پروټينونو تبديليږي؛ څرنگه چې د پروټينونو بنسټيزې اجزاوې، امينواسيدونه دي؛ پر دې بنسټ د امينواسيدونو په هکله بايد معلومات وړاندې شي:

3_12: امينواسيدونه (Amino acides)

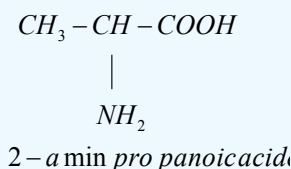
که چيرې د کاربوکسليک اسيدونو د کاربنونو يو او يا څو د هايډروجن اټومه د NH_2 - (امين) په واسطه بې ځايه شي، د هغوی اړوند امينو اسيدونه لاسته راځي؛ د بيلگې په ډول: $\text{NH}_2 - \text{CH}_2 - \text{COOH}$ امينو اسيدونو يو ډول دی چې د امين د گروپ په واسطه د اسيتيک اسيد د ميتايل د پاتې شوني يو اټوم هايډروجن د بې ځايه کېدو په پايله کې لاسته راغلی دی.

د امینواسیدونو نوم ایښودنه

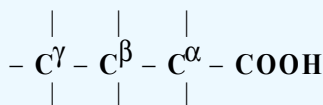
سره له دې چې د حیاتي کیمیا پوهانو د امینواسیدونو لپاره مروجي (Trivial) نومونه ټاکلي دي؛ خو کیدای شي چې د امینواسیدونو نوم ایښودنه په سیستماتیک ډول هم ترسره شي، د ځینو امینواسیدونو مروجي نومونه په لاندې ډول دي:



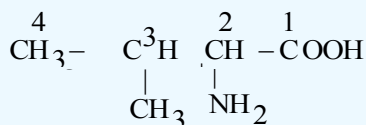
د دغو دوو امینواسیدونو نړیواله نوم ایښودنه له لاندې لیکنې سره سم ترسره کیږي: دا چې الانین له Propanoic acide څخه ترلاسه شوی دی او د NH_2 -گروپ په دویم نمبر کاربن کې ځای لري. (د کاربوکسیل د گروپ کاربن باید تل ډېر کوچنی نمبر ځانته غوره کړي) پردې بنسټ د الانین سیستماتیک نوم عبارت دی له:




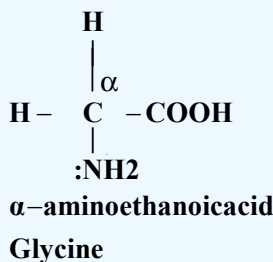
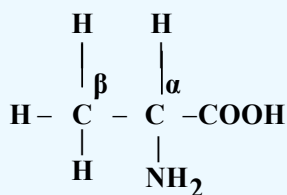
د یادولو وړده چې د COOH -گروپ یې تل د زنځیر په یوه څوکه کې ځای لري. د کاربن اټوم چې د COOH -له کاربن سره اړیکه لري، د الفا، بل کاربن د بیټا (β) او همدارنګه د گاما γ په نوم، نومول شوي دي:



هغه امینواسیدونه چې د NH_2 -گروپ یې د الفا α په کاربن نښتي وي، د α - aminooacides په نوم یادېږي او که چیرې د بیټا β په کاربن نښتي وي د β - aminooacides په نوم یا ډیرې او که د γ په کاربن باندې ځای ولري د γ - امینواسید (γ - aminooacides) په نوم یادېږي:

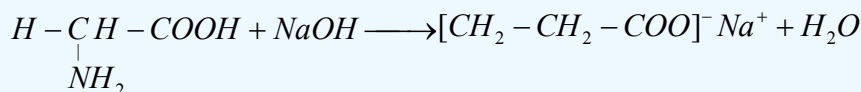


3 - methyl 2 - aminobutan oicacide
(α -Valine)

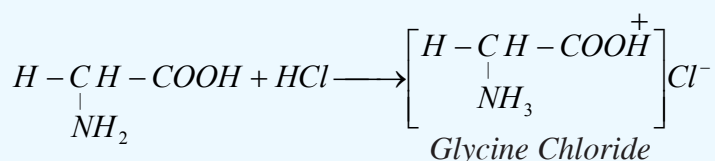


د امینو اسیدونو خواص

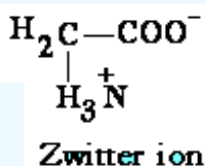
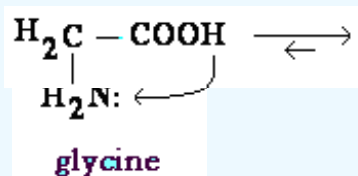
د امینو اسیدونو په ترکیب کې د NH_2 او COOH - د ګروپونو د شتون له کبله دا مرکبونه امفوتریکې ځانګړتیاوې لري؛ یعنې هم تېزابي خواص او هم قلوي خواص له ځانه ښيي. له ګلا سین سره د سودیم هایدروکساید تعامل په لاندې ډول ګورو:



په تېزابي محیط کې امینو اسیدونه په لاندې ډول لیدل کېږي:



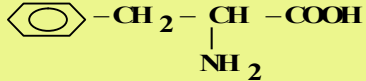
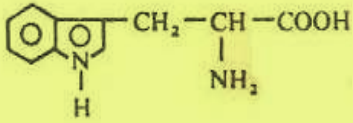
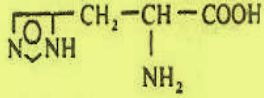
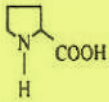
امینو اسیدونه په جامد حالت کې د دوه قطبي ایون په بڼه ځان ښکاره کوي، داسې چې د هغوی د کاربوکسیل ګروپ د کاربوکسلیت د ایون په بڼه (COO^-) او هغوی د امین ګروپ د امونیم (NH_3^+) د ایون په بڼه ښکاره شوي دي چې د امفي ایون (Amph ion) یا سویتر ایون (Zwitter ion) په نوم یادېږي:



(10_12) شکل: کب د پروتین مهمه سرچینه

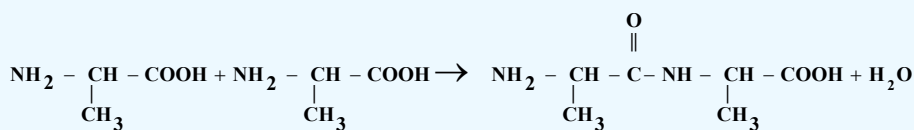
(1_12) جدول: 20 مهم بيولوژيڪي امينو اسيدونه

نوم	معمولي نوم	سمبول	فورمول
گلاسين	Glycine	Gly	$\begin{array}{c} H - C - COOH \\ \\ NH_2 \end{array}$
الائين	Alanine	Ala	$\begin{array}{c} CH_3 - CH - COOH \\ \\ NH_2 \end{array}$
والين	Valine	Val	$\begin{array}{c} CH_3 - CH - CH - COOH \\ \quad \\ CH_3 \quad NH_2 \end{array}$
ليوسين	Leucine	Leu	$\begin{array}{c} CH_3 - CH - CH_2 - CH - COOH \\ \quad \quad \\ CH_3 \quad \quad NH_2 \end{array}$
ايزوليوسين	Isoleucine	Ile	$\begin{array}{c} CH_3 - CH_2 - CH - CH - COOH \\ \quad \quad \\ CH_3 \quad \quad NH_2 \end{array}$
سيرين	Serine	Ser	$\begin{array}{c} HO - CH_2 - CH - COOH \\ \\ NH_2 \end{array}$
ثيرونين	Threonine	Thr	$\begin{array}{c} CH_3 - C - CH - COOH \\ \quad \\ OH \quad NH_2 \end{array}$
سستين	Cysteine	Cys	$\begin{array}{c} HS - CH_2 - CH - COOH \\ \\ NH_2 \end{array}$
ميٿونين	Methionine	Met	$\begin{array}{c} CH_3 - S - CH_2 - CH_2 - CH - COOH \\ \\ NH_2 \end{array}$
اسپارٽيڪ اسيد	aspartic acid	asp	$\begin{array}{c} HOOC - CH_2 - CH - COOH \\ \\ NH_2 \end{array}$
اسپارژين	Asparagine	Asn	$\begin{array}{c} H_2N - CO - CH_2 - CH - COOH \\ \\ NH_2 \end{array}$

گلو تا میک اسید	Acidglutamiqae	Clu	$\text{HOOC}-\text{CH}_2-\text{CH}_2-\underset{\text{NH}_2}{\text{CH}}-\text{COOH}$
گلو تامين	Glutamin	Cln	$\text{H}_2\text{N}-\text{CO}-\text{CH}_2-\text{CH}_2-\underset{\text{NH}_2}{\text{CH}}-\text{COOH}$
ليسين	Lysine	Lys	$\text{H}_2\text{N}-\text{CO}-\text{CH}_2-\text{CH}_2-\text{CH}_2-\text{CH}_2-\underset{\text{NH}_2}{\text{CH}}-\text{COOH}$
ارژينين	Arginine	Arg	$\text{H}_2\text{N}-\underset{\text{NH}}{\underset{\parallel}{\text{C}}}-\text{NH}-\text{CH}_2-\text{CH}_2-\text{CH}_2-\underset{\text{NH}_2}{\text{CH}}-\text{COOH}$
فينيل الاتين	Phenylalanine	Phe	
تيروزين	Tyrosine	Tyr	$\text{HO}-\text{C}_6\text{H}_4-\text{CH}_2-\underset{\text{NH}_2}{\text{CH}}-\text{COOH}$
تريپتوفان	Tryptophane	Try	
هيسيتيدين	Histidine	His	
پروولين	Proline	Pro	

12_2_2: پولي پېتايدونه او پروتينونه

پروتينونه د مشخصو ساختماني واحدونو لرونکي دي چې له امينو اسيدونو څخه عبارت دي. د ټولو ژونديو موجوداتو پروتينونه له امينو اسيدونو څخه جوړ شوي دي. د پروتينونو په جوړښت کې له شلو (20) څخه ډېر امينو اسيدونه برخه لري او د پېچلو پولي ميرونو له ډلو څخه دي؛ نايلون هم د پولي ميرونو د ډولونو څخه دی؛ خو د هغه په ترکيب کې يوازې يو ډول مونو مير برخه لري. د انسانانو د بدن ارگانونه د پنځلس ډولو امينو اسيدونو د جوړولو وړتيا لري، ترڅو د هغوی په واسطه خپل ژوند ته دوام ورکړي؛ له دې کبله د بنسټيزو امينو اسيدونو په نوم يا ډيرې. هغه ماليکولونه چې څه نا څه له دوو امينو اسيدونو څخه جوړ شوي دي، د پېتايد په نوم يا ډيرې:



د $\text{CO} - \text{NH}$ اړيکه د پېتايدې اړيکې په نوم او وروستني امينو اسيد د پاتې شوو موادو او يا (Residue) په نوم يادوي، د پېتايدونو زنځير له سل گونو څخه له ډيرو وروستيو بناخ لرونکو څخه جوړ شوی دی او د پېتايدې اړيکو په واسطه يې نظم تر لاسه کړی دی، ډېولي پېتايد زنځير چې پاتې شونې ونه لري، داوليگو اسيد په نامه يادېږي، د پولي پېتايدې هغه امينو اسيدونه چې د هغو په سرونو کې COOH - دوه گروپونه شتون ولري، په اوبلنو محلولونو کې لوړ تېزابي خاصيت لري چې بيلگه يې د (12_1) جدول په پام کې نيولو سره کيدای شي اسپارتيک اسيد او گلوتامېک اسيد وپانډې شي، که د COOH - گروپ په اميد $\overset{\text{O}}{\underset{\parallel}{\text{C}}} - \text{NH}_2$ گروپ تبديل شي، دا امينو اسيد په اسپاراکين او گلوتامين تبديليږي.

که چيرې د NH_2 - گروپونه له COOH - گروپونو څخه زيات وي، دا ډول امينو اسيدونه د قلوي امينو اسيدونو په نوم يادېږي چې په اوبلنو محلولونو کې قلوي pH لرونکي دي، د ارژين امينو اسيد په ځانگړې توگه د انسانانو په سپرم او د مذکرو ماهيانو په تناسلي سپين رنگه مايع کې شتون لري. سيستين (Cysteine) د سلفر لرونکو امينو اسيدونو له ډولونو څخه دی چې د هغه زنځير په $\text{S} - \text{H}$ پای ته رسېږي او مېتوينين (Methionine) د سلفر لرونکو امينو اسيد و بل امينو اسيد دی چې په هغه کې سلفر د $\text{S} - \text{CH}_3$ - وظيفه يې گروپ په بڼه شتون لري، دا امينو اسيد په ژونديو موجوداتو کې د بدن د اعضاوو د اکسېدېشن او ريډکشن کړنه کنترول او بنسټيز رول لوبوي چې د هغه ځای نور امينو اسيدونه

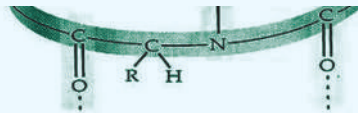
نیولی نه شي. زیات امینواسیدونه الیفاتیکی کاریني زنځیرونه لري؛ خو د میتایل الانین، تایروزین او دتریتوفان امینو اسیدونه له یوې اروماتیکی هستې څخه جوړشوي دي چې د هغوی پېژندنه د نایتریک اسید په واسطه شونې ده. دا امینو اسیدونه نایتریک اسید سره تعویضي تعاملونه تر سره کوي او د نایترو مرکبونه جوړوي؛ نو له همدې کبله ده چې که لاسونه د نایتریک اسید په واسطه ککړ شي، په پایله کې د لاسونو د پوستکي رنگ ژړپړي. که چیرې د چرکانو د هګیو سپین هایدرولیز شي، اروماتیک امینو اسیدونه لاسته راځي.

په پروتینونو باندې د پیپتایدونو تبدیلول

د یو ډای پیپتاید د COOH - گروپ د نوي امینو اسیدونو له NH_2 - گروپ سره تعامل کوي، په ترای پیپتاید بدلون مومي او بیا هم د هغه د زنځیر په پای کې د COOH - گروپ شتون لري چې هغه هم په خپل وار سره د نوروامینو اسیدونو له NH_2 - گروپ سره تعامل کوي او په پایله کې پیپتایدونه په پروتینونو تبدیلېږي. که چیرې داسې مالیکولونه له پنځه دیرشو څخه لږ امینو اسیدونه ولري، بیا هم د پیپتایدونو په نوم یا ډیرې او که له دې شمیر څخه لوړ وي، د پروتین په نوم یا ډیرې. ځینې پروتینونه هم شته چې له شپږ ویش زرو (26000) څخه زیات امینو اسیدونه لري او مالیکولي کتله یې 40000 g/mol ده. په رښتیا چې پروتینونه مکرو مالیکولونه دي او د یو پروتین لومړنی جوړښت د هغوی دجوړوونکو امینو اسیدونو او د هغه تنظیم په واسطه چې امینواسیدونه یې یو له بل سره تړلي دي، ټاکل کېږي؛ د بیلګې په ډول: د یو ترای پیپتاید جوړیدل چې د درې امینو اسیدونو الانین، سیرین او سیستین څخه جوړ شوي دي، په پام کې ونیسئ چې په شپږو لارو یو له بل سره یو ځای کېږي:

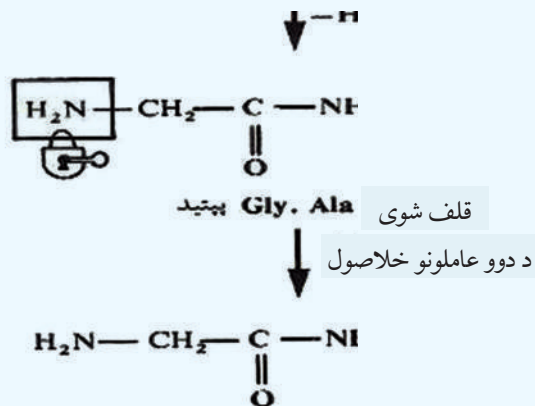
Ala	Ser	Cys	Ala	Cys	Ser
Ser	Cys	Ala	Ser	Ala	Cys
Cys	Ala	Ser	Cys	Ser	Ala

د دې درې پروتینونو جوړښت په بشپړه توګه یو له بل څخه توپیر لري (سره له دې چې د هغوی لومړني مواد سره یوشان دي)، د فزیکي او کیمیايي بیلابیل خواص لري، د دې ساده نمونې په پام کې نیولو سره کیدای شي، وویل شي چې: د طبیعت شل فعال بیولوژیکي امینو اسیدونه توانیدلي دي چې یو شمیر زیات پروتینونه یې جوړکړي، د هغوی شمیر د حیواناتو او نباتاتو په عالم کې 10^{12} پورې اټکل شوی دی.



(11_12) شکل: د پروتینونو بڼه

دا لاندې تعامل د الانین او گلاسین د ډای پروتینونو جوړیدل ټاکي:

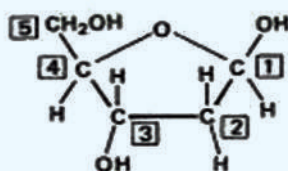


4_12: ډای اکسي رايبوز نوکليوټيک اسيد (D.N.A) او رايبوز نوکليوټيک اسيد (R.N.A)

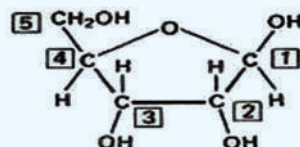
ډير پيچلی عضوي ماليکول ډای اکسي رايبوز نوکليوټيک اسيد (D.N.A) دی چې د ژوندي اورگانيزم د

ټولو حجرو په هستو کې شتون لري او د بېلابېلو پروټینونو د تولید او جنیټیکي خبرتیاوو د لېږلو (وراثت) لپاره له یونسل څخه بل نسل ته، دنده تر سره کوي. د انسانانو د D.N.A مالیکول ډېر لوی دی او د هغه اوږد والی له هستې څخه د وتلو وروسته دوه متر ته رسېږي. د ریبوزنو کلیک اسید (R.N.A) مالیکول د D.N.A په مالیکول ته ورته دی؛ خو له هغه څخه کوچنی دی. دا مالیکولي ټول شوی ارثي خبرتیاوې چې د D.N.A په واسطه ټولېږي، له هستې څخه بهر ته لیږي.

د D.N.A جوړښت د پیژندلو ډیره ښه لاره د هغه د لومړنیو موادو د جوړښت د څېړنو لاره ده. D.N.A له هغو پولي میرونو څخه دی چې په هغه کې د ریبوز د قند بدل شوي مالیکولونه د فورانوز تکراري واحدونو په جوړښت کې شامل دي، د ریبوز بدل شوی جوړښت چې فورانوز ورته ویل کیږي، د اکسیجن د هغه اټوم له لرې کولو څخه چې له کاربن سره اړیکه لري، عبارت دی. په دې حالت کې ریبوز په دې اکسي ریبوز مالیکول تبدیلېږي چې د هغه فورمول په لاندې ډول دی:



(b)

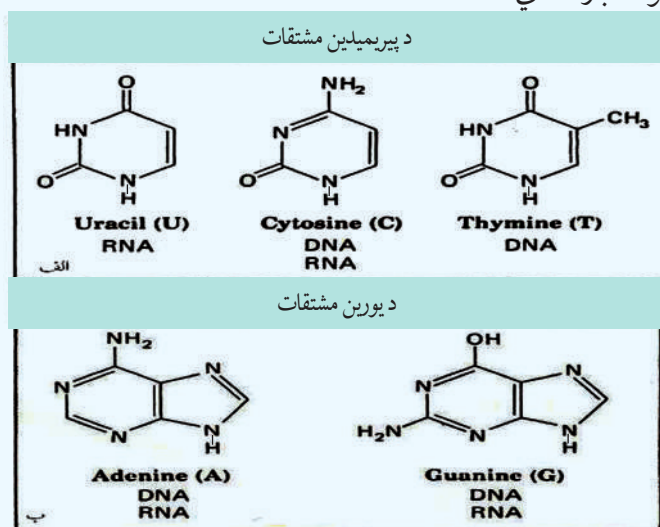


(a)

ریبوز Ribos

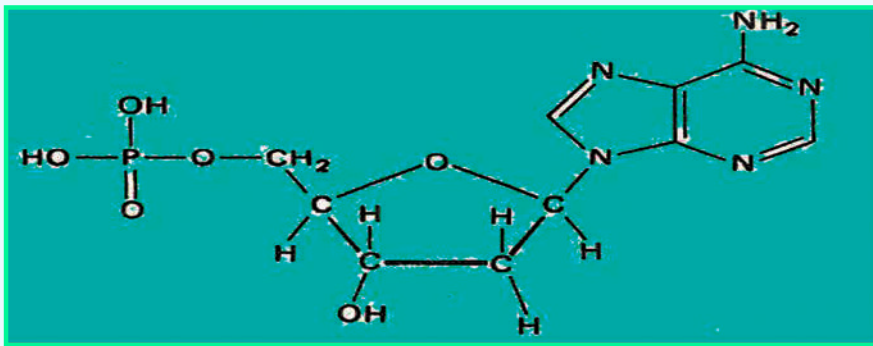
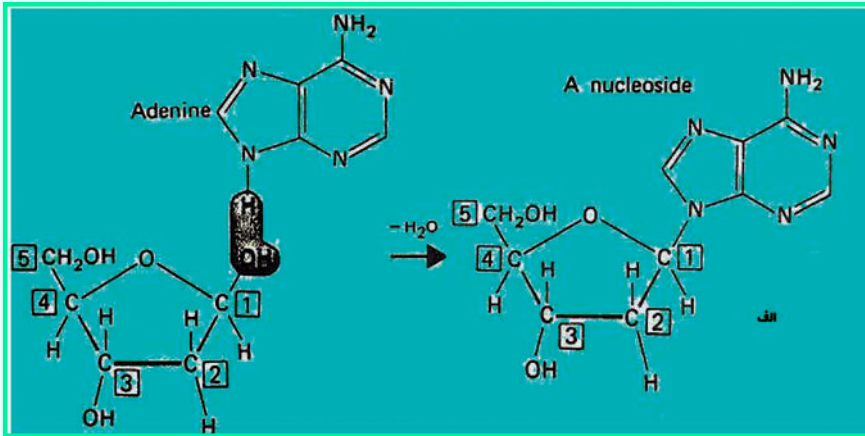
ډاکسي ریبوز Deoxyribose

په D.N.A کې مونومیر دي اکسي ریبوز دی. د هغه په لومړي نمبر کاربن کې نایټروجن لرونکي القلي نښتي دي چې د کو ولانټ اړیکه یې جوړه کړې ده، (په دې ډول القلیو کې نایټروجن خپل ازاد الکترونونه له لاسه ورکوي) دا القلي مرکبونه عبارت دي له:

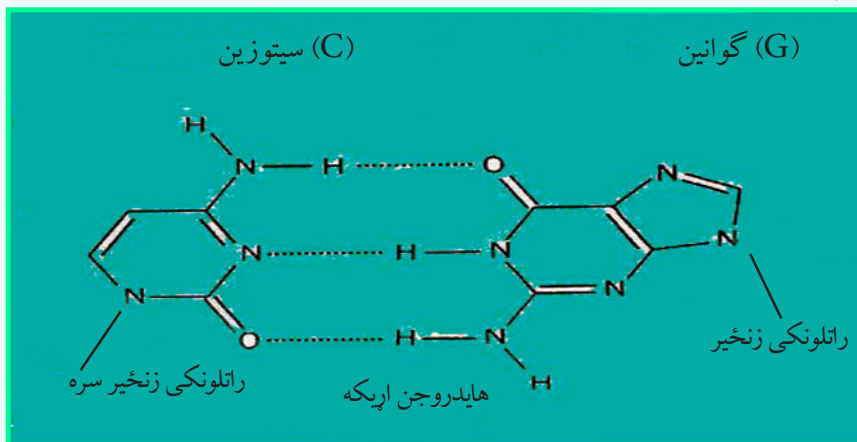


څرنگه چې لیدل کیږي، دلته القلي پنځه ډوله دي، څلور ډوله یې په D.N.A کې شتون لري او د I، G، A او

له Cy څخه عبارت دي چې ډي آکسي رايبوزنوکلېوټيک اسيد د لومړني کاربن سره اړيکه لري:

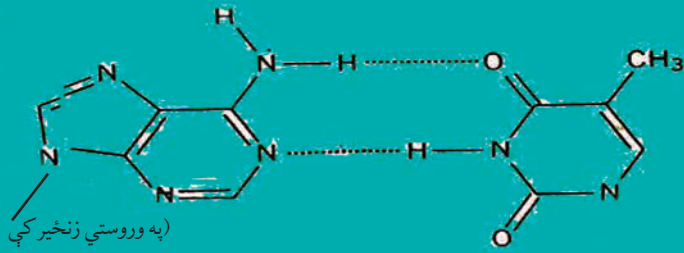


د پورتنۍ تعامل له تر سره کېدو څخه وروسته، د فاسفوریک اسيد تعامل له ډي آکسي رايبوز نوکلېک اسيد سره ترسره کېږي چې د DNA د ماليکول سکليټ جوړوي، په لاندې فورمول کې د پولي نوکلېوټيک اسيد د زنځير يوه برخه وړاندې شوې ده چې په هغه کې د ايسټر د هر فاسفيت اړيکه له 3 او 5 کاربن سره په منظمه بڼه تکرار شوې ده:

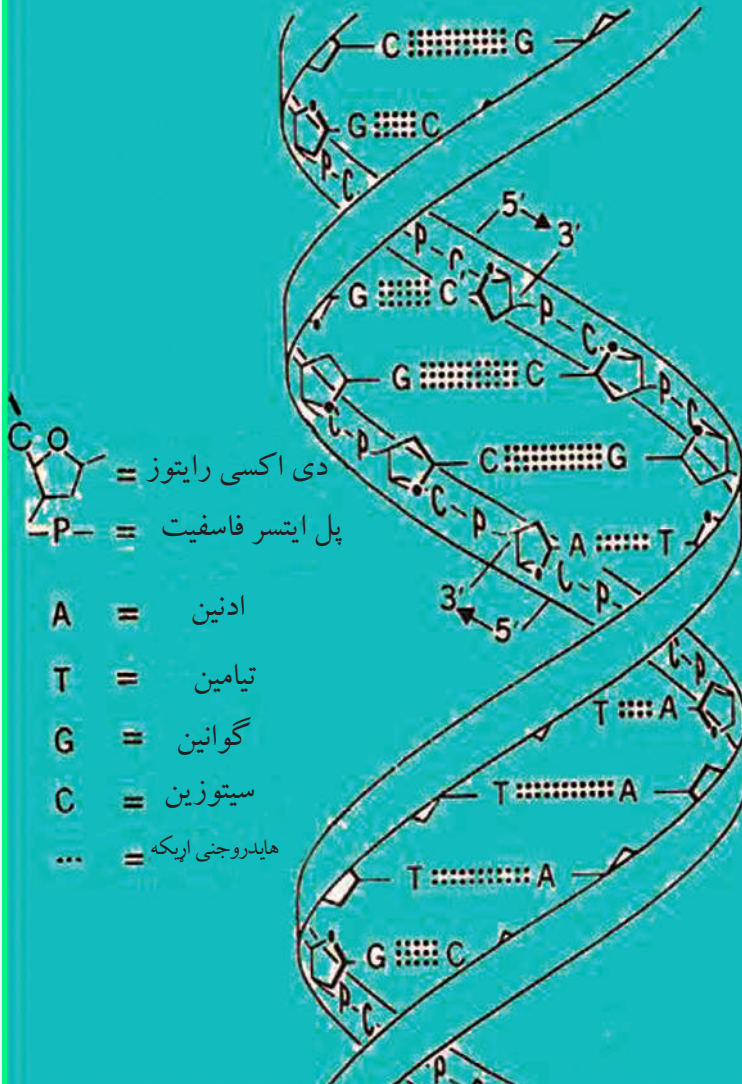


آدنین (A)

تیامین (T)



هایدروجنی اریکه.....





د دولسم څپرکي لنډيز:

* هغه ماليکولونه چې د څوکو چټو ماليکولونو له یوځای کیدو څخه جوړ شوي دي، دپولي مير په نامه او هغه کوچني ماليکولونه چې پولي ميرونه جوړوي، د مونومرونو (Monomers) په نوم یا دیري.

* کاربو هایدريتونه د ژوندانه مهم مرکبونه دي چې زموږ د ورځني ژوند په بیلا بیلو برخو کې په کار وړل کیږي.

* کاربو هایدريتونه د کاربن د هایدريتونو په نوم هم یا دوي، څرنگه چې د هغوی ساده فارمول $C_n(H_2O)_n$ یا $C_nH_{2n}O_n$ دی؛ پردی بنسټ د اوبو لرونکي کاربن په بڼه لیدل کیږي. گلوکوز د الکولو او الیدهايدو د وظیفه یي گروپونو لرونکي دي او لږ څه لوړ او د کږیدو اوکړی کېدو زنځیر لري.

* کاربو هایدريتونه په دوو ډلو ویشل شوي دي چې له ساده او پیچلو کاربو هایدريتونو څخه عبارت دي. ساده قندونه (Simple sugars) د مونو سکرایدونو (Monosaccharides) په نامه یادېږي.

* د مونو سکرایدونو د دوو ماليکولونو د اتحاد، تراکم او له دي هایدريشن څخه د ډای سکرایدونو ماليکول لاس ته راځي چې د دوو مونو سکرایدونو تر منځ یو اکسیجني پل تړل کیږي. د ډای سکرایدونو عمومي فورمول $C_{12}H_{22}O_{11}$ دی.

* پولي سکرایدونه د پیرانوز گلوکوز د واحدونو یو له بل سره دیوځای کېدو او د هغوی د دي هایدريشن په پایله کې جوړېږي چې بیلگي نشایسته او سلولوز دي.

* پروتینونه د پولي ميرونو له طبیعي ډولونو څخه دي چې د انسانانو اورگانیزم یې تر 15% جوړ کړی دی او په بدن کې دیرې دندې ترسره کوي.

* که چیرې د کاربوکسلیک اسیدونو د کاربنونو یو او یا څو د هایدروجن اټومه د NH_2 - (امین) په واسطه بې ځایه شي، د هغوی اړوند امینو اسیدونه لاسته راځي.

* د امینو اسیدونو په ترکیب کې د NH_2 - او $COOH$ - گروپونو د شتون له کبله دا مرکبونه امفو ترکیب ځانگړتیاوې لري؛ یعنې هم تیزابي خواص او هم قلوي خواص له ځانه ورنیسي.

* د پروتینونو په جوړښت کې له شلو (20) څخه ډېر امینو اسیدونه برخه لري او د پیچلو پولي ميرونو له ډلو څخه دي.

* که چیرې ماليکولونه له 35 څخه لږ امینو اسیدونه ولري، بیا هم د پیپتایدونو په نوم یا دیري او که له دې شمېر څخه لوړ وي، د پروتین په نوم یا دیري.

* ډېر پیچلي عضوي ماليکولونه د ((ډای اکسي رابوز نوکلئوټیک اسید D.N.A)) دي چې د ژوندي اورگانیزم د ټولو حجرو په هستو کې شتون لري او له بیلا بیلو پروتینونو د تولید او جنتیکي خبرتیاوو د لیرلو (وراثت) لپاره له یونسل څخه بل نسل ته دنده تر سره کوي.

* د رابوزنو کلیک اسید (R.N.A) ماليکول د D.N.A ماليکول ته ورته دی؛ خو له هغه څخه کوچنی دی. دا ماليکول ټولې شوي ارثي خبرتیاوې چې د D.N.A په واسطه ټولېږي، له هستې څخه بهر ته لیري.

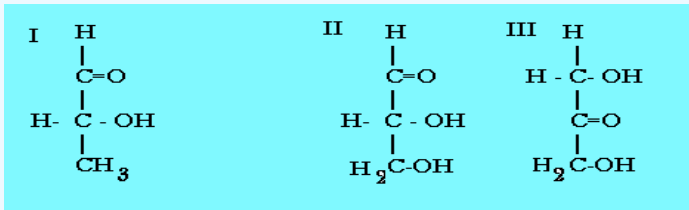
د دولسم څپرکي تمرین:

- 1- کوم شیان چې په کور کې ونیئ که چیرې کاربو هایدريتونه په هغو کې شتون لري، د هغوی د یو شمیر نومونه واخلئ.
- 2- کوم کاربو هایدريتونه د انسانانو په ژوندانه کې مهم دي؟ د هغوی نومونه واخلئ.
- 3- کوم کاربو هایدريتونه په خپله شاوخوا محیط کې گورئ؟ د هغوی نومونه واخلئ.
- 4- د فوتو سنتیز معادله په صحیح بڼه ولیکئ او د هغې د لومړنیو موادو نومونه واخلئ.
- 5- کاربو هایدريتونه د کومو وظیفه یي گروپونو پر بنسټ یو له بل څخه توپیر کیږي؟ په دې اړه معلومات وړاندې کړئ.
- 6- کوم اکسیدایز کوونکي کیدای شي چې د کاربو هایدريتونو د اکسیدیشن لپاره وکارول شي، تر څو کاربوکسلیک اسید په لاس راوړل شي؟ په دې اړه معلومات وړاندې کړئ.
- 7- د امینو اسیدونو او پروتینونو عمومي فورمول ولیکئ او په اړه یې رڼا واچوئ.

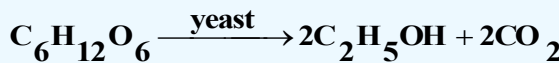
- 8_ د امینو اسیدونو او پروتین ترمنځ توپیر څه شی دی ؟ په دې اړه څېړنې وکړئ.
- 9_ څو مهم امینو اسیدونه چې د ژونديو موجوداتو په اورگانیزم کې شته دي، نومونه یې واخلئ.
- 10_ د الانین د امفي ايون بڼه ولیکئ.

څلور ځوابه پوښتنې

- 1_ کاربو هایدريتونه د..... مرکبونه دي چې الديهائيدي يا کيتوني گروپ لري:
الف - ایستر ب - ایتر ج - پولي ایستر د - پولي الکولونه
- 2_ له لاندې فورمولونه کوم یو کاربو هایدريتونه راښيي؟



- الف- یوازې III ب- یوازې II ج- I د- I او II ه- ټول
- 3_ د گلوکوز تعامل د خمیر مایې په شتون کې په لاندې ډول دی:



څومره ایتایل الکول به له 6% ، 90g گلوکوز څخه حاصل شي؟

- الف 13.8 ، ب 18.4 ، ج 23 د 32.2

4_ د مونو سکرایدونو په فورمول کې کوم گروپونه شته ؟

- الف- الیهائیډ ب- کیتوني ج- هایډروکسیل د- ټول
- 5_ د رایبوز نوکلېک اسید (R.N.A) مالیکول ته ورته دی؛ خو د هغه په نسبت کوچنی دی:

- الف- D.N.A ب- ATP ج- الف او ب دواړه د- هېڅ یو
- 6_ د $\text{CH}_3 - \underset{\text{NH}_2}{\text{CH}} - \text{COOH}$ نوم عبارت دی له:

- الف- Alanine ب- الانین ج- الف او ب دواړه د- هېڅ یو

7_ پروتینونه د ټاکلو جوړښتیز واحد لرونکي دي چې..... څخه عبارت دي.

- الف- امایډونو ب- اولیگو اسیدونه ج- امینو اسیدونه د- امونیا

8_ شمیر بیالوجیکي فعال امینو اسیدونه کولی شي چې ډېر زیات امینو اسیدونو جوړ کړي.

- الف- 100 ب- 20 ج- 16 د- 10^{12}

9_ د پروتینونو ټاکلی شمیر چې د طبیعت فعاله بیالوژیکي امینو اسیدونه یې څخه جوړ شوي دي شمیرې..... دی.

- الف- 10^{12} ب- 110 ج- 20000 د- 400000

10_ د مونو سکرایدونو په مالیکولونو کې د کاربن د اتومونو شمیر له..... تر..... دي:

- الف- 20 څخه تر 30 ب- 20 څخه تر 40 ج- 3 څخه تر 9 د- 10 څخه تر 20 پورې.

11_ د یو ډای پیپتایډ د COOH - گروپ د نورو امینو اسیدونو له NH_2 - گروپ سره تعامل کوي او په.....

- تبدیلېږي. الف- ترای پیپتایډ ب- پیپتایډ ج- امینو اسید د- هېڅ یو

12_ د امینو اسیدونو په ترکیب کې د NH_2 - او COOH - گروپونو د شتون له کبله ده چې دا مرکبونه د.....

- خاصیت لري: الف- دوه گوني ب- تېزابي او قلوي ج- امفوتریک د- ټول ځوابونه صحیح دي.

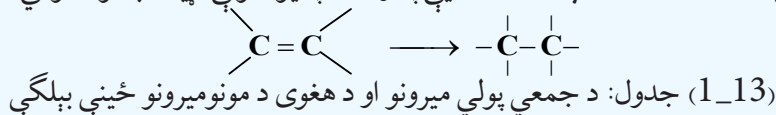
ديارلسم خپرکی مصنوعي پولي ميرونه




په دې خپرکي کې لولو چې مصنوعي پولي ميرونه کوم دي او څرنگه کيدای شي چې پولي ميرونه په مصنوعي ډول لاسته راوړل شي؟ مهم مصنوعي پولي ميرونه کوم دي؟ له مصنوعي پولي ميرونو څخه په کومو برخو کې گټه واخېستل شي؟ په دې خپرکي کې به د متراکم شوو او جمعي پولي ميرونو په اړه معلومات لاسته راوړو، د ژوندانه په چارو کې د هغوی د کارولو ځايونو په هکله معلومات حاصل کړو.

1_13: جمعي پولي ميرونه

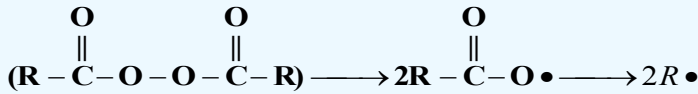
که چيرې د پولي ميرونو واحدونه (مونو مير) يو له بل سره يو ځای شي، داسې پولي ميرونه لاسته راځي چې د جمعي پولي ميرونو له ډولونو څخه دي (1_13) جدول جمعي پولي ميرونه، مونو ميرونه او د هغوی د کارولو ځايونه نښي. پولي ميرونه هغه توکي دي چې له داسې مونو ميرونو څخه جوړ شوي دي کوم چې د هغوی د ماليکول په جوړښت کې د جوړونکو عناصرونو اتومونو تر منځ دوه گونې اړيکه شتون لري او دا دوه گونې اړيکه د پولي ميرازيشن (Polymerization) د عمليې په واسطه په يوه گونې اړيکه بدلون مومي:




کارول	دپوليمير نوم	د پولي مير فورمول	نوم او د مونومير فورمولونه
پايپ، پلاستيکي بوتلونه	پولي ايتيلين	$-(\text{CH}_2 - \text{CH}_2)_n -$	$\text{CH}_2 = \text{CH}_2$ Ethylene
فرشونه، پلاستيکي بوتلونه	پولي پروپيلين	$-\left(\begin{array}{c} \text{CH}_2 - \text{CH}_2 \\ \\ \text{CH}_3 \end{array} \right)_n -$	$\text{CH}_2 = \text{CH} - \text{CH}_3$ propylene
پايپ، سیرامک، دکوټو فرش، کالي	پولي وينيل کلورايډ	$-\left(\begin{array}{c} \text{CH}_2 - \text{CH} \\ \\ \text{Cl} \end{array} \right)_n -$	$\text{CH}_2 = \text{CHCl}$ Vinylchloride
قالين او د اوښلو دستگانه	پولي اکريل نايټريل (PAN)	$-\left(\begin{array}{c} \text{CH}_2 - \text{CH} \\ \\ \text{CN} \end{array} \right)_n -$	$\text{CH}_2 = \text{CH}$ CN Acrylnryl
ناسوز پوښونه	پولي ټرافلورو ميټيلين	$-(\text{CF}_2 - \text{CF}_2)_n -$	$\text{CF}_2 = \text{CF}_2$
بطري او د کور وسايل	پولي ميټايل ميټا اکريلاټ	$-(\text{CH}_2 - \text{C}(\text{CH}_3)\text{COOCH}_3)_n -$	$\text{CH}_2 = \text{C}(\text{CH}_3)\text{COOCH}_3$ Methylmethacrilat
دتودوخې نه تيروونکي، د لوبو سامانونه، مصنوعي ربړ،	پولي بيوتاډين او پولي سټيارين (SBR)	$-(\text{CH}_2 - \text{CH} = \text{CH} - \text{CH}_2)_n -$	$\text{CH}_2 = \text{CH} - \text{CH} = \text{CH}_2$ Butadiene $\text{CH}_2 = \text{C}(\text{CH}_3)$  Styrene

13_1_1: پولي ايتيلين

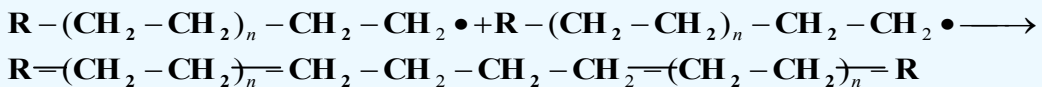
که چيرې د ايتيلين ماليکولونه د تودوخې په 250°C او په $1000 - 3000\text{atm}$ فشار او د عضوي پر اکسايډونو په شتون کې پولي ميرازيشن شي، پولي ايتيلين (Polyethylene) لاسته راځي، د هغوی د تعامل ميخانيکيت داسې دی چې عضوي پر اکسايډونو $(\text{R}-\overset{\text{O}}{\parallel}\text{C}-\text{O}-\overset{\text{O}}{\parallel}\text{C}-\text{R})$ ته تودوخه ورکوي چې په پايله کې په دوه راډيکالونو باندې چې په $2\text{R}\cdot$ ښودل کېږي، بدلون مومي:



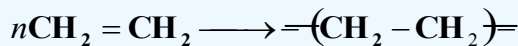
نوموړي راډيکالونه د ايتيلين له ماليکول سره تعامل کوي، په پايله کې نوي راډيکالونه په لاندې ډول تر لاسه کېږي:



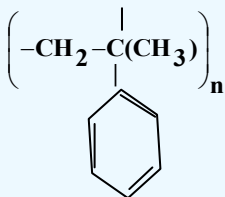
له پورتنیو ډولونو سره سم لاسته راغلو راډيکالونه په وروستيو پړاوونو کې د ايتيلين له بل ماليکول سره تعامل کوي او دا عمليه پرله پسې دوام مومي:



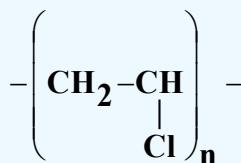
د ايتيلين د مونومير د پولي ميرازيشن معادله په لاندې ډول ليکل کېږي:



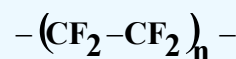
په دې فورمول کې د n قيمت ډېر لوی دی چې سلگونو ته رسېږي. پولي ايتيلين د هومولوگو پولي ميرو (Homo polymer) يو ډول دی چې له يوشان مونومير څخه جوړ شوی دی؛ نور هوموپولي ميرونه عبارت له پولي وينایل کلورايد، پولي تترا فلورايد او پولي ستياړين څخه دي چې د راډيکالونو تعاملونو پر بنسټ جوړېږي، د هغوی عمومي فورمولونه په لاندې ډول دی:



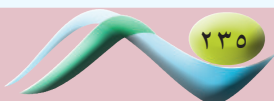
Polystyrene



poly vinyl chloride(PVC)




poly tetrafluoride ethylene
(Teflon)



د پولي ايتيلين او دنسلول شوو پولي ميرونو بېلابېل شکلونه

په لاندې شکل کې د پولي ايتيلين بېلابېلې بڼې ښودل شوي دي چې د هغوی له ډلې څخه پولي ايتيلين لوړ کثافت (High-density poly ethylene) لري او په HDPE ښودل شوی دی، دا پولي مير اوږد زنځير لري او لوړ کثافت لري؛ له دې کبله يې ماليکولونه يو له بل د پاسه په نښتې بڼه شتون لري او تړلی دی، دا پولي مير د شودو او جوسو په پلاستيکي قطیو جوړولو کې په کار وړل کېږي؛ ځکه دا پولي مير (HDPE) کلک دی. د پولي ايتيلين بل ډول د LDPE (Low-density poly ethylene) په نوم ياديږي چې ټيټ کثافت او ښاخ لرونکی (انشعابي) زنځير لري چې د هغه کثافت د HDPE له کثافت څخه ټيټ دی، دا پولي مير د پلاستيکي کڅوړو په جوړولو کې په کار وړل کېږي.

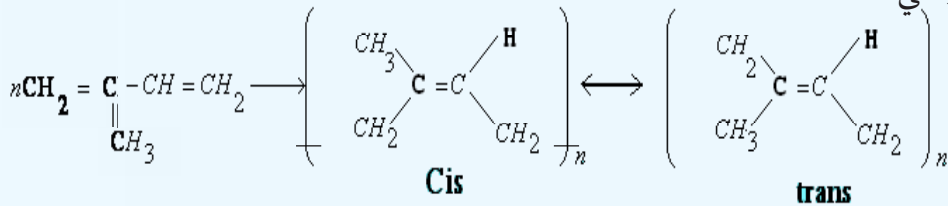


(1_13) شکل: له بيلا بيلو کثافت لرونکو پولي ايتيلينونو څخه جوړ شوي لوبښي

يو بل ډول پولي ايتيلين هم شته چې د کراس لينکيد پولي ايتيلين (Cross-linked polyethylene) په نوم ياديږي او په CPE ښودل کېږي، دا پولي ايتيلين داسې جوړېږي چې له دوو څنگ پر څنگ ماليکولونو څخه د هايډروجن يو، يو اتوم جلا کېږي؛ بيا دا دوه ماليکولونه يو له بل سره يوځای کېږي، له دې دوو يوځای شوو ماليکولونو څخه لاسته راغلی پولي مير د تړلي پولي مير په نوم يا ديږي او د HDPE د پولي مير په نسبت ډېر کلک دی چې له هغه څخه کلک او غښتلي شيان جوړوي.

13_1_2: رېبر

د طبيعي مهمو پولي ميرونو څخه يو هم رېبر دی چې د ايزوپرين (Isoprene) د مونومير د راډيکالي تعامل په پايله کې لاس ته راځي، د ايزوپرين دوه ډوله پولي ميرونه شته چې د هغوی د ايزوميرونو پورې تړلي دي او هغه عبارت له سيس او ترانس (cis and trans) ايزوميري څخه دي چې په لاندې ډول لاسته راځي:

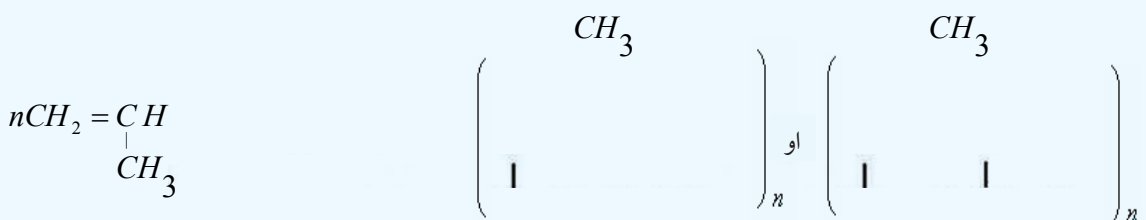


د پولي ميرايښتن په عمليه کې دواړه ايزوميري سيس او ترانس (cis and trans) په مخلوطي بڼه لاسته راځي، طبيعي رېبر د سيس ايزوميري پولي مير دی چې د هيواله ونې څخه لاسته راځي. طبيعي رېبر نښلېدونکې ماده ده چې د هغه ارجاعي وړتيا لږه ده، د همدې لامل له کبله په فابريکو کې له هغه څخه دومره گټه نه اخيستل کېږي.



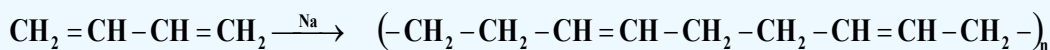
شکل: د هيوالونه، د طبيعي رېبر سرچينه (2_13)

کله چې طبيعي رېبر ته له سلفر سره تعامل ورکړل شي؛ نو د هغه کيفيت لوړېږي او کلک رېبر لاسته راځي او دوام يې زياتېږي چې دا تعامل د (Vulcanisation) (هغه تعامل دی چې د موادو ترمنځ اړيکې زياتوي او د موادو د نښلېدو ځانگړتيا ټيټوي؛ خو کلکوالی او ټينگوالی يې ډيروي) په نوم يا دوي:



لومړي ځل امريکايي عالم چارلس گوداير (Charles Goodyear) په 1839م. کال کې Vulcanisation عملیه په طبيعي رېر باندې ترسره کړه چې نښلیدونکي او ماتېدونکي طبيعي رېر ته يې بدلون ورکړ او په کلک او غښتلي رېر يې تبديل کړ، د لاسته راغلي رېر خواص، د هغه سلفرو مقدار پورې اړه لري کوم چې په ایزوپرين کې ور زیاتيږي، که چېرې د ورزیات شوي سلفر کچه له 1% څخه تر 5% پورې وي؛ نو لاسته راغلی رېر نرم وي چې له هغه څخه په دست کشو، د ټایرونو دننه ټیوب او نورو ځایو کې کارول کېږي. که چېرې د سلفر کچه د 30% پورې وي، ددې رېر کلکوالي ډېر دی او له هغه څخه د موټرو د ټایرونو په جوړولو کې ګټه اخېستل کېږي

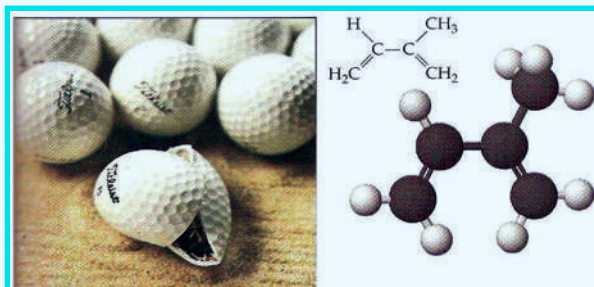
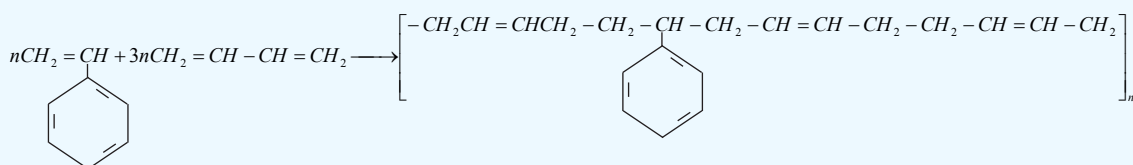
په 1920 ز. کال کې الماني عالم کارل زایګلر (Karl ziegler) لومړی ځل مصنوعي رېر د پولي میرایزېشن تعامل پرېنست د پطروليم له بیوتاداین څخه په لاس راوړ، لاسته راغلی رېر يې په Bu Na وښود، دلته Bu د بیوتاداین او Na له سوډیم څخه نماینده کي کوي کوم چې په دې تعامل کې د کتلست په توګه کارول شوی دی:



1,3-butadiene

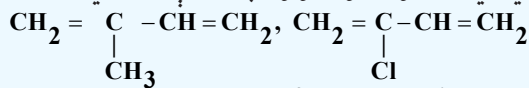
polybutadiene

د بیوتاداین د پولي میر په لاسته راوړلو سره د موټرونو دجوړولو صنعت پرمختګ وکړ چې ټایرونه او د موټرو دننه او باندنيو سامانونو په جوړولو کې له همدې رېر څخه کار اخیستل کېږي. پولي ستیارین - بیوتاداین (Styrene-butadiene) بل مصنوعي رېر دی چې په (SBR) ښودل شوی دی، یو ګو پولي میر دی، دا رېر له دوو بېلابېلو مونو میرونو څخه جوړ شوی دی:



(3_13) شکل: پولي ستیارین بیوتاداین (PolyStyrene-butadiene)

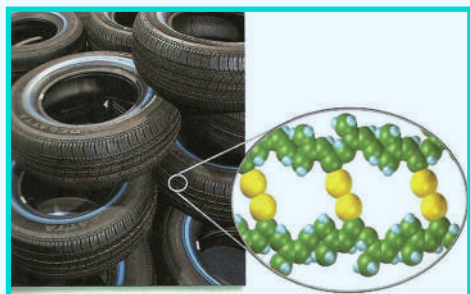
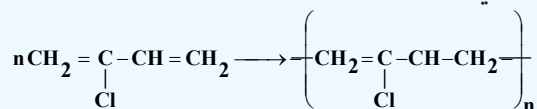
نیوپرین د مصنوعي ربر بل ډول دی چې د طبیعي ربر په ځای له هغه څخه گټه اخیستل کیږي، داربر د 2-کلوروپوتادین (2-chlorobutadiene) له پولي میرایزیشن څخه لاسته راځي او مونومیر یې ایزوپرین ته ورته دي؛ خو د ایزوپرین د میتایل پاتې شوني په کلوروپرین کې په کلورین تعویض شوي دي، د هغوی فورمولونه په لاندې ډول دي:



Isoprene

2-chlorobutadiene

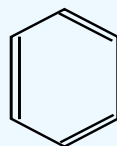
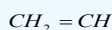
په دې مونومیر کې د کلورین شتون د غوړیو او عضوي محلولونو پر مقابل کې د هغه د کلکوالي د زیاتیدو لامل گرځیدلی دی، د هغه پولي میرایزیشن په لاندې ډول دي:



(4_13) شکل: د موټرونو په تایرونو کې مصنوعي ربر

2_1_13: پولي ستیارین

که د ایتیلین د هایډروجن یو اټوم د بنزین په کړۍ باندې تعویض شي، د ستیارین مونومیر لاسته راځي چې فورمول یې په لاندې ډول دی:

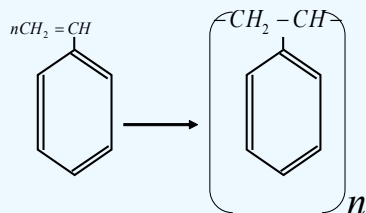


Styrene


د ستیارین له پولي میرایزیشن څخه پولي ستیارین لاسته راځي چې په لاندې ډول ښودل کیږي:

Styrene

Poly styrene



پلاستيکونه له پولي ستیارین څخه جوړ شوي دي، پلاستيکي لوښي او د کور د اړتیا نور توکي له دې پولي میر څخه جوړ شوي دي.



(5_13) شکل: د پولي ستیارین څخه جوړ شوي لوبښي

2_13: متراکم شوي پولي میرونه (Condensation Polymers)

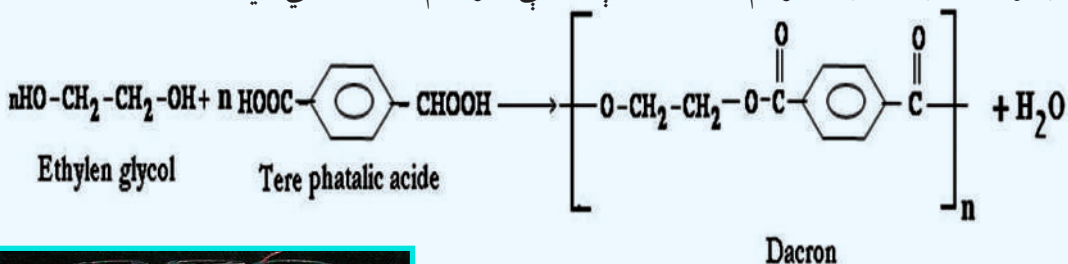
هغه پولي میرونه چې په تیرو لوستونو کې مطالعه شول، د جمعي پولي میرونو له ډولونو څخه دي، په هغوی کې د مونو میرونو ټولې برخې پرته د کمښت شاملې دي؛ خو په متراکم شوو پولي میرونو کې د مونو میرونو ځینې برخې ونډه نه لري، دا جلا شوې برخې په عمومي توګه اوبه دي چې د تراکم د عملیې (Condensation) په واسطه منځ ته راځي.

متراکم شوی پولي میرونه د هغو پولي میرونو له ډولونو څخه دي چې د ترکیبي تعاملونو په واسطه جوړېږي، د دې پولي میرونو مونو میرونه، دوه وظیفه یي ګروپونه لري چې هر مونو میر د همدغو ګروپونو له لارې له دوو نورو مونو میرونو سره اړیکې جوړوي.

متراکم شوي پولي میرونه د کپولي میرونو له ډولونو څخه دي (کو پولي میر د هغو پولي میرونو له ډول څخه دي چې له دوو یا څو بیلا بیلو مونو میرونو څخه جوړ شوي دي).

1-2_13: پولي ایسترونه

پولي ایسترونه؛ لکه دکرون (Dacron) د متراکم شوو پولي میرونو له ډولونو څخه دي چې د ایتیلین ګلايکول او فتالیک اسید له تراکم څخه له لاندې معادلې سره سم لاسته راغلي دي:




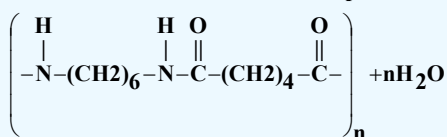
(6_13) شکل: د پولي ایسترونو تارونه

د ایتیلین ګلايکول د هایډروکسیل ګروپ د تري فتالیک اسید د کاربوکسیل له ګروپونو سره تعامل کوي، اوږده زنځیرونه یې د ایستري اړیکو له درلودلو سره جوړ کړي دي، پولي ایتیلین فتالیک په بیلا بیلو برخو کې کارول کېږي، د ټایرونو، قلمونو او بوتلونو په جوړولو کې په کار وړل شوي او هم د هغو کالیو تارونه چې اوتو کولوته اړتیا نه لري، ترې جوړ شوي دي، لاندې شکلونه نوموړي تارونه ښيي:

2_2_13: پولی امایدونه

$$n\text{H}_2\text{N}-(\text{CH}_2)_6-\text{NH}_2 + n\text{HOOC}-(\text{CH}_2)_4-\text{COOH} \longrightarrow$$

Adipic acid

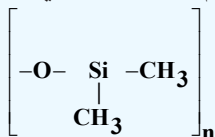


لاسته راغلی پولي مير د دوو بيلا بيلو مونو ميرونو لرونکي دي او يو کو پولي مير دي؛ دا چې هريو مونومير شپږ، شپږ اتومه کاربن لري؛ نو له دې کبله د 6,6- نيلون په نوم يا ډيري، نوموړی پولي مير په 1935م. کال کې د يو عالم په واسطه چې نوم يې والس کروتر (Dr. Wallace carothers) و، لاس ته راغلی، دا پولي مير د کارولو ډېر ځايونه لري، د پولي اميدونو د هغوي له ډلې څخه د نيلون کاليو د جوړولو لپاره ترينه گټه اخيستل کيږي؛ که پولي اميدونو ته وړانگې ورکړل شي، کلک او متراکم (Cross-linking) کيږي او په ډيرو کلکو توکو تبديليږي چې له هغوی څخه د مرميو ضد واسکتونو په جوړولو کې کار اخيستل کيږي.

3_13: ساینس، تکنالوژی او ټولنه

مصنوعي پولې ميرونه د راتلونکو او نن ورځې توکي دي، دا توکي په او سني زمانه کې د کارولو ډېر ځايونه لري او په راتلونکي کې هم د پولې ميرونو بېلابېل ډولونه ترکيب او ورڅخه به گټه واخيستل شي، په اوسني زمانه کې مهم پلاستيکونه ترکيب شوي چې سپک، کلک او د برېښنا تېرونکي دي چې مقاومت يې له هغو فولادو سره يو شان دی کوم چې ورسره هم اندازه دي، که څه هم پلاستيکونو ځينې وړې ستونزې رامنځ ته کړې؛ خو دا ستونزې دومره زياتې او د پام وړ نه دي. په ننني طبابت کې د انسانانو د بدن ځينې غړي چې له هغوی د بدن اصلي غړي خپلې دندې ترسره کولی نه شي او له کاره لويديلي وي، له مصنوعي غړو څخه چې له پولې ميرونو څخه جوړ شوي دي، گټه اخيستل کيږي، په راتلونکي کې کيدای شي چې مصنوعي هلوکي داسې جوړ کړي چې د اصلي هلوکو سره اړيکه ورکړي تر څو د هغوی د ودې لامل وگرځي کوم چې د هغوي سره يې اړيکه تړل شوي ده، همدارنگه زړه، سږي او ځيگر به هم له مصنوعي

پولې میرونو څخه جوړ شي، د زړه والونه هم له مصنوعي پولې میرونو څخه جوړ شوي دي، د انسانانو د بدن بیلای غړي: لکه غوړونه، لاسونه، پښې او د انسانانو د بدن نور غړي په دې وروستیو کې د همدغو مصنوعي پولې میرونو څخه جوړ شوي دي له بدن څخه د بیګانه مواد لریکول، ډیره لویه ستونزه یی انجینرانو او دیزاینرانو ته ورپېښه کړې ده؛ ځکه د انسانانو ځان په سیستم کی بیګانه مواد د ننه نه منی پردې مواد او هغه لري کوي چې مصنوعي غړي هم له همدې پرديو موادو څخه جوړ شوي او طبیعي غړي هغوی ته د تهاجمي موادو په سترګه گوري او لرې کوي یې، هغه مواد د بدن د مصنوعي غړو د جوړلو لپاره مناسب دي چې د دې سیستمونو دلرې کولو دحالت دچمتوالي لامل ونه شي او د هغوی سره روغه جوړه وکړلای شي د مصنوعي توکو لرونکو اعضاو لویه ستونزه داده چې دهغوي همدا برخه د وښي د پرن کیدو لامل گرځي او د وښي عادي بهیر گډوډ وي، د وښي د بهیر چټکتیا په پیوند شوي مصنوعي دیزاین شوي برخه کې ډېر مهم دی، د وښي د غیر نورمالې چټکتیا په دې برخه کې د وښي د پرن کیدو لامل کیږي. د اصلي غړو د برخې او د مصنوعي نښتلي برخې ډېره ښکاره ستونزه، د مصنوعي نښتل شو او د طبیعي برخې دنسجونو تر منځ د اړیکو تړل دي. هغه توکی چې د خوړو په توګه بدن ته وردننه کیږي، د طبیعي نسجونو د یوې برخې د هغوی رشتوي نسجونو د ودې لامل کیږي کوم چی مصنوعي نښلول شوې برخې ته نژدې وي، دا برخه کلکه او ماتېدونکې وي چې د درد رامنځته کېدو، پړسیدو او د طبیعي نسجونو د شړېدو لامل گرځي. هغه مصنوعي پولې میر چې په طبابت کې ډېر په کار وړل کیږي، د سلیکان له رېر څخه عبارت دی چې د (Silastic) په نوم یادېږي او د پولې میر فورمول یې په لاندی ډول دي.



Polydimethylsilotane

هغه غشاوې چې د Polydimethylsilotane څخه جوړې شوي دي، د مصنوعي پوستکي په توګه د سوزیدو د قربانیانو د درملنې لپاره په کار وړل کېږي. د وښي مصنوعي رنگونه د دکرون یا تیفلان (Teflon) له پولې ایستر څخه جوړ شوي دي، په دې اړه د مصنوعي پولې میرونو په لوست کې معلومات وړاندې شوي دي. د پولې وینایل د پلاستیکونو (پولي ایتیلین پلاستیکونو) څخه د اوبو پایپونو په جوړولو، د دیوالونو پوښولو، د دروازو او کرکیو د چوکاټونو په جوړولو، د تودوخې نه تیروونکو او د برېښنایي سامانونو او موادو په پوښولو کې ترې ګټه اخېستل کیږي. له مصنوعي پولې میرونو څخه د الوتکو په د ننه برخو کې ګټه اخېستل کیږي، خو د الوتکو په وزرو کې هم له مصنوعي پولې میرونو څخه چې ترکیبی لږ وزن لري او د کمپوزیټ (Composite) په نوم یادېږي، کار اخېستل کیږي. په اوسنی پېړۍ کې د ټایر لرونکو ماشینونو پرزي له مصنوعي پولې میرو څخه جوړې شوي او ددې امکان شته چې په نژدې را تلونکي پېړۍ کې د موټرونو اسکلپټ هم د کلک پلاستیک چې له کمپوزیټ موادو څخه جوړېږي، په راتلونکو وختونو کې به د برېښنا د هادي پلاستیکو څخه د ماشینونو سپکې بترۍ جوړې شي.

د دې امکان هم شته چې په 21 م. پېړۍ کې یوشمېر داسې پولې میرونه ترکیب شي، کوم چې د ډیرو د حیرانتیا وړ وي، د فوتو سنتیز (photosynthesis) عملیې په پایله کې زمونږ د اړتیا وړ غذايي مواد او اکسیجن لاسته راځي چې په دې موادو کې د لمر انرژي زیرمه او له هغې څخه په ورځنیو حیاتي کیمیاوي تعاملونو کې ګټه اخېستل کیږي. په دې وروستیو پېړیو کې کوښښ شوی چې ترڅو داسې پولې میرونه دیزاین کړي چې د لمر انرژي په نیغه کیمیايي ګټه ورې انرژي تبدیله کړای شي، دیادولو وړ ده داچې زیات مصنوعي پولې میرونه د پترولیم او له طبیعي گاز څخه لاسته راځي چې بنایي د 21 م. پېړۍ تر بای پورې د هغو ټولې زیرمې په لګښت ورسېږي، پوهان کوښښ کوي، ترڅو یې ځای ناستي یې ومومي او له هغو څخه د ګټې اخېستلو زمینه برابره کړي.

13_4: د مصنوعي پولي ميرونو په واسطه د هستوگنې د چاپيريال ککړتيا

پولي ميرونه د هغوی له ډلې څخه پلاستيکونه د هستوگنې د چاپيريال د ککړتيا لامل گرځيدلي دي. په امريکا کې پلاستيکونو د جامدو کثافتاتو د ډيرانونو 20% حجم جوړ کړی دی. او په عمومي ډول يې په پرمختللو هېوادونو کې 90% د جامدو کثافتاتو د ډيرانونو حجم جوړ کړی دی چې لويه ستونزه يې رامنځ ته کړې ده؛ ځکه دا کوټونه په ځمکه کې ښخ شوي او ډېر ځای يې نيولی چې په ځمکې کې د ځای دکموالي لامل گرځيدلي دي. پلاستيکونه له کلکو موادو جوړ دي چې په ډيره موده کې هم نه پوټه کيږي که چيرې دوی لرې واچول شي، له منځه نه ځي: پارکونه، د پلولاړې، لوبې لارې، سيندونه او حتی سمندرونه بندوي چې په سمندرونو کې سمندري ژويو ته حياتي ستونزه رامنځ ته کوي:



(13_9) شکل: د پلاستيکونو ډيران

(13_8) شکل: په سمندرونو کې د پلاستيکونو اچول او سمندري ژويو ته د هغوی زيان

په عمومي ډول پلاستيکونه په دوه ډوله دي چې يو ډول يې بکټرياوو په واسطه پوټه کيږي او د (Biodegradable) په نوم ياديږي، دا پلاستيکونه د نشايستې له پولي ميرونو څخه جوړ شوي دي.

دويم ډول پلاستيک د بکټرياو په واسطه نه پوټه کيږي او د (Nonbiodegradable) په نوم يا ديږي. دې ډول پلاستيکونو د اوسېدلو په چاپيريال کې د پام وړ ستونزې رامنځته کړي دي، دا ډول پلاستيکونه له منځه نه ځي، خو پارکونه، د پلولاړې، لوبې لارې، سيندونه او حتی سمندرونه بندوي چې په سمندرونو کې د ژوندانه ستونزې رامنځ ته کوي او د تل لپاره هم پاتې کيږي چې د دوی بېلگې کيدای شي پولي ايتيلين، پولي اکريليت، پولي ستيرين، تفلان او پولي بيوتا داین وړاندې شي. د مصنوعي پولي ميرونو له کبله د رامنځ ته شوې ستونزې د لرې کيدو لپاره، هغوی ته له سره دوران ورکوي او بيا ترې گټه اخېستل کېږي چې ورڅخه پلاستيکونه جوړوي. له پلاستيکونو څخه راپيدا شوو ستونزو د حل بله لاره دا ده چې هغوی سوزول کيږي او د هغوی د تودوخې څخه انرژي لاسته راځي، خو د پلاستيکونو او رېرونو سوزول د پام وړ نورې ستونزې رامنځ ته کوي، هغه دا چې زهري مواد، د کاربن ډای اکسايډ گاز (CO_2)، کاربن مونواکسايډ (CO)، سلفر ډای اکسايډ (SO_2) او هايډروجن کلورايد (HCl) توليد وي چې د هوا دککړتيا لامل گرځي. ددې ستونزې دحل يوازينی لاره دا ده چې بايد له هغو ډولو پلاستيکو څخه گټه واخېستل شي کوم چې د بکټرياوو په واسطه پوټه کيدلای شي.

د پلاستيکونو سوداگري

د پلاستيکو د کوټونو سوداگري د استوگنې د ساتلو له کبله خورا ډېر اهميت لري، دا چې پلاستيکونه له نفتي موادو څخه جوړ شوي دي، د نفتو بېرته جوړونه ستونزمنه ده؛ نو د پلاستيکو سوداگري او بيرته جوړښت يې د نفتو شتون ته مرسته کوي. ډيرې د سوداگري او د پلاستيکونو د بيا کارولو لارې شته دي چې يوه يې د هغوی

ټوټې، ټوټې کول او د هغوی د بېلابېلو ډولونو مخلوط کول دي؛ په دې لارې پلاستيکونه وروسته له مینځلو بیا وچوي او له نورو توکو سره یې مخلوط وي چې له هغوی څخه د پلاستيکو پانې په لاس راوړي. د غیر الکولي مشروباتو پلاستيکي بوتلونه، وروسته له مینځلو ټوټه، ټوټه کوي او له هغوی څخه د پلاستيکي لوبڼو په جوړولو کې گټه اخلي. همدارنگه د بېلابېلو مرکبونو د پلاستيکونو د مخلوطونو له ډولونو له ټوټه، ټوټه کولو څخه وروسته څوکی، میزونه، گلدانې، سطلونه او نور لوښي جوړوي.

فکرو کړئ

1_ د څښلو شربتونو د اخیستلو په وخت کې به تاسې د خپلو کور، د څښلو لپاره لاندیني کوم ډول بوتلونه (الف او یا که ب) وټاکئ؟

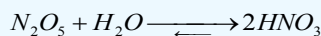

(10_13) شکل: د څښلو بوتلونه د بېلابېلو کتلو سره

2_ که چېرې پلاستيکونه په لاندې طریقه له منځه یوسو، کومې ستونزې به په پای کې ولری؟
الف_ سوځول ب_ د خاورو لاندې کول.

3_ د څښلو د شربتونو د بوتلونو جوړولو یوه فابریکه د څښلو د شربتونو د بوتلونو کتله یې له 68 گرامو څخه 51 گرامو ته راټیټوي، ستاسې په خیال د فابریکې د کار کوونکو دا کړنه څه گټې به د څښلو د شربتونو د بوتلونو د جوړولو کارخانې ته، اخیستونکو ته همدارنگه کیمیايي سرچینو او د استوگنې ځایونو ته ولري؟

د هوا اکړتیاوې او تېزابي بارانونه

د سوزولو معدني توکي؛ لکه: نفت، د ډبرو سکاره او نور د هوا د ککړتیا سرچینې دي. د مصنوعي او طبیعي بیلابیلو پولي میرونو له سوزیدلو له امله د هوا په اتموسفیر کې بېلابېل گازونه ازادېږي چې د هوا د ککړتیا لامل گرځي، له دې ازادو شویو گازونو څخه ځینې یې د باران له څاڅکو سره مخلوط کیږي او د تېزابي بارانونو د وریدو لامل گرځي، دا گازونه عبارت له SO_2 او د نایتروجن اکسایدونه (NO_x) دي، دا گازونه له هوا څخه درانه دي، ځمکې ته ښکته راځي. دا گازونه ډېر زیات د هغو تولیدي فابریکو څخه ازادېږي، کوم چې لوړ لوگي وتونکي نلونه لري چې د باران د اوریدو په موده د باران څاڅکو سره حل او د بېلابېلو تېزابونو د جوړیدو لامل گرځي، جوړشوي تېزابونه د ځمکې د مخ د تخریبونو لامل گرځي، نباتاتو او حیواناتو ته تاوان رسوي؛ د بیلگې په ډول: کاربن ډای اکساید، د سلفر او نایتروجن اکسایدونه له لاندې معادلو سره سم د باران له اوبو سره تعامل کوي او تېزابونه جوړوي:



دا جوړ شوي تېزابونه اوبو ته یوځای او په ویالو، سیندونو او سمندرونو کې بهیري چې د اوبو په دننه کې حیواناتو او نباتاتو ته زیان رسوي، تر دې کچې چې د هغوی د مړینې لامل ګرځي. په لاندې شکل کې لیدل کېږي چې د تېزابي بارانونو اوریدل د کرنیزو خاورو په معدني موادو باندې اغیزه کوي او په مالګو یې تبدیلوي، دا مالګې په اوبو کې حلېږي او له اوبو سره یوځای د ځمکو په ژورو برخو کې ښکته ځي چې د نباتاتو د اړتیا وړ مواد کم او له منځه ځي. په تېزابي اوبو کې د اټک پوډر اچوي چې په دې صورت کې تېزابونه خنثی او اړونده pH لاسته راځي:



(11_13) شکل: د اسکاندیناویا تېزابي سیند کې د چوڼي د ډبرو د پوډرو په واسطه د هغه د تېزابونو خنثی کول

فکروکړئ

په نړۍ کې د SO_2 د تولید سطحه د لوړیدو په حال کې ده، لاندې جدول د SO_2 د تولید د سطحې بدلونونه په درې لویو وچو کې ښیي، ستاسو په خیال زموږ د ګران هیواد لپاره دا کچې څه پېښې رامنځ ته کولی شي او هم په 2010 م. کال کې د وړاندوینې پر بنسټ د SO_2 د کچې د لږوالي لپاره د کومو لارو وړاندیز کوئ؟ (2_13) جدول د نړۍ په درې لویو وچو کې د SO_2 د تولید سطحه په میلیون ټن

کال	1980	1990	1995	2000	2010
اروپا	59	49	31	26	18
امریکا	24	20	16	15	14
آسیا	15	34	40	53	79

د ککړتیاوو مخنیوی

د موادو د سوزیدلو پر ځای د انرژي د لاسته راوړلو په موخه سمې لارې لټول؛ د بیلګې په ډول: د لمر له انرژي څخه ګټه اخیستنه، د SO_2 د جوړوونکو موادو د سوزولو کموالی، ککړتیاو د کنټرول لګښت برابرول، د ککړتیاوو مخنیوی کوي.

د دیار لسم څپرکي لنډیز



* که چیرې د پولی میرونو واحدونه (مونو میر) یو له بل سره یوځای شي، داسې پولی میرونه لاس ته راځي چې د جمعي پولی میرونو له ډولونو څخه دي.

* مونو میرونه هغه مواد دي چې د هغوی د مالیکول په جوړښت کې د جوړوونکو عنصرنو اتومونو تر منځ دوه گونې اړیکه شتون لري او دا دوه گونې اړیکه د پولی میرازیشن (Polymerization) د عملي په واسطه په یوه گوني اړیکه بدلون مومي:

* که چیرې د ایتیلین مالیکولونه د تودوخې په 250°C او په $1000 - 3000\text{atm}$ فشار او د عضوي پر اکسایدونو په شتون کې پولی میرازیشن شي، پولی ایتیلین (Polyethylene) لاسته راځي.

* له طبیعي مهمو پولی میرونو څخه یو هم ربر دی چې د ایزوپرین (Isoprene) د مونو میر د رادیکالي تعامل په بهیر کې لاسته راځي، د ایزوپرین دوه ډوله پولی میرونه شته چې د هغوی د ایزومیرونو پورې تړلي دي او هغه عبارت د سیس او ترانس (cis and trans) ایزومیري دي.

* په متراکم شوو پولی میرونو کې د مونومیرونو ځینې برخې سهم نه لري، دا جلا شوې برخې په عمومي توګه اوبه دي چې د تراکم د عملي (Condensation) له امله منځ ته راځي.

* پولی ایسترونه؛ لکه دکرون (Dacron) د متراکم شوو پولی میرونو له ډولونو څخه دي چې د ایتیلین گلایکول او فتالیک اسید له تراکم څخه لاسته راغلی دی.

* پولی امایدونه د متراکم شوو پولی میرونو ډول دی چې د هغوی په مالیکولونو کې امایډي اړیکه شتون لري، د دې ډول پولی میرونو بڼه بیلګه د 6, 6- نیلون (6,6-nylon) دی.



* په ننني طبابت کې د انسانانو د بدن ځینې غړي چې خپلې دندې نه شي تر سره کولی او له کاره لویدلې وي، له مصنوعي غړو څخه چې له پولی میرونو څخه جوړ شوي وي، ګټه اخېستل کېږي.

* له مصنوعي پولی میرونو څخه د الوتکو په دنده برخو کې ګټه اخېستل کېږي، خو د الوتکو په وزرو کې هم له مصنوعي پولی میرونو څخه چې ترکیبي لږ وزن لري او د کمپوزیت (Composite) به

نوم یادېږي، کار اخېستل کېږي.

* د دې امکان هم شته چې په 21 م. پېړۍ کې یو شمېر داسې پولي میرونه ترکیب شي، کوم چې د ډیرې حیرانتیا وړ وي، د فوتو سنتیز (Photosynthesis) عملیې په پایله کې زمونږ د اړتیا وړ خوړو مواد او اکسیجن لاسته راځي چې په دې موادو کې د لمر انرژي ذخیره او له هغې څخه په ورځنیو حیاتي کیمیايي تعاملونو کې ګټه اخېستل کېږي. په دې وروستیو پېړیو کې کوشنې شوی چې داسې پولي میرونه دیزاین کړي چې د لمر انرژي نېغ په نېغه په کیمیايي ګټې لرونکي انرژي تبدیله کړای شي.

د دیارلسم څپرکي پوښتنې:

څلور ځوابه پوښتنې

1- که چېرې د..... د پولي میرونو واحد یو له بل سره یو ځای شي پولي میرونه حاصلیږي چې د..... پولي میرونو ډول دی.

الف- جمعي، مونومیر ب- جمعي، ډای میر ج- متراکم شوی مونومیرونه د- هېڅ یو.

2- پولي میرونه هغه مواد دي چې له..... څخه جوړ شوی دي.

الف- ډای میرونو ب- تراي میرونو ج- مونو میرونو د- ترا میرونو.

3- د پولي ایتیلین فورمول عبارت دی له:

الف: $-(CH_2 - CH_2)_n$ - ب: $CH_2 = CH_2$ ج: $CH_2 = CH - CH_3$ د- هېڅ یو

4- لوړ کثافت لرونکي پولي ایتیلین (High-density poly ethylene) په..... ښودل کېږي.

الف- LDPE ب- CPE ج- الف او ب دواړه د- HDPE

5- طبیعي رېږ د..... د رایکالي مونو میرونو له تعامل څخه لاسته راځي:

الف- ایزوپرين ب- Isoprene ج- الف او ب دواړه د- مونومیر ایتیلین

6- د سلفر او طبیعي رېږ تعامل د..... تعامل په نوم یادېږي.

الف- ایزومېرایزیشن ب- Vulcanisation ج- جمعي د- پولي میرایزیشن

7- نیوپرين د مصنوعي رېږ یو بل ډول دی چې له..... پولي میرایزیشن څخه لاسته راځي.

الف- *chlorbuta diene* - 2 ب- کلوروپوتای دای یین ج- 2- کلوروپوتای دای یین

د- الف او ج دواړه

8- د پلاسکو لوبښی او د کورنور د اړتیا مواد له..... څخه جوړ شوي دي:

الف- بولي ایتیلین ب- پلاستیکونه ج- بولي ستیارین د- بولي امیدونه

9- متراکم شوي بولي میرونه د هغو بولي میرونو ډولونه دي چې د..... تعاملونو په واسطه جوړېږي.

الف- ترکیبی ب- جمعي ج- د سون د- جلاکیدلو

10- په بولي امیدونو او د هغوی په مالیکولونو کې (.....) اړیکه شته ده:

الف- امیدي اړیکه ب- $\begin{array}{c} \text{H} \quad \text{O} \\ | \quad || \\ \text{N} - \text{C} \end{array}$ ج- الف او ب دواړه د- هیڅ یو

11- په متراکم شوو بولي میرونو کې د..... ځینې برخې شاملې نه دي:

الف- مالیکول ب- اتوم ج- مرکب د- مونومیر

12- مصنوعي بولي میرونه چې په طبابت کې ډېر په کار ورل کېږي، عبارت له..... څخه دي،

الف- Silastic ب- د سلیکان رېر ج- الف او ب دواړه د- هیڅ یو

13- د وینې مصنوعي رنگونه له..... څخه جوړ شوي دي.

الف- بولي ایستر، دکرون، ب- تفلان ج- Teflon د- ټول ځوابونه سم دي

14- د طیارو په وزرونو کې ترکیبي کم وزن لرونکي بولي میرونه له..... څخه گټه اخلي.

الف- کمپوزیټ ب- (Composite) ج- الف او ب دواړه د- هیڅ یو

15- د ټیپ، ویدیو او نورو په جوړلو کې له لاندې بولي میرونو څخه کوم یو په کار ورل کېږي ؟

الف- میلر ب- Mylar ج- نیلون 6,6 د- الف او ب

16- دکرون (Dacron) د متراکم شوو بولي میرونو له ډولونو څخه دي چې د..... تراکم له امله ترلاسه شوي

دي:

الف- ایتیلین گلایکول ب- فتالیک اسید ج- الف او ب دواړه د- ایتیلین

تشریحي پوښتنې:

- 1_ د پولي میرایزیشن (Polymerization) عملیه روښانه او د دوه گونې اړیکې بدلون په یو گونې اړیکه تشریح کړئ.
- 2_ د ایزوپرین دوه ډوله پولي میرونه چې د هغو له ایزو میرونو پورې اړه لري، تشریح کړئ.
- 3_ د ستیارین له پولي میرایزیشن څخه کوم پولي میر ترلاسه کیږي؟ په دې اړوند معلومات وړاندې کړئ.
- 4_ د کرون (Dacron) کوم ډول پولي میر دی؟ د کومو مونومیرونو له تراکم څخه لاسته راځي؟ د هغه د پولي میرایزیشن معادله ولیکئ.
- 5_ د Poly di methylsilotane او د هغه د استعمال د ځایونو په اړه معلومات وړاندې کړئ.
- 6_ د مصنوعي پولي میرونو او په ننني عصر کې د هغو د رول په هکله په صنعت کې او د راتلونکو موادو په جوړولو او دهغو د کارولو په هکله لازم معلومات وړاندې کړئ.
- 7_ پولي ایسترونه؛ لکه د کرون (Dacron) کوم ډول پولي میر دي؟ په دې اړه معلومات ورکړئ.
- 8_ د طبیعي او مصنوعي ربړ ترمنځ توپیر د بیلگو په وړاندې کولو سره روښانه کړئ.
- 9_ د پولي ایتیلینو بېلابېل شکلونه روښانه او د هغوی د کارولو ځایونه د بیلگو په واسطه څرگند کړئ.
- 10_ کوم پولي میرونه د استوگنې د ځایونو د لا زیاتې ککړتیاوو لامل ګرځي؟ په دې هکله معلومات وړاندې کړئ.

- 1- K. Peter, C.Vollhardt, Organic Chemistry, Fourth Edition ,2003, US
- 2- Ovorak, Schmutu.a. von der Chemier 2, 1996 by E.DORNER GmbH, 1010 wien, Austria.
- 3- Pribas, Hagenauer, Markl, Zadrazil Chemie,aktuell , 1. Auflage, 2006, Austria.
- 4- Dr. Franz Neufingerl, Otto Urban, Dr. Martina viehhauser, Chemie 2
- 5- Franz Neufingerl, Chemie istuberall 4, 2006 westermann wien,im Verlag E. DORNER GmbH, Austria.
- 6- ZANBAK YAYINLARI, Hydrocarbons, 2006, Chemistry series.
- 7- ZANBAK YAYINLARI, Oxygen and Nitrogen Containing, organic Compounds,2005 , chemistry series.
- 8- KOYZ and TREICHEL, Chemistry and Chemical Reactivity, fourth Edition, 1999, USA.
- 9- Williams S.Seese, G. William Daub, Basic Chemistry, Fifth Edition, 1988, USA.
- 10- HOLT, RINEHART and WINSTON, MODERN Chmistry, 2002, USA.
- 11- Raymond Chang, General Chemistry, Third Edition, 2003, USA.
- 12- David E. Goldberg, Fundamentals of Chemistry, Ghird Edition, 2001, USA.
- 13- Steven S. Zumdahl, Chemistry, Third Edition, 1993, USA.
- ۱۴- شیمی (۲) و آزمایشگاه، منصور عابدینی و دیگران، وزارت آموزش و پرورش، سال دوم دبیرستان، ۱۳۸۵ تهران.
- ۱۵- کیمیای عمومی. مولف: پوهندوی دیپلوم انجنیر عبدالمحمد عزیز، د کابل پوهنتون، ۱۳۸۷ کال.