



د افغانستان اسلامي جمهوریت  
د پوهنې وزارت  
د تعلیمي نصاب د پراختیا لوی ریاست

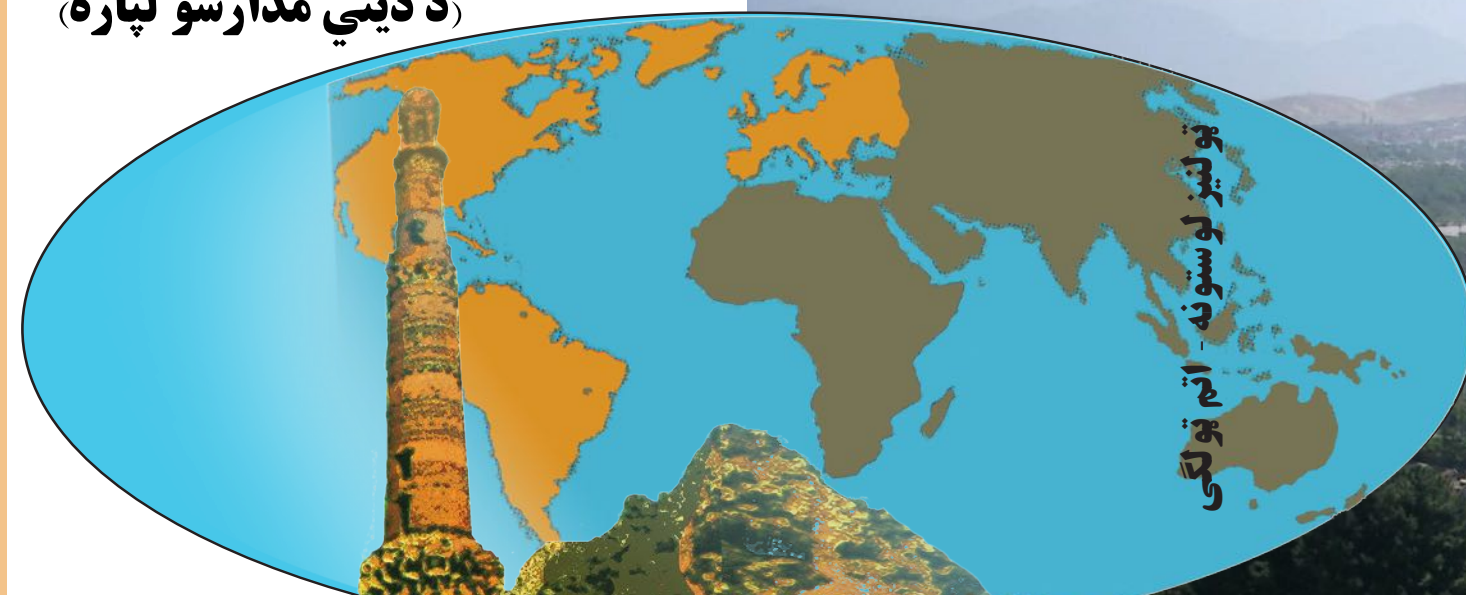
# ټولنیز لوستونه

درسي کتابونه د پوهنې په وزارت پورې اړه لري، پيرودل  
او پلورل يې منع دي.

curriculum@moe.gov.af

## اتم ټولگی

(د ديني مدارسو لپاره)



۱۳۹۸  
ه. ش





د افغانستان اسلامي جمهوریت  
د پوهنې وزارت  
د تعلیمي نصاب د پراختیا لوی ریاست

# ټولنیز لوستونه

## اتم ټولگی

(د دیني مدارسو لپاره)

۱۳۹۸  
ش.۵



## مؤلفين

- سر مؤلف، عبدالغياث غوري (د تاريخ برخه)
- مؤلف عبدالملك عابد (د تاريخ برخه)
- د مؤلف مرستياله، ستوري سادات (د تاريخ برخه)
- سرمؤلف محمد رفيق مومند (د جغرافيه برخه)
- محمد فاروق عمرخيل (د مدني زده كړې برخه)
- مؤلف محمد انور مشفق (د مدني زده كړې برخه)
- سرمؤلف محمد افضل حضرتي (د مدني زده كړې برخه)

## مسلكي ايديت:

- پوهنمل زلمی هوتک (د تاريخ برخه)
- پوهاند غلام جيلاني عارض (د جغرافيه برخه)
- مير عبیدالله فاضل (د مدني زده كړو برخه)

## د ژبې ايديت:

- سرمؤلف امين الله نژند
- مؤلف اقا محمد گړندی
- مؤلف محمد قدوس دکوخیل

## دیني، سياسي او کلتوري کمېټه:

- دکتور عبدالصبور فخري
- حبيب الله راحل د تعليمي نصاب د پراختيا په رياست کې د پوهنې وزارت سلاکار.

## إشراف

- دکتور شیر علي ظریفی د تعليمي نصاب د پراختيا د پروژې رئیس.

# بِسْمِ اللّٰهِ الرَّحْمٰنِ الرَّحِیْمِ



## ملي سرود

دا وطن افغانستان دی	دا عزت د هر افغان دی
کور د سولې کور د تورې	هر بچی یې قهرمان دی
دا وطن د ټولو کور دی	د بلوڅو د ازبکو
د پښتون او هزاره وو	د ترکمنو د تاجکو
ورسره عرب، گوجر دي	پامیریان، نورستانیان
براهوي دي، قزلباش دي	هم ایماق، هم پشه بان
دا هېواد به تل ځلېږي	لکه لمر پر شنه اسمان
په سینه کې د اسیا به	لکه زړه وي جاوېدان
نوم د حق مو دی رهبر	وايو الله اکبر وايو الله اکبر



## د پوهنې د وزیر پیغام

الحمد لله رب العالمين والصلوة والسلام على رسوله محمد و على آله و أصحابه أجمعين، أما بعد:  
د پوهنې تعليمي نصاب د ښوونې او روزنې د نظام بنسټ جوړوي او د هيواد د اوسنيو او راتلونکو نسلونو په علمي، فكري او سلوكي ودې او پراختيا كې بنسټيز او ارزښتمن رول لري.

تعليمي نصاب بايد د وخت په تېرېدو او د ژوندانه په بېلابېلو ډگرونو كې له بدلون او پرمختگ او د ټولنې له اړتياوو سره سم، هم د مضمون او محتوا او هم د معلوماتو د وركړې د لارو چارو له مخې، بدلون او پراختيا ومومي.

د تعليمي نصاب په ډگر كې يو هم د اسلامي زده كړو نصاب دی چې بيا كتنې او ودې ته يې جلدې اړتيا ليدل كېده؛ ځكه له يوې خوا بايد د ديني مدرسو فارغان د ټولنې د معنوي مخكښانو په توگه د معارف د هڅو د پوره پام وړ وگرځي او له بلې خوا د ديني مدرسو په نصاب كې د اسلام د سپېڅلي دين عقايد، احكام او لارښوونې راغلې دي چې د انساني ژوند د ټولو اړخونو بشپړ نظام او قانون او د نړۍ د خالق او پرودگار د وروستني پيغام په توگه د قيامت تر ورځې پورې، د بشريت د لارښوونې دنده سرته رسوي.

د اسلامي امت عالمانو د تاريخ په اوږدو كې د اسلامي معارف او د اسلامي تعليماتو د سيستم په رامنځته كولو، پراختيا او بياينه، په تېره بيا د اسلامي نړۍ د علمي مركزونو او مؤسسو د تعليمي نصاب په تدريجي وده كې، خپله دنده سرته رسولې ده.

د اسلامي علومو تاريخ ته كره كتنه، دا څرگندوي چې د ديني مدرسو او علمي مركزونو نصاب تل د اسلام د تلپاتې او ثابتو احكامو پر بنسټ، د ټولنې له اړتياوو سره سم، هر وخت او هر ځای پراختيا موندلې ده.

زموږ گران هيواد افغانستان د علمي ځلانده تاريخ په درلودلو سره د علم او پوهې زانگو او د وخت لوی علمي مركز و چې د اسلامي ستر تمدن په جوړښت كې يې مهم رول درلود. د علم او فرهنگ په مختلفو ډگرونو، په ځانگړې توگه د عقايدو، تفسير، حديث، فقهې او د فقهې د اصولو په څېر په شرعي علومو كې د زرگونو پوهانو او عالمانو شتون، زموږ ددې وينا پخلى كوي.

په اوسني عصر كې د اسلامي وښتابه له پراختيا سره سم زموږ په هېواد كې اسلامي زده كړو د څومره والي او څرنگوالي له مخې زيات بدلون موندلی او د هېواد كوچنيان او ځوانان په ډېره مينه او ليوالتيا د اسلامي زده كړو مركزونو او مدرسو ته مخه كوي.

د افغانستان د اسلامي جمهوريت د پوهنې وزارت د خپل مسؤوليت او دندې له مخې د هېواد له اساسي قانون سره سم د اسلامي زده كړو د كيفي او كمې پراختيا او په هغې كې د اسلامي زده كړو د نصاب په اړه د پام وړ گامونه پورته كړي دي. په دې لړ كې د پوهنې وزارت، د هېواد د ډاډ وړ تجربه لرونكو عالمانو، استادانو او متخصصانو څخه په بلنه د ديني مدرسو د تعليمي نصاب، د لارښوونو لپاره، مروج كتابونه، د متنونو د شرحې او توضيح او د فعاليتونو، ارزونو او تمرينونو په وړزياتولو د درسي كتابونو له نويو معيارونو سره سم چمتو كړل.

هيله من يم، د پوهنې وزارت د عالمانو او متخصصانو د ستاينې وړ دا هڅې، په افغانستان كې د اسلامي زده كړو د لار پراختيا او بياينې او د لوی خدای جل جلاله د رضا د ترلاسه كولو لامل شي.

وبالله توفيق

دكتور محمد ميرويس بلخي

د پوهنې وزير



## مقدمه

### قدرمنو ښوونکو او گرانو زده کوونکو!

د دیني مدارسو د اجتماعياتو درسي کتاب د افغاني ټولني د اړتياوو، د معارف د محترم وزارت د پالیسي د نصاب د لیکنې فن او معاصرو معیارونو او درسي مفرداتو د افقي او عمودي تسلسل په پام کې نیولو سره لیکل شوي دي. د دیني مدارسو د اجتماعياتو په مضمون کې پر تاریخي مطالبو سربېره د جغرافیه او مدني معلوماتو مفاهیم شتون لري. د تاریخ په برخه کې هڅه شوې چې د دیني مدرسو زده کوونکي د زده کړې په وخت د افغانستان او نړۍ له لرغوني تاریخ، منځنیو پیړیو، نوې پیړۍ او معاصرو پېښو سره پېژندگلوي او معلومات تر لاسه کړي او هم پدې پوه شي چې انسانانو په ټوله نړۍ په ځانگړې توگه په افغانستان کې کوم تاریخي پړاوونه تیر کړي دي او په راتلونکې کې ښایي څرنگه چلن وکړي.

د جغرافیه په برخه کې د علمي اړتیاوو په پام کې نیولو سره علمي مطالب داسې توضیح شوي چې زده کوونکي د موقعیتونو، طول البلد، عرض البلد، غرونو، سیندونو، جهیلونو، بحرونو، کرنې، څارویو، معادنو، ځمکنی، بحري او فضایی ترانسپورت، اوبو او هوا، نژاد، ژبو، مذهب، لویو وچو او هېوادونو په اړه معلومات تر لاسه کړي چې د ژوند په سمون کې له هغه څخه گټه پورته کړي.

د مدني معلوماتو په برخه کې د بشري ټولنو، ارزښتونو، مقرراتو او قوانینو، اعتقاداتو، اقتصاد، سازمانونو، ټولنو، جوړښتونو او د مادي او معنوي اړتیاوو په اړه لازمي او اړین مطالب توضیح شوي چې زده کوونکي په ورځنیز ژوند کې ورڅخه گټه پورته کولای شي.

د اجتماعياتو د مضمون د یوې بشپړې دورې (له اووم څخه تر دوولسم ټولگي پورې) له زدکړې وروسته تمه کېږي چې د دیني مدرسو زده کوونکي د ټولنیزو علومو په مبادیو او اساساتو پوه شي، د دې علم له مهمو اصطلاحاتو سره آشنایي تر لاسه کړي. د هیواد او نړۍ د ورځنیو پېښو په خبرونو وپوهیږي، سیاسي اقتصادي او ټولنیزې پېښې تجزیه او تحلیل کړای شي او پایله ورڅخه واخیستلای شي او په دې توگه په ټولنه کې فعال غړي شي او د دیني او اجتماعي علومو په یو ځای کولو سره د خدای (ج) د دین ریښتیني او اغیزمن مبلغین ورڅخه جوړ شي.

هیله کېږي چې د دغه مضمون محتویات د دیني مدرسو د استادانو لپاره په زړه پورې او زده کوونکو ته یې د ټولنیزو معلوماتو یوه گټوره منبع وگرځي.

و الله ولي التوفيق



### لومړۍ برخه: تاریخ لومړی څپرکی (د اسلام د راتګ لومړي وختونه)

- د اسلام د راتګ پر مهال د نړۍ حالت ته کتنه ..... ۴-۱
- عربستان د اسلام د ظهور په درشل کې ..... ۶-۵
- د عربستان په ټاپو و زمه کې د اسلام د سپیڅلي دين د ظهور اړتیا ..... ۸-۷
- حضرت محمد ﷺ له زېږېدو تر بعثت پورې ..... ۱۲-۹
- حضرت محمد ﷺ له بعثته تر هجرت په پورې ..... ۱۴-۱۳
- حضرت محمد ﷺ له هجرت تر رحلت په پورې ..... ۱۶-۱۵
- د حضرت محمد ﷺ مهمې غزاګانې او پېښې ..... ۲۲-۱۷

### دویم څپرکی (خلفای راشدین)

- د خلافت معنا او مفهوم ..... ۲۶-۲۳
- د خلافت د جوړېدو سریزه ..... ۲۸-۲۷
- د حضرت ابوبکر صدیق رضی الله عنه خلافت ..... ۳۰-۲۹
- د حضرت عمر فاروق رضی الله عنه خلافت ..... ۳۲-۳۱
- د حضرت عثمان رضی الله عنه خلافت ..... ۳۴-۳۳
- د حضرت علي رضی الله عنه خلافت ..... ۳۶-۳۵

### دویمه برخه: جغرافیه لومړی څپرکی (اروپا)

- د اروپا لویه وچه وپېژنئ ..... ۴۰-۳۹
- د اروپا طبیعي جغرافیه ..... ۴۲-۴۱
- د اروپا سیاسي جغرافیه ..... ۴۴-۴۳
- د اروپا بشري جغرافیه ..... ۴۶-۴۵
- د اروپا ژبې او نژادونه ..... ۴۸-۴۷
- په اروپا کې دین او مذهب ..... ۵۰-۴۹
- د اروپا اقتصادي جغرافیه ..... ۵۲-۵۱
- د اروپا کانونه او صنایع ..... ۵۴-۵۳
- د اروپا ترانسپورت ..... ۵۶-۵۵
- هوایي کرښې ..... ۵۸-۵۷



## دویم څپرکی (د امریکا لویه وچه)

- د امریکا د لویې وچې د جغرافیایي موقعیت په هکله څه پوهېږئ؟ ..... ۶۴-۶۳
- امریکا څه وخت او د چاله خوا کشف شوه؟ ..... ۶۶-۶۵
- د امریکا سیاسي جغرافیه ..... ۶۸-۶۷
- د امریکا بشري جغرافیه ..... ۷۰-۶۹
- د امریکا نفوس او مذهبونه ..... ۷۲-۷۱
- د امریکا اقتصادي جغرافیه ..... ۷۴-۷۳
- لاتینه امریکا ..... ۷۶-۷۵
- د امریکا مواصلا تي جغرافیه ..... ۷۸-۷۷
- ۱- شمالي امریکا ..... ۷۸-۷۷
- ۲- سوېلي امریکا ..... ۸۰-۷۹

## درېمه برخه: مدني زده کړې لومړی څپرکی (اقتصاد)

- ولې د اقتصاد علم زده کوو؟ ..... ۸۶-۸۵
- د اقتصاد علم د کومو موضوعگانو په باره کې بحث کوي؟ ..... ۸۸-۸۷
- د اقتصاد ارزښت ..... ۹۰-۸۹
- د څیزونو او خدمتونو اقتصادي مفهوم ..... ۹۲-۹۱
- مصرفي او پانگه ییز څیزونه ..... ۹۴-۹۳
- تولید، توزیع او مصرف ..... ۹۶-۹۵
- عرضه او تقاضا ..... ۹۸-۹۷
- د پیسو اهمیت او دندې ..... ۱۰۰-۹۹

## دویم څپرکی (ښوونه او روزنه)

- ښوونه او روزنه څه ته وايي؟ ..... ۱۰۴-۱۰۳
- په افغانستان کې د ښوونې او روزنې لنډ تاریخ ..... ۱۰۶-۱۰۵
- په ښوونه او روزنه کې د کورنۍ رول ..... ۱۰۸-۱۰۷
- په ښوونه او روزنه کې د مدرسې ونډه ..... ۱۱۰-۱۰۹
- په ښوونه او روزنه کې د چاپیریال اغېزه ..... ۱۱۲-۱۱۱
- ټولنیزه او اخلاقي روزنه ..... ۱۱۴-۱۱۳
- د اړینو پوهو او مهارتونو زده کول ..... ۱۱۶-۱۱۵
- د نوښت د روحيې روزنه ..... ۱۱۸-۱۱۷



# د تاريخ برخه

## لومړی څپرکی



### د اسلام د راتگ لومړي وختونه

په دې څپرکي کې به د اسلام د راتگ پر مهال د نړۍ د حالت، د عربستان د ټاپووزمې، د اسلام د سپېڅلي پيغمبر حضرت محمد (صلي الله عليه وسلم) د ژوند او د اسلام د پيل د تاريخ په اړه په لنډ ډول بلدتيا پيدا کړئ.



# د خپرکي موخې

هيله کېږي چې زده کوونکي د دې خپرکي په پای کې لاندې (پوهنیزو، مهارتي او ذهنيتي) موخو

ته ورسېږي:

- ۱- د اسلام د سپېڅلي دين د را تگ پر مهال د نړۍ او د عربستان د ټاپووزمې له عقيدتي، سياسي او ټولنيز حالت سره پېژندگلوې پيدا کړي.
- ۲ - د حضرت محمد ﷺ ، له ژوندانه سره پېژندگلوې پيدا کړي.
- ۳ - د هغه مهال پېښې تحليل کړای شي.
- ۴ - د هغه مهال پېښې له يو بل سره پرتله کړای شي.
- ۵ - په عملي ژوند کې د اسلام له ښېگڼو څخه خوند واخلي.
- ۶ - له هغه هر څه چې د اسلام د سپېڅلي دين پر خلاف دي، لرې والي پيدا کړي.



## د اسلام د راتګ پر مهال د نړۍ حالت ته کتنه

د اسلام د سپیڅلي دین د راتګ پر مهال د نړۍ حالت له سیاسي، عقیدتي، اقتصادي او ټولنیز پلوه ډېر کرکېچن او یو بنسټیز بدلون ته اړتیا وه. د اروپا وضعه د منځنیو پېړیو له پیل څخه د اسلام تر راتګه پورې د بېلګې په توګه په لنډ ډول تر څېړنې لاندې نیسو:

### د منځنیو پېړیو له پیل څخه د اسلام تر راتګ پورې د اروپا سیاسي وضعه

اروپا د منځنیو پېړیو له پیل څخه تر اتمې او نهمې زېږدیزې پېړۍ پورې تل د بربر قومونو تر تېریو لاندې وه او دغو قومونو د روم پر خاوره تېری وکړ. په پایله کې د هغوي د پرله پسې یرغلونو له امله لوېدیځ روم په (۴۷۶) زېږدیز کال کې له منځه لاړ، یوازې ختیځ روم چې مرکز یې قسطنطنیه (استانبول) و، تر پنځلسمې زېږدیزې پېړۍ پورې دوام وکړ او په (۱۴۵۳ زېږدیز) کال کې د سلطان محمد فاتح له خوا فتح شو.

د منځنیو پېړیو لومړني یرغل کوونکي دوی ډلې وې، یوه ډله یې (جرمنیان) او بله ډله یې (هونان). د هالنډ، ډنمارک، د آلمان فدرالي جمهوریت، چکوسلواکیا (د چک او سلواک هېوادونه)، مجارستان (هنګري) اوسنی رومانيا په خاورو کې، کوچي قومونو (جرمنیانو) په نوم ژوند درلود، چې تل به د دانیوب له سیند څخه تېرېدل، د لویدیځ روم د امپراتورۍ او د هغوي د مدینت د ستونزو لامل ګرځېدل.

هونانو هم چې اصلا په مغلستان کې مېشت وو او خپل ژوند یې په ښکار او غلا کولو باندې پر مخ وړو، لږ لږ د لوېدیځ پر لور وړاندې لاړل او په (۳۵۰ زېږدیز) کال کې د کسپین (خزر) سمندرګي او سویلي روسیې ته ورسېدل. سر لښکر یې ایتلا نومېده، یو ظالم او غل سړی و، دې سړي د روم دولت له ماتې سره مخ کړ او تر یوې مودې پورې یې دوام وکړ. د روم امپراتوري هغه ته باج ورکاوه، خو په (۴۵۱ زېږدیز) کال کې یو ځل دا خراج بند شو. ایتلا بیا تېری وکړ خو ماته یې وخوړه.

نوموړي بل کال له تازه دمو لښکرو سره ایتالیا ته پام واړاوه او د میلان ښار یې ونیو او د روم د نیولو په تکل یې حرکت وکړ خو پاپ د پیسو په ورکولو سره هغه له خپل عزم څخه واړولو. په پایله کې نوموړي (ایتلا) د هنګري په ښار کې مړ او د روم دولت د هغه له شر څخه خلاص شو. له هغه څخه وروسته زامنو یې په خپلو منځو کې مخالفتونه وکړل او دغه ستر دولت تجزیه شو.

نورو قومونو لکه لومباردان او ویزیکوتان چې د الپ د حوزې او د پروس (لویدیځ آلمان) لومړنۍ ډله اوسېدونکي وو، په (۵۶۸ زېږدیز) کال کې د شمال له خوا په ایتالیا یرغل وکړ او د ایتالیا مرکزي او شمالي برخې یې تر ولکې لاندې راوستې او وروستۍ ډلې پر اسپانیا او پرتګال چې په کلونو له تېریو څخه لرې وو، په (۴۰۹ زېږدیز) کال کې لکه د روم د امپراتورۍ د ډیرو برخو په شان، پر هغوي باندې یرغل وکړ.

له دوي سریره د دوو نورو لویو قومونو څخه چې د فرانسې او انګلستان د سلطنتونو بنسټ یې کېښود، اړینه ده چې یادونه یې وکړو. له هغو څخه یو یې فرانکان دي چې د ژرمن له څو ډلو څخه یو ترکیب شوی قوم دی او پخوا یې د بالتیک په غاړو کې ژوند کاوه. هغوي د ډېرو جرمنیانو په شان ځواکمن او زړه ور خلک وو. د روم قیصر هغوي په خپل پوځ کې ځای پر ځای کړل. هغوي ډېر وخت د رومیانو تر فرمان لاندې پاتې شول. کله چې رومیان کمزوري شول، دوي واک لاس ته راوړ. تر هغه چې د هغوي سردار شیلیدریک د فرانکانو پادشاهۍ ته ورسېد. کلویس د شیلیدریک زوی و چې د روم دولت د هغه پادشاهي په رسمیت وپېژندله. هغه د ژوند په وروستیو کلونو کې پاریس خپل مرکز وټاکه او د سنت پول او د سنت پیر کلیساګانې یې هلته جوړې کړې.

کلویس د فرانسې د سلطنت بنسټ ایښودونکی دی چې په (۵۱۱ زېږدیز) کال کې مړ شو، له هغه وروسته



په فرانسې کې يوه لړۍ منځ ته راغله چې د هغې د نيکه نوم ( مروه ) په مرو نژبن شهرت پيدا کړي. برتانيې ته د انگلوساکسونانو له راتگ څخه وړاندې، دغه هېواد د روم د نامتو ژول سزار له خوا نيول شوې و. د دې ټاپو خلکو تر هغه مهاله چې روميان پر واک و، عزتمند ژوند درلود او لندن له هماغه مهاله د سوداگرۍ مرکز و. د روم د دولت په کمزورتيا سره له برتانيې څخه د روميانو پوځونه کم شول. د شمال او لويديځ له خوا ايرلينيانو او د سمندر له خوا سمندري غلو هغوي تر يرغل لاندې ونيول. په (۴۷۷ زېږديز) کال کې ساکسونانو چې د جرمنيانو له جگړه مارو قبایلو څخه وو، انگلستان ته راغلل، اويا کاله وروسته له دوي څخه د جرمن بله طایفه چې د انگلانو په نامه وه، پر برتانيې تېرې وکړ چې د انگلنډ او انگليس کلمې د هغوي له نوم څخه اخيستل شوې دي. په پايله کې دا دوي طایفې سره يو ځاي شوې او د انگلوساکسون په نوم يې سلطنت جوړ کړ، د انگلوساکسون له کورنۍ څخه وروسته، نورمانان په انگلستان کې واک ته ورسېدل چې لومړي، دويم او دريم ادوارد له دې کورنۍ څخه دي.

### د اسلام د سپېڅلي دين د راتگ پر مهال د نړۍ ديني او عقيدتي وضعه

د اسلام د سپېڅلي دين له راتگ څخه وړاندې، يعنې په شپږمه زېږديزه پېړۍ کې، په لسگونو ديني مذهبونه او مسلکونه وو او د ټولو مخالفتونو سرچينه د نړۍ په گوټ گوټ کې ژبنې مفهوم او بې بنسټه خبرو جوړوله: د يهودو او نصاراوو غچ اخسته اوج ته رسېدلې وه. مسيحيان هم په خپلمنځي اختلافاتو کې بوخت وو. د روم او فارس دوي ځواکمني امپراتورۍ چې د عربستان د ټاپووزمې ( شېبه جزيرې ) په گاونډيتوب کې وې، له هر پلوه ورځ په ورځ کمزورې کېدلې. تر هغه پورې چې د اسلام سپېڅلي دين په عربستان کې منځ ته راغی.

### په ټولگي کې فعاليت

زده کوونکي دې په درېو يا پنځه کسيزو ډلو ووېشل شي او هره ډله دې د لاندنيو پوښتنو په اړه په خپلو منځو کې خبرې اترې وکړي:  
 - فرانسه څرنگه جوړه شوه؟  
 - د اسلام د سپېڅلي دين د راتگ پر مهال د نړۍ ديني او عقيدتي وضعه څرنگه وه؟

### پوښتنې

- ۱- اتیلا څوک و؟ د هغه په هکله لنډ معلومات وړاندې کړئ.
- ۲- جرمنيان څوک وو؟ د هغوی په هکله معلومات وړاندې کړئ.
- ۳- هونان څوک وو؟ د هغوی په هکله معلومات وړاندې کړئ.
- ۴- انگلوساکسونان څوک وو؟ د هغوی په هکله معلومات وړاندې کړئ.
- ۵- د پورتنیو پوښتنو په څېر تاسې پخپله دوي نورې پوښتنې په خپلو کتابچو کې وليکئ.

### له ټولگي بهر فعاليت

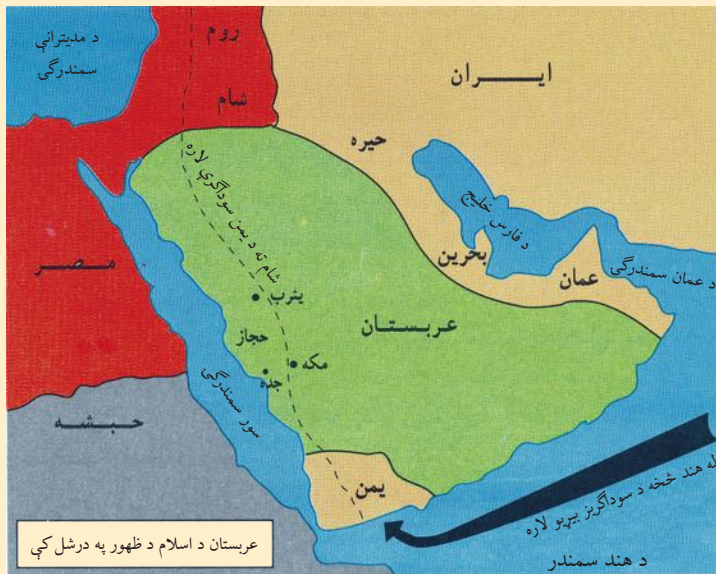
د اسلام د راتگ پر مهال د نړۍ عقيدتي وضعې تر سرليک لاندې مقاله وليکئ چې له پنځو کرښو لږه نه وي.



## عربستان د اسلام د ظهور په درشل کې

په دې لوست کې به د اسلام د نازېلېدو او څرگندېدو پر مهال د عربستان د خلکو د ټولنيزې او عقیدتي وضعې له څرنگوالي سره بلدتیا پیدا کړئ.

### د اسلام له ظهور وړاندې د عربستان د خلکو ژوند



د عربستان خلک عرب ټبري وو او قبيلوي ژوند يې کاوه. هره قبيله له هغو کورنيو څخه جوړه وه، چې خلکو يې د عمر له پلوه تر ټولو لوی کس چې د شيخ په نوم یادېده، تر فرمان لاندې ژوند کاوه.

د عربو یوه ډیره مهمه قبيله د قریشو قبيله وه. د عربو ډېر شمېر خلکو په ډاګونو کې او لږ شمېر يې په ښارونو کې ژوند کاوه.

مکه، یثرب او طایف د عربستان له لویو ښارونو څخه وو، چې د

حجاز په سیمه کې يې موقعیت درلود. د ښارونو ډېر شمېر وګړي په سوداګرۍ او د هغه وخت په اړوندو کارونو بوخت وو. هغوی هغه توکي چې له هند څخه یمن ته راوړل کېدل، شام (سورپې) ته د پلورلو په موخه وړل. د مکې او یثرب ښارونه د دغو سوداګریزو کاروانونو په لاره کې پراته وو. سره له دې چې د عربو ډېر شمېر وګړي د ښو عاداتو څښتنان وو خو اخلاقي فساد او ټولنيزې ناخوالې يې لوړې کچې ته رسېدلې وې. خلک له ټولنيز پلوه په دوو ډلو غلام او بادار وېشل شوي وو. له مریانو سره ناوړه انساني چلن کېده. د شرابو څښل، حق خوړل او اخلاقي فساد دود وو.

### له اسلام څخه وړاندې د جزیره العرب دیني عقاید

د الله تعالی ﷻ له لومړنیو پیغمبرانو څخه حضرت هود(ع) او حضرت صالح(ع) په ترتیب سره د عربستان په سوېل او شمال کې رسالت ته مبعوث شول. حضرت هود(ع) د عاد قوم يې د ناوړه کړنو پرېښودو ته راوباله،

خو ځينې د هغه پر وړاندې په مخالفت راپورته شول، د هغه او پيروانو په ځورولو يې پيل وكړ. په پايله كې هغوى له الهي عذاب سره مخ شول او له منځه لاړل.

حضرت صالح(ع) د ټمود په قوم كې چې د عربستان په شمال كې يې ژوند كاوه، په پيغمبرۍ مبعوث شو. د ټمود قوم له يو شمېر وگړو څخه پرته، پاتې نور يې د تيري او بت لمانځنې پرېښودلو ته حاضر نه شول. له همدې امله هغوى هم په الهي عذاب اخته او له منځه لاړل.

له يو څه مهال وروسته نورو دينونو هم عربستان ته لاره پيدا كړه چې تر ټولو مهم يې يهوديت، مسيحيت، زردشت او حنفي وو.

د وخت په تېرېدو سره عربو بت لمانځنې ته مخه كړه. هغوى هغه بتان (تنديسونه) چې له ډېرو، لرگيو او له ځينو نورو شيانو جوړ شوي وو، لمانځل او ان د كعبې كور چې حضرت ابراهيم(ع) د الله ﷻ د لمانځنې ځاى گرځولى و، په بت خانې واړوو. نجونې يې د خپل ناوړه دود له مخې او يا د لوړې له ډاره ژوندۍ خښولې. په داسې شرايطو كې چې د اسلام سپيڅلى دين په عربستان كې منځته راغى، په ډېرو قبيلو كې ښځې د ميراث يوه برخه گڼل كېدې. د سوداگرۍ او راكړې وركړې له سود سره گډې وې. قبيلو په خپل منځ كې كلك اختلافات درلودل او په شخړو به بوخت وو او كله به دغه رنگ جگړو د دوو قبيلو تر منځ له سلو كلونو زيات دوام كاوه.

### په ټولگي كې فعاليت

- په ډله ييزو كارونو كې د لاندې سرليكونو لنډيز وليكئ:
- له اسلام څخه د مخه د عربستان د خلكو عقايد،
- د اسلام د څرگندېدو په درشل كې د عربستان د خلكو د ژوند وضعيت.

### پوښتنې

- له اسلام څخه د مخه په عربستان كې كوم دينونه وو؟
- له اسلام څخه د مخه د عربستان د خلكو ژوند څنگه وو؟
- د حضرت ابراهيم(ع) لارويانو ته يې څه ويل؟
- بت لمانځنه يعنې څه؟

### له ټولگي بهر فعاليت

د خپل جومات امام ته لار شى، د هغه په مرستې سره د اسلام دين ته د بشريت اړتيا په هكله يوه مقاله وليكئ.



## د عربستان په ټاپووزمه (شبه جزیره) کې د اسلام د سپېڅلي دين د پيدايښت اړتيا

په دې لوست کې به د عربستان په ټاپووزمه کې د اسلام د سپېڅلي دين د خپرېدو له لاملونو سره بلد شئ چې څرنگه د اسلام ځلانده لمر پر دې ځمکې څرک وواهه.

د حضرت آدم (ع) له پيدايښت څخه وروسته، الله ﷻ د بشر د لارښوونې لپاره پېغمبران، استولي دي. له يوې خوا هېڅ داسې دوره نه وه چې په هغه کې پېغمبر مبعوث شوی نه وي، له بلې خوا څېړونکي او مؤرخين له اسلام څخه وړاندې پير يې د بت لمانځنې، شرک او جادو د رواج او د ناورو دودونو لمانځنه يادوي. د سومر خلکو د نوح (ع) يادداښتونه او د هغه رسالت يې له مخکنيو نسلونو څخه اورېدلي وو. ښکاره خبره ده چې د لومړنيو ټولنو خلک ديندار او خپلو ديني دودونو ته پابند وو، خو د هغوی عقايد له ناورو دودونو سره گډ وو. هغوی په بلې نړۍ کې ژوند ته عقیده درلودله، خو فکر يې کاوه چې انسان په قبر کې خوراک او پوښاک ته اړتيا لري، له همدې امله د جسدونو د خښولو پر مهال يې، ځينې اړين توکي او خوراک د ژوند لپاره له هغوی سره په قبر کې اېښودل. ځينې داسې ټولنې هم وې چې خپل مري يې په خپلو استوگنځيو کې خښول. ډيرو لرغونو ټولنو، فکر کاوه چې آسماني ځواکونه د صاعقه، سيل، قحطی او ناروغيو لامل گرځي او غيبي ځواکونه د باران وړېدو او د نعمت ډېروالي او د مړو د اسانتيا لامل گرځي. په پايله کې د خپلو خدايانو د راضي ساتلو لپاره يې ځانگړي آداب او دودونه درلودل. ډېرو لومړنيو ټولنو (لرغونو ټولنو) خپل ځان د څارويو له يوه نسل څخه گانې، همدا رنگه لومړنيو ټولنو اور ته هم ډېر درناوی درلود.

انبياء او پېغمبران چې له حضرت محمد ﷺ څخه د مخه د الله ﷻ له خوا مبعوث شوي وو، د هغوی رسالت نړيوال نه و او همدارنگه صحيفې او آسماني کتابونه چې هغوی ته نازل شوي وو، بشپړ نه وو او يا دا چې له هغوی څخه وروسته تحريف شوي وو. له دې امله الله ﷻ د رسالت او ديانت د بشپړولو په موخه د بشریت لارښود حضرت محمد ﷺ په پېغمبرۍ مبعوث او پر هغه يې بشپړ آسماني کتاب (قرآن مجيد) نازل کړ چې په دې توگه رسالت او نبوت بشپړ شو.

همدا رنگه څوورونه، فساد، تبعيض، يرغل، انسان پلورل او انسان وژنه، انحصار، واک غوښتنه ځان غوښتنه، بت لمانځنه او د بېلابېلو خدايانو لمانځنه، ناوره دودونه، بې عدالتي او حق خوړل، د نجونو

ژوندی خښول او هر هغه څه چې د دغه وخت وضعه یې کړکيچنه کړې وه، لامل شو چې په نړۍ کې د عدالت، رښتینوالی او خپلواکۍ ژغورنې لمر د راختلو پړاو رامنځ ته شي او د الله تعالی ﷻ په حکم د اسلام سپېڅلي دین د عربستان په ټاپووزمه کې د نړۍ تر ټولو غوره بشر، حضرت محمد ﷺ په وسیله راڅرگند شي.

### په ټولګي کې فعالیت

زده کوونکي دې په درې کسيزو او پنځه کسيزو ډلو ووېشل شي، هره ډله دې په لاندې اصطلاحاتو او د هغو په هکله له یو بل سره خبرې اترې وکړي. فساد، بې عدالتی او خرافات.

### پوښتنې

- ۱- څو آسماني کتابونه پېژنئ؟ د هغو له جملې د بشپړ آسماني کتاب نوم واخلئ؟
- ۲- دلومړي پیغمبر نوم واخلئ.
- ۳- د اسلام تر سپېڅلي دین د مخه په نړۍ کې کوم دینونه دود وو، نومونه یې واخلئ او د هغوی لارویان ولې واوښتل؟ لنډ ځواب ورکړئ.

### له ټولګي بهر فعالیت

د اسلام د سپېڅلي دین تر سرلیک لاندې مقاله ولیکئ چې له ۸ کرښو لږ نه وي.



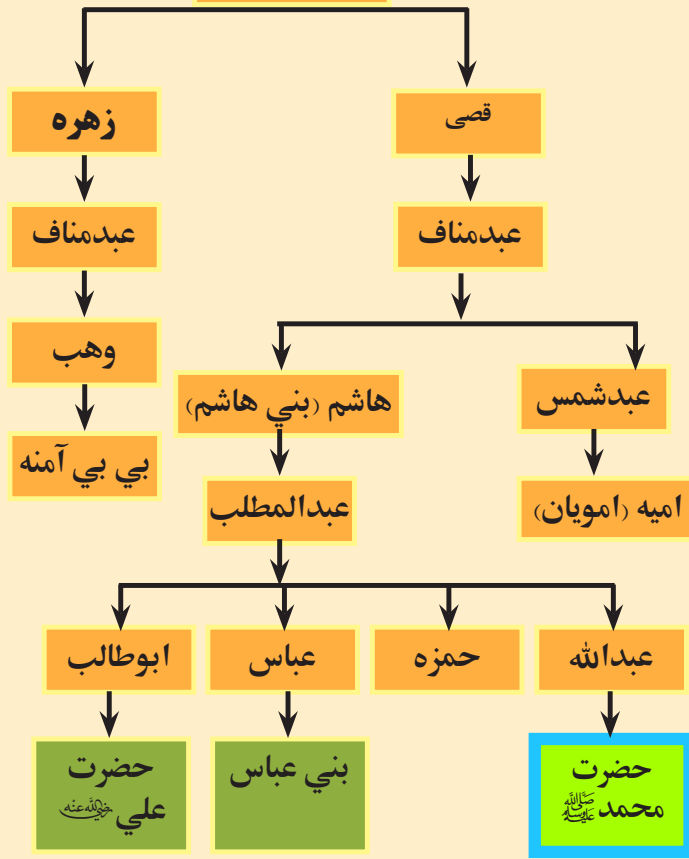
## د الله ﷺ وروستی پیغمبر، حضرت محمد ﷺ (له زېږېدو تر بعثت پورې)

په دې لوست کې هڅه شوی ده چې زده کوونکي د اسلام د سپېڅلي دين له پيدايښت وړاندې د حضرت محمد ﷺ له ژوند سره په لنډه توگه بلد شي.

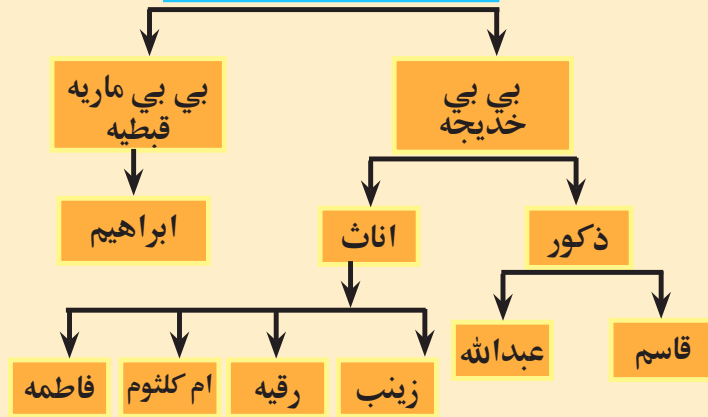
د حضرت محمد ﷺ نيکه عبدالمطلب و. عبدالله بن عبدالمطلب د حضرت محمد ﷺ له پيدا کېدو څه موده د مخه په هغه سفر کې چې شام ته يې کړی و، وفات شو او هماغلته خاورو ته وسپارل شو. حضرت محمد ﷺ په هغه کال چې په عام الفيل مشهور دی، د ربيع الاول د مياشتې په دوولسمه نېټه (په بل روايت اووه لسمه) نېټه د دوشنبې په شپه چې له (۵۷۰ ز) کال سره سمون لري، په مکه معظمه کې وزېږېد. هغه مهال د عربستان خلکو خپل ماشومان د روزنې او شيدو ورکولو لپاره دايه گانو ته ورکول. د حضرت محمد ﷺ مور بي بي امنې هم خپل زوی يوې ښځې ته، چې حليمه سعديه نومېده، وسپاره ترڅو هغه لوی او شيدې ورکړي. حضرت محمد ﷺ څلور کاله له بي بي حليمې سره په دښته کې پاتې شو. د دښتې سخت ژوندانه، حضرت محمد ﷺ هم تکړه او پياوړی کړ او هغه ته يې ساده او غريبانه ژوند هم ورزده کړ. کله چې زموږ ستر پيغمبر د شپږوکالو شو، بي بي حليمې هغه خپلې کورنۍ ته چې په يثرب کې وه، راستون کړ او د خپل پلار زيارت يې وکړ. کله چې له يثرب څخه بېرته راوگرځېدل، بي بي امنه سخته ناروغه شوه او په لاره کې يې ساه ورکړه. حضرت محمد ﷺ دخپلې مور د مړينې له کبله ډېر غمجن شو. له دې وروسته د حضرت محمد ﷺ پالنه او ساتنه د هغه نيکه، عبدالمطلب کوله. کله چې حضرت محمد ﷺ اته کلن شو، نيکه يې هم له نړۍ سترگې پټې کړې. له دې وروسته د حضرت محمد ﷺ پالنه او روزنه د هغه آکا (تره)، ابوطالب پر غاړه واخيسته. ابوطالب د سوداگرۍ په چارو بوخت و او په ځينو سفرونو کې به يې خپل وراره (حضرت محمد ﷺ) هم له ځانه سره بووه.

حضرت محمد ﷺ دمکې له يو شمېر ځوانانو سره د بېوزلو د دفاع په موخه په مکه معظمه کې يو تړون رامنځته کړ. له دې امله چې دمکې ټولو خلکو د «حلف الفضول» په نوم دده په پاکوالي، امانت داری او رښتنولي عقیده درلوده او امين يې باله. څرنگه چې د حجر الاسود د کېښودلو په اړه د اعرابو د بېلا بېلو قبایلو ترمنځ اختلاف پيدا شو، پرېکړه په دې وشوه چې هر سړی چې لومړی د کعبې له دروازې څخه را د ننه شي، د هغه حکم د منلو وړ دی. په دې وخت کې حضرت محمد ﷺ دننه شو او ټولو غږ وکړ چې (امين) راغی. حضرت محمد ﷺ په خپل ځانگړي تدبير او درايت سره حجر الاسود په يوه خادر کې کېښوده او ځنډې يې د قبيلو مشرانو ته ورکړې، په دې توگه د يوې سترې وينې تويدنې مخه ونيول شوه.

د قریش قبيله



د حضرت محمد (صلى الله عليه وسلم) كورنۍ





حضرت محمد ﷺ په ۲۵ کلنی کې د ابوطالب په وړاندیز د بي بي خديجې په پانگې چې د قریشو د قبيلې يوه شتمنه ښځه وه، د سوداگرۍ په موخه شام ته لاړ. کله چې حضرت محمد ﷺ له سوداگرۍ له سفر څخه له ډيرې گټې سره بېرته راستون شو او له بلې خوا د حضرت بي بي خديجې مريې ميسره د حضرت محمد ﷺ د صداقت او امانت ستاينه وکړه، حضرت بي بي خديجې حضرت محمد ﷺ د واده وړاندیز لپاره مناسب وگاڼه او له هغه سره يې د واده ليوالتيا پيدا شوه، نو ځکه د واده وړاندیز يې حضرت محمد ﷺ ته ورساوه. تر واده وروسته د دوی تر منځ نوی ژوند پيل شو. بي بي خديجه د حضرت محمد ﷺ لپاره ډېره مهربانه او سرښيندونکې ميرمن وه او له اسلام د منلو څخه وروسته يې بيا د اسلام د سپيڅلي دين لپاره ډير خدمتونه کړي، تر هغه چې خپله ټوله شتمني يې د الله ﷻ د رضا او اسلام د خپرېدو په لار کې ولگوله.

حضرت محمد ﷺ د مکې د خلکو له بت نمانځنې ډېر خواشینی او اندېښمن وو. د حضرت محمد ﷺ هيله دا وه چې يوه ورځ خلک له بت نمانځنې څخه خلاص شي او د يوه الله ﷻ عبادت او لمانځنه وکړي.

### د حضرت محمد ﷺ د ژوند مهمې پېښې، له ۶ کلنی څخه تر څلوېښت کلنی پورې

د پيغمبر ﷺ د مور مړينه - د عبدالمطلب لخوا سرپرستي	۶ کلنی
د عبدالمطلب مړينه- د ابوطالب لخوا سرپرستي	۸ کلنی
له غم ځپلو څخه د ملاتړ په تړون کې گډون	څلميتوب
له حضرت بي بي خديجې سره واده	۲۵ کلنی
بعثت	۴۰ کلنی



## په ټولگي کې فعاليت

په ډله ييز کار کې دښي لاس ليکنې، د کيڼ لاس له ليکنو سره په خپلو کتابچو کې ونښلوئ او په ټولگي کې يې نورو ته وړاندې کړئ.

د رسول اکرم ﷺ پلار	- په ۵۷۰ ز کال کې
د رسول اکرم ﷺ نيکه	- په ۶ کلنۍ کې
د حضرت محمد ﷺ مور	- په ۸ کلنۍ کې
د حضرت محمد ﷺ دايه	- بي بي آمنه
د حضرت محمد ﷺ مور وفات شوه	- عبدالمطلب
د حضرت محمد ﷺ نيکه عبدالمطلب وفات شو	- عبدالله
حضرت محمد ﷺ په مکه معظمه کې وزېږېد	- بي بي حلیمه

## پوښتنې



- ۱- آیا د حضرت محمد ﷺ د پلار، مور، دايې، اونیکه نومونه موزده دي؟
- ۲- د دښتې ژوند په حضرت محمد ﷺ باندې څه اغېزه وکړه؟
- ۳- له عام الفيل څخه موخه څه ده؟ په لنډه توگه يې بيان کړئ.
- ۴- د حضرت محمد ﷺ د زامنو نومونه واخلي؟
- ۵- د حضرت آمنې د پلار او نيکه نومونه واخلي؟
- ۶- د حضرت محمد ﷺ د لوڼو نومونه واخلي؟
- ۷- سم عبارت د (ص) په توري او ناسم عبارت د(غ) په توري په خپلو کتابچو کې سره په نښه کړئ.
- حضرت علي رضي الله عنه د حضرت محمد ﷺ د تره زوی و ( )
- د امويانو نيکه هاشم نومېده ( )
- د بني هاشم نيکه اميه نومېده ( )



## د الله ﷺ وروستی پیغمبر حضرت محمد ﷺ (له بعثته څخه تر هجرته)

په دې لوست کې به په پیغمبرۍ باندې د حضرت محمد ﷺ له مبعوث کېدلو، له مکې معظمې څخه مدینې منورې ته د ده له هجرت او هم د اسلام د تاریخ پېل (د حضرت محمد ﷺ له وخته د حضرت علي رضی الله عنه تر شهادت پورې) سره اشنا شي.

حضرت محمد ﷺ په هر کال کې یوه میاشت د جبل النور غار ته چې (حرا) نومېده او مکې معظمې ته نږدې پروت دی، تلو او هلته به په عبادت کولو او فکر کولو بوختېده. د حضرت محمد ﷺ کراري او یوازنتوب خوښېدل. دی په څلویښت



د حرا غار

کلنی کې د حرا په غار کې د الله ﷻ لخوا په پیغمبرۍ مبعوث او مامور شو، تر څو د نړۍ ټولو خلکو ته د یوه الله ﷻ د عبادت، له بت لمانځې څخه لاس اخیستنې، د قیامت په ورځ ایمان او د خپلې پیغمبرۍ د منلو بلنه ورکړي.

د الله ﷻ له لوري د حضرت محمد ﷺ په پیغمبري باندې ټاکلو ته، بعثت وایي. د نبوت تر اعلانولو وروسته له نارینه وو څخه حضرت ابوبکر صدیق رضی الله عنه، له ښځینه وو څخه بی بی خدیجه رضی الله عنها او له ماشومانو څخه حضرت علي (کرم الله وجهه) لومړني کسان وو چې د اسلام دین یې ومانه. حضرت محمد ﷺ به په لومړیو کې خلک په پټه د اسلام سپینڅلي دین ته را بلل. پدې ډول کار کولو سره ورو ورو یو شمېر څورېدلو خلکو او د مکې ځینو قومي مشرانو د اسلام دین ومانه. له دريو کالو څخه وروسته الله ﷻ حضرت محمد ﷺ ته حکم وکړ چې په څرگند ډول خلک اسلام ته راوغواړي او له بت نمانځنې څخه یې منع کړي.

اسلام ورځ په ورځ پراختیا کوله او عادي خلکو له دې بلنې څخه ملاتړ کاوه. د مکې کافرانو د اسلام له زیاتېدونکي نفوذ څخه د خطر احساس وکړ. هغوی داسې فکر کاوه که چېرې بت نمانځنه له منځه لاړه شي، هېڅکله نشي کولی چې پر خلکو واکمن پاتې شي. له دې امله راغونډ او د چارې په لټه کې شول. دوی لومړی داسې وړاندیز وکړ چې حضرت محمد ﷺ د پیسو او مقام په ورکولو سره راضي کړي او د هغوی په آند د الله ﷻ له لارې یې راوگرځوي، ترڅو د اسلام د دین د پرمختګ مخه ونیول شي. هغوی د الله ﷻ پیغمبر ته داسې وړاندیز وکړ:

(( که له دعوت څخه لاس واخلي، په بدل کې هر څه چې غواړئ، تاسې ته به یې درکړو، که وغواړئ خپله شتمني به ستاسې په واک کې درکړو او تاسې به خپل مشر وټاکو او که ناروغ یاست، ستاسو درملنه به وکړو...))  
حضرت محمد ﷺ یې په ځواب کې داسې وویل: (( په الله ﷻ مې دې قسم وي که لمر مې په ښي لاس او سپوږمۍ مې په کین لاس کې راکړئ، له دغې بلنې به لاس وا نه خلم. هېڅکله به داسې ونه کړم، ان تر دې که په دې لار کې خپل ځان هم له لاسه ورکړم...))

کله چې کافران وپوهېدل چې حضرت محمد ﷺ د اسلام له دعوت او بلنې څخه لاس نه اخلي، نو د ده او د ده د ملګرو په ځورونو یې لاس پورې کړ. بلال، یاسر او سُمیه او د پیغمبر نورو یارانو د ډېرو کلکو شکنجو په وړاندې مقاومت وکړ او ځینو یې د شهادت جامونه وڅښل. تر دې پورې چې په خپله حضرت محمد ﷺ هم له دغو ځورونو څخه په امان کې پاتې نه شو. په لارو او کوڅو کې به یې پر حضرت محمد ﷺ باندې بریدونه کول او په کابو به یې وېشته او ټپي کاوه به یې. مشرکینو به پر ځاني ځورونو سر بېره د تبلیغاتو او تومتونو په وسیله پیغمبر ﷺ ځورواوه، آن تر دې چې له پیغمبر ﷺ او له یارانو سره یې چې د پیغمبر ﷺ ملاتړ به یې کاوه، د دريو کالو لپاره یې اړیکې پرېکړې او هغوی یې په اقتصادي کلانېدۍ

کې راگبر کړل.

له دغو ټولو ستونزو سره سره، حضرت محمد ﷺ په خپل هوډ، عزم او اراده کې ټينگ و او د اسلام له بلنې او د الله ﷻ له نمانځنې څخه يې هيڅ لاس وانه خيست، ځکه چې د اسلام دين په لاندنيو ارزښتونو ولاړ دی.

- ۱- اسلام وروستی، بشپړ او الهي دين دی.
  - ۲- اسلام له پيله تر اوسه د مسلمانانو په لارښوونه، سيادت او نېکمرغۍ کې په بالفعل او بالقوه ډول خپله ونډه حفظ ساتلې ده.
  - ۳- اسلام يو ژوندي، نوبت راوړونکی، خوځښت رامنځ ته کوونکی، ژوند ورکوونکی او د ظلم پر وړاندې ودرېدونکی دين دی.
- قرآن مجيد له اړتيا سره سم د الله ﷻ له لورې د جبريل (ع) په واسطه پر حضرت محمد ﷺ باندې نازل شو.

د بعثت (۱) کال	بعثت - د پټې بلنې پيل
د بعثت (۴) کال	د څرگند دعوت پيل - د مسلمانانو د ځور وپدلو پيل
د بعثت (۵) کال	حېشې ته د يو شمېر مسلمانانو مهاجرت.
د بعثت (۷- تر ۱۰) کال	د مسلمانانو د دريو کالو په ترڅ کې اقتصادي کلابندي، د بي بي خديجې او ابوطالب مړينه
د بعثت (۱۱) کال	د حج په مراسمو کې له يو شمېر خلکو سره د حضرت محمد ﷺ ليدنه.
د بعثت (۱۲- ۱۳) کال	په ډله ييزه توگه د يثرب خلک د پېغمبر ﷺ حضور ته راغلل او ورسره يې په دوو بېلا بېلو ليدنو کې تړون وليکه.
د بعثت (۱۴) کال	يثرب ته د مسلمانانو او حضرت رسول اکرم ﷺ هجرت.

### په ټولگي کې فعاليت

تش ځايونه په خپلو کتابچو کې ډک کړئ:

- الله ﷻ د بعثت په دريم کال، حضرت محمد ﷺ ته دننه وسپارله. (.....)
- د حضرت محمد ﷺ له ژوندانه څخه د بعثت په وخت کې زده کوو چې: (.....)
- اسلام څرنگه دين دی؟ .....

### پوښتنې

- ۱- حضرت محمد ﷺ ولې د حرا غار ته تلو؟
- ۲- حضرت محمد ﷺ د بعثت په پيل کې اسلام دين ته خلک په څه ډول را بلل؟
- ۳- حضرت محمد ﷺ د مشرکينو د وړاندیز په ځواب کې څه وويل؟
- ۴- د اسلام پيغام موږ مسلمانانو ته څه دی؟ په لنډه ډول يې وويئ.

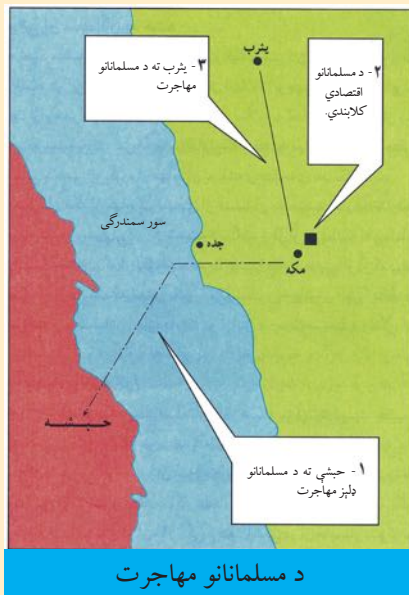
### له ټولگي بهر فعاليت

د حضرت محمد ﷺ د بعثت په اړه د خپل کلی د جومات د امام په مرسته يوه مقاله وليکئ.



## د خدای ﷺ وروستی پیغمبر حضرت محمد ﷺ (له هجرت تر رحلته)

په دې لوست کې کوشنې شوی چې ځینو پوښتنو ته لکه: کوم لاملونه د دې سبب شول چې حضرت محمد ﷺ او مسلمانان له مکې معظمې څخه حبشې او یثرب ته هجرت وکړي او څرنگه اسلام پراختیا وموندله؟ دغو پوښتنو ته په لنډه توګه ځوابونه ورکړل شوي دي.



د مسلمانانو مهاجرت

هرڅومره چې د مسلمانانو شمېر زیاتېده، په هماغه کچه د مشرکانو زور وهنې پر مسلمانانو باندې دېرې شوې. کله چې د بت نمانځونکو او مشرکانو ځورونې او رېږونې دېرې شوې، حضرت محمد ﷺ داسې لارښوونه وکړه یو شمېر مسلمانان چې په هغوی کې حضرت عثمان رضی الله عنه او مېرمن یې هم وه، د حضرت جعفر بن ابی طالب تر مشرۍ لاندې حبشې ته هجرت وکړي. کله چې مشرکین خبر شول، په غوسه شول او د اسلام پر خلاف یې خپلې مبارزې سختې کړې. د قریشو کافرانو په خپل منځ کې تړون وکړ چې (د مسلمانانو او د هاشم او عبدالمطلب له زامنو سره خپلې اړیکې وشلوي او له هغوی سره راکړه ورکړه او واده ونه کړي). په دې هکله یې یو پرېکړه لیک ولیکه او په کعبه کې یې کېښود. له هغه وروسته پیغمبر ﷺ او یاران یې له مکې څخه د باندې د شعب ابوطالب په نامه دره کې استوګن شول. دوی درې کاله په دېرې سختۍ سره په هغه دره کې اوسېدل، په داسې نا خوالو کې یو شمېر کسانو چې د سپېڅلو زړونو لرونکي وو، په خپل منځ کې ژمنه وکړه چې هغه تړون له منځه یوسي او خپل

مسلمان هم ښاریان له بدمرغيو څخه وژغوري او له بلې خوا چې پیغمبر ﷺ د الله جل جلاله له لورې خبر شو چې د کافرانو هغه پرېکړه لیک وینو (وینه گانو) خوړلی دی، ابوطالب دغه خبر کافرانو ته ورکړ، له هغوی څخه یې وغوښتل چې هغه پرېکړه لیک راوړي. او همدارنگه ورته وېې و یل چې: که چیرې حضرت محمد ﷺ سم او رښتیا نه وای ویلي، نو هغه به تاسې ته وسپارم. کافران لارل او وېې لیدل چې پیغمبر ﷺ رښتیا ویلي دي نو ځکه یې پیغمبر ﷺ او د هغه ملگرو ته (مسلمانانو) اجازه ورکړه چې بېرته مکې ته ور وگرځي. له هغې وروسته، حضرت محمد ﷺ له دېرې لږ شپې څخه هم، اسلام ته د خلکو د رابللو په لار کې گټه پورته کوله. ده د حج د مراسمو د تر سره کولو په وخت کې چې زیات شمېر خلک به د کعبې شریفې د زیارت کولو لپاره هلته را تلل، هغوی به یې د اسلام له دین سره آشنا کول او د هغوی په وسیله به یې خپل دعوت د نورو قومونو او ښارونو د خلکو غوږونو ته رساوه.

د بعثت په یوولسم کال د هغو کسانو له ډلې څخه چې د حضرت محمد ﷺ دعوت یې ومنلو، ځینې یې د یثرب د اوس او خزرګ له قبیلو څخه وو. له همدغه ځایه یثرب ته د مسلمانانو د هجرت لړۍ پیل شوه. هغو څو تنو د راستنېدلو په مهال د

حضرت محمد ﷺ د پیغمبری خبر خپلو ځایي اوسیدونکو ته ورساوه او یو شمېر نورو هم اسلام راوړ، بل کال د حج په مراسمو کې د یثرب د نویو مسلمانانو شمېر دوولس تنو ته ورسېد او په راتلونکي کال کې د هغوی شمېر له (۸۰) تنو څخه ډېر شو، نو هغه مهال یې د حضرت محمد ﷺ د دفاع تړون لاسلیک کړ. بت نمانځونکو د اسلام د پراختیا د مخنیوي په موخه پر ډول ډول کارونه لاس پورې کړ. له هغه وروسته چې د حضرت ﷺ ټولو یارانو یثرب ته هجرت وکړ، کافرانو پرېکړه وکړه چې د شپې له خوا حضرت محمد ﷺ په خپل کور کې ووژني. حضرت محمد ﷺ د خدای جل جلاله له لوري د دوی له دغې پرېکړې څخه خبر شو. له همدې کبله و چې حضرت علی رضی الله عنه په دې شپه د ده په بستره کې ویده شو او په دې ډول د مشرکینو دسیسه شنایه شوه. حضرت محمد ﷺ په پټه له کوره ووت او د حضرت ابوبکر صدیق رضی الله عنه په ملگرتیا د (ثور غار) ته لاړ او د درېو شپو له تېرېدو وروسته یې له هغه ځای څخه یثرب ته هجرت وکړ. وروسته له دې د یثرب نوم په «مدینې منورې» واوښت او د هغه ځای مسلمانانو ته یې انصار ویل.

د اسلام پیغمبر مدینې ته له راتگ سره سم، تر هر څه وړاندې د قبا د جومات بنسټ کېښود او د مدینې د بېلابېلو له اوسېدونکو سره یې تړون وکړ چې د مدینې د منشور په نوم نومول شوی دی چې په مدینې کې د یرغلگرو پر وړاندې گډ عمل وکړي، د مسلمانانو ترمنځ یې د ورورولۍ او اسلامي نظام بنسټ کېښود. له مکې معظمې څخه مدینې منورې ته د حضرت محمد ﷺ هجرت د (۶۲۲ زېږدیز) کال سره سمون لري او د حضرت عمر رضی الله عنه د خلافت په وخت کې پرېکړه وشوه چې همدغه نېټه د مسلمانانو د تاریخ پیل وگرځي.

### په ټولگي کې فعالیت

- زده کوونکي په ۳ او یا ۵ کسيزو ډلو ووېشي،  
 تر خبرواترو وروسته د يوې ډلې يو استازی دې دخبرو پایلې نورو ته ووايي.  
 - هجرت يعنې څه؟  
 - ولې یثرب په مدینې ونومول شو؟  
 - ولې هر څومره چې د مسلمانانو شمېر ډېرېده، په هماغه کچه د مسلمانانو په وړاندې د مشرکانو مخالفت ډېرېده.

### پوښتنې

- ۱- د مکې کفارو په خپل منځ کې څرنگه تړون وکړ؟ په دې اړه تبصره وکړئ.
- ۲- د مسلمانانو د تاریخ پیل له څه شي څخه اخیستل شوی دی؟ هغه نېټه په گوته کړئ.
- ۳- لومړنی جومات چې حضرت محمد ﷺ یې بنسټ کېښود، څه نومېده؟
- ۴- د هجرت په وخت کې کوم صحابي د حضرت پیغمبر ﷺ په بستره کې ویده شو؟ په دې اړه تبصره وکړئ.

### له ټولگي بهر فعالیت

د مشرانو او د کلي جومات د امام په مرسته د هجرت په اړه یوه مقاله ولیکئ.

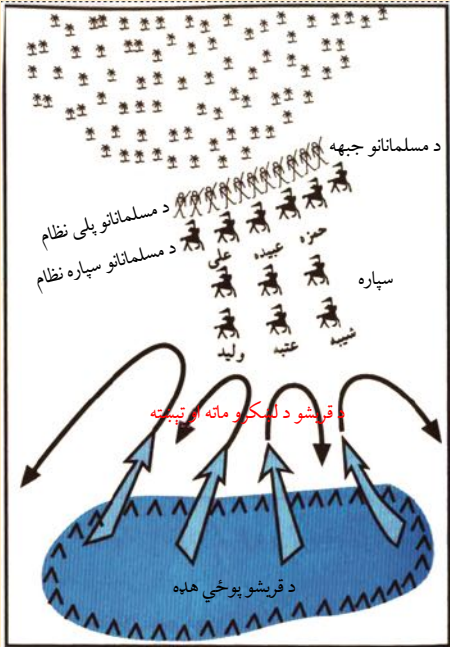


## د حضرت محمد ﷺ مهمې غزاګانې، د هغه د ژوند وروستي کلونه او مهمې پېښې

په دې لوست کې هڅه شوې چې په لنډه توګه غزاګانو (غزا هغه جګړه ده چې مسلمانانو له کافرانو سره کړې ده او پیغمبر ﷺ خپله په هغه کې ګاهون کړې و) پېښو او د حضرت محمد ﷺ د ژوند له وروستي کلونو سره بلد شی.

### د بدر غزا

د بدر غزا د هجرت په دویم کال د بدر څاګانو ته نږدې د مسلمانانو او مشرکینو تر منځ پېښه شوه. پېښه داسې وه چې د مکې د خلکو سوداګریز کاروان چې له شام (سورې) څخه مکې ته د ابوسفیان په مشرۍ روان و، مدینې منورې ته نږدې تېرېده. مشرکینو له دې ډاره چې کاروان د مسلمانانو لاسته ور نه شي، یو لښکر یې د هغه د ساتنې لپاره مدینې ته ولېږه. د مشرکینو کاروان د مدینې منورې له شاوخوا څخه لرې شو. خو د پیغمبر ﷺ تر مشرۍ لاندې د مسلمانانو او د دغو لښکرو تر منځ جګړه ونښته. له دې امله چې مسلمانان په الله ﷻ باندې په ایمان سره او د غره په شان استواره ډګر ته راغلي وو. په داسې حال کې چې د هغوی شمېر (۳۱۳) تنه وو پر مشرکینو باندې چې شمېر یې (۹۵۰) تنو ته رسیده، بریالي شول او د مکې په مشرکینو ته یې سخت ګډارونه ورکړل او مشران یې له لاسه ورکړل. د اسلام د بریا اواز په ټول عربستان کې خپره شوه او مشرکین په وېره کې شول.



د بدر غزا

د بدر غزا

### د احد غزا

د هجرت په درېیم کال د مکې مشرکینو د بدر جګړې د غچ اخیستلو په موخه له ډېرو تجهیزاتو سره د مدینې منورې په لور حرکت وکړ. حضرت محمد ﷺ د هغوی پر وړاندې د مسلمانانو (۷۰۰) کسيز لښکر هغه ځای ته ولېږه چې د احد غره ته نږدې و. دواړه لوري له یو بل سره مخ شول. په سر کې کفار له ماتې سره مخ شول، خو وروسته له دې امله چې مسلمانانو د دښمنانو د څارلو پر ځای د غنیمتونو په ټولولو پیل



د احد غزا




د احد غزا

وګر، ان تر دې هغه مسلمانان چې د احد په کنډو کې د عبدالله بن جبیر په مشرۍ ګمارل شوي وو. تر څو د مسلمانانو جبهه د شا له خوا وساتي له څو تنو پرته نورو خپل ځای پرېښود، کفارو له وخت څخه په ګټې اخیستنې د شا له لوري د خالد بن ولید په قوماندانۍ په مسلمانانو یرغل وکړ. له دغه ناڅاپي یرغل سره وضعیت بدلون وموند. د اسلام د مبارک پیغمبر حضرت محمد ﷺ مبارک غاښ شهید او همدارنګه حضرت حمزه رضی الله عنه هم د شهادت لوړ مقام ته ورسېد او له مسلمانانو څخه (۷۰) اویا تنه په شهادت ورسېدل. دغه غزا مسلمانانو ته د عبرت درس و.

### د خندق غزا (احزاب)

د هجرت په پنځم کال د مکې مشرکینو له یهودیانو سره هم تړون وکړ او تصمیم یې ونیو چې په مدینې منورې باندې یرغل وکړي. په دغه پوځي ټولنه کې د یهودو، مشرکینو او قریشو پوځ نږدې لس زره تنه د ابوسفیان په مشرۍ په دريو لښکرو کې راغونډ شوي وو.

حضرت محمد ﷺ چې کله له موضوع څخه خبر شو، د اصحابو کرامو او د خپل هم تړوني، بني



د خندق غزا

خزاعه په مشورې یې شورا جوړه کړه چې د دفاع تر ټولو اغېزمنه لاره وټاکي.

پیغمبر ﷺ د سلمان فارسي نظر د دفاع لپاره د خندق په کېنډلو کې تر ټولو غوره وګاڼه. او د خندق د کېنډلو فرمان یې د مدینې په شمال کې صادر کړ او خپله یې د هغه په ټولو پراوونو کې ګډون وکړ. کله چې مشرکین مدینې منورې ته ورسېدل، خپل مخکې یې یو خندق ولید چې تر هغه مهاله یې نه و لیدلی. هغوی د مدینې منورې دکلابندۍ او د خندق په هغه غاړه کې له درېدو څخه بله لاره نه درلوده، تر دې چې د قریشو یو شمېر نامتو جنگیالي له خندق څخه تېر شول. د هغوی

د نامتو پهلوان عمرو بن عبدود له وژل کېدو وروسته، نورو تېښته وکړه. د هغوی یو شمېر له لوی او سخت طوفان سره مخ شول چې د مشرکینو ځیمې یې ړنګې کړې. دغه کار چې دکلابندۍ د پای ته رسېدو او د مشرکینو د لښکر د خپل منځي ګډوډۍ لامل شو، هغوی پرته له کوم لږ پرمختګ څخه د مدینې له شاوخوا تیت شول. په دغه غزا کې د مسلمانانو پوځي ځواک په ټاپو وزمه کې په ډاګه شو. د شام او د مکې تر منځ د سوداګرۍ

د لارو امنیت ټینګ شو او تر ټولو مهمه د توحید فکر او د یو خدای ﷻ عبادت، د شرک او بت لمانځنې د پرمختګ مخه ونيوله. او غزا د مسلمانانو په ګټه پای ته ورسېده. د خندق تر غزا وروسته حضرت پیغمبر ﷺ له خپلو ځواکونو سره د بني قریظې د یهودو د پاکولو په موخه چې په ډېرو حساسو شېبو کې له دښمن سره یو ځای شوي وو، حرکت وکړ او د مدینې شاوخوا یې د هغوی له شتون څخه پاکه کړه.

### د حدیبی سوله او د اسلام پراختیا

د هجرت په شپږم کال د مسلمانانو ځواک د اعرابو پر وړاندې ښکاره شو، څرنگه چې د مکې مشرکین له مسلمانانو سره سولې ته چمتو شول. په دې ترتیب، د حدیبی د سولې تړون رامنځ ته شو. د دې تړون پر بنسټ مشرکین ژمن شول چې تر لسو کلونو به له مسلمانانو سره جګړه نه کوي او هغوی ته به د خدای ﷻ د کور د زیارت کولو اجازه ورکړي. د سولې د تړون په لاسلیک سره، پیغمبر ﷺ وکولای شو چې اسلامي تبلیغ په ازاده توګه وکړي او نه یواځې د عربستان خلک، بلکې د نورو هېوادونو وګړي هم اسلام ته راوبولي.

### د اسلام د بلني نړیوال ابلاغ

د هجرت په اووم کال د اسلام پیغمبر ﷺ خپل سفیران د عربستان تر پولو دباندې ولېږل او خپل رسالت یې نړیوال کړ، د پیغمبر ﷺ لیکونه د خدای ﷻ له عبادت او توحید سره پیل کېدل او وروسته یې د هېوادونو مشران اسلام ته را بلل.

د نړۍ یو شمېر رهبران او مشران لکه: د حبشې پاچا، د هغه وخت د بحرین او عمان پاچاهانو د اسلام دین ته را وبلل شول.

### د خیبر غزا

د حدیبی د سولې له تړون څخه وروسته د اسلام دین ورځ په ورځ پراختیا وکړه او دښمنان یې هم په غوسه شول. له دغو دښمنانو څخه د خیبر د سیمې یهودیان وو چې مسلمانانو ته یې ستونزې رامنځ ته کولې. په همدې موخه پیغمبر ﷺ د هجرت په اووم کال کې له هغوی سره مقابلې ته ور ودانګل او د هغوی کلا یې کلابنده کړه، په پایله کې مسلمانانو د هغوی کلاګانې فتحه او بری یې لاس ته راوړ.



## د موته غزا

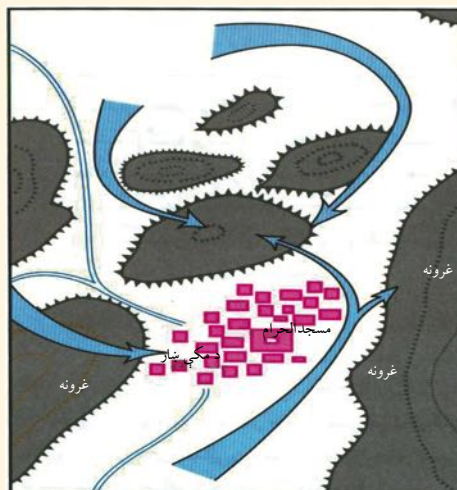


د موتې غزا

د هجرت په اتم کال حضرت محمد ﷺ خپل استازی د بصري واکمن ته ( د سوريې په سويل کې د حوران په ولايت کې يو ښار دی) ولېږه، خو هغه استازی د لارې په اوږدو کې د موته په سيمه کې په شهادت ورسېد او دغه عمل په موته کې د مسلمانانو د جگړې لامل شو. چې د هغه په لړ کې د مسلمانانو درې سرداران جعفر بن ابي طالب، زيد بن حارث او عبدالله بن رواحه په شهادت ورسېدل او غزا د خالد بن وليد د تدبير له امله پای ته ورسېده.

## د مکې فتحه

د حديبې له سولې څخه دوه کاله وروسته مشرکينو تړون مات کړ. له دې امله د اسلام پېغمبر ﷺ د هجرت په اتم کال له يو لوی لښکر سره د مکې په لور حرکت وکړ او مکه له جگړې او وینې تویدنې پرته فتحه شوه. په دې توگه بتان له منځه يووړل شول او کعبه يو ځل بيا د يو خدای ﷻ د عبادت ځای وگرځېد. په دې وخت کې ابوسفیان چې د اسلام د سر سختو دښمنانو څخه و، مسلمان شو. د مکې سوبې چې د حجاز تر ټولو لوی او مهم ښار او د عربو ديني او سوداگريز مرکز و، د اسلام د لوړتيا اوازه يې د عربستان ټولو خلکو ته ورسوله. تر هغې وروسته ډلې ډلې خلک راتلل او د اسلام په سپېڅلي دين مشرف کېدل.

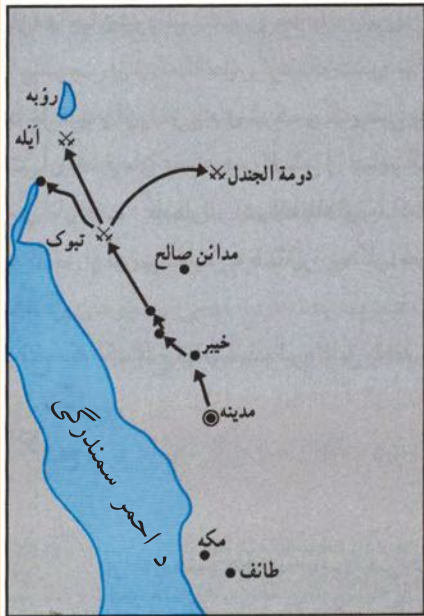


مکې معظمې ته د اسلام د ځواکونو د راتگ لاره

## د حنين غزا

حضرت محمد ﷺ د مکې له فتحې وروسته خبر تر لاسه کړ چې د هوازن قبيله د مالک بن عوف په مشرۍ او د ثقیف د کورنۍ په ملتيا د مسلمانانو پر وړاندې جگړې ته چمتو شوي دي. حضرت محمد ﷺ له يو ځواک سره د حنين په دره کې د کفارو له لښکر سره مخ شو او هغه ته يې سخته ماتې ورکړه او ډېر غنيمتونه يې تر لاسه کړل.

## د تبوک غزا



د تبوک غزا

په شمالي پولو کې د روم د لښکرو د حرکت د خبر له خپرېدو سره سم حضرت محمد ﷺ له ځنډ پرته د جهاد فرمان صادر کړ. په دې وخت کې هوا توده او د ځمکې د پیداوارو د اخیستلو وخت و. ځینې عوامل لکه زیات واپن، سخته لار او له رومي جگړه مارانو سره مقابله د دې لامل شول چې دغه جگړه د یو الهي ازماينت په څېر د رښتینو مومنانو لیکه له ظاهري مسلمانانو څخه بېله کړي. خدای ﷻ د توبې په سوره کې د دې پېښې یادونه کړې چې منافقینو په بېلا بېلو پلمو سره په دغې جگړې کې له گډون څخه ډډه وکړه. که څه هم دغه لښکر اېستنه له رومیانو سره په پوځي نښتې پای ته و نه رسېدله، خو د مسلمانانو د جهاد فکر ډېره پراختیا ومونده. دغه غزا د اسلام د پیغمبر ﷺ وروستی غزا وه چې د هجرت په نهم کال کې پېښه شوه.

لنډه دا چې حضرت محمد ﷺ په ۲۸ غزاګانو کې گډون درلود چې په ۹ غزاګانو کې جگړه پېښه شوې ده او پاتې نورې یې پرته له کومې جگړې سر ته رسېدلې دي. همدارنگه حضرت محمد ﷺ له خپلو لارویانو څخه په لس گونو استازي د جزیره العرب په شاو خوا کې د دې لپاره گمارلي وو چې د اسلام دښمنان وځپي، او د اسلام سپیڅلي دین ته پراختیا ورکړي.

## د اسلام د پیغمبر ﷺ د ژوند وروستی کلونه

حضرت محمد ﷺ د الله ﷻ وروستی پیغمبر، د هجرت په یوولسم کال (۶۳۲ ز) د (۶۳) کلونو په عمر په مدینه منوره کې له دې نړۍ څخه رحلت وکړ. هغه د عمر په اوږدو کې د عادي خلکو په شان ژوند کاوه. کور، خواړه او کالي یې ساده وو. هیڅ کله یې ځان له نورو څخه غوره نه گاڼه. د الهي کلام (قرآن شریف) له احکامو سره سم له ملگرو او مومنانو سره مهربانه او د کافرانو او مشرکینو پر وړاندې سر سخت و. کوچنیانو سره یې زیاته مینه درلودله. په ښځو او د خپل کور په نورو غړو مهربانه و. پیغمبر ﷺ داسې یو شخصیت و چې قرآني ارشاداتو د ده په ځان کې انعکاس موندلی و، ځکه د ده ژوند د مسلمانانو لپاره یوه بېلگه ګرځېدلې وه.

د هجرت (۱) کال (۶۲۲ ز)	په مدینې کې د اسلام ټینګښت، د قبا او نبوي جومات جوړول، د مسلمانانو تر منځ د ورور ولی ټینګښت او له یهودیانو سره د تړون لاسلیک.
د هجرت (۲) کال (۶۲۳ ز)	د بدر غزا، د مسلمانانو بریالیتوبونه او په عربستان کې د اسلام د پراختیا اوازې.
د هجرت (۳) کال (۶۲۴ ز)	د احد غزا، د یو شمېر مجاهدینو سرغړونه، د حضرت حمزه شهادت او د کفارو پرشاتګ.
د هجرت (۵) کال (۶۲۶ ز)	د خندق غزا، د اسلام د دښمنانو یووالی، د خندق کېدل او د مسلمانانو بریا.
د هجرت (۶) کال (۶۲۷ ز)	د حدیبیې سوله، اسلام ته د ګاونډیو هېوادونو د پاچاهانو بلنه او د اسلام پراختیا.
د هجرت (۷) کال (۶۲۸ ز)	د خیبر فتحه.
د هجرت (۸) کال (۶۲۹ ز)	د مکې فتحه - د بتانو ماتول.
د هجرت (۱۰) کال (۶۳۱ ز)	د پیغمبر ﷺ وروستی حج.
د هجرت (۱۱) کال (۶۳۲ ز)	د پیغمبر ﷺ رحلت.

### په ټولګي کې فعالیت

زده کوونکي دې په دريو يا پنځو کسيزو ډلو ووېشل شي د (۱-۱۰) کالونو مهمې پېښې او د هجرت ۱۱ کال دې له يو بل سره تکرار او لنډيز کړي.

### پوښتنې

- ۱- مسلمانانو کوم ځای ته هجرت وکړ، او ولې؟
- ۲- کفارو د مسلمانانو پر وړاندې په کوم تړون لاس پورې کړ؟
- ۳- غزا تعريف کړئ؟
- ۴- حضرت محمد ﷺ کومو پاچاهانو ته د اسلام بلنليک واستاوه؟ کوم پاچا ليک او پيغام رسوونکي ته درناوی ونه کړ او څه پایله یې درلوده؟
- ۵- مکه معظمه څرنگه فتحه شوه؟
- ۶- د الهي وروستني پیغمبر حضرت محمد ﷺ د خوی او اخلاقو په هکله تبصره وکړئ.
- ۷- د پیغمبر ﷺ له ژوندانه څخه مو څه زده کړه وکړه؟
- ۸- د غزاګانو پیغام څه و؟

### له ټولګي بهر فعالیت

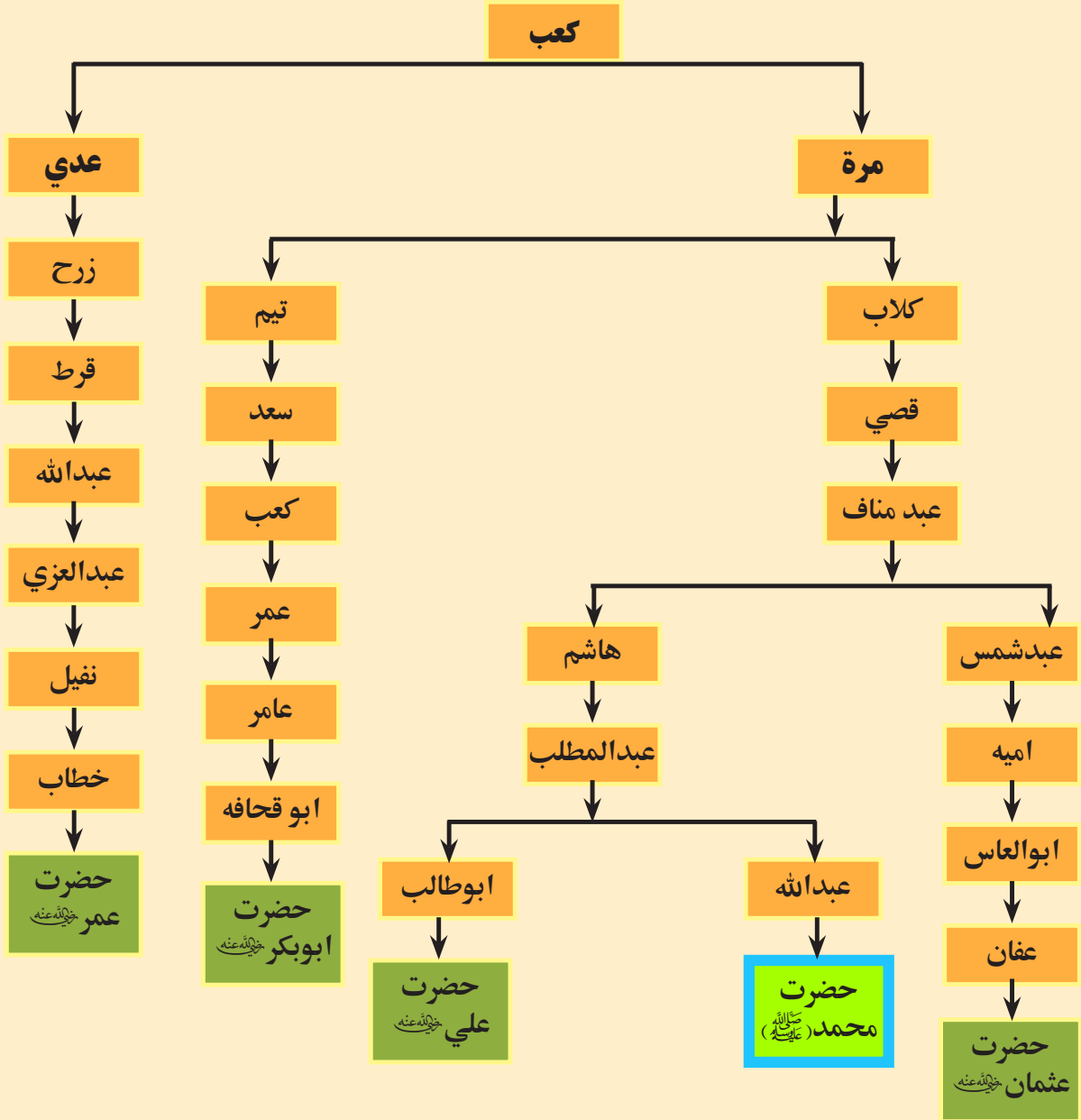
حضرت محمد ﷺ څرنگه ژوند کاوه، په دې هکله یو مطلب برابر او په ټولګي کې یې ووايئ.



## دویم خپرکی خلفای راشدین

په دې خپرکي کې به د خلافت د مفهوم، د خلافت د رامنځ ته کېدو او د خلفای راشدینو د دورې په هکله چې د اسلام د تاریخ په صدر کې شاملېږي، معلومات تر لاسه کړو.

د حضرت محمد ﷺ او د خلفای راشدینو د نسب شجره:



# د خپرکي موخې

هيله کېږي چې زده کوونکي د دې خپرکي په پای کې لاندینو (پوهنیزو، مهارتي او ذهنيتي) موخو ته ورسېږي.

- ۱- د خلافت په مفهوم او شرایطو باندې پوه شي.
- ۲- د خلفای راشدینو (حضرت ابوبکر صدیق رضی اللہ عنہ، حضرت عمر رضی اللہ عنہ، حضرت عثمان رضی اللہ عنہ) او حضرت علی (کرم الله وجهه) خلافت ته د رسېدو له څرنګوالي سره به بلد شي.
- ۳- وکولای شي د خلفای راشدینو کړنې د هغه وخت په شرایطو کې تحلیل کړي.
- ۴- وکولای شي د خلفای راشدینو کړنې، خوی او خصلت د خپل ژوند تګلاره وګرځوي.
- ۵- په اسلامي حکومت او اسلامي اصولو باندې پوره باور پیدا کړي.

## د خلافت معنا او مفهوم

په دې لوست کې باید دغه پوښتنو ته ځواب ورکړو. خلافت څه ته وايي؟ د خلافت شرایط کوم دي؟

### د خلافت معنا او مفهوم څه دی؟

خلافت په لغت کې د نیابت په معنا وي او د شریعت په اصطلاح؛ د دین د اقامې لپاره عمومي ریاست، د دیني علومو بیا ژوندي کول، د اسلام د ارکانو اقامه، جهاد، د عدالت ټینګول او د ظلم مخنیوی او د پیغمبر ﷺ په نیابت امر بالمعروف او نهی عن المنکر د خلافت له اصولو څخه دي.

له دې امله خلافت د اسلامي نظام پر بنسټ یو جوړ شوی ځانګړی حکومت دی. د اسلام خلیفه د شریعت د مقرراتو له مخې، د مسلمانانو دیني او دنیوي چارې د اسلام له پیغمبر ﷺ وروسته د قرآن مجید د احکامو او احادیثو په مطابق پر مخ وړې. د خلیفه دنده یواځې په سیاست او حکومت باندې پای ته نه رسېږي، بلکې د خلیفه ډېره مهمه دنده د لوی خدای ﷻ د بنده ګانو سمون، ارشاد او لارښوونه ده چې په دې اړه یې له ټولو شته امکاناتو څخه هر اړخیزه او ښه ګټه اخلي. ټولنیز عدالت یې رامنځ ته کړي او د خلکو د سوکالی لپاره یې هڅه کوي. همدارنګه دنده لري تر څو د اسلام سپېڅلې دین خپور او د اسلامي نظام لمن په نړۍ کې وغزوي. ځکه چې خلیفه په دې نړۍ کې د مسلمانانو او په آخرت کې د خدای پاک پر وړاندې مسؤل او ځواب ورکوونکی دی.

د خلفای راشدینو دوره، زرین عصر او د اسلام د صدر د دورې یوه برخه ده، په دې دوره کې یواځې عدالت، تقوا، رښتینولۍ او دینداری حکومت کاوه. هر چا چې هر عمل تر سره کاوه، د حقیقت له مخې و، مؤرخین او پوهان، دغه دوره د اسلامي سیاسي نظام ډېره ښه بېلګه ګڼي.

### د خلافت شرطونه

- ۱- مسلمان وي
- ۲- عاقل وي
- ۳- بالغ وي
- ۴- نارینه وي
- ۵- پوهه ولري
- ۶- عدالت ولري



۷- اهلیت ولري

۸- خپلواک وي

۹- روحي او ځاني سلامتيا ولري

د خلفای راشدينو په دوره کې، د خلافت موضوع د اسلام د غورو مشرانو په سلا او مشورې سره حل کېدله. څرنګه چې حضرت ابوبکر صدیق رضي الله عنه د اسلام د سترو مشرانو (مهاجرو او انصارو) له مشورې وروسته، حضرت عمر رضي الله عنه خپل ځايناستی وټاکه او حضرت عمر رضي الله عنه د هر ډول ګډوډيو د مخنيوي لپاره يو شمېر اصحاب دغه مقام ته نوماند کړل، تر څو د يو بل په مشورې سره خليفه وټاکي او هېڅ يو هم د خلفای راشدينو څخه داسې نظر نه درلود چې خلافت ارثي کړي، ان تر دې چې حضرت عمر رضي الله عنه خپل زوی حضرت عبدالله د شورا پلاوي د غړي په توګه وټاکه، خو د خلافت لپاره يې د هغه له ټاکل کېدلو څخه خلک منعه کړل. په پای کې شورا حضرت عثمان رضي الله عنه وټاکه او د هغه له شهادت څخه وروسته حضرت علي رضي الله عنه پرته له هغه شان مراسمو خلافت ته ورسېد. په دغه مهال کې د پېغمبر صلی الله علیه و آله ډېر زيات شمېر صحابه وو په مدينې منوره کې شتون نه درلود. د هغوی يو شمېر حضرت علي (کرم الله وجهه) ته بيعت وکړ او يو شمېر نورو له بيعت څخه ډډه وکړه.

### په ټولګي کې فعاليت

زده کوونکي دې په درې يا پنځه کسيزو ډلو ووېشل شي. د خلافت د شرطونو په اړه دې له يو بل سره خبرې اترې وکړي. د هغوی يو تن دې پایله نورو ټولګيوالو ته ووايي.

### پوښتنې

- ۱- خلافت يعنې څه؟
- ۲- د خلافت شرايط د تختې پر مخ وليکئ.
- ۳- د اسلام پېغمبر حضرت محمد صلی الله علیه و آله او د خلفای راشدينو عصر ته ولې زرينه دوره او د اسلام صدر وایي؟

### له ټولګي بهر فعاليت

د لوست په اړه د پورتنیو پوښتنو په څېر دوې دوې پوښتنې برابرې کړئ.

## د خلافت د جوړېدو سریزه

په دې لوست کې به د حضرت محمد ﷺ له رحلت وروسته د خلافت د جوړېدو له څرنگوالي سره بلدتیا تر لاسه کړئ.

اسلامي دولت د هجرت په لومړي کال کې د حضرت محمد ﷺ په وسيله په مدينې منوره کې رامنځ ته شو. هغه مهال مسلمانان يعنې د پېغمبر ﷺ د يارانو شمېر زرو تنو ته نه رسېده چې مهاجر او انصار په کې شامل وو. له هماغه پيل څخه دغو لږ شمېر کسانو، د خپل کار بنسټ په مرستې، ورورولې، برابري او مشورو سره کېښود. پېغمبر ﷺ د هغوی تر منځ د ورورولې (مواخات) تړون رامنځته کړ، تر هغې کچې پورې چې د هر مسلمان خیر او مصلحت په کې شامل و او د يو يو تن خیر او مصلحت ټوليز مصلحت گڼل کېده.

د همدې لپاره د جماعت لمونځ رامنځ ته شو چې دنيوي پايله يې يووالی او د لارښوود اطاعت او د يو بل له حال څخه خبرېدل دي. زکات د اسلامي اقتصادي نظام او تشکيلاتو بنسټ و، يعنې د زکات په رامنځ ته کېدو سره بيت المال رامنځ ته شو.

ښکاره ده چې هر دولت رژيم لري او هر يو له دغو رژيمو څخه د ځانگړو قوانينو او مقرراتو تابع دی. هرو مرو هر رژيم بايد دوه موسسې ولري. دغه دوه موسسې له پوځ او شتمنۍ څخه عبارت دي، ځکه هېڅ دولت يا نظام له دغو دوو موسسو څخه پرته نشي کولای، خپل سياسي او اقتصادي ژوند ته دوام ورکړي. پېغمبر ﷺ د خپل ژوند په مهال، د مسلمانانو د ديني او دنيوي چارو مشر و. خلافت چې د پېغمبر ﷺ له رحلت وروسته منځ ته راغی، يو ديني او دنيوي منصب و، خلفای راشدين هم د همدغه منصب او سمت درلودونکي وو، يعنې د حضرت رسول اکرم ﷺ کرني يې کارولې.

د هغه حضرت له رحلت څخه وروسته د پېغمبر ﷺ د ځای ناستي په اړه د مهاجرينو او انصارو تر منځ اختلافات رامنځ ته شول. مهاجرينو ويل مور خپل خپلوان او هېواد پرېښود او له پېغمبر ﷺ سره مدينې منورې ته راغلو، له نورو څخه مور ډېر غوره يو او بايد د پېغمبر ﷺ ځايناستی له مور څخه وي او په خپله پېغمبر ﷺ له مور څخه و، د انصارو څرگندونې دا وې که چېرې زموږ ملگرتيا نه وای، اسلام دومره پرمختگ نه کاوه. په دې لړ کې حضرت ابوبکر صدیق رضي الله عنه يو حديث چې له پېغمبر ﷺ څخه يې اوريدلی و، انصارو ته واوروه چې د هغه حديث ژباړه دا ده: د مسلمانانو واکمن بايد له قريشو څخه وي، انصارو چې دا واورېد، له خپلې غوښتنې څخه يې ډډه وکړه، خو د مهاجرينو په منځ کې گډوډۍ رامنځته شوې چې له هغوی څخه به کوم يو خليفه يا د پېغمبر ﷺ (ځايناستی) وي او ورو ورو کار ستونز من کېده، په دغه مهال کې حضرت عمر رضي الله عنه چې د اسلام له سترو مشرانو څخه و، له حضرت ابوبکر صدیق رضي الله عنه

سره يې بيعت وکړ. خلکو هم له هغه څخه ملاتړ وکړ او حضرت ابوبکر صدیق رضي الله عنه له دې امله چې هغه لومړی سړی و چې اسلام يې ومانه، هغه د عمر له پلوه تر ټولو مشر هم و او تر ټولو مهمه دا چې پيغمبر صلى الله عليه وسلم د ناروغۍ پر مهال حضرت ابوبکر صدیق رضي الله عنه په خپل ځای جومات ته واستاوه تر څو د جماعت امامت وکړي، بيعت يې ور سره وکړ.

### په ټولگي کې فعاليت

زده کوونکي دې په درې يا پنځه کسيزو ډلو ووېشل شي ، هره ډله دې د لوست لټليز د يو بل په مرسته وليکي له هغو څخه دې يو تن نورو ته ووايي.

### پوښتني

- ۱- د اسلام پيغمبر حضرت محمد صلى الله عليه وسلم په مدينې منوره کې د څه شې بنسټ کېښود؟
- ۲- څرنگه خلافت رامنځ ته شو؟
- ۳- حضرت ابوبکر صدیق رضي الله عنه څرنگه خلافت ته ورسېد؟

### له ټولگي بهر فعاليت

خلافت يعنې څه؟ په دې اړه د سيمې د امام په مرسته يوه مقاله وليکئ چې له پنځو کړښو لږ نه وي.



## د حضرت ابوبکر صدیق رضي الله عنه خلافت له (۱۱ تر ۱۳ هـ. ق کلو نو پوري)

په دې لوست کې به د مسلمانانو د لومړني خليفه، حضرت ابوبکر صدیق رضي الله عنه خلافت ته د رسېدلو په څرنګوالي او د دوی له مهمو کارونو سره بلد شئ.

تاسو مخکې د حضرت محمد صلى الله عليه وسلم د ژوند په هکله او د اسلام د پيدايښت او پراختيا له څرنګوالي سره د رسول اکرم صلى الله عليه وسلم په زمانه کې اشنايي پيدا کړه. اوس د حضرت محمد صلى الله عليه وسلم له رحلت څخه وروسته يعنې د خلفاي راشدينو د دورې د اسلامي ټولنې په حالاتو باندې خبرې وکړو.

### د حضرت ابوبکر صدیق رضي الله عنه خلافت

د حضرت ابوبکر صدیق رضي الله عنه اصلي نوم عبدالله بن ابوقحافه په صديق ملقب او کنيه يې ابوبکر دی. د عام الفيل له پېښې دوه کاله او څو مياشتې وروسته يې په مکې مکرّمې کې نړۍ ته سترګې پرانيستلې. د حضرت محمد صلى الله عليه وسلم له رحلت څخه وروسته مهاجرين او انصار په يوه سيمه کې چې د سقيفه بني ساعده په نامه يادېږي، سره راټول شول چې د مسلمانانو د چارو د ښه سمون لپاره، يو ښه سړی د خليفه په توګه وټاکي. له يو لړ خبرو اترو او مشورو وروسته د هجري قمري په يوولسم کال د ربیع الاول په مياشت کې حضرت ابوبکر صدیق رضي الله عنه د خليفه په توګه وټاکل شو او ټولو انصارو او مهاجرينو د زړه له کومې له هغه سره بيعت ((بيعت هغه تړون و چې د فرمان ورکونکي او فرمان منونکي تر منځ تړل کيده او دويم د خپل د ژوندانه ټول واک يې لومړني ته ورکاوه او ژمنه به يې کوله چې د هغه فرمان په ټولو چارو کې چې له شريعت سره سمون ولري که د ده په ګټه يا زيان هم اوسي، مني)). له بيعت اخيستني وروسته حضرت ابوبکر صدیق رضي الله عنه دا خطبه ولوستله چې ژباړه يې دا ده: «ای خلکو! زه په تاسو مشر ټاکل شوی يم، خو له تاسو ښه نه يم. که نېک او سم کارونه مې وکړل، له ما سره مرسته وکړئ او که چېرې ناوړه کړه مې وکړل، سمې لارې ته مې راوړوئ. ای خلکو! ستاسو ځواکمن زما پر وړاندې کمزوری دی، تر هغه چې د خلکو حق تری واخلم او ستاسې کمزوری زما پر وړاندې ځواکمن دی تر څو د ده حق له بل څخه واخلم د الله جل جلاله په مرسته. ای خلکو! هېڅوک له تاسو بايد له جهاد څخه لاس وانخلي. کوم خلک چې له جهاد څخه لاس واخلي، خوار او بې وزلي به شي. تر هغه وخته چې زه د خدای جل جلاله او پېغمبر صلى الله عليه وسلم فرمان منونکی يم، له ما څخه اطاعت وکړئ او که د خدای جل جلاله نافرمانی مې وکړه، زما لار ویتوب مه کوئ».

د حضرت محمد صلى الله عليه وسلم له رحلت وروسته هغه ځواکمن کسان چې د دوی نفوذ کم شوی و، له وخت څخه په ګټې اخيستني سره يې د اسلام د سپېڅلي دين پر وړاندې مخالفت کاوه او په پايله کې د مکې مکرّمې، مدينې منورې او د طايف خلکو په استثنا نور عرب قبایل له دين څخه واوښتل او غوښتل يې چې د اسلام دين له خطر سره مخ کړي چې د حضرت ابوبکر صدیق رضي الله عنه د ښه تدبير له مخې دغه ګواښ له منځه لاړ.

## تر ټولو مهم کارونه چې پدې وخت کې تر سره شول، عبارت دي له:

- هغه کسان چې د زکات له ورکړې څخه یې سرغړونه کوله، حضرت ابوبکر صدیق رضی الله عنه په ډېر لوړ تدبیر سره د اسلام دین ته متوجه کړل او مرتدانو ته یې د دوی د شومو کړنو سزا ورکړه.
- د قرآن شریف هغه مبارک آیتونه او سورتونه چې په بېلا بېلو پاڼو کې لیکل شوي وو، په صحیفو کې راټول کړای شول.
- د حضرت ابوبکر صدیق رضی الله عنه د خلافت په وخت کې د اسلام د خپرېدو لارې د حجاز (سعودي عربستان) ټولو سیمو او شام ته چې له (سوريې، لبنان، اردن او فلسطين) څخه عبارت دي او همدارنگه بين النهرين (عراق) ته، پرانیستل شوې.
- حضرت ابوبکر صدیق رضی الله عنه د هجري قمري په دیارلسم کال کې دوه کاله او درې میاشتو خلافت وروسته د (۶۳) کلنۍ په عمر وفات او په نبوي روضه کې خاورو ته وسپارل شو.

## په ټولګي کې فعالیت

په ډله ییز کار کې د لوست لندیز خپلو ټولګیوالو ته وړاندې کړئ.

## پوښتني

- ۱- حضرت ابوبکر صدیق رضی الله عنه څرنگه خلافت ته ورسېد؟
- ۲- د حضرت ابوبکر صدیق رضی الله عنه د خلافت په زمانه کې کوم کارونه تر سره شول؟
- ۳- لاندې جملې په خپلو کتابچو کې ولیکئ، سمه جمله د (ص) او نا سمه جمله د (غ) په توري سره په نښه کړئ.  
الف- حضرت ابوبکر صدیق رضی الله عنه په ۱۲ هجري قمري کال کې خلافت ته ورسېد. ( )  
ب- حضرت ابوبکر صدیق رضی الله عنه د ۶۳ کلنۍ په عمر وفات شو. ( )  
ج- حضرت ابوبکر صدیق رضی الله عنه ته له دې کبله چې د حضرت محمد صلی الله علیه و آله هره خبره به یې منله د حضرت محمد صلی الله علیه و آله له خوا ورته د (صدیق) لقب ورکړل شو. ( )  
د- حضرت ابوبکر صدیق رضی الله عنه له ژوند څخه مو څه زده کړل؟ تبصره پرې وکړي.

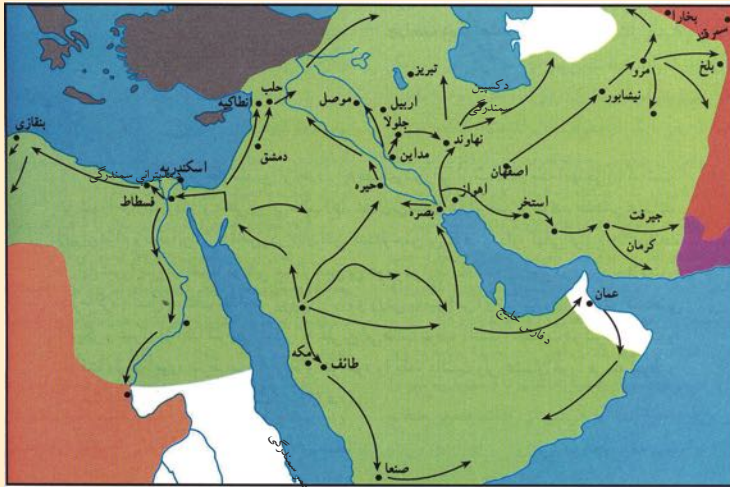
## له ټولګي بهر فعالیت

د حضرت ابوبکر صدیق رضی الله عنه د خوی او خصلت تر سرلیک لاندې یوه مقاله ولیکئ چې له پنځو کرښو لږه نه وي.

## د حضرت عمر فاروق رضی الله عنه خلافت

(د اسلام د خپريدو څلاند پير له ۱۳ تر ۲۳ هـ.ق. کلونو پيروي)

په دې لوست کې به د حضرت عمر فاروق رضی الله عنه خلافت ته د رسېدو په څرنگوالي او د دوی له کړنو سره په لنډه توگه بلد شئ.



د خلفای راشدینو په پیر کې د اسلام پرمختگ

حضرت عمر رضی الله عنه بن خطاب ملقب په فاروق، په مکې معظمې کې د عام الفیل په ۱۳ کال کې زېږېدلی دی. حضرت عمر رضی الله عنه د بعثت په شپږم کال په څرگند ډول د اسلام په دین مشرف شو. دغه کار مشرکین سخت په وېره کې واچول.

هغه مهال چې حضرت ابوبکر رضی الله عنه ناروغه شو، له خپلو اصحابو کرامو سره یې مشوره وکړه. د مشورې په پایله کې ټولو اصحابو د غې سپېڅلي او درنې دندې ته حضرت عمر رضی الله عنه وټاکلو.

کله چې حضرت ابوبکر صدیق رضی الله عنه پدې هکله د خلکو خوښه تر لاسه کړه، او یو فرمان یې ولیکلو، تر څو هغه د ده له مړینې وروسته د مسلمانانو په وړاندې ولوستل شي. پدې ډول حضرت عمر رضی الله عنه د حضرت ابوبکر صدیق رضی الله عنه له مړینې وروسته د هجرت په دیار لسم کال د خلافت درنده او سپېڅلې دنده پر غاړه واخیسته.

هغه ستر کارونه چې حضرت عمر رضی الله عنه د خلافت په اوږدو کې تر سره شول، عبارت دي له:

- ۱- د اسلامي خلافت لمن په ختیځ کې د عراق او ایران لور ته ورسېده او په لویدیځ او شمال کې ټول شام، مصر او د افریقا شمالي برخې د هغه په ولکه کې راغلي.
- ۲- د خلافت په قلمرو کې د اداره کولو لپاره، منظم دفترونه منځته راغلل او د لومړي ځل لپاره بیت المال (خزانه) او مالیاتي اداره جوړه شوه.
- ۳- د چارو د تر سره کولو لپاره متقی او پرهیز گاره کسان وگمارل شول.
- ۴- د خلکو د ژوند د نېکمرغۍ او ښه کېدو لپاره لارې، پلونه، دیني مدرسې، جوماتونه او نوي ښارونه جوړ شول.
- ۵- د حضرت محمد صلی الله علیه و آله د هجرت نېټه دمسلمانانو د تاریخ پیل (مبدا) وټاکل شوه.
- ۶- د لومړي ځل لپاره له بهرنیو سوداگرو څخه د مالیې (ټکس) اخېستل دود شول.



لنډه دا چې هر چا کولای شول په آسانی له دوی سره وويني. د شپې له خوا به یې گزمه کوله تر څو د خلکو له احوال څخه خبر شي. د قضاوت په هکله به یې د خپلو او پردیو تر منځ توپیر نه کاوه. پر حضرت عمر رضی الله عنه باندې د ذی الحجې د میاشتې په ۲۷ نېټه په داسې حال کې چې په نبوي جومات کې د سهار په لمانځه ولاړ و، ناڅاپي د یو مجوسي (اتش پرست) مریې له خوا چې (ابولؤلؤ) نومېده، په زهر و لړلې توره ورسره وه، برید وشو چې د تپې کېدو له کبله یې هوښه شو. کله چې په هوښ راغی نو ۶ کسه یې وټاکل چې د ده له شهادت وروسته یو له دوی څخه خلیفه وټاکي. حضرت عمر رضی الله عنه له لس کالو او پنځو میاشتو خلافت وروسته د هجرت په (۲۳) کال د ۶۳ کالو په عمر، د شهادت لوړ مقام ته ورسېد او د حضرت محمد صلی الله علیه و آله د زیارت تر څنګ خاورو ته وسپارل شو.

## په ټولګي کې فعالیت

زده کوونکي دې په درېو او یا پنځه کسيزو ډلو ووېشل شي، د حضرت عمر رضی الله عنه هغه کارونه چې د ده د خلافت په وخت کې تر سره شوي دي، خبرې اترې دې پرې وکړي او پایله دې د یو استازی لخوا نورو ته وویل شي.

## پوښتني

- بیت المال څه وخت منځته راغی؟ د څه لپاره؟
- مالیاتي دفترونه د څه لپاره منځ ته راغلل؟
- د حضرت عمر فاروق رضی الله عنه له ژوند څخه مو څه زده کړل؟ خبرې پرې وکړئ.

## له ټولګي څخه بهر فعالیت

د حضرت عمر رضی الله عنه د شخصیت په اړه یوه مقاله ولیکئ چې له پنځو کرښو څخه کمه نه وي.

## د حضرت عثمان رضي الله عنه خلافت له (۲۳ تر ۳۵ هـ. ق کلونو پورې)

په دې لوست کې دغو پوښتنو ته ځواب ورکول کېږي: حضرت عثمان رضي الله عنه څرنگه خلافت ته ورسېد؟ د دوی د خلافت دوره د اسلام د پراختیا او فتوحاتو له پلوه څرنگه وه؟ او د هغه په وخت کې کوم کارونه تر سره شول؟

حضرت عثمان رضي الله عنه بن عفان ملقب په ذوالنورین، پنځه کاله له عام الفیل څخه وروسته نړۍ ته راغی. د حضرت عمر رضي الله عنه له شهادت وروسته هماغه شپږ کسه (حضرت عثمان رضي الله عنه، حضرت علي رضي الله عنه، حضرت طلحه رضي الله عنه، حضرت زبیر رضي الله عنه حضرت عبدالرحمن بن عوف رضي الله عنه، او حضرت سعد بن وقاص رضي الله عنه د اسلامي شورا په نامه سره راټول شول. له درېو ورځو مشورو وروسته یې حضرت عثمان رضي الله عنه د خلیفه په توګه وټاکه.

هغه ستر کارونه چې په دې وخت کې سر ته رسېدلې، عبارت دي له:

- حضرت عثمان رضي الله عنه خپله ټوله شتمني د اسلام د دین د خپرېدو په لار کې په لګښت ورسوله.  
- هغه بلواګانې چې د خلافت په ګوټ ګوټ کې یې سر راپورته کړې و، په دې وخت کې له منځه یووړل شوي.

- قرآن کریم چې د حضرت ابوبکر صدیق رضي الله عنه په زمانه کې راټول او غونډل کړای شو، د حضرت عثمان رضي الله عنه په وخت کې په صحیفو کې ولیکل شو او اسلامي فتحه شوو سیمو ته ولېږدول شو.  
- دوه ډوله سوېې د مسلمانانو په برخه شوې:

الف: د هغو سیمو دویم ځلي فتحه چې د حضرت عمر رضي الله عنه په وخت کې فتح شوې وې، خو د ده له شهادت وروسته یې بلواګانې کړې وې لکه: ری (تهران)، همدان، سکندریه او آذربایجان.

ب: د نوو ځمکو فتحه کول لکه: د کوچنۍ اسیا (ترکیه) او د شمالي افریقا ځینې سیمې، همدارنگه د قبرس ټاپو چې د رومیانو په لاس کې و، فتحه شو او د افغانستان ډیرې سیمې په دې زمانه کې د اسلام په سپېڅلي دین مشرفې شوې. سمندري ځواکونه په دې وخت کې منځته راغلل.

د حضرت عثمان رضي الله عنه د خلافت په وروستیو کلونو کې ځینو کسانو د دوی له نرمۍ څخه ناوړه ګټه پورته کړه او هغوی د ګډوډیو رامنځته کېدو ته لمن ووهله، تر دې بریده چې مخالفان د درېیم خلیفه کورته ورپورته شول او هغه یې په داسې حال کې چې د قرآن عظیم الشان په تلاوت بوخت و، د ۸۴ کالو په عمر، په شهادت ورساوه.  
حضرت عثمان رضي الله عنه دوولس کاله خلافت وکړ او د هجرت په (۳۵) کال یې خلافت پای ته ورسېد.

## په ټولگي کې فعاليت



په ډله ييز فعاليت کې هغه کارونه چې د حضرت عثمان رضي الله عنه په زمانه کې سر ته رسېدلي دي، په يوه چارټ کې برابر کړئ.

## پوښتنې



- ۱- د حضرت عثمان رضي الله عنه خلافت څو کاله و؟
- ۲- د افريقا کومې سيمې د درېيم خليفه په مهال فتحه شوې؟
- ۳- حضرت عثمان رضي الله عنه څرنگه خلافت ته ورسېد؟
- ۴- لاندې جملې په خپلو کتابچو کې وليکئ او سم عبارت د (ص) په توري او نا سم عبارت د (غ) په توري سره په نښه کړئ.

- حضرت عثمان رضي الله عنه له ۲۳ څخه تر ۳۵ هـ ق کلونو پورې خلافت وکړ ( )
- تهران، همدان او اذربايجان سيمې د دويم ځل لپاره د دريم خليفه په زمانه کې فتحه شوې ( )
- حضرت عثمان رضي الله عنه ، ۱۲ کاله خلافت وکړ او په ۳۵ هـ ق کال په شهادت ورسېد ( )
- د حضرت عثمان رضي الله عنه له ژوند څخه مو څه زده کړل؟ خبرې پرې وکړئ.

## له ټولگي بهر فعاليت



د حضرت عثمان رضي الله عنه د خلافت په اړه يوه مقاله وليکئ چې له شپږو کړنو لږه نه وي.



## د حضرت علي (كرم الله وجهه) خلافت (له ۳۵ تر ۴۰ هـ. ق کلونو پورې)

په دې لوست کې به موږ د حضرت علي کرم الله وجهه د خلافت له دورې سره آشنا شو، سر بېره پر دې د خلفای راشدین د پير په څرنګوالي چې د اسلام د صدر په نوم نومول شوی دی هم وپوهیږئ.

حضرت علي (کرم الله وجهه) د ابوطالب زوی د پیغمبر ﷺ د کاکا زوی او زوم و، په اسدالله ملقب، د حضرت عثمان رضی الله عنه له شهادت وروسته، مهاجرینو او انصارو له حضرت علي رضی الله عنه سره بیعت وکړ. حضرت علي (کرم الله وجهه) د خپل خلافت مرکز په عراق کې د کوفې ښار وټاکه. نوموړي د حضرت محمد صلی الله علیه و آله او دنورو خلفای راشدینو په څېر ساده ژوند خوښاوه.

د حضرت علي (کرم الله وجهه) د خلافت په دوره کې له شام (سوريې) څخه پرته، ټولو اسلامي هېوادونو د هغه پيروی کوله. په هغه زمانه کې حضرت معاويه رضی الله عنه د ابوسفیان زوی د شام حاکم و. حضرت علي (کرم الله وجهه) هغه ته له مرکزي اسلامي حکومت سره د یو ځای کېدو بلنه ورکړه. حضرت معاويه رضی الله عنه د هغه دعوت ونه مانه، حضرت علي رضی الله عنه هغه د شام له حکومت څخه لرې کړ. معاويه د هغه له امر څخه سر غړونه وکړه. همدارنگه حضرت بي بي عایشه رضی الله عنها، طلحه رضی الله عنه، زبیر رضی الله عنه او معاويه رضی الله عنه غوښتل هغه کسان چې حضرت عثمان رضی الله عنه یې په شهادت رسولی و، ژر قصاص شي. خو حضرت علي (کرم الله وجهه) وویل کله چې وضعه ارامه شي، نو د حضرت عثمان رضی الله عنه قاتلانو ته به سزا ورکړای شي. ددغو اختلافاتو له امله و چې د جمل جګړه ونښته او د حضرت علي (کرم الله وجهه) په ګټه پای ته ورسېده.

همدارنگه د حضرت علي (کرم الله وجهه) او معاويه رضی الله عنه تر منځ په صفین کې جګړه ونښته. څرنګه چې د حضرت علي (کرم الله وجهه) د پلویانو بری حتمي و، حضرت معاويه رضی الله عنه د عمرو بن عاص رضی الله عنه څخه وغوښتل چې یوه لاره ولټوي. د عمرو عاص په وړاندیز، د معاويه لښکرو ټولو د قرآن کریم پاڼې اوچتې کړې او نارې یې کړې «موږ ټول د دغه کتاب پیروان یو نو ځکه باید چې په خپلو منځو کې سره ونه جنګیږو.» له دې کبله پرېکړه وشوه چې له هر لوري څخه دې پلاوي وټاکل شي هر څه چې هغوی وویل، حضرت علي (کرم الله وجهه) او حضرت معاويه رضی الله عنه دې ومني. د حضرت معاويه رضی الله عنه پلاوی عمرو بن عاص د حضرت علي رضی الله عنه پلاوی ابو موسی اشعری دوکه کړ او هغه ته یې وویل چې دواړه له خلافت څخه لرې کوو او ابو موسی ور سره ومنله. لومړی ابو موسی له خلافت څخه د حضرت علي (کرم الله وجهه) د ګوښه کېدو اعلان کړ، خو عمرو بن عاص د خپلې ژمنې خلاف داسې اعلان وکړ چې حضرت معاويه رضی الله عنه د مسلمانانو خلیفه دی.

په دې وخت کې د حضرت علي (کرم الله وجهه) یو شمېر پلویانو له ده څخه سرغړونه وکړه او حضرت معاويه رضی الله عنه یې هم په خلافت ونه منلو. دغو خلکو ته خوارج وایي. دوی د مسلمانانو په وژلو لاس پورې کړ. حضرت علي (کرم الله وجهه) اړ شو چې له هغوی سره په نهروان کې مقابله وکړي. د خوارجو له ماتې څخه وروسته، له دوی څخه درې کسانو په خپل منځ کې تړون وکړ چې په یوه ورځ کې حضرت علي (کرم الله وجهه)، حضرت معاويه رضی الله عنه او عمرو بن عاص ووژني. له دې درې کسانو څخه، یوازې عبدالرحمن بن ملجم چې د حضرت علي (کرم الله وجهه) په وژنو مامور شوی و، د روژې د میاشتې په ۱۹ نېټه سهار یې چې د هجرت له (۴۰) کال سره سمون خوري د کوفې په جومات کې د لمانځه کولو په حال کې په حضرت علي (کرم الله وجهه) په

زهرو ککړې تورې سره وار وکړ چې له همدې تپ څخه دوې ورځې وروسته د ۶۴ کلنۍ په عمر په شهادت ورسېد. د ده د خلافت دورې کابو پنځه کاله دوام وکړ. حضرت علي (کرم الله وجهه) د پوهې، تقوا، قناعت، ښو او لوړو اخلاقو څښتن و. د ده د خلافت موده سر تر پایه مبارزه وه. خو له دې سره سره يې وکړای شول چې په دغه موده کې د نورو خلفاوو په شان عدالت پلی کړي او د ظلم په وړاندې په ټينگه مبارزه وکړي.

### د خلفای راشدينو پير ته لنډه کتنه

د حضرت علي عليه السلام له شهادت وروسته د خلفای راشدينو د خلافت زرينه دوره پای ته ورسېده. لنډ دا چې د خلفای راشدينو دوره د الهي احکامو پر بنسټ، د حضرت محمد صلی الله علیه و آله پر سنت او پرهيزگاری ولاړه وه او په عدالت يې پراخوالی وموند. خلفا په ساده ژوند راغلل او بېرته لاړل، د دوی په دوره کې خلافت ډېر روحاني مقاماتو ته ورته و، دولتي او پاچايی شان او شوکت يې نه درلود. خلفای راشدينو خمتا کالي اغوستل، د خرما (کجوري) پوستکی نالی په پښو کولې او د عادي خلکو غوندې يې په کوڅو او بازارونو کې تگ او راتگ کاوه. د خلفای راشدينو په واکمنۍ کې تقوا، پرهيزگاري او عدالت موجود و، د اسلامي حکومتونو لپاره يوه بېلگه وه. دوی له خلکو سره ښه رویه درلوده. ځکه له خلکو سره ښه رویه د اسلام د سپيڅلي دين له اصولو څخه گڼل کېده. د خلفاوو خوراک د ټولو يې وزلو خلکو په شان و.

### په ټولگي کې فعاليت

د ډله ييزو کارونو په واسطه د لاندنيو مطالبو په اړه سره بحث وکړئ. د بحث پایله په ټولگي کې له يو بل سره شريکه کړئ.

- د جمل جگړه - د صفين جگړه
- څنگه د خلافت پلازمېنه له مدينې منورې څخه کوفې ته ولېږدول شوه؟

### پوښتنې

- ۱- حضرت علي (کرم الله وجهه) څرنگه خلافت ته ورسېد؟
- ۲- خوارج څوک وو؟ او ولې دوی ته خوارج ويل کېدل؟
- ۳- حضرت علي (کرم الله وجهه) څرنگه په شهادت ورسېد؟
- ۴- د پورتنۍ پوښتنې په شان هر زده کوونکی دې دوه دوه پوښتنې چمتو کړئ.
- ۵- د حضرت علي (کرم الله وجهه) له ژوند څخه څه پوهېږئ؟ خبرې پرې وکړئ.
- ۶- د خلفای راشدينو له لوستونو څخه مو څه زده کړل؟

### له ټولگي بهر فعاليت

د خلفای راشدينو تر سر ليک لاندې يو مقاله وليکئ چې له پنځو کرښو څخه لږه نه وي.

# د جغرافيې برخه

## لومړۍ څپرکي

### اروپا

#### په دې څپرکي کې لاندې موضوعات لولو.

د اروپا لويه وچه وپيژنئ

جغرافيايي موقعيت او څلور خواوې

طبيعي جغرافيه

سياسي جغرافيه

بشري جغرافيه

اقتصادي جغرافيه

مواصلاتي جغرافيه





## د څپرکي موخې

گرانوزده کوونکو: په دی څپرکي کې لاندنيو علمي موخو سره آشنا شی:

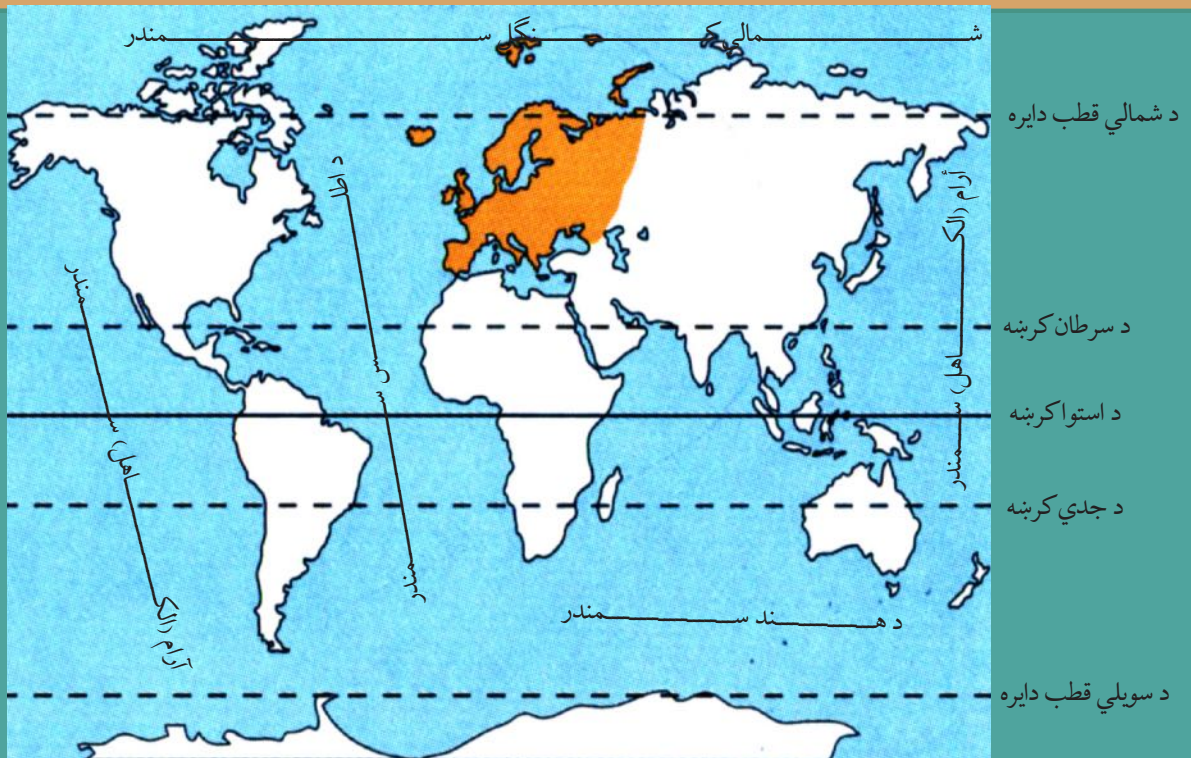
- د اروپا د لويې وچې جغرافيايي موقعيت
- د اروپا د لويې وچې مهم غرونه
- د اروپا د لويې وچې سياسي جغرافيه (سرحدونه او هېوادونه)
- د اروپا د لويې وچې بشري جغرافيه (نفوس، نژاد، ژبې او دين)
- د اروپا د لويې وچې اقتصادي جغرافيه (کرنه، صنعت، سوداگري او اړيکي)
- د اروپا مواصلاتي جغرافيه (ځمکنی، سمندري او هوايي ترانسپورت)

گران زده کوونکي کولای شي لاندې مهارتونه سرته ورسوي.

- د اروپا د لويې وچې نقشې رسمول او د سياسي پولو پېژندل.
- د اروپا د نقشې پر مخ د سیندونو او غرونو تشخیص کول.
- د اروپا د لويې وچې د سياسي واحدونو پېژندل
- د اروپا د لويې وچې د نقشې پر مخ د مهمو کرنيزو توليداتو پېژندل.
- د اروپا د لويې وچې د نقشې پر مخ د غوره کانونو پېژندل.
- د اروپا د لويې وچې د نقشې پر مخ د غوره بندرونو پېژندل.



## د اروپا لويه وچه وپېژنئ



د اروپايي جغرافيايي موقعيت

### پورتني نقشې ته وگورئ کومو سمندرونو او سمندريو اروپا را چاپېره کړي ده؟

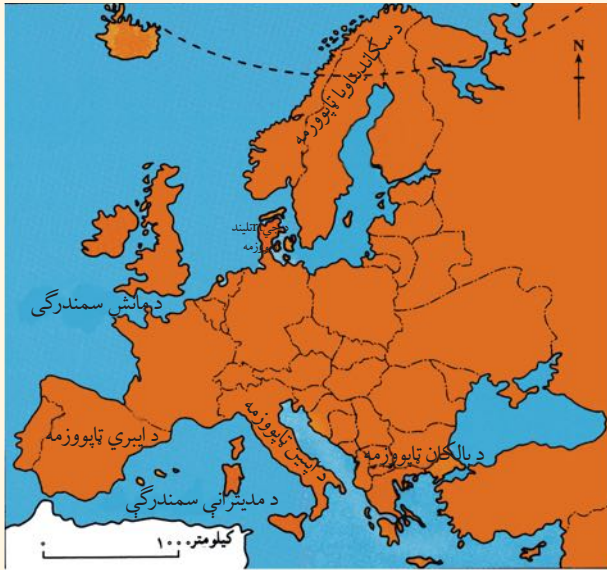
#### جغرافيايي موقعيت او څلور خواوې:

اروپا د نړۍ د کوچنيو لويو وچو له ډلې څخه ده چې په معتدله اقليمي سيمه کې پرته ده. ددې لويې وچې شمال خواته شمالي کنګل سمندر، جنوب خواته يې د مديترانې سمندرګې، ختيځ ته يې د اسيا پراخه لويه وچه، چې د اورال غرونو، د اورال سيند، د کسپين سمندرګې، د قفقاز غرونو او تور سمندرګي په وسيله له اروپا څخه بيله شوې او لويديځ ته يې د اطللس اقيانوس (اتلانتيک سمندر) دی. (۴۱ مخ نقشې ته دې مراجعه وشي).

آيا د اروپا لويه وچه (براعظم) بېله وچه ده؟

اروپا د اسيا له لويې وچې سره نښتې ده او له همدې سببه يو شمير جغرافيه پوهان اسيا او اروپا يوه لويه وچه گڼي او د يوروشيا په نامه يې يادوي.

د اروپا د لويې وچې پراخوالی ۱۰ ميلیونه كيلومتره مربع او په ۲۰۱۷م کال کې يې د وگړو شمير ۸۲۲,۷ ميلیونو تنوته رسېده. ځينې مشهور صنعتي هيوادونه په دې لويه وچه کې پراته دي. د اروپا په قاره کې څو ټاپو وزمې شته، آيا کولای شئ هغه په نقشه کې پيداکړئ او نومونه يې واخلي؟ د پانې د بل مخ په نقشه کې د اروپا ټاپو وزمې کتلاى شئ.



د اروپا د ټاپووزمو نقشه

د اروپا لویه وچه د ماتو سواحلو، زیاتو سمندرګیو او خلیجونو د شته والي له امله چې په وچه کې ننوتی، زیات شمیر ټاپو وزمې رامنځته کړې دي چې موربې دلته د ځینو لویو ټاپووزمو نومونه اخلو:

- د اسکانډیناویا ټاپووزمه، چې په هغې کې د ناروې او سویډن هېوادونه پراته دي.
- د بالکان ټاپووزمه چې په هغې کې د البانیا، بلغاریا، بوسینیا او هرزګوینا، صربستان، کرواسی او مونتینګرو هېوادونه موقعیت لري.

- د ایبریا ټاپووزمه چې په هغې کې د اسپانیا او پرتګال هېوادونه پراته دي.

- د اپنین ټاپووزمه چې په هغې کې د ایټالیا هېواد پروت دی .

### په ټولګي کې فعالیت

ښوونکی دې زده کوونکي په ډلو وویشي او هره ډله دې د لوست د مهم مطلب په هکله بحث او خبرې وکړي او د بحث پایله دې د ډلې استازي ټولګیوالو ته ووايي. همدارنگه دې د پورتنۍ نقشې له مخې د ټاپو وزمو نومونه په خپلو کتابچو کې ولیکي.

### پوښتنې

متن ولولئ او لاندینو پوښتنو ته ځواب ووايئ:

- ۱- د یوروشیا له اصطلاح څخه هدف څه دی؟
- ۲- د اروپا لویه وچه په کومه اقلیمي سیمه کې موقعیت لري؟
- ۳- کوم غرونه د آسیا او اروپا د لویو وچو ترمنځ بېلوونکې طبیعي پوله پېژندل شوې ده؟

### له ټولګي بهر فعالیت

د اروپا بې لیکنې نقشه رسمه کړئ په هغې کې جغرافیایي موقعیت، څلور خوا وې او ټاپو وزمې په گوته کړئ او د جغرافیې په راتلونکي درسي ساعت کې یې په ټولګي کې ووايست.

## د اروپا طبيعي جغرافيه



په پورتنی شکل کې د اروپا طبیعی نقشی ته وگورئ.

## الف - د اروپا د لویې وچې غرونه:

د اروپا لویه وچه، که څه هم ډېره پراخه نه ده، خو بیا هم د جغرافیایي بېلابېلو جوړښتونو او د سواحلو د ننوتو له امله د نړۍ له ټولو وچو څخه اوبو ته زیاتې لارې لري.

د اروپا په لویه وچه کې بیابانونه او بې اوبو او بې وښو دښتې نشته، خو د هغو پرځای ډېر هېوادونه د غرونو لویو او کوچنیو لویو پوښلي دي، چې ځینې یې د جیولوجي (ځمکې پیژندنې) د لومړۍ دورې پورې اړه لري.

د اروپا د لویې وچې غرونه اولورې ژورې په څو برخو وېشل شوي دي؟

د اروپا د لویې وچې په شمالي برخو کې غرونه د ځمکې پیژندنې د علم له نظره زاړه او پخواني دي. لور نه دې او گنځې ډوله څوکې لري. په دغو سیمو کې پراخه چمنونه او ډېر جهيلونه هم لیدل کېږي. د اروپا دې سیمې ته چې په ډېره اوږده دوره کې سولیدلې، لوروالی یې له منځه تللی او پرځای لږې لورې او ژورې منځته راغلي دي د ځمکې پیژندنې له نظره ورته پخوانی اروپا ویل کېږي، لکه د فرانسې د ماسیف سنترال Massif Central د غرونو لړۍ چې د زرو غرونو په نوم شهرت لري.


د اروپا په سوېلي سیمو کې د گونځې لرونکو لورو غرونو لړۍ لیدل کېږي. په دغو سیمو کې په واورو او کنگلونو پټې او تېرې څوکې شته. د غرونو لمنې ډېر سخت څورې لري. د الپ او پیرني غرونه په دې



سیمه کې پراڼه دي. د دې غرونو په منځ کې ډیر ځړوبي او له اوبو څخه ډک سیندونه شته دی. د دغو سیندونو له پاسه د برېښنا لوی بندونه او دستگاوي جوړې شوي، چې له انرژۍ څخه یې په صنعت او د اوبو څخه یې په کرنه کې گټه اخیستل کېږي.

سوپلي سیمې، چې په هغې کې گونځې لرونکي لوړ غرونه شته او اورغورځونې او زلزلې هم په هغې کې منځ ته راځي، د اروپا دې برخې ته ځوانه اروپا ویل کېږي.

د اروپا زړې اوسولېدلی لوړې ژورې



ځواني لوړې ژورې د الپ له تېرو څوکو سره



### په ټولگي کې فعالیت

زده کوونکي دې په ډلو ووېشل شي. هره ډله دې د لوست مهمو موضوعگانو په هکله بحث او خبرې وکړي او د ډلې استازي دې هغه په ټولگي کې ټولگيوالوته وړاندې کړي.

### پوښتنې

- ۱- د الپ او د پیرني د غرونو لړۍ د اروپا د لویې وچې په کومه برخه کې پرتې دي؟
- ۲- د اوبو د برېښنا لویې دستگاوي او بندونه د اروپا د کومو غرونو په لړيو کې جوړې شوي دي؟
- ۳- اروپا ولې بیابانونه او دښتې نه لري.



### له ټولگي بهر فعالیت

د اروپا سپینه (بی لیکنې) نقشه وگورئ، او په هغې کې د دوو غرونو لړۍ، یو سمندر او د یوې آبناء نوم، چې د پوښتنې په نښې سره په گوته شوي، ولیکئ.



# داروپا سياسي جغرافيه



د اورپا د لويې وچې د هېوادونو سياسي نقشه

اروپا د پخواني نړۍ له دريو لويو وچو څخه ده، چې د شمالي نيمې کرې د شمالي عرض البلد د ۳۵ او ۸۰ درجو او د ختيځ طول البلد د ۶۰ درجو او د لوېديځ طول البلد د ۲۵ درجو ترمنځ موقعيت لري. ختيځه ليرې نقطه يې د اورال غرونه او د اورال سيند، لوېديځه ليرې نقطه يې د ايسلېنډ لوېديځه برخه، شمالي ليرې نقطه يې د ناروې هېواد شمالي برخه او سوېلي ليرې نقطه يې د کريت ټاپو دی. اوږدوالی يې له شمال څخه تر جنوب پورې ۶۴۰۰ کيلومتره او سور يې له ختيځه تر لوېديځه پورې ۴۸۰۰ کيلومتره دی.

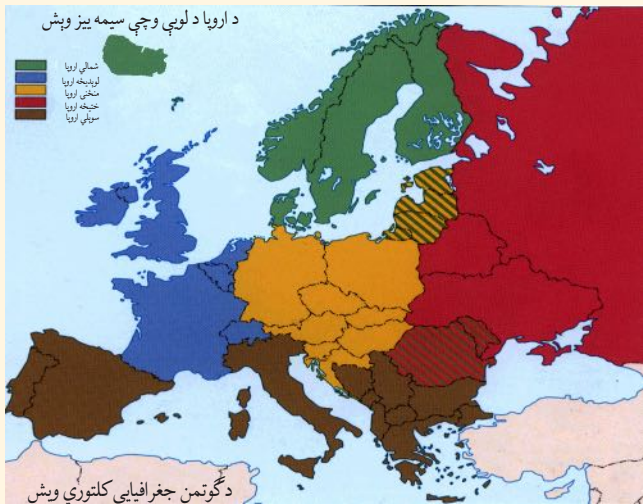
### پولي (سرحدونه):

اروپا له درېيو خواوو څخه د نړۍ د اوبو په واسطه را چاپيره شوې او د اسيا د لويې وچې په پرته کوچنۍ ټاپو وزمه ده، چې د شمال لخوا په شمالي کنګل سمندر، د جنوب لخوا د مديترانې په سمندرګي، تورسمندرګي، د قفقاز غرونو، کسپين سمندرګي او د ختيځ لخوا د اسيا په لويې وچې پورې، چې د اورال سيند او اورال غر دا دواړه وچې سره بېلوي، نښتي ده. د اروپا د لويې وچې د سياسي واحدونو شمېر ۴۷ هېوادونو ته رسېږي. له هغو څخه ۹ هېوادونه يې په وچه کې پراته دي او اوبوته لار نه لري.

لکه د سویس، لوکزمبورک، سلوینیا، سربستان، مقدونیه، اتریش، هنگري، سلواک او چک هېوادونه. همدارنگه په دې لویه وچه کې د خاورې د پراخوالي له پلوه ۹ کوچني هېوادونه، لکه: لوکزمبورک، مالټا، لختن شټين، اندورا، مونتینګرو، سلوینیا، سان مرینو، موناکو او واتیکان دي .

د اروپا سياسي واحدونه کولای شو په لاندې ډول وویشو:

- د شمالي اروپا هېوادونه، لکه: سویډن، ناروي، فینلنډ، ایسلینډ او ډنمارک.
- د سوېلي اروپا هېوادونه، لکه: ایټالیا، یونان، اسپانیه، پرتګال او نور.
- د ختیځې اروپا هېوادونه، لکه: روسیه، سپینه روسیه، اوکراین او نور.
- د لوېدیځې اروپا هېوادونه، لکه: المان، فرانسه، انگلستان، هالنډ، بلجیم او نور.
- د منځنۍ اروپا هېوادونه، لکه: اتریش، چک، پولینډ، او نور.



د اروپا د لویې وچې سیمه ییز ویش

- شمالي اروپا
- لويديځه اروپا
- منځني اروپا
- ختيځه اروپا
- سويلي اروپا

د ګوټمن جغرافيايي کلتوري ویش

د اروپا د لویې وچې په دې برخه کې د هېوادونو ترمنځ ګمرکي پولې نشته او سياسي اړیکې د یوه تړون له لارې، چې د اروپا اتحادیه یې بولې، سرته رسېږي.

### په ټولګي کې فعالیت

زده کوونکي دې په ډلو ووېشل شي، هره ډله دې د لوست په مهمو ټکو بحث وکړي او د بحث پایلې دې ټولګي والوته وړاندې کړي.

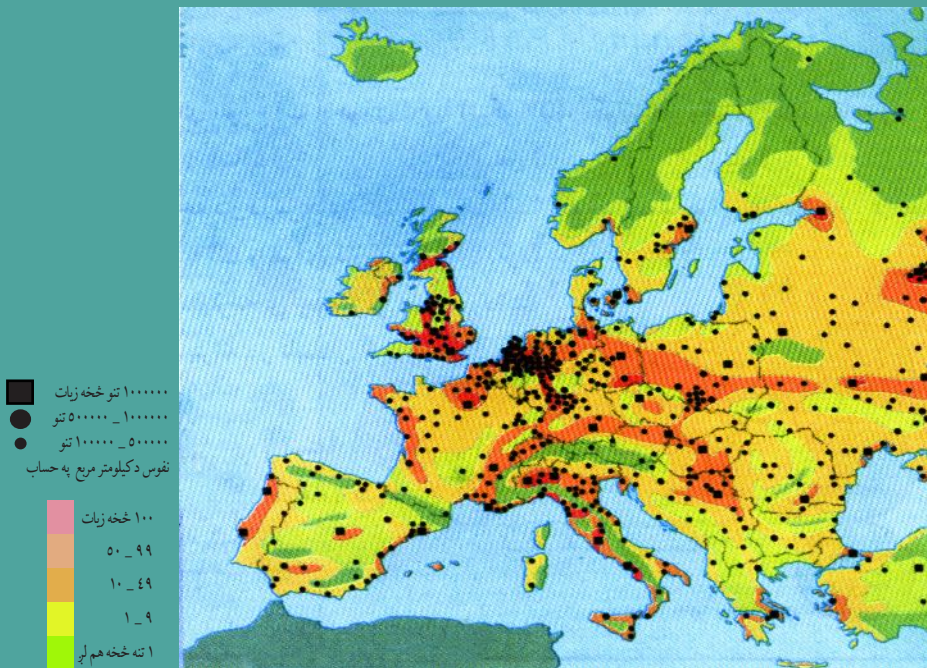
#### پوښتنې

د لوست د متن څخه په ګټې اخیستنې سره لاندې پوښتنې بشپړې کړئ.

- ۱- اروپا د نړۍ یوه له ..... پخوانیو ..... څخه ده؟
- ۲- اروپا د شمالي عرض البلد د ..... او ..... درجو ترمنځ پرته ده؟
- ۳- د اروپا ختیځه لیرې نقطه .....، لويديځه لیرې نقطه یې .....، شمالي لیرې نقطه یې ..... او سوېلي لیرې نقطه یې ..... ده.

### له ټولګي بهر فعالیت

د اروپا سياسي نقشه رسمه کړئ او په هغې کې د هېوادونو او د هغو د پلازمینو نومونه ولیکئ.



په اروپا کې د نفوسو د وېش نقشه

د اروپا په لويه وچه کې د طبيعي ښو شرايطو، يعني پراخو څړ ځايونو، د اوبو ډکو سيندونو، معتدل اقليم او پوره اورښت د شتوالي له امله د صنعت او پوهې پراختيا، د اقتصادي فعاليتونو او کارونو امکانات ښه برابر شوي دي، نو په همدې دليل د اروپا په ډېرو برخو کې زيات وگړي ميشت شوي دي خويابهم د اميسته کېدل د اروپا د لويې وچې په ټولو برخو کې يو ډول نه دي.

د اروپا په شمالي سيمو لکه روسيه کې د هوا د سوړوالي له امله لږ وگړي ژوند کوي. په داسې حال کې چې د مديترانې په سمندرگي او همدارنگه منځنۍ او لوېديځه اروپا کې ډېر خلک ژوند کوي.

د اروپا ډېر خلک په کومو سيمو کې ميشته شوي دي؟ او ولې؟

۱- د اروپا له وگړو ډکې برخې د مهمو سيندونو پرغاړو، د صنعتي مرکزونو په شاوخوا او کرنيزو ښو ځمکو کې ليدل کېږي.

۲- سره له دې چې د اروپا لويه وچه د نړۍ له ډيرو نفوسو لرونکو لويو وچو څخه ده، خو د نفوسو وده يې لږه ده، ځکه چې ډيرې کورنۍ، په ځانگړي ډول په صنعتي هېوادونو کې د زياتو اولادونو د

درلودلو سره مینه نه لري، نو ځکه په اروپایي ځینو هېوادونو، لکه: المان او ایټالیا کې د نفوسو وده په ډیرې چټکۍ سره مخ په لږېدو ده.

### د خلکو ډلې

د اروپا د خلکو ډېره ستره ډله روسان دي، چې د اروپا د خلکو لویه ټولنه جوړوي. له روسانو څخه وروسته په اروپا کې د خلکو بله لویه او مهمه ډله جرمنیان دي، چې ډېر په منځنۍ اروپا (آلمان، اتریش او سویس) کې استوګنه لري او وروسته بیا په ترتیب سره لاتین، فرانسوي او انګلوساکسون ډلې دي چې هره یوه یې د اروپا د خلکو ډېره برخه جوړوي.

### د ټولګي دننه فعالیت

زده کوونکي دی د ښوونکي تر لارښوونې لاندې په ډلو ووېشل شي او هره ډله دې د نفوسو د ویش او د خلکو د ډلو په هکله بحث او خبرې وکړي او پایله دې د ډلې استازي، ټولګیوالو ته وړاندې کړي.

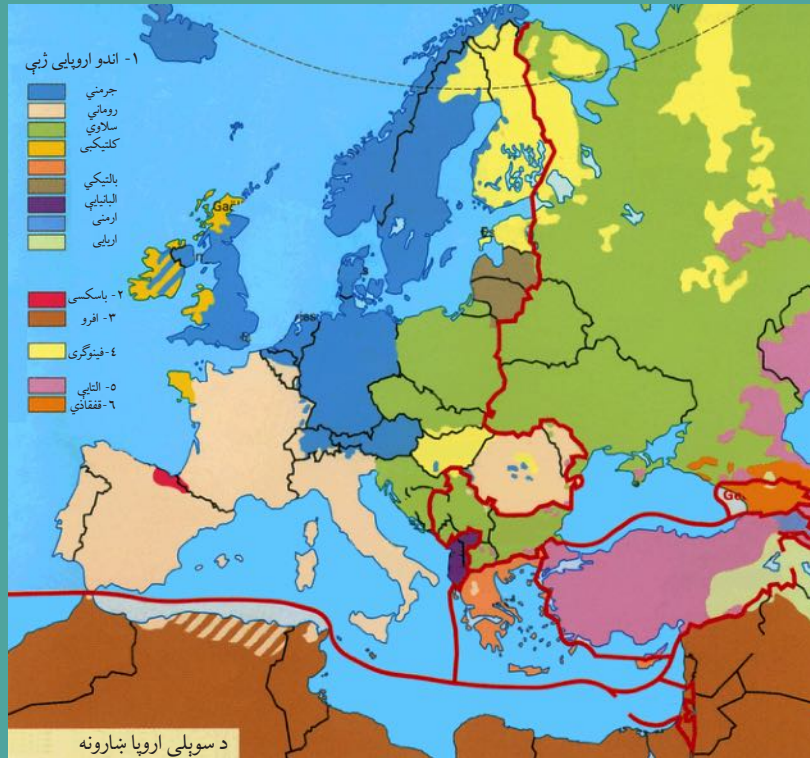
### پوښتنې

- د سم ځواب په مخ کې د (ص) توری او د ناسم ځواب په مخ کې د (غ) توری ولیکئ.
- ۱- د اروپا د وګړو زیاته برخه د سیندونو په غاړو، صنعتي مرکزونو او کرنیزو برخو کې استوګنه کوي. ( )
  - ۲- د اروپا په ټولو برخو کې د خلکو استوګنه، د طبیعي ښو شرایطو، له اوبو څخه د ډکو سیندونو، معتدل اقلیم د صنعت او علم د پراختیا له امله یو شانته ده. ( )
  - ۳- د اروپا د لویې وچې د خلکو مهمه او لویه ډله روسان دي. ( )

### له ټولګي بهر فعالیت

د اروپا د لویې وچې له لیکنې پرته نقشه رسم کړئ او په هغې کې د وګړو ویش او ګڼوالی په ځانګړي رنگ سره وښیئ.





آيا پوهېږئ چې د اروپا خلك له كوم نژاد څخه دي؟

د اروپا د لويې وچې د وگړو ډېره برخه سپين پوستکي جوړوي. سپين نژاد په دې لاندې دريولويو ډلو وپشل کېږي:

۱- سوېلي قومونه

سوېلي قومونه له يوناني يا لاتيني څخه عبارت دي، چې د څيرې رنگ يې غنم رنگه دی. دا قومونه د ايټاليا په جنوب لويديځ کې د بالکان په ټاپو وزمې، هسپانيې، پرتگال او بلجيم هېوادونو کې استوگن دي.

۲- جرمني قومونه

دا قومونه ډېر په منځني او شمال لويديځه اروپا کې استوگن دي او په انگلستان کې انگلوساکسون په بلجيم کې فلانډ او سپري. هالنډيان، المانيان، سويډنيان، نارويژيان، ډنمارکيان او د سويسيانو يوه برخه هم له دې جملې څخه گڼل کېږي.

۳- ختيځ قومونه يا سلاويان

دا قومونه ډېر سپين رنگ او طلايي وېښتان لري او ډېر په ختيځه اروپا کې استوگنه کوي چې د پولينډيانو، چکيانو، سلواکيانو، سربيانو او کرواتيانو (پخواني يوگوسلاويا) څخه عبارت دی، چې ډېر

يې د ختيځې اروپا اوسېدونکي دي. دا خلک د هنگري خاورې له شمال څخه جنوب ته تېر شوي او منځني اروپا ته يې لاره موندلې ده. پر پورتنیو درې گونو قومونو سربېره چې ورځني يادونه وشوه، کوچني پخواني قومونه هم شته، چې له هغو څخه ايرينان د اروپا په غربي سيمو، سلتيان په ايرلينډ، سکاټلنډ او په بریتانيا کې او د يهوديانو ډلې په روسيې او پولينډ کې دي.

### ژبې

د اروپا د خلکو د ژبو اصلي څانگه کومه ژبه تشکيلوي؟

په اروپا کې په بېلابېلو ژبو خبرې کېږي او د دغو ژبو ډولونه دومره ډېر دي، چې د يو ځانگړي نژاد يا ډلې د خلکو هره برخه هم په يوه ځانگړې ژبه خبرې کوي. د اروپا د خلکو ژبې د ژبني ريښې له پلوه په عمومي توگه په درېيو برخو وېشل کېږي: ځينې لکه: الماني او انگليسي جرمني ريښه او ځينې نورې لکه روسي او پولنډي سلاوي ريښه لري.

د اروپايي ټولني زيات وگړي، چې په يوه ځانگړې ژبه خبرې کوي هغه روسان دي. البته ځينې مذهبي لږه کي (اقلیتونه) لکه مسلمانان او يهوديان او ځينې نژادي لږه کي هم د هغو هېوادونو، چې په کې اوسېږي په مروجو او دوديزو ژبو خبرې کوي.

### په ټولگي کې فعاليت

زده کوونکي دې په ډلو ووېشل شي او هره ډله دې په لاندې مطلبونو بحث او خبرې وکړي.

الف - نژاد په اروپا کې ب - ژبې په اروپا کې

### پوښتنې

سم ځواب غوره کړئ.

۱ - اروپايان له کوم نژاد څخه دي؟

الف، تورپوستکي ب، ژېر پوستکي ج، سپين پوستکي د، سره پوستکي

۲ - د سوبلي اروپا د خلکو نژادي ځانگړتياوې کومې دي؟

الف، سپين رنگي ب، طلايي ويښتان ج، غنم رنگه د، گرگوتي ويښتان

لنډ ځواب ورکړئ:

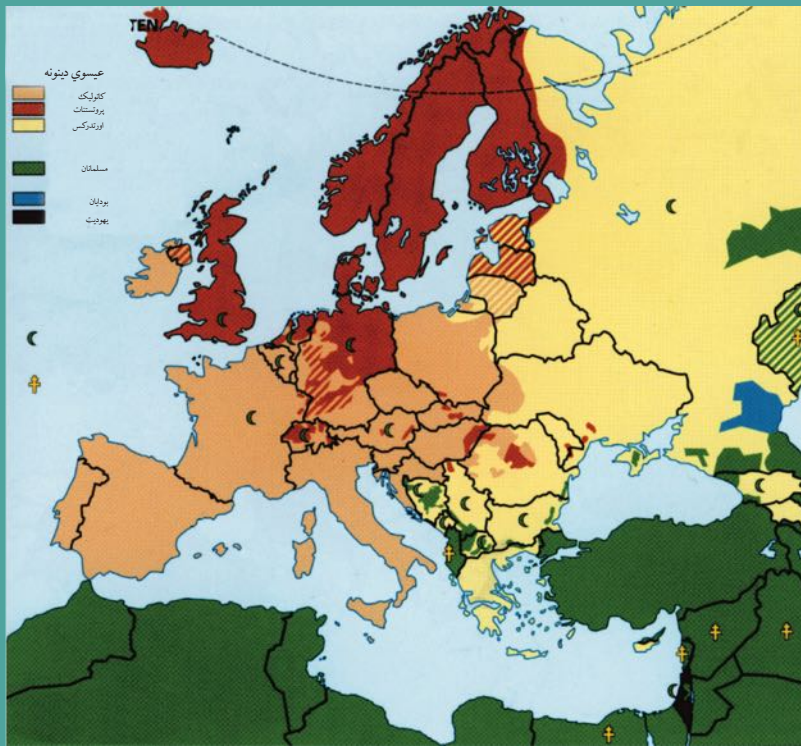
۱ - سلاويان ډېر په کومو اروپايي هېوادونو کې استوگنه کوي.

۲ - د اروپايي خلکو د ژبو د مهمو څانگو نومونه واخلي.

### له ټولگي بهر فعاليت

لاندې جدول د ورکړ شوي متن څخه په گټې اخيستنې او اړوندو استوگنو قومونو ته په پاملرنې په خپلو کتابچو کې د هېوادونو په نومونو بشپړ کړئ.

سوبلي قومونه	جرمني قومونه	ختيځ قومونه



په اروپا کې د بېلابېلو دینونو نقشه

د اروپا زیاتره خلک (د اروپایي ترکیبې، د روسیې د یو شمیر وګړو او د بالکان د ټاپوزمې د هېوادونو په ځانګړې ډول له پخوانۍ یوګوسلاوی څخه پرته د عیسوي دین پیروان دي. چې حضرت عیسی (ع) خپل پیغمبر ګڼي، د دوی په ګمان عیسوي دین په دريو لویو مذهبونو وېشل شوی دی، چې هغه دادی:

### ۱- کاتولیک (Catholic)

د عیسویت د دین د لارویانو ډېره برخه کاتولیکان جوړوي. د دې مذهب لارښوود او مشر یې لوی پاپ دی. دا مذهب په لومړۍ درجه ډېر د اروپا په لوېدیځ او جنوب یعنی د بلجیم، فرانسې، اسپانې، پرتګال او په ځانګړې ډول د ایټالېي د لائینو قومونو او همدارنګه په دویمه درجه د اتریش، لهستان (پولینډ) مجارستان، چک او سلواک د خلکو په منځ کې رواج لري. د نړۍ د کاتولیکانو د لارښوود استوګنځی د ایټالیا د هېواد په پلازمینه د دروم په ښار کې دی، چې واتیکان نومېږي.

### ۲- پروتیسټانت (Protestant):

د پروتیسټانت مذهب د کاتولیک له مذهب څخه وروسته ډیر اهمیت لري. پروتیسټانت د حضرت عیسی (ع) څخه د زدکړو د پیروۍ له پلوه د دوی په نظر د کاتولیکانو سره اختلاف لري. هغوی د مارتین لوتر

په نامه د يوه الماني پخواني روحاني مشر د لارښوونو پيروي کوي. په اروپا کې د جرمني قومونو د پروتستانت د مذهب گڼ شمير لارويان جوړوي. دا مذهب په سويډن، ناروې، ډنمارک، انگلستان، هالنډ، آلمان او اتریش په هېوادونو او د سويس د هېواد په يوه برخه کې ډېر رواج لري.



د بالکان په ټاپو وزمه کې يو جومات

### ۳- د ارتودوکس مذهب (Orthodox):

د اروپا د لويې وچې دريم مهم مذهب دی چې ډېر په ختيځې او جنوب ختيځې اروپا کې رواج لري. د روسيې، رومانيې، يونان او بلغارېې د هېوادونو او په عمومي توگه د سلاو د نژاد ډېری وگړي د هغه لارويان دي. (د يادونې وړ ده چې د الله تعالی په نزد يوازينی دين د اسلام سپڅلی دين دی او بس).

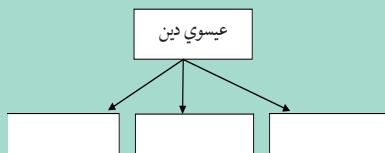
پر عيسوي دين سربيره مسلمانان هم په ټوله اروپا کې تيت او خپاره شوي دي چې ډير شمير يې د بالکان په ټاپو وزمې البانيا، بوسينيا او هرزگووينا، بلغارېې او اروپايي ترکيې کې استوگنه لري. په دی هېوادونو کې لرغوني او له برم څخه ډک جوماتونه شته دي. همدارنگه د اروپا په بېلابېلو هېوادونو، په ځانگړی ډول روسيې او پولینډ کې يو شمير يهوديان هم ژوند کوي.



په واتیکان کې د سن پتر شاهي ماني پاکیسا

### د ټولگي دننه فعالیت

زده کوونکي دې د ښوونکي په لارښوونه په ډلو ووېشل شي او هره ډله دې د اروپا د دينونو په نقشه کې د بېلابېلو دينونو او مذهبونو ساحې معلومې او په نښه کړي.



### پوښني

- ۱- د عيسوي دين څانگې وليکئ.
- ۲- د کاتولیک مذهب ډېر د اروپا په کومو برخو کې رواج لري؟
- ۳- پروتستانت د کوم سړي لارويان دي او هغه د کوم ځای و؟
- ۴- د اروپا د کومې برخې خلک د ارتودوکس پر مذهب عقیده لري؟
- ۵- مسلمانان ډېر د اروپا په کومو برخو کې استوگنه لري؟

### له ټولگي بهر فعالیت

زده کوونکي دې د اروپا له ليکنې پرته نقشه کاپي او يا انځور کړي، د مذهبونو مروجو ځايونه دې په نښه کړي او د جغرافيه په راتلونکي لوست کې دې يې ټولگيو الو ته وړاندې کړي.



# د اروپا اقتصادي جغرافيه



## ولې د اروپا اقتصاد پرمختللی دی؟ د اروپا اقتصادي نقشه

اروپا له صنعتي لویو سیمو څخه ده او ډېر پرمختللی اقتصاد لري. دا لویه وچه تر څمکې لاندې زېرمې، لکه د ډبرو سکاره او نفت (د شمال په سمندرګي) کې لري. خو دا زېرمې نشي کولای د دې لویې وچې د لویو صنایعو اړتیاوې پوره کړي، نو ځکه د خپلوصنایعو د کار د دوام لپاره د نړۍ د نورو هېوادونو کاني لومړنیو موادو ته اړتیا لري او ددې توکو واردوونکې ده. نن ورځ اروپا له نوې پوهنې او تخنیک څخه په ګټې اخستنې سره توانېدلې ده چې لویه صنعتي سیمه واوسي. د آلمان، انګلستان او فرانسې صنعتي توکي ټولې نړۍ ته صادرېږي.

### کرنه او مالداري

د اروپا لویې وچې د معتدله اقلیم او پوره اورښت د لرلو له امله د کرنې او مالدارۍ د ودې لپاره ښې لارې چارې برابرې کړي دي. کرنه څه ناڅه په ټوله اروپا کې رواج لري او د عصري ماشین الاتو او علمي لاروچارو په کارولو ترسره کېږي. سره له دې هم ددغې لویې وچې هېوادونه خپل د اړتیا وړ د خوراکي توکو  $\frac{1}{5}$  برخه برابرې، خو هالنډ د خپلو کورنیو اړتیاوو له پوره کولو سره سره یوه اندازه خواړه بهر ته هم استوي. په دغه هېواد کې کرنه او مالداري په علمي توګه ترسره کېږي. د لبنیاتو او د

غوښو د محصولاتو تولید په کې هم زیات دی او ددغو محصولاتو زیاته برخه بهر ته لېږي.

په اروپا کې غوره کرنیزې برخې دادي:

- ۱- د مدیترانې د سمندرګې شاوخوا سیمې ۲- د لوېدیځې اروپا برخې ۳- د ختیځې اروپا برخې
- د اروپا په جنوب کې مدیترانه یې اقلیم د دې سبب شوی چې په دغه سیمه کې غلو او دانو، لکه غنمو، جوارو، اوریشو، وریجو او صنعتي نباتاتو، همدارنګه مېوو، لکه بادامو، لیموو، زیتونو او انارو کرلو ته زمینه برابره شي او په څر ځایونو کې یې د حیواناتو لکه وزو او پسونو روزنه ترسره کېږي.
- لوېدیځه اروپا طبعي حاصل خېزه ځمکې لري، چې د کرنې ترڅنګ په کې د حیواناتو روزنې هم ښه پرمختیا کړېده. غوره کرنیزه محصولات یې، غنم، اوریشې، جوار، چغندر او کچالو دي. د بلجیم، هالنډ، جرمني او ډنمارک هېوادونو حیواني فارمونه زیاته اندازه لښت، لکه شیدې، کوچ او پنیر تولیدوي او له غوره صادراتي توکو څخه یې ګڼل کېږي. ختیځه اروپا هم طبعي حاصل خېزې ځمکې لري، او ډېر غوره محصولات یې غنم، اوریشې، جوار او کتان دي. د دغو ځمکو زیاته برخه په روسیه کې پرته ده او د غرونو لمنو د حیواناتو د روزنې لپاره ښې لارې چارې برابري کړي دي.
- اوبه هم د اروپایانو لپاره د خوراکي توکو د تولید یوه سرچینه ګڼل کېږي او د کبانو د ښکار صنعت پکې ښه پرمختګ کړی دی. د کبانو نیول د اروپایانو مهمه بوختیا ده. ناروې او آیسلینډ هغه هېوادونه دي چې د هغو اقتصاد د کبانو پر صنعت ولاړ دی او په دې برخه کې په نړۍ کې لومړی مقام لري.

### په ټولګي کې فعالیت

زده کوونکي دې په درېیو ډلو ووېشل شي. د لاندې موضوعاتو په هکله دې بحث وکړي او پایلې دې ټولګیوالوته وړاندې کړي:

- الف - د مدیترانې د شاوخوا کرنیزې سیمې
- ب - د لوېدیځې اروپا کرنیزې سیمې
- ج - د اروپا ختیځې کرنیزې سیمې

### پوښتنې

- ۱- د درېیو اروپایي هېوادونو نومونه واخلي چې د صنعتي توکو صادرونکي دي.
- ۲- د اروپا کرنه ولې پرمختللي ده؟
- ۳- د اروپا د کرنیزو برخو نومونه واخلي؟
- ۴- کوم اروپایي هېوادونه په نړۍ کې د کب نیولو په صنعت کې لومړی مقام لري؟
- ۵- اروپایان د خپلو صنایعو د دوام لپاره کومو منابعو ته اړتیا لري.

### له ټولګي بهر فعالیت

زده کوونکي دې د یوه اروپایي صنعتي هېواد په هکله، چې پرمختللی اقتصاد لري، یو مطلب برابر او د جغرافې په راتلونکي درسي ساعت کې دې ټولګیوالوته وړاندې کړي.



په شمال سمندرگي کې د نفتو رايستې عملیه

## ولې اروپا د صنعتي اومو توکو واردوونکې ده؟

### الف- کانونه

د اروپا تر څمکې لاندې زېرمې دومره شتمني نه وي او دا حالت د اروپايي هېوادونو له خوا د درېيمې نړۍ د هېوادونو د استعمار او بنکيلاک يو عامل و. اروپايي هېوادونو پخوا د خپلو اړتياوو د لرې کولو لپاره د نورو لويو وچو مستعمره کولو ته مخه کوله او همدارنگه د اروپا د لويې وچې پرمختيا د نورو هېوادونو، له هغې ډلې د آسيايي او افريقايي هېوادونو د زيرمو د لوټولو څخه پرته ناشونې وه. نفت د اروپا په ځينو برخو کې شته دي، خو د شمال سمندرگي د نفتي زيرمو له کشف وړاندې يې اندازه ډيره لږه وه، چې د صنايعو په پراختيا او په ځانگړې ډول د نقلیه وسيلو څخه په ډيرې گټې اخيستني سره نشي کولای د دغو هېوادونو اړتياوې پوره کړي. د لوېديځې اروپا د هېوادونو ډيره پاملرنه د شمال سمندرگي د نفت او گاز زېرمو ته ده. چې اوس د انگلستان او د سيمې د ځينو نورو هېوادونو اړتياوې تر يوه حده پوره کوي. اروپا د اوسپنې او ډبرو سکرو د کانونو له پلوه شتمنه ده او د انگلستان، روسيې، فرانسې، بلجيم، آلمان او پولنډ هېوادونه د نوموړو کانونو غوره توليدونکي دي. اوسپنه د سويډن له شمالي برخې څخه د بېريو په وسيله د اروپا صنعتي سيموته وړل کېږي.

### ب- صنايع

۱- لاسي صنايع: له صنعتي انقلاب وړاندې د اروپا صنايع، لاسي او کارگاهي وې چې کولای

شو په ایټالیا کې د بنیښې جوړولو، په اسپانیا کې د چاقوگانو او تورو جوړولو، په سویس کې د ساعت جوړولو، په هالنډ کې د چینی لوښو جوړولو او په ایرلنډ کې د کتانی ټوکرانو د اوبدلو یادونه وکړو.

## ۲- ماشینی صنایع

اروپا د ډبرو سکرو د زېرمو او د ښه حمل او نقل په درلودلو سره په نړۍ کې لویه صنعتی سیمه ده. د اروپا درنې صنایع او لویې صنعتی کارخانې د کانونو ترڅنګ جوړې شوي دي. همدارنګه د اروپا صنعتی لوی ښارونه او بندرونه هم د سمندرونو او سیندونو په غاړو منځته راغلي دي، ځکه د بندرونو له لارې د اومو موادو او تولیدي توکو وړل او راوړل ډېر ارزانه سرته رسېږي. د اروپا له مهمو بندرونو څخه یو هم د امستردام د بېرېو چلولو د کانال په غاړه د شمال سمندرګي په ساحل کې د روتردام په نوم بندر دی. او د اروپا بل صنعتی لوی بندر په ایټالیا کې د جینوا بندر دی.

د اروپا مهمې صنایع د فلزاتو ویلي کول، الکترونیکي سامان آلات، د ماشینی وسایلو تولید، بېرې جوړول، موټر جوړول او داسې نورې دي.

## ج- توریزم

د اروپا په اقتصاد کې د توریزم صنعت هم د ارزښت وړدی. په اروپا کې توریزم د ډبرو تاریخي او کلتوري مرکزونو، لکه موزیمونو، کلیساوو، پوهنتونونو او د اروپایي هېوادونو د طبیعي ښویمو د شته والي له امله له یو هیواد څخه بل هیواد ته د سفرونو اسانتیاوو، په اروپا کې سیاحت او ګرځندوی ته وده ورکړېده.

د اروپا سوېلي غاړې د مدیترانې د سمندرګي ترڅنګ چې د لمریزې اروپا په نوم شهرت لري، د اروپا د نورو سیمو وګړي ځان ته رابولي. د الپ غرونه د غروختونکو او د ژمنیو لوبو لپاره له لیرې او نږدې هېوادونو څخه ډېر مینه وال لري. د اوبو سپورتونه، په ځینو اروپایي هېوادونو کې جشنونه او مراسم، قصرونه، تاریخي او د معمارۍ هنري اثار د اروپا د توریزم نورې ساحې ګڼل کېږي.

## په ټولګي کې فعالیت

زده کوونکي دې په درېیو ډلو ووېشل شي او هره ډله دې په لاندې مطلبونو بحث او خبرې اترې وکړي، او د بحث پایله دې ټولګیوالوته ووايي.

الف: د اروپا کانونه      ب: د اروپا صنایع      ج: د اروپا توریزم

## پوښتنې

- ۱- د اروپا د سپکویا لاسي صنایعو تولیدات کوم دي، نومونه یې ووايي؟
- ۲- د اروپا صنعتی مرکزونه زیاتره چیرې جوړ شوي دي، او ولې؟
- ۳- د اروپا درنې صنایع کومې دي؟ لست یې ولیکئ.

## له ټولګي بهر فعالیت

د اروپا بې لیکنې نقشه رسم یا کاپي کړئ او د اروپا د مهمو صنعتی هېوادونو نومونه په ټاکلو ځایونو کې ولیکئ، او د جغرافیې په راتلونکي لوست کې یې ټولګیوالوته وړاندې کړئ.





د اروپا د چټکو کرښو شبکه


پخوا خلکو د مسافرنو او مالونو د وړلو او راوړلو لپاره د ترانسپورت له کوم ډول څخه گټه اخیستله؟

### ترانسپورت Transports

له یوځای څخه بل ځای ته د سوداګرۍ د مالونو او انسانانو له وړلو او راوړلو څخه عبارت دی، چې دا عمل د ریل، موټر، بېړۍ، الوتکې او پایپ لاین په وسیله ترسره کېږي. وړل او راوړل (حمل او نقل) په بېلابېلو لارو چارو سرته رسېږي چې په لنډ ډول یې مطالعه کوو.

### الف- سړک یا لویه لار

په اروپا کې د ښو سړکونو او لویولارو جوړول په لومړۍ پړاو کې د نظامي او سوداګریزو اړتیاوو د پوره کولو لپاره منځته راغلل. د روم امپراتوري خپلو لښکرو ته د چټک حرکت او لېږدونې لپاره د سړکونو لومړني جوړوونکي وه.



ناپليون او هېټلر هم د همدغې موخې لپاره سرکونه جوړ کړل. په ورستيو کلونو کې د زياتو موټرونو توليد هم د سرکونو د جوړولو سبب شو. اوس کولای شو د هالنډ په شمال کې له امستردام څخه د ايتاليې تر جنوب پورې د لويو نېلوانکو سرکونو له لارې لار شو. له غرنيو سيمو څخه د تېرېدو لپاره تونلونو جوړ شوي، چې ډېر مهم تونل يې د مونت بلان (Month Blaine Tunnels) په نوم دی، چې ۱۲ کيلومتره اوږد والی لري او فرانسه او ايتاليه سره نېلوي. له دويمې نړيوالې جگړې څخه وروسته د گړنديو موټرو شمير مخ په زياتيدو دی لکه، د بيلگې په توگه په سوېډن کې د هرو څلورو تنو لپاره يو موټر شته دی، خو د ختيځې اروپا په هېوادونو کې د گړنديو موټرو شمير ډېر لږ دی. د ډنمارک او هالنډ په هېوادونو کې د بايسکلونو لپاره هم ځانگړې لارې جوړې شوې دي.

### ب- د اوسپنې لارې

د اوسپنو د لارو (د ريل کرښې) جوړونه له اروپا څخه پيل شوې ده. په ۱۸۰۴ م کال کې لومړنی د براس لوکوموتيف د انگلستان په ويز کې د مالونو او مسافرو د وړلو لپاره پکار واچول شو. لومړنی د اوسپنو لاره په ۱۸۲۵ م کال کې د ستوکتن (Stockton) او درلينگتون (Darlington) د ښارونو ترمنځ د عمومي وړلو او راوړلو لپاره جوړه شوه او بيا ورو ورو د اوسپنې کرښې په اروپا کې پراختيا وموندله. اوس دا لويه وچه د نړۍ له گڼه گونې څخه ډکې لارې لري. د اروپا د چټکو ريلونو کرښې د ډېرو چټکو او هوسا رېلونو څخه گټه اخلي. دا کرښې د اروپا لوی ښارونه سره نېلوي. نن ورځ د اوسپنو لارو د اروپا د مسافرينو او مالونو په وړلو او راوړلو کې مهم رول لوبوي.

### په ټولگي کې فعاليت

زده کوونکي دې په ډلو کې تنظيم شي او هره ډله دې د لويې لارې يا سرک او د ريل کرښو په هکله له يوبل سره سلامشوره وکړي او پايلې دې د ډلې د استازي په وسيله خپلو ټولگيوالوته وړاندې کړي.

### پوښتنې

- ۱- ټرانسپورټ تعريف کړئ؟
- ۲- ولې روميانو د سرکونو پراختيا ته ځانگړې پاملرنه درلوده؟
- ۳- لومړی ځل رېل چېرې او د کومې موخې لپاره په کار واچول شو؟
- ۴- د اوسپنو لومړنۍ کرښې د اروپا کوم ښارونه سره نېلولي وو؟
- ۵- د اوسپنو له کرښو څخه ډېر د کومو موخو لپاره گټه اخيستل کېږي؟

### له ټولگي بهر فعاليت

د اروپا د لويې وچې په اقتصادي پرمختگ کې د اوسپنو د کرښو د رول په هکله مطلب وليکئ او خپلو ټولگيوالوته يې وړاندې کړئ.

## هوايي کربني:



د اروپا هوايي ډگر


### آيا پوهېږئ چې د انرژۍ د مصرف له پلوه په نړۍ کې د ډير لگښت لرونکي ترانسپورتي وسيله کومه ده؟

په ۱۸ ز. پېړۍ کې په فرانسه کې هوا ته د لومړني بالون په الوتلو سره د هوايي چلن تاريخ پيل شو په ۱۹۱۹ ز. کال کې د سوداگرۍ لومړنۍ هوايي کربنه په هالنډ کې منځته راغله. هوايي کربنې د اروپا لوی ښارونه او بهرني هېوادونه سره نښلوي او د مسافرو او د هغوی د سوداگرۍ مالونو د وړلو راوړلو لپاره چې درانه نه وي او ارزښت يې زيات وي، گټه اخيستل کېږي.

#### د اوبو لارې:

آيا پوهېږئ چې په نړۍ کې ډېره ارزانه ترانسپورتي لار کومه ده؟ له لرغونو زمانو څخه د اوبو لارې د مالونو او مسافرانو په وړلو او راوړلو کې ارزښت لري. د اروپا د دانيوب او راین سیندونو د تاريخ په اوږدو کې په وړلو او راوړلو کې غوره رول لوبولی دی. د راین له سیند څخه روميانو گټه اخيستله او د سیند خوله (مصب) به يې کنټرولوله. د راین او دانيوب له سیندونو څخه په نړيواله توگه گټه اخيستل کېږي. د دانيوب سیند ډېر اوږد او ډېر هېوادونه سره نښلوي. د اروپا يي هېوادونو د کرنيزو سيمو څخه تېرېږي او په توره بحيره کې توېږي. د راین سیند د اروپا په صنعتي سيمو کې ډېر ارزښت لري. د هالنډ د روتردام لوی بندر د نړۍ له بل هر سیندي او سمندري بندر څخه زيات مالونه لېږدوي.





د آلمان د برمن په بندر کې د مالونو وړلو او راوړلو فعالیت

د اروپا ډېر سیندونه، لکه د آلمان الب او اودر او د فرانسې د سن او لواری سیندونو په څیر د کانالونو په وسیله سره نښلول شوي دي. دا سیندونه په اروپا کې د اوسپنې لارې له پراختیا د مخه نښلول شوي دي. په انګلستان کې هم کانالونه شته چې اوس خپل پخوانی ارزښت نلري. اوس کولای شو د همدغو کانالونو اوسیندونو په وسیله د شمال سمندرګي څخه د مدیترانې د سمندرګي په غاړه د مارسي بندر ته سفر وکړو. د اروپا سواحل

چې ځینې د بېړیو چلولو لپاره برابر دي، د لویو سوداګریزو بندرونو د منځته راتګ سبب شوي او ډېره ارزانه ترانسپورتي لاره ګڼل کېږي. د اروپا څه ناڅه ټول ښارونه له مادرید څخه پرته نور ټول د سیندونو، سمندرګیو او د اتلانتیک د سمندر په غاړو جوړ شوي دي. همدارنګه د پایپ لین له حمل او نقل څخه د نفتو، گازو او اوبو د وړلو لپاره په پراخه اندازه ګټه اخیستل کېږي.

### په ټولګي کې فعالیت

زده کوونکي دې په ډلو کې ووېشل شي او هره ډله دې دلاندې پوښتنو په هکله بحث وکړي او دهغو پایلې دې د ډلې استازی، ټولګي والوته وړاندې کړي.

- الف - له هوايي ترانسپورټ څخه زیاتره د کومو موخو لپاره ګټه اخیستل کېږي او ولې؟
- ب - د اوبو ترانسپورټ په کوم دلیل د نړۍ ډیره ارزانه ترانسپورتي لاره ده؟
- ج - د پایپ لین څخه زیاتره د کومو اهدافو لپاره ګټه اخیستل کېږي؟

### پوښتنې

- ۱- د نړۍ د سوداګرۍ لومړنۍ هوايي کرښې په کوم هېواد کې په فعالیت پیل کړې و؟
- ۲- له هوايي کرښو څخه ډېر د کومو شیانو د وړلو لپاره ګټه اخیستل کېږي؟
- ۳- ډیر لرغونی ترانسپورټ کوم یو دی؟
- ۴- د اروپا د بېړۍ چلولو ډېر اوږد سیند کوم یو دی؟
- ۵- د اروپا د سوداګرۍ ډیر لوی سیند او سمندري بندر کوم دی؟

### له ټولګي بهر فعالیت

د اروپا د اوبو د لارو د پراخوالي د لاملونو تر سرلیک لاندې یو مطلب ولیکئ او ټولګیوالوته یې وړاندې کړئ.



## جدول: د اوریایي هېوادونو جغرافیایي ځانګړتیاوي (د مطالعې لپاره)

گڼه	هېوادونه	عموميات					په ۲۰۰۱ م. کال کې په مختلفو برخو کې د نفوسو د پوځتیا سلنې	
		پلازمېنه	په ۲۰۰۶ م کال کې د نفوسو شمېر	په یو کیلومتر مربع کې د نفوسو شمېر	کرنه	صنعت		
۱	البانیا	تیرانا	۲۸،۷۴۸	۳،۵۸۱،۶۵۵	۱۲۵	۵۴،۷	۲۳،۱	۲۲،۲
۲	بلجیم	بروکسل	۳۳،۰۰۰	۱۰،۳۷۹،۰۶۷	۳۱۵	۲،۶	۲۷،۲	۷۰،۳
۳	بوسنیا او هرزگووینا	سارایوو	۵۱،۱۲۹	۴،۴۹۸،۹۷۶	۸۸	۱۱،۷	۴۷،۵	۴۰،۸
۴	بلغاریا	صوفیا	۱۱۰،۹۱۲	۷،۳۸۵،۳۶۷	۶۷	۲۵،۷	۳۰،۸	۴۳،۵
۵	ډنمارک	کوپن هارګن	۴۳،۰۹۴	۵،۴۵۰،۶۶۱	۱۲۶	۳،۶	۲۶،۸	۶۹،۶
۶	المان	برلین	۳۵۷،۰۲۲	۸۲،۴۲۲،۲۹۹	۲۳۱	۲،۶	۳۴،۶	۶۲،۹
۷	استونیا	تالین	۴۵،۱۰۰	۱،۳۲۴،۳۳۳	۲۹	۹،۰	۳۱،۷	۵۹،۳
۸	فنلنډ	هلسنکی	۳۳۸،۱۴۵	۵،۲۳۱،۳۷۲	۱۵	۶،۱	۲۷،۵	۶۶،۴
۹	فرانسه	پاریس	۵۵۰،۱۰۰	۶۰،۸۷۶،۱۳۶	۱۱۱	۱،۵	۲۵،۱	۷۳،۴
۱۰	یونان	اتن	۱۳۱،۹۹۰	۱۰،۶۸۸،۰۵۸	۸۱	۱۷،۵	۲۲،۵	۵۹،۹
۱۱	هنګري	بوداپست	۹۳،۰۳۲	۹،۹۸۱،۳۳۴	۱۰۷	۶،۸	۳۴،۴	۵۸،۸
۱۲	ایرلنډ	دوبلین	۷۰،۲۸۴	۴،۰۶۲،۲۳۵	۵۸	۸،۵	۳۰،۰	۶۱،۵
۱۳	ایسلنډ	ریکجاویک	۱۰۳،۰۰۰	۲۹۹،۳۸۸	۳	۸،۶	۲۵،۲	۶۶،۲
۱۴	ایتالیا	روم	۳۰۱،۲۶۸	۵۸،۱۳۳،۵۰۹	۱۹۳	۵،۶	۳۲،۱	۶۲،۳
۱۵	کرواتي	زاګرب	۵۶،۵۳۸	۴،۴۹۴،۷۴۹	۷۹	۱۶،۴	۳۰،۹	۵۲،۶
۱۶	لاتویا	ریګا	۶۴،۶۰۰	۲،۲۷۴،۷۳۵	۳۵	۱۵،۵	۲۶،۴	۵۸،۱
۱۷	لیتواني	ویلنیوس	۶۵،۲۰۰	۳،۵۸۵،۹۰۶	۵۵	۲۰،۲	۳۶،۴	۴۳،۵
۱۸	لوکزامبورګ	لوکزامبورګ	۲،۵۸۶	۴۷۴،۴۱۳	۱۸۳	۳،۰	۲۸،۰	۶۹
۱۹	مقدونیه	سکوپیه	۲۵،۷۱۳	۲،۰۵۰،۵۵۴	۸۰	۲۱،۸	۴۰،۴	۳۷،۸
۲۰	مالتا	والیتا	۳۱۶	۴۰۰،۲۱۴	۱،۲۶۷	۲،۰	۲۶،۰	۷۲،۰
۲۱	مولداوي	کیشي نف	۳۳،۷۰۰	۴،۴۶۶،۷۰۶	۱۳۳	۴۵،۷	۱۴،۶	۳۹،۷
۲۲	مونتيګرو	پدګوریکا	۱۳،۸۱۲	۶۳۰،۵۴۸	۴۶	۲،۰	۳۰،۰	۶۸،۰
۲۳	هالنډ	امستردام	۴۱،۵۲۶	۱۶،۴۹۱،۴۶۱	۳۹۷	۳،۲	۲۲،۰	۷۴،۸
۲۴	ناروي	اوسلو	۳۲۳،۸۷۷	۴،۶۱۰،۸۲۰	۱۴	۴،۱	۲۱،۸	۷۴،۰

گڼه	هېوادونه	عموميات				په ۲۰۰۱ م. کال کې په مختلفو برخو کې د نفوسو د بوختيا سلنې		
		پلازمېنه	پر خوالي په کيلو متر مربع سره	په ۲۰۰۶ م کال کې د نفوسو شمېر	په يو کيلو متر مربع کې د نفوسو تراکم	کرنه	صنعت	خدمتونه
۲۵	اوکراین	کیف	۶۰۳،۷۰۰	۴۶،۷۱۰،۸۱۶	۷۷	۲۶،۱	۲۷،۴	۴۶،۵
۲۶	اتریش	ویانا	۸۳،۸۵۹	۸،۱۹۲،۸۱۸	۹۸	۶،۴	۳۱،۳	۶۲،۳
۲۷	پولنډه	وارسا	۳۲۳،۲۵۰	۳۸،۵۳۶،۸۶۹	۱۱۹	۱۹،۰	۳۱،۷	۴۹،۳
۲۸	پرتګال	لزیون	۹۱،۹۸۲	۱۰،۶۰۵،۸۱۷	۱۱۵	۱۲،۳	۳۵،۲	۵۲،۵
۲۹	رومانیه	بوخارست	۲۳۸،۳۹۱	۲۲،۳۰۳،۵۵۲	۹۴	۴۱،۷	۲۸،۱	۳۰،۲
۳۰	روسیه	مسکو	۱۷،۰۷۵،۴۰۰	۱۴۲،۸۹۳،۵۴۰	۸	۱۱،۶	۲۹،۶	۵۸،۸
۳۱	صربیا	بلګراد	۸۸،۳۶۱	۹،۳۹۶،۴۱۱	۱۰۶	۲۹،۷	۳۲،۹	۳۷،۴
۳۲	سلوونیا	لیوبلیانا	۲۰،۲۵۶	۲،۰۱۰،۳۴۷	۹۹	۱۱،۰	۳۷،۶	۵۱،۴
۳۳	سلواک	براتیسلاوا	۴۹،۰۱۲	۵،۴۳۹،۴۴۸	۱۱۱	۷،۶	۳۸،۰	۵۴،۴
۳۴	اسپانیا	مادرید	۵۰۵،۹۹۲	۴۰،۳۹۷،۸۴۲	۸۰	۶،۹	۳۰،۹	۶۲،۲
۳۵	چک	پراګ	۷۸،۸۶۴	۱۰،۲۳۵،۴۵۵	۱۳۰	۵،۱	۳۹،۱	۵۵،۹
۳۶	بریتانیا	لندن	۲۴۴،۱۰۱	۶۰،۶۰۹،۱۵۳	۲۴۸	۱،۶	۲۵،۴	۷۳،۱
۳۷	سپینه روسیه	مینسک	۲۰۷،۶۰۰	۱۰،۲۹۳،۰۱۱	۵۰	۱۹،۷	۴۰،۶	۳۹،۷
۳۸	سویډن	سټکهلم	۴۴۹،۹۶۴	۹،۰۱۶،۵۹۶	۲۰	۲،۶	۲۵،۵	۷۱،۹
۳۹	سویس	برن	۴۱،۲۸۴	۷،۵۲۳،۹۳۴	۱۸۲	۴،۶	۲۶،۷	۶۸،۷
۴۰	سان مریټو	سان مریټو	۶۱	۳۰۲۰۰	۴۶۷،۲			
۴۱	اندورا	اندورا لا وِلا	۴۵۳	۶۹۸۶۵	۱۵۴			
۴۲	موناکو	موناکو	۱،۹۵	۳۲۸۰۰	۱۶۱،۳			
۴۳	لخن شین	وادوز	۱۶۰	۳۵۱۰۰	۲۱۲،۹			
۴۴	واتیکان	واتیکان سیتی	۰،۴۴	۹۲۰	۲۰۴			
۴۵	آذربایجان	باکو	۸۶۶۰۰	۸۴۴۰۰	۹۴،۵			
۴۶	ارمنستان	ایروان	۲۹۸۰۰	۲۹۷۶۰۰۰	۱۱۱،۹			
۴۷	ګرجستان	تفلیس	۶۹۷۰۰	۴۴۷۴۰۰۰	۷۱،۶			

# دويم څپرکی

## د امریکا لويه وچه

په دې څپرکي کې لاندې موضوعات لولو:

- الف - موقعیت
- ب - د امریکا کشف
- طبيعي جغرافيه
- سياسي جغرافيه
- بشري جغرافيه
- اقتصادي جغرافيه
- مواصلاتي جغرافيه



## د دویم څپرکي موخې

گرانوزده کوونکو! د دې څپرکي له لاندنيو علمي موخو (هدفونو) سره آشنا شئ:

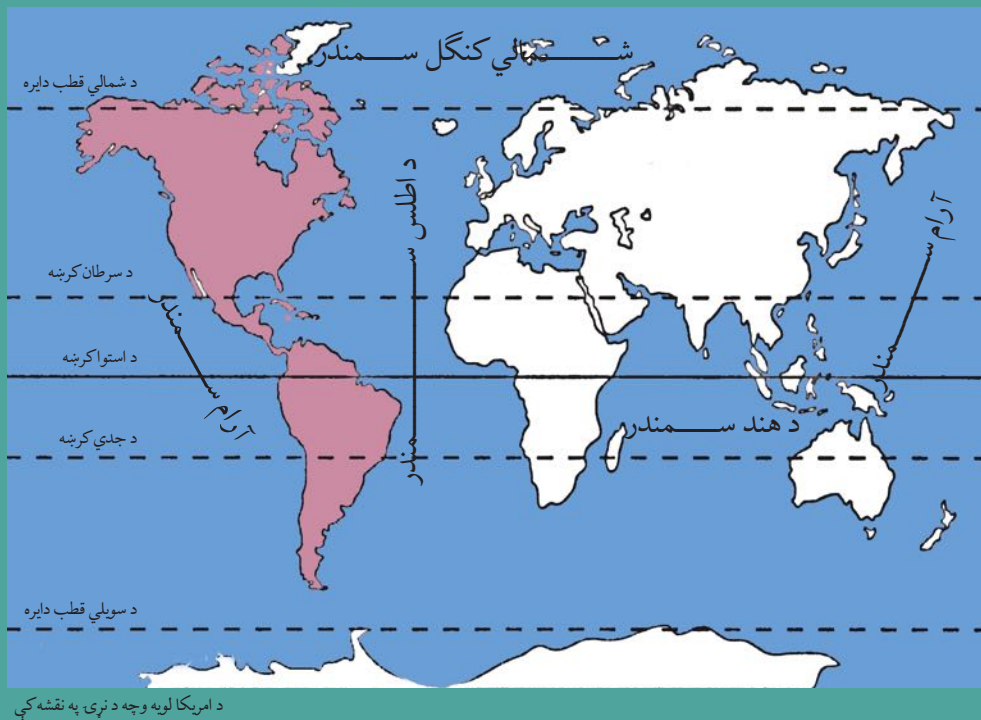
- د امریکا د لویې وچې له جغرافیایي موقعیت سره .
- د امریکا د لویې وچې د کشف له څرنګوالي سره.
- د امریکا د لویې وچې له سیاسي جغرافیې سره.
- د امریکا د لویې وچې له اقتصادي جغرافیې سره (کرنه، صنعت، سوداګری او لېږد رالېږو).

زده کوونکي دې د دې څپرکي په لوستلو سره لاندې مهارتونه حاصل کړي:

- د نقشې پر مخ د امریکا د لویې وچې موقعیت معلومول.
- د نقشې پر مخ د مهمو غرونو، سیندونو، سمندرګیو او جهیلونو معلومول.
- د نقشې پر مخ د امریکا د لویې وچې د هېوادونو معلومول.
- د انسانانو په ژوند کې د حمل و نقل د ارزښت د پایلو توضیح کول.



## د امريکا د لويې وچې د جغرافيايي موقعيت په هکله څه پوهېږئ؟



### د امريکا د لويې وچې څخه کوم سمندرونه چاپېر شوي دي؟

**موقعيت:** د امريکا لويه وچه د ۳۰ درجو او ۱۷۰ درجو لوېديځو طول البلدونو او د ۸۴ درجو شمالي عرض البلد او د ۵۵ درجو سوېلي عرض البلد ترمنځ موقعيت لري.

دا لويه وچه د شمال لخوا په شمالي کنګل سمندر، د جنوب لخوا د Drak Passage دريک په سمندري لارې (چې د انترکتیکا او د سوېلي امريکا ترمنځ بېلونکې پوله ده، په ختيځ کې د اطلس په سمندر چې د اروپا او افريقا لويې وچې يې د امريکا د لويې وچې څخه بيلې کړي او په لوېديځ کې د آرام سمندر (بحرالکاهل) او د بيرنگ له آبناسره چې د ۸۵ کيلومترو په واټن الاسکا له روسيې څخه بيلوي نښتې ده.

پرخوالي (مساحت) يې ۴۲.۳ ميلیون کيلومتره مربع دی. د امريکا د لويې وچې ډېره ليرې شمالي نقطه شمالي قطب او سوېلي ډيره ليرې نقطه يې د کپ هارن Cape-Horn دماغه ده. اوږدوالی يې له شمال څخه جنوب ته ۱۵۰۰۰ کيلومتره دی او سوېلي له ختيځ څخه لوېديځ ته په مختلفو برخو کې سره توپير لري.

### د امريکا د لويې وچې وېش

د امريکا لويه وچه له شمال څخه جنوب لورته په دريو برخو وېشل شوېده چې له شمالي امريکا، منځنۍ امريکا او سوېلي امريکا څخه عبارت ده. د امريکا لويه وچه له شمال څخه جنوب لورته اوږده پرته ده. په

شمالي امريکا کې دوه هېوادونه کاناډا او د امريکا متحده ايالتونه موقعيت لري چې له شمالي قطب څخه تر مکسيکو پورې غزېدلې ده. منځنۍ امريکا د شمالي امريکا او سوېلي امريکا ترمنځ پرته ده، منځنۍ امريکا د شمال لخوا د امريکا په متحده ايالاتو او په جنوب کې د سوېلي امريکا سره گډه پوله لري او د پانامې کانال د کارابين سمندرگي له آرام سمندر سره نښلوي او منځنۍ امريکا له سوېلي امريکا څخه بېلوي. سوېلي امريکا په سوېلي نيمه کره کې د شمالي عرض البلد له ۱۲ درجو څخه د سوېلي عرض البلد تر ۵۵ درجو پورې موقعيت لري. او په شمالي نيمه کره کې يې ډېره لږه برخه پرته ده. سوېلي امريکا د منځنۍ امريکا په جنوب کې د مثلث په بڼه موقعيت لري، چې راس يې د دريک سمندري لارې په لوري او قاعده يې د کارابين په سمندرگي او په منځنۍ امريکا کې موقعيت لري.

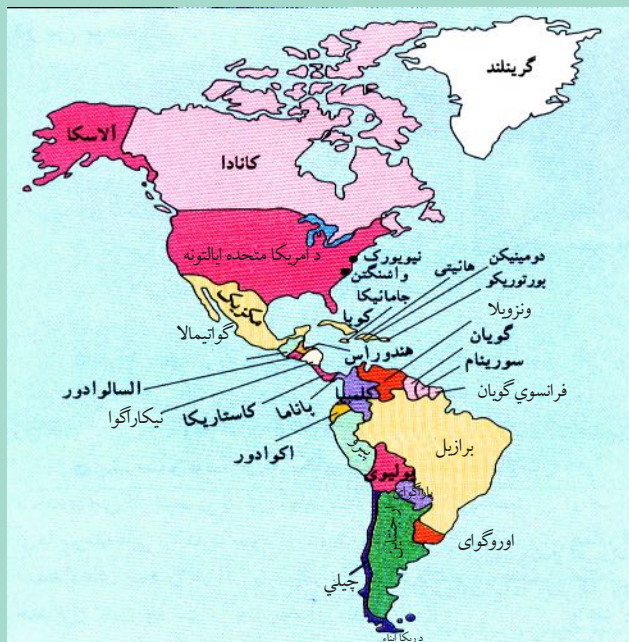
### په ټولگي کې فعاليت

زده کوونکي دې په ډلو ووېشل شي او د ورکړ شوي نقشې څخه په گټه اخيستنې سره دې د امريکا د لويې وچې موقعيت د طول البلدونو او عرض البلدونو پر بنسټ وټاکي او تمرين دې کړي.

#### پوښتنې

لاندي جملې بشپړې کړئ

- ۱- د امريکا لويه وچه .....
- ۲- د ..... آبناء سوېلي امريکا  
د انتارکتيکا له لويې وچې څخه بېلوي؟
- ۳- د امريکا د لويې وچې او د آسيا د  
لويې وچې ترمنځ .....
- ۴- د امريکا او اروپا د لويې وچې  
ترمنځ ..... بيلونکي سرحد  
تشکيلوي.




د امريکا سياسي نقشه

### له ټولگي بهر فعاليت

د ورکړ شوي نقشې له مخې د شمالي، منځنۍ او سوېلي امريکا د هېوادونو نومونه بېل بېل لست کړئ او د جغرافيې په راتلونکي ساعت کې يې، په ټولگي کې ولولئ.

## امریکا څه وخت او د چاله خوا کشف شوه؟



د کرسټف کولمب انځور

## آیا د امریکا د لویې وچې کشف کوونکی بېژنی؟

کرسټف کولمب ایټالوی بېړۍ چلوونکی ته د ځمکې د کړویت په هکله د مسلمانانو د لکینو پرنسټ په ۱۴۹۲ م کال کې د اسپانیې د پاچا لخوا دنده ورکړل شوه ترڅو، د لویدیځ پرلور، هندوستان ته سفر وکړي او کومه شتمني چې هلته وه، لاس ته راوړي. خو کولمب خپل سفر پیل کړ هغه ځای ته ورسید چې هغه یې د غرب الهند په نامه یاد کړ، او لومړنۍ سیمه چې هلته پلې شو، هغه یې د سان سالوا دور (مقدس نجات ورکونکي) په نامه یاده کړه (چې د بهاما د ټاپوگانو له ډلې څخه وه). کولمب فکر کاوه چې اسیا او هند ته رسېدلی دی او خپلو ملگرو ته یې هدایت ورکړ چې د ټاپو گانو په پلټنه پیل وکړي. کلمب درې ځلې نور هم د امریکا نوي وچې ته سفر وکړ.

له کلمب ورسته بل بېړۍ چلوونکی د امریکو سپوچي په نوم د کولمب لارې ته دوام ورکړ او د سوېلي عرض البلد تر ۲۵ درجو پورې د برازیل د هېواد غاړو ته نږدې پرمخ لاړ. دې بېړۍ چلوونکي د خپل سفر په هکله یوه مقاله ولیکله او هغه یې خپره کړه. وروسته بیا په ۱۵۰۲ م کال کې یو جغرافیه پوه یو کتاب ولیکه او په هغه کې یې د امریکو سپوچي مقالې ته د خپل اثر په سریزه کې ځای ورکړ او چاپ یې کړ. په ۱۵۰۷ م کال کې نوموړی کتاب په لاتیني ژبه وژباړل شو، چې په سریزه کې یې یوه جغرافیه پوه وړاندیز وکړ چې د وچې دا ټوټه دې، د هغه د کشف کوونکي په نوم امریکا ونومول.

شي. په لومړيو کې د امريکا نوم د استواد کرښې د جنوب برخې ته کارول کېده، چې کولمب هغه ځای ته سفر نه وکړی، خو وروسته يې شمالي برخه هم په برکې ونيوه او په جغرافيه کې لومړی ځل گردهارد مرکاتور په ۱۵۳۸ م کال کې په خپله مشهوره نقشه کې د امريکا نوم ټولې لوېديځې نيم کرې ته استعمال کړ. له هغه يې وروسته تر ننه پورې دا نوې لويه وچه د امريکو سپوڅي په نوم، د امريکا لويه وچه نومولې ده.



### په ټولگي کې فعاليت

- ۱- زده کونکي دې په ډلو ووېشل شي او لاندې پوښتنو ته دې ځواب ورکړي.
- ۱- کرسټف کولمب ولې د هند د سفر لپاره د اروپا لوېديځه لاره غوره کړه؟
- ۲- مسلمانو جغرافيه پوهانو د امريکا په کشف کولو کې څه رول درلود؟
- ۳- جغرافيه پوهانو ولې دا نوې لويه وچه د امريکا په نوم ونوموله؟

### پوښتنې

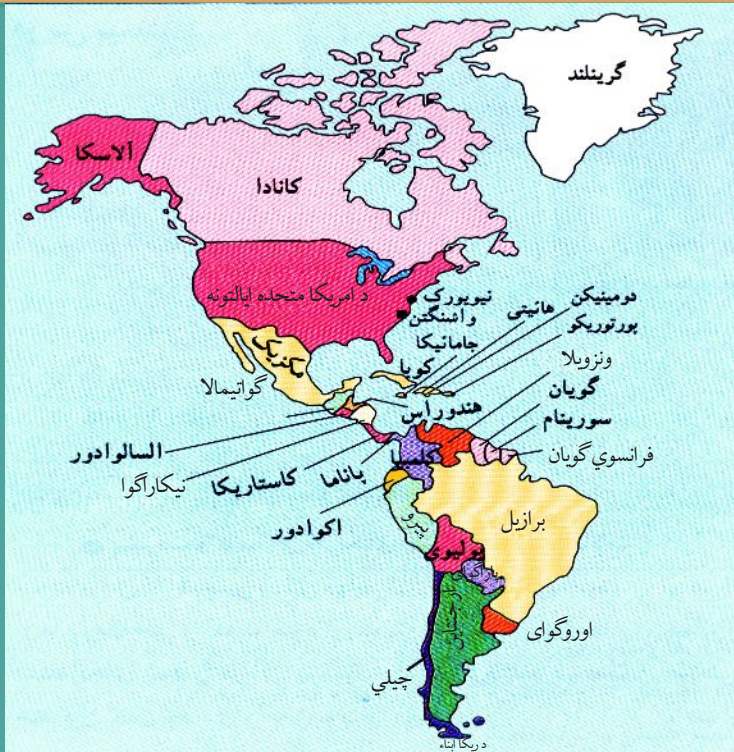
- ۱- امريکا ته د کرسټف کولمب د سفر موخه څه وه؟
- ۲- د امريکو سپوڅي په خپل سمندري سفر کې کوم ځای کشف کړ؟
- ۳- لومړي ځل کوم جغرافيه پوه ، نوموړې نوې لويه وچه د امريکا په نوم ونوموله؟
- ۴- په لومړيو کې د امريکا کلمه د امريکا د لويې وچې کومې برخې ته کارول کېده؟

### له ټولگي بهر فعاليت

د امريکو د سفر لوری د نقشې له مخې رسم کړئ، او څرگنده کړئ چې هغه کوم لوي کار ترسره کړي دی.



## د امریکا سیاسي جغرافیه



د امریکا سیاسي نقشه

### د امریکا په لویه وچه کې څو خپلواک هېوادونه شته؟

د امریکا لویه وچه د ۴۲.۳ میلیونو کیلومترو مربعو په پراخوالي سره په دوو شمالي او سوېلي نیمو کرو کې موقعیت لري. دا لویه وچه په ۵۱ سیاسي واحدونو وېشل شوې ده، چې له هغې جملې څخه ۳۵ واحد یې خپلواک هېوادونه او نور پاتې یې لاتر اوسه د بهرنیو هېوادونو تر کنټرول لاندې دي. په شمالي امریکا کې چې د انګلوساکسون په نوم هم یادېږي د (امریکا متحده ایالاتونیا اتازونې او کاناډا) دوه هېوادونه پراته دي. د امریکا د متحده ایالاتو د ۹،۳۶۳،۰۰۰ کیلومترو مربعو په پراخوالي سره د نړۍ څلورم لوی هېواد دی چې له ۵۰ ایالتونو څخه جوړ شوې دی. له همدې امله یې د هېواد رسمي بیرغ ۵۰ ستوري لري. د حکومت ډول یې فدرالي جمهوریت دی او جمهور رئیس یې د څلورو کلونو لپاره ټاکل کېږي.

د کاناډا هېواد د (۹،۹۷۰،۶۱۰) کیلومترو مربعو په پراخوالي سره د روسیې له هېواد څخه

وروسته د نړۍ پراخه هېواد دی. دا هېواد له لسو ایالتونو څخه جوړ شوی، او لاتر اوسه یې گورنر جنرال چې تشریفاتې بڼه لري، د انگلستان د ملکې له خوا ورپېژندل کېږي او د انگلستان د هم گټو (مشترک المنافع)، هېوادونو له ډلې څخه گڼل کېږي. د منځنۍ امریکا اته گوني هېوادونه د سوېلي امریکا د هېوادونو په گډون د لاتینې امریکا په نوم یادېږي. چې ډیر مهم گډ خصوصیات یې لاتینې ژبه ده. چې په دغو زیاترو هېوادونو کې رسمي ژبه اسپانوي او په برازیل کې پرتگالي ده.

ډیر لوی هېواد یې برازیل دی چې پراخوالی یې ۸،۵۴۷،۴۰۴ کیلومتر مربع او پلازمینه یې د برازیلیا ښار دی او ډیر کوچنی هېواد یې ترینیداد او توباگو دی، مهم ښار یې د ارجنتاین هیواد کې بونس ایرس دی چې د امریکا د پاریس په نوم هم شهرت لري. د سوېلي امریکا د نفوسو ډک هېواد بیا هم برازیل دی چې ۱۸۴،۷ میلیونه تنه نفوس لري، او لږ نفوس لرونکی هېواد یې فالکلند تر استعمار لاندې هېواد دی چې ۲۰۰۰ تنه نفوس لري. د امریکا د لویې وچې شپږ هېوادونه فدرالي ۱۹ یې ولسواکه (جمهوري) او لس نور یې د انگلستان پخوانی مستعمرې دي، چې اوس یې خپلواکي په رسمیت پېژندل شوي ده، خو لاتر اوسه یې گورنر جنرال د انگلستان د ملکې له خوا ټاکل کېږي او د انگلستان د هم گټو هیوادونو څخه گڼل کېږي.

### په ټولگي کې فعالیت

زده کوونکي دې په ډلو ووېشل شي، د پخوانیو معلومات په پام کې نیولوسره دې د امریکایي هېوادونو د حکومتی جوړښت په هکله په خپل منځ کې بحث وکړي او پایلې دې ټولگیالوته وړاندې کړي.

### پوښتنې

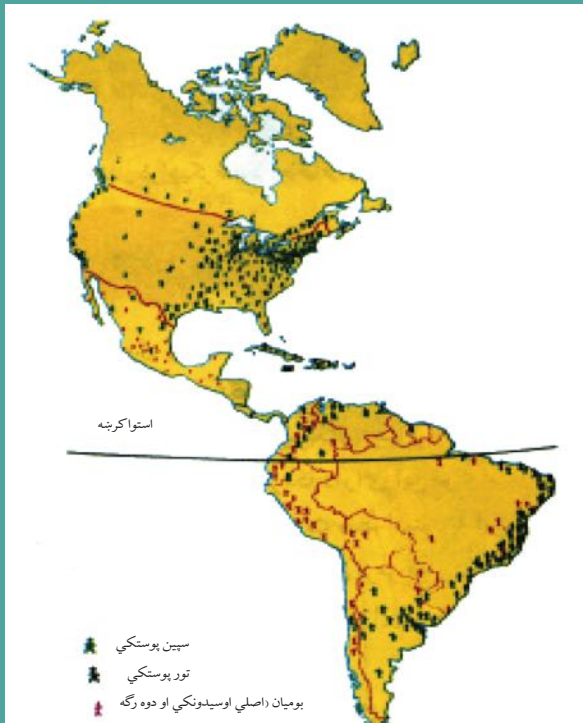
- ۱- د امریکا د لویې وچې د سیاسي وېش نقشې ته په پاملرنې سره لاندینو پوښتنو ته ځواب ورکړئ؟
  - الف - د شمالي امریکا د دوو هېوادونو نومونه وویاست؟
  - ب - د منځنۍ امریکا د یو هېواد نوم وویاست؟
  - ج - د سوېلي امریکا د درېیو هېوادونو نومونه وویاست؟
- ۲- د سوېلي امریکا هېوادونه کومه گډه فرهنگي وجه لري؟
- ۳- د امریکا د متحدو ایالات (اتازوني) له څو ایالتونو جوړ او د حکومت ډول یې څرنگه دی؟

### له ټولگي بهر فعالیت

زده کوونکي دې د امریکا د لویې وچې د یوه هېواد په هکله معلومات راټول او د جغرافیې په راتلونکي ساعت کې وړاندې کړي.

## د امریکا بشري جغرافیه

د امریکا په لویه وچه کې نژادونه



پورتنی نقشې ته وگورئ، چې د امریکا په لویه وچه کې د نژادونو وېش راښيي.

په امریکا کې کوم نژادونه استوگنه لري؟

د امریکا دلویې وچې خلک له ډول ډول نژادونو او څانگو څخه جوړ شوي چې ډېر غوره یې عبارت دي له:

### ۱- بومیان یا سره پوستکي

د امریکا پخواني او اصلي اوسیدونکي دي چې په متحده ایالاتو او کاناډا کې اوسیدلي او هغوی ته هنديان هم وایي. د امریکا له کشفولو وروسته دې لویې وچې ته د سپین پوستکو اروپایانو په ورتگ سره چې د سره پوستکو د ځمکو د لاندې کولو په لټه کې وو. د بومیانو او اروپایانو ترمنځ ډیرې جگړې وشوې چې د هغو له امله نن ډیر لږ سره پوستکي پاتې دي. د دې خلکو کار کرنه او د ژویو ښکار او د ونو له مېوو څخه یې هم خواړه برابرول وه. سره پوستکي د ژیر پوستکو له نژاد څخه هم گڼې چې ډیر پخوا یې د آسیا له لویې وچې څخه د بېرنگ د آبنو له لارې د امریکا لویې وچې ته مهاجرت کړی دی.

### ۲- سپین پوستکي

له ۱۶ز. پېړۍ وروسته اروپایي سپین پوستکي مهاجرین ورو ورو امریکا ته راغلل، هلته استوگن شول او ورځ په ورځ یې شمیر ډېر شو نن د امریکا د لویې وچې ډېر وگړي دوه رگه دي چې د مختلفو نژادونو

او ملیتونو د اختلاط په پايله کې منځته راغلي دي.

۳- **تور پوستکي:** امریکایي تور پوستکي په واقعیت کې د افریقایي غلامانو او مریانو زامن او لمسي دي چې داستعمار په دوران کې د اروپایي سپین پوستکو په واسطه په کانونو او کروندوکې د کار لپاره په اجباري توګه دې لویې وچې ته راوړل شوي دي. نن ورځ یو زیات شمیر تور پوستکي په شمالي، منځني او سوېلي امریکا کې ژوند کوي.

د امریکا په متحده ایالتونو کې تور پوستکي ددې هېواد په جنوب ختیځ او همدارنګه په لویو ښارونو لکه شیکاګو او نیویارک کې استوګنه کوي او د ژوند شرایط یې د سپین پوستکو په پرتله د اقتصادي او اجتماعي پلوه نا مناسب دي.

ایا پوهیږئ د امریکا په لویه وچه کې دوه فرهنگه او مروجې ژبې کومې دي؟

### الف - شمالي امریکا

په شمالي امریکا کې یعنې په متحده ایالاتو کې انګلیسانو د ۱۷ز. پېړۍ په لومړیو او په کاناډا کې د ۱۸ز. پېړۍ په وروستیو کې یو ډول انګلیسي فرهنگ منځته راوړ، چې لاتر اوسه شته. د کاناډا وګړي په انګلیسي او فرانسوي او د متحده ایالاتو وګړي په انګلیسي ژبه خبرې کوي.

### ب - لاتینه امریکا

منځني او سوېلي امریکا په ګډه د لاتینې امریکا په نوم شهرت لري. د دې سیمې نوم او دهغو د ژوند کره وړه د لاتیني اروپا یعنې د اسپانې او پرتګال د فرهنگ استازیتوب کوي چې اسپانوي ژبه د دې سیمې د ۲۰ جمهوریتونو څخه په ۱۸ جمهوریتونو کې مروج ده، د برازیل خلک په پرتګالي او د هایتي خلک په فرانسوي ژبو خبرې کوي.

## په ټولګي کې فعالیت

- زده کوونکي دې په ډلو کې په لاندې مطلب بحث او خبرې وکړي.
- لاتینه امریکا د امریکا د لویې وچې کومې برخې ته ویل کېږي او ولې؟
  - د تور پوستکو اصلي منشه چې نن ورځ په امریکا کې اوسېږي د کوم ځای څخه پیل کېږي؟

### پوښتنې

- سم ځواب غوره کړئ.
- ۱- د انګلوساکسون فرهنگ په کوم یوه لاندني هېواد کې شته؟  
الف - کاناډا ب - برازیل ج - ارجنتاین د - مکسیکو
  - ۲- لاندې جملې بشپړې کړئ.  
په سوېلي امریکا کې ..... فرهنگ رواج لري.
  - ۳- لنډ ځواب ورکړئ.  
ایا د امریکا د متحده ایالاتو تور پوستکي اقتصادي او اجتماعي مناسب شرایط لري؟






د امریکا په لویې وچې کې د نفوسو د جغرافیایي وېش نقشه

د امریکا د لویې وچې د نفوسو د جغرافیایي وېش نقشې ته څیر شی چې په امریکا کې د نفوسو مېشته کیدنه رابښي.

د امریکا د نفوسو ډېره برخه د دوو لویو وچو یعنی د اروپا او افریقا مهاجرین چې په لویو ښارونو کې استوگنه لري، په خپله لمن کې رانغاړي. د دې لویې وچې له نفوسو ډکې سیمې شمالي او

د نیویارک یو انځور



منځنۍ امریکا ده چې په ۲۰۰۰ز. کال کې یې تر ۴۸۰ میلیونو تنو څخه یې ډېر وگړي درلودل او په سوېلي امریکا کې هم د ۳۴۶ میلیونو تنو څخه ډېر وگړي اوسېدل. د امریکا د لویې وچې ټول نفوس ۸۲۷ میلیونو تنو ته رسېږي. په شمالي او منځنۍ امریکا کې له نفوسو څخه ډک ښار د نیویارک بندر دی چې نفوس یې په ۲۰۰۵ز. کال کې ۱۸،۵ میلیونو تنو ته رسېده.

د سوېلي امریکا په برازیل کې د سن پاولو د ښار د وگړو شمېر په ۲۰۰۵ز. کال کې

۱۸,۳ میلیونو تنو ته رسېده. همدارنگه بونس ايرس د ارجنتاين پلازمينه له نفوسو څخه له ډکو ښارونو گڼل کېږي چې په ۲۰۰۵ ز. کال کې يې ۱۳,۳ ميليونه تنه نفوس درلوده. د يادولو وړ ده چې د نفوسو وده په لاتينه امريکا کې د شمالي امريکا په پرتله ډېره ده. د شمالي امريکا وگړي له مکسيکو پرته ډېرې د پروتستان د مذهب پيروان دي او د امريکا د لويې وچې نور اوسيدونکي کاتولیک مذهب دي. چې د سوېلي اروپا ميراث دی. د کاتولیک مذهب لارويان په لاتينه امريکا کې استوگن دي او د نورو دينونو لارويان لکه مسلمانان او يهوديان هم د امريکا په لويه وچه کې استوگنه لري.

دساو پائولو د ښار انځور



### په ټولگي کې فعاليت

دامريکا دنفوسو د جغرافيايي وېش نقشې ته په پاملرنې، د دې لويې وچې له نفوسو څخه ډک ښارونه له ليکنې پرته نقشه کې مشخص کړئ.

### پوښتني

- ۱- د امريکا په کوم ښار کې ډېر تور پوستي استوگنه کوي؟
- ۲- د نفوسو وده په شمالي امريکا کې ډېره ده که په سوېلي او منځني امريکا کې؟
- ۳- د پروتستان مذهب ډېر لارويان ددې لويې وچې په کومه برخه کې پراته دي؟ نوم يې واخلئ.

# د امریکا اقتصادي جغرافیه



د شمالي امریکا (د امریکا د متحدو ایالتونو او کاناډا) اقتصادي انځوریزه نقشه

**لارښود**

تښاکو	پښه	کلونه	غښ	اومه نفت	سره زر		
کب بڼه	د ښځو غواګانې	د ښځو سکډو	جرار	د مسندونو له تل څخه د نفتو راښته	ډکار څخه		
مرکبات	د غوښې غوايې	پښونه	ښکر	لږګي	څوګ		

## کوم عوامل د شمالي امریکا د اقتصادي پرمختګ سبب شوي دي؟

### شمالي امریکا

- په اوسنیو شرایطو کې د شمالي امریکا دوه هېوادونه (متحده ایالات او کاناډا) په مختلفو دلايلو د نړۍ له ډېرو پرمختللو هېوادونو څخه ګڼل کېږي، د بېلګې په توګه:
- شمالي امریکا تر ځمکې لاندې ډېر کانونه، طبيعي سرشاره زېرمې، پراخې ځمکې، له اوبو څخه ډک سیندونه او ډول ډول اقلیمونه لري.
- د امریکا د لوېې وچې له کشف وروسته، اروپایانو دې وچې ته مهاجرت کړی دی. هغوی خپلې پانګې هم له ځان سره راوړې وې. دغو مهاجرینو خپل مهارتونه او استعدادونه په کار واچول او د څو پېړیو په اوږدو کې یې نوی تمدن منځته راوړ.
- د شمالي امریکا په اقتصادي پراختیا کې نورو عواملو هم اغېزه درلوده د بېلګې په توګه په دویمې نړیوالې جګړې کې د ډېرو اروپایي هېوادونو صنایع ړنګې شوې، خو متحده ایالاتونه د جګړې له سیمې څخه دلرې والي په سبب زیانمن نه شول او وې کولای شول چې تر خپلو سیالانو وړاندې شي.



- شمالي امريکا د زياتو هيوادونو د پوهانو او متخصصانو په جذبولو سره يې هم وکولای شو چې پر مختللي اقتصاد ولري.

### کرنه او مالداري

شمالي امريکا طبيعي سرشاره او پراخه منابع لري، چې دا لاملونه په دې سيمه کې د کرنې او مالدارۍ د پرمختگ سبب شوي دي. په حاصل خيزو ځمکو کې په ډېره کچه غنم او جوار کرل کېږي. کرنيز فعاليتونه د علمي لارو چارو څخه په گټې اخيستې سره په ښه توگه سرته رسېږي. مالداري د امريکا په مختلفو سيمو کې، له هغې جملې په متحده ايالاتو او کاناډا کې ځانگړې ارزښت لري. په دغو هيوادونو کې د غويانو، پسونو او وزو د لويو رمو او آسونو روزنه کېږي.

### کانونه او صنايع

د امريکا په ټوله لويه وچه کې د نفتو څاگانې او د اوسپنې او ډبروسکرو کانونه پيدا کېږي. همدارنگه د دې لويې وچې نور غوره کانونه سره زر، سپين زر، مس، نکل او داسې نور دي. د امريکې متحده ايالاتو د صنعتي توليداتو کارخانې په لويو ښارونو لکه نيويارک او د امريکا د پنځه گونو جهيلونو په شاوخوا کې جوړې شوې دي. د شمالي امريکا د يادولو وړ صنايع د فلزاتو د ويلې کولو، درندو صنايعو، د پولادو برابرولو، کرنيزو ماشينونو، لارو جوړولو، د وسلې توليدولو، موټر جوړولو، بهرۍ جوړولو، الوتکو جوړولو او بالاخره کيمياوي صنايعو، د نفتو د چاپولو له صنايعو او نورو څخه دي.

### په ټولگي کې فعاليت

زده کوونکي دې په ډلو ووېشل شي او هره ډله دې د لاندې جدول په پام کې نيولو سره هغه طبيعي او بشري عوامل چې د شمالي امريکا د پرمختگ سبب شوي، په دوو ورکر شوو ستونونو کې واضح کړي.

بشري عوامل	طبيعي عوامل
له جگړې څخه لرې والي ..... .....	حاصل خيزه پراخه ځمکې ..... .....

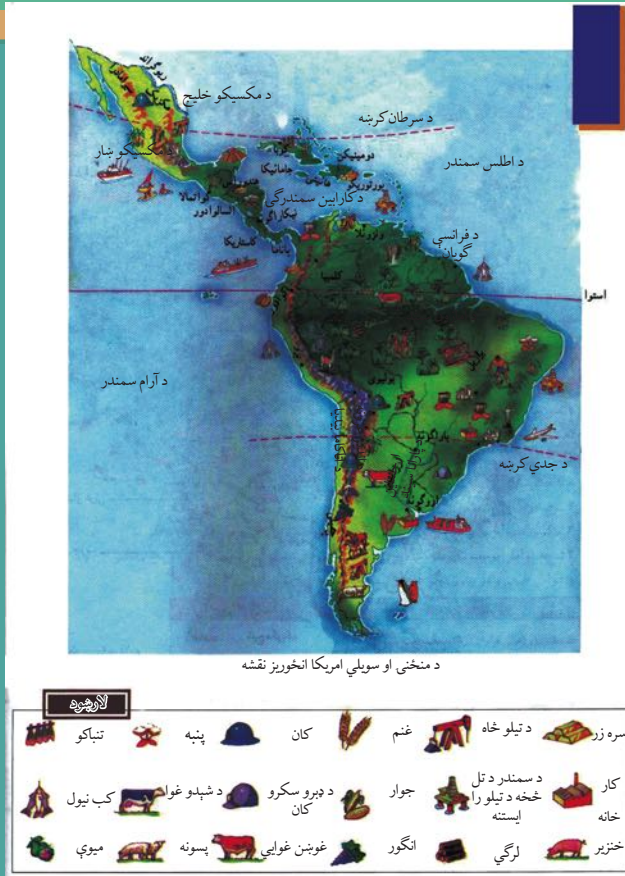
### پوښتنې

۱. د شمالي امريکا د څو غوره کرنيزو پيدا وړو نومونه واخلي؟
۲. د امريکا د متحده ايالاتو مهمې صنايع کومې دي بيان يې کړئ؟
۳. د شمالي امريکا د غوره کانونو نومونه واخلي؟
۴. د شمالي امريکا د صنايعو په هکله څه پوهېږئ؟

### له ټولگي څخه بهر فعاليت

د شمالي امريکا له ليکنې څخه پرته (سپينې) نقشې کې د شمالي امريکا د صنعتي ښارونو ځايونه مشخص کړئ او د جغرافيايي په راتلونکي ساعت کې يې ټولگيوالو ته وښئ.





### د لاتيني امريکا اقتصاد پر کومو بنسټونو ولاړ دی؟

د لاتيني امريکا هېوادونه د متحده ايالاتو او کاناډا په څير پر مختللي نه دی، بلکې د هغو اقتصاد زيات په کرنيزو محصولاتو او دکاني موادو په را ايستني ولاړ دی.

#### کرنه

د شلمې پېړۍ په لومړيو کې چې د کرنې په برخه کې کوم بدلونونه منځته راغلي دي، لاتيني امريکا وکولای شو چې د نړۍ په کرنيز اقتصاد کې مهم مقام خپل کړي. لکه چې اوس کولای شو د سوېلي امريکا د هېوادونو په غوره کرنيزو محصولاتو کې د پنبې، گنيو، ککاو، قهوې، کيلې او ربړ نوم واخلو. سربېره پردې د دې سيمې په ځينو هېوادونو کې غلې دانې په ځانگړي ډول غنم او جوار هم په ډېره اندازه کرل کېږي. لکه چې دارنگه ارجنټاين د غنمو او جوارو مهم توليدوونکې هېواد دی، او برازيل د نړۍ د قهوې مهم صادروونکي دی. همدارنگه د امازون د څنگونو نومه ربړ ددې لويې وچې غوره شتمني گڼل کېږي. په منځني امريکا او د کاراين په ټاپوگانو کې کبله، قهوه، ککاو، گني، ډول ډول مرکبات او اناناس او همدارنگه سربېره پر هغو په ټوله سوېلي امريکا کې چغندر، قند،

کټان او په ځنگلی سیمو کې له ځنگلونو څخه د گټې اخیستنې محصولات د پاملرنې وړ دي.

## مالداري

مالداري د سوېلي امریکا په مختلفو سیمو له هغو جملې په برازیل او ارجنټاین کې ځانگړې ارزښت لري. په دغو هېوادونو کې د شنو او پراخو د بنټو د شتون له امله د رمو ساتنه او مالداري په ځانگړې ډول د غوا گانو روزنه ډېر رواج لري، لکه چې په ورستیو کلونو کې د غوښو د کنسرو او ساتنې لپاره پوره وسایل برابر شوي چې دغه حالت د مالدارۍ د ډېرې ودې سبب شوی دي.

## کانونه او صنایع

سوېلي امریکا د طبیعي منابعو له پلوه بډایه لویه وچه ده. په دې لویه وچه کې د نفتو، سرو زرو، سپینو زرو، مسو او اوسپنې کانونه شته. دا سیمه د نفتي منابعو د درلودلو له پلوه هم د پاملرنې وړ ده. یو له هغو عواملو څخه چې هسپانویانو او پرتگالیانو د دې لویې وچې د نیولو لپاره پام را وړاوه، هغه د قیمتي فلزاتو لکه سرو زرو او سپینو زرو شتوالی و، چې د سپینو زرو زیاتره کانونه په مکسیکو او د بوکسیتو (د المونیمو د تولید لپاره استعمالېږي) په جامیکا کې دي. د نفتو صنعت او ډول ډول کانونه، د فلزاتو ویلې کول او د مسو مهم کانونه هم د چیلی په هېواد کې د یادونې وړ دي. په سوېلي امریکا کې د صنایعو پراختیا خپل لومړني پړاوونه وهي.

## په ټولگي کې فعالیت

زده کوونکي دې په ډلو ووېشل شي، هره ډله دې د شمالي امریکا او سوېلي امریکا اقتصاد د کرنې، مالدارۍ کانونو او صنایعو له پلوه سره پرتله کړي او پایله دې ټولگيو الوته وړاندې کړي.

## پوښتنې

۱. د سوېلي امریکا اقتصاد ډېر په کومو شیانو ولاړ دی؟
۲. د سوېلي امریکا ډیر مهم صادراتي محصولات کوم دي؟
۳. د لاتیني امریکا په هېوادونو کې د مالدارۍ او رمو ساتنو د پراختیا دلایل ولیکئ؟
۴. د سوېلي امریکا د مهمو کانونو نومونه واخلي؟

## له ټولگي بهر فعالیت

لاتیني امریکې ته د هسپانویانو او پرتگالیانو د مهاجرت په هکله یو مطلب د ښوونځي له کتابتون او یا نورو سرچینو څخه په گټې اخیستنې سره په څو کرښو کې ولیکئ، او د جغرافیې د لوست په راتلونکي ساعت کې یې ټولگيو الو ته وړاندې کړئ.



د شمالي امريکا مهمې لوپې لارې

### ستاسې له نظره د شمالي امريکا د مواصلاتي لارو اهميت په څه کې دی؟

مواصلاتي جغرافيه د سوداگريزو مهمو بندرونو، ښارونو او سيمو ترمنځ د اړيکو له مطالعې څخه عبارت ده، چې په دغه تگ لوري باندې د سوداگرۍ مالونه (واردات او صادرات) او د مسافرينو تگ او راتگ کېږي او مختلف ډولونه لري.

د امريکا مواصلاتي لارې کولای شو تر دوو بېلو سرليکونو لاندې مطالعه کړو.

#### ۱- شمالي امريکا

##### الف- ځمکنی مواصلات

شمالي امريکا د اوسپنو او لویو لارو ډېرې گڼې کرښې لري، چې ټول ښارونه، دکانونو د رايستني مرکزونه، صنعتي او لگښتي مرکزونه او د هېوادونو بندرونه يې سره نښلولي دي، يعنې د شمالي امريکا د هېوادونو د اوسپنو کرښې او لوپې لارې په خپلو منځو اوهم د منځنۍ امريکا د بحر الکاهل دغاړې هېوادونو سره نښتي دي، چې له هغو څخه په گټه اخيستني سره کولای شو له ټولو هېوادونو سره سوداگريزې او سفري اړيکې ټينگې کړو.

##### ب- داوبو مواصلات

د آرام او اتلانتيک د سمندرونو ترمنځ د شمالي امريکا جغرافيايي مناسب موقعيت او ساحلي

مناسبې وتلي او ننوتلې برخې ددې سبب شوې ترڅو، بندرونه، سوداګري او د بهرې چلونې فن په دغو سيمو کې پرمختګ وکړي، او د نړۍ له سلو ډېر هېوادونو سره سوداګري وکړي. همدارنګه د سيندونو د اوبو له لارو په گټې اخيستني سره کولای شو د هېواد په دننه او هم د هغو له لارې د اوبو د نړيوالو لارو سره اړيکې پيدا کړي.

### ج- هوايي مواصلات

له دې ترانسپورټ څنې ډېر په ليرې واټنونو د مسافرينو او هغو مالونو د وړنې لپاره چې درانده نه وي او ارزښت يې ډير وي، گټه اخيستل کېږي. د امريکا د متحدو ايالاتو او کاناډا د هېوادونو لويې ترانسپورتي کمپنۍ د ډېرو لويو او وړو الوتکو په لرلو سره د هېواد په دننه او بهر کې په ترانسپورتي برخه کې فعاليت کوي.

### د- د پايپ لين په واسطه وړل

د دې وسيلې په واسطه ډېر مایعات له ضايعاتو پرته په ډيره چټکۍ سره د لگښت مرکزونو ته وړل کېږي. دې وسيلې ډېر د شمالي امريکا په هېوادونو کې پراختيا موندلې او د نفتو، ګازو او اوبو د وړلو لپاره ورڅخه گټه اخيستل کېږي. د تکزاس - نيويارک د ګاز پايپ لين د امريکا د متحده ايالاتو ډير اوږد او مهم پايپ لين دی. په کاناډا کې هم د هېواد د لويديځ يعنې د البرتا د ايالت او دهغه د شاوخوا سيمو څخه نفت او ګاز د پايپ لينونو په واسطه د لگښت مرکزونو ته وړل کېږي.

### په ټولګي کې فعاليت

زده کوونکي دې په دوه کسيزو ډلو کې تنظيم شي او له ورکړ شوې نقشې څخه په گټه اخيستني سره دې له يو بل سره مشوره وکړي، چې د امريکا په متحده ايالاتو کې د شيکاګو سوداګريزې صنعتي ښار (د مشيگان د جهيل په جنوب لويديځه غاړه کې) د اوسپنو د کربنو او لويو لارو په وسيله له کومو بندرونو او ګاونډيو هېوادونو سره نښلول شوي، او د خپل فعاليت پايلی دې ټولګي والوته ووايي.

### پوښتني

- ۱- مواصلاتي جغرافيه تعريف کړئ.
- ۲- د متحده ايالتونو د اوسپنې کربنې د کومو هېوادونو د اوسپنو له کربنو سره نښلول شوي دي؟
- ۳- د شمالي امريکا جغرافيايي موقعيت د دريو سمندرونو ترمنځ د کوم ډول ترانسپورټ د پرمختيا سبب شوی دی؟
- ۴- د شمالي امريکا کوم لوی سيندونه د بېرې چلولو وړ دي؟
- ۵- له هوايي ترانسپورټ څخه ډېر د څه لپاره کار اخيستل کېږي؟
- ۶- د پايپ لين د اوبلنو شيانو په وړلو کې څه ارزښت لري توضيح يې کړئ؟

### له ټولګي بهر فعاليت:

له ورکړ شوې نقشې څخه په گټه اخيستني سره که وغواړو د امريکې متحده ايالاتو د الاسکا له ايالت څخه د لويو لارو په وسيله د پانامې هېواد ته سفر وکړو، له کومو هېوادونو څخه بايد تېر شوو، په دې هکله خپل معلومات وليکئ.



## ۲\_ سوېلي امريکا



د سوېلي امريکا مهمې لوېې لارې  
 ولې د سوېلي امريکا په لويه وچه کې ځمکني ترانسپورت ښه وده او پرمختگ نه دی کړی؟

- په دې لويه وچه کې طبيعي عوامل د ارتباطي لارو خنډ گرځي. د انډيز د غرونو لړۍ له يوې خوا او د امازون پراخو ځنگلونو د بلې خوا د گڼو گڼو لرونکو هېوادونو د ترانسپورتي لارو پراختيا لږه ممکنه کړېده. د سوېلي امريکا هېوادونه د ځمکنيو لارو له پلوه بې وزلي دي.

## الف- ځمکني مواصلات

په سوېلي امريکا کې د اوسپنو کرنې ډېرې په دوو گڼو ميشو سيمو کې يعنې د برازيل د قهوې په توليدي سيمو د ريو دو ژنيرو په شاوخوا او د پامپاس په حاصل خېزه سيمو د بونس ايرس په شاوخوا کې پراختيا موندلې.

د سوېلي امريکا د اوسپنو مهمې کرنې په لاندې ډول دي:

- ۱- د ارجنټاين او چيلي د هېوادونو ترمنځ د اوسپنو سراسري ليکه.
- ۲- د بوليويا هېواد ته د ارجنټاين د هېواد د اوسپنې ليکه.
- ۳- له ارجنټاين څخه برازيل ته د ختيځو سواحلو د اوسپنې لار.

۴- چيلي ته د بوليويا د اوسپني کرښه.

د پان امریکن په نامه لويې لارې چې د سوېلي امریکا د ډېرو هېوادونو پلازمېنې يې سره نښلولې دي، د سوېلي امریکا له مهمو لويو لارو څخه گڼل کېږي.

### ب- د اوبو مواصلات

د سوېلي امریکا هېوادونه داوبو د لارو له پلوه شتمن دي، ځکه ډېر سيندونه يې په ډېر اوږده واټن د بېړيو د چلولو وړ دي. د بېلگې په توگه د امازون سيند د ۴۰۰۰ کيلومترو په واټن د بېړيو چلولو وړ دی. له بلې خوا د سوېلي امریکا ښه جغرافيايي موقعيت د آرام او اتلانتيک د سمندرونو ترمنځ د سمندري ترانسپورت د پراختيا سبب شوی دی. د پانامې کانال چې د اتلانتيک او آرام سمندرونه سره نښلوي، اوږدوالی يې ۸۲ کيلومتره دی چې ځانگړې استراتېژيکې او اقتصادي ارزښت لري.

### ج- هوايي مواصلات

د ځمکنيو لارو د پراختيا ستونزې د دې سبب شوی چې د سوېلي امریکا ډير هېوادونه هوايي لارو ته ډېره پاملرنه وکړي. پر نړيوالو هوايي کرښو سربېره چې ورڅخه گټه اخيستل کېږي د دننيو اړيکو زياته برخه هم په ځانگړي ډول د برازيل او ارجنټاين په هېوادونوکې چې پراخوالی يې ډېر دی، د هوا له لارې سرته رسېږي.

### په ټولگي کې فعاليت

زده کوونکي دې په پنځه کسيزو ډلو کې تنظيم او هره ډله دې د سوېلي امریکا د ځمکني ترانسپورت د ستونزو په هکله په خپل منځ کې بحث وکړي او د خپل بحث پايلې دې ټولگي والوته وړاندې کړي.

### پوښتنې

- ۱- هغه طبيعي عوامل چې د سوېلي امریکا د ځمکنيو لارو د پراختيا په مخ کې خنډ گرځيدلي ووياست؟
- ۲- د سوېلي امریکا د اوسپنو ليکي ډېرې په کومو سيمو کې جوړې شوې دي؟
- ۳- ولې په سوېلي امریکا کې د اوبو ترانسپورت د ځمکني ترانسپورت په پرتله پرمخ تللی دی؟
- ۴- په سوېلي امریکا کې د هوايي ترانسپورت د ډېرې پرمختيا لاملونه کوم دي؟

### له ټولگي څخه بهر فعاليت

د سوېلي امریکا ترانسپورتي نقشه په غور سره مطالعه کړئ او ووياست، که وغواړو د ارجنټاين د هېواد د پلازمېنې بونس ايرس څخه د چيلي پلازمېنې سانتياگو ته سفر وکړو له کومو مواصلاتي کرښو څخه گټه اخيستلای شو.

جدول: د امریکایي هېوادونو جغرافیایي ځانګړتیاوې (د مطالعې لپاره)

موقعیت	نفس په ۲۰۰۲م کال کې	پراخوالی په کیلو متر مربع	پلازمېنه	هېوادونه	ګڼه
سویلي امریکا	۳۸۹۷۱۰۰۰	۲۷۸۰۰۹۲	بوئنوس آیرس	ارجنټاین	۱
منځنی امریکا	۷۸۲۰۰	۴۴۲	سنت جونز	آنتي ګوا باربودا	۲
سویلي امریکا	۳۲۶۶۰۰۰	۱۷۶۲۱۵	مونته ویدئو	اروګوای	۳
سویلي امریکا	۱۳۴۱۹۰۰۰	۲۷۲۰۴۵	کیتو	اکوادور	۴
منځنی امریکا	۶۹۹۱۰۰۰	۲۱۰۴۱	سان سالوادور	السلوادور	۵
شمالي امریکا	۲۹۹۳۳۰۰۰۰	۹۳۶۳۳۶۴	واشنگټن ډي سي	د امریکا متحده ایالتونه	۶
منځنی امریکا	۲۷۰۰۰۰	۴۳۰	بریج ټاون	باربادوس	۷
منځنی امریکا	۳۲۷۰۰۰	۱۳۹۳۹	ناسائو	بهاما	۸
منځنی امریکا	۳۰۱۰۰۰	۲۲۹۶۵	بلموپان	بلیز	۹
سویلي امریکا	۹۳۵۴۰۰	۱۰۹۸۵۸۱	لاپاز اوسوکر	بولیوی	۱۰
سویلي امریکا	۵۹۹۳۰۰۰	۴۰۶۷۵۲	اسون سیون	پاراګوای	۱۱
منځنی امریکا	۳۱۹۱۰۰۰	۷۵۵۱۷	پانامه سټي	پانامه	۱۲
سویلي امریکا	۲۷۵۴۴۳۰۵	۱۲۸۵۲۱۶	لیما	پیرو	۱۳
سویلي امریکا	۱۳۰۱۰۰۰	۵۱۲۸	پرت آو اسپاین	ترینیداد او توباګو	۱۴
منځنی امریکا	۲۶۶۷۰۰۰	۱۰۹۹۱	کینګسټون	جامایکا	۱۵
منځنی امریکا	۶۹۵۰۰	۷۵۱	روسو	دومینیکا	۱۶
منځنی امریکا	۹۰۲۱۰۰۰	۴۸۶۷۱	سانتو دومینګو	دومینکن	۱۷

منځني امريکا	۴۹۱۰۰	۲۶۱	باستر	سنت کيٽس ورنويس	۱۸
منځني امريکا	۱۶۵۰۰۰	۶۱۷	کاسٽرس	سنت لوسيا	۱۹
منځني امريکا	۹۶۸۰۰	۳۸۹	کنکرتاؤن	سنت وين سنت وگرناڊين	۲۰
سوپلي امريکا	۵۰۲۰۰۰	۱۶۳۲۶۵	پاراماريو	سورينام	۲۱
سوپلي امريکا	۱۶۴۳۶۰۰۰	۷۵۶۶۲۶	سانتياگو	چيلي	۲۲
منځني امريکا	۴۲۷۴۰۰۰	۵۱۱۰۰	سان خوزه	کاسٽاريکا	۲۳
شمالي امريکا	۳۲۵۴۷۰۰۰	۹۹۷۰۶۱۰	اوتاوا	کاناڊا	۲۴
سوپلي امريکا	۴۳۵۹۳۰۰۰	۱۱۴۱۷۴۸	بوگوتا	کلمبيا	۲۵
منځني امريکا	۱۱۲۹۴۰۰۰	۱۱۰۸۶۱	هاوانا	کيوبا	۲۶
منځني امريکا	۱۰۷۰۰۰	۳۴۴	سنت جورجس	گرينادا	۲۷
منځني امريکا	۱۳۰۱۹۰۰۰	۱۰۸۸۸۹	گواتيمالاسٽي	گواتيمالا	۲۸
سوپلي امريکا	۷۵۶۰۰۰	۲۱۴۹۶۹	جورج ټاون	گويانا	۲۹
منځني امريکا	۱۰۴۰۳۸۰۰۰	۱۹۵۸۲۰۱	مکسيکو سٽي	مکسيکو	۳۰
منځني امريکا	۵۲۳۳۰۰۰	۱۳۰۷۰۰	ماناگوا	نيکاراگوا	۳۱
سوپلي امريکا	۲۷۲۱۶۰۰۰	۹۱۲۰۵۰	کاراکاس	وينزويلا	۳۲
منځني امريکا	۸۸۰۸۰۰۰	۲۷۷۵۰	پورتو پرنس	هايټي	۳۳
منځني امريکا	۷۳۲۷۰۰۰	۱۱۲۴۹۲	تيگوسيگالپا	هانډوراس	۳۴
سوپلي امريکا	۱۸۶۷۷۱۰۰۰	۸۵۴۷۴۰۴	برازيليا	برازيل	۳۵



# درېمه برخه: مدني زده کړې

## لومړۍ څپرکي

په دې څپرکي کې لاندې درسونه لولئ:

- ولې د اقتصاد علم زده کوو؟
- د اقتصاد علم د کومو موضوعگانو په اړه بحث کوي؟
- د اقتصاد اهمیت:
- د څیزونو او خدمتونو اقتصادي مفهوم؛
- مصرفي او پانګه ییز څیزونه؛
- تولید، وېش او مصرف؛
- عرضه او تقاضا؛
- د پیسو اهمیت او دندې؛

## د خپرکي موخې

- زده کوونکي به د دې خپرکي ترلوستلو وروسته لاندې موخې ترلاسه کړي:
- د اقتصاد د علم، موضوعگانو او اهمیت د زده کړې په تعریف به وپوهېږي؛
  - د اقتصاد د علم په مفهوم باندې به وپوهېږي؛
  - تولید، وېش، مصرف، عرضه، تقاضا، د پيسو اهمیت او دندې به بیان کړای شي؛
  - د اقتصاد د علم د لوستلو اړتیا او اهمیت به تشریح کړای شي؛
  - خدماتي، مصرفي او پانگه ییزو څیزونو به یو له بله څخه توپیر کړای شي؛
  - تولید، وېش او مصرف به بیان کړای شي؛
  - د عرضې او تقاضې ترمنځ به توپیر وکړای شي؛
  - د پيسو اهمیت او دندې به بیان کړای شي؛
  - د اقتصاد له علم، موضوعگانو او ارزښت سره به مینه پیدا کړي؛
  - د خدماتي، مصرفي او پانگه ییزو څیزونو، تولید او توزیع په اړه به مثبت ذهنیت پیدا کړي؛
  - د تولید، وېش، مصرف، پيسو او د هغو له دندو سره به مینه پیدا کړي؛

## ولې د اقتصاد علم زده کوو؟

كُلُوا وَاشْرَبُوا وَلَا تُسْرِفُوا إِنَّهُ لَا يُحِبُّ الْمُسْرِفِينَ (الأعراف : ۳۱)

ژباړه: وخورئ او وڅښئ، خو اسراف مه کوئ ځکه چې خدای تعالی اسراف کوونکي نه خوښوي.

تېرکال ډیر بحثونه د اړتیاوو او د کورنۍ د اړتیاوو په اړه وو. البته اقتصاد پخپله د ټولني له بنسټيزو اړتیاوو، په ځانگړي توگه د کورنۍ اړتیاوو له جملې څخه دی. له همدې امله ده چې د مدني زده کړو د سرب کال اساسي موضوع مو د اقتصاد پېژندنه ټاکلې ده. د نن ورځې لوست د دې پوښتنې په وړاندې کولو سره چې: ولې د اقتصاد علم زده کوو؟ پیل کوو.

### خبرې پرې وکړئ

انسان پخپل مادي ژوند کې ډېرې اړتیاوې لري. د خپل ژوند د دوام لپاره اړ دی چې دغه اړتیاوې پوره کړي. دغې موضوع ته په پاملرنې سره:

- انسان دغه اړتیاوې څرنگه پوره کوي؟
  - د دې اړتیاوو سرچینه څه شی ده؟ څه رنگه کولای شو چې هغه اړتیاوې له منځه یوسو.
- د دغو اړتیاوو د پوره کولو سرچینه هغه امکانات دي چې طبیعت د انسان په واک کې ورکړي دي. دغې موضوع ته په پاملرنې سره له دوو مفهومانو چې: د انسان اړتیاوې او سرچینې یا امکانات دي، سره مخامخ کېږو. له دې امله لازمه ده چې هغه وپېژنو؛

### ۱- دانسان اړتیاوې:

د انسان مادي اړتیاوې، هغه د اقتصادي فعالیت لپاره هڅوي. کله کله انسان داسې فکر کوي چې د وخت په تېرېدو سره، د هغه ټولې اړتیاوې پوره کېږي، خو داسې نه ده. په واقعیت کې د هرې اړتیا له تر سره کېدو سره، بله اړتیا را پیدا کېږي او په دې ترتیب سره، د نوې اړتیا له رابرسېره کېدو سره جوخت انسان د خپل ژوندانه د کچې د لوړېدو لپاره زیات فعالیت تر سره کوي. د بېلگې په توگه: ځینې خلک د ژوندانه له ډېرو لومړنیو امکاناتو څخه بې برخې دي. د دوي بنسټيزه اړتیا، استوگنځی دی چې په هغه کې له یخني، گرمۍ او د څیروونکو حیواناتو څخه په امان کې وي او یو څه عادي خواره ولري چې په هغو سره خپله لوړه لری کړي، خو کله چې دغه اړتیاوې تر سره شوې، نو همدغه انسانان بیا داسې احساس کوي چې د ښه ژوندانه لپاره له دې لوړو او ښو امکاناتو ته اړتیا لري. د بېلگې په توگه: د پخواني استوگنځي په پرتله ښه او بهتر کور ولري. همدارنگه نورې نوي اړتیاوې ورته پیدا کېږي او دی په ډېر شوق او مینې سره د دغو اړتیاوو په پوره کولو پسې خپل لستونې را نغاړي.

✿ د خپلو ټولگيوالو په مرسته د یوې کلیوالي کورنۍ او یوې ښاري کورنۍ د اړتیاوو لست برابر کړئ او بیا یې نورو ټولگيوالوته د خپل استازي په واسطه واورئ.

## ۲- سرچېني او امکانات:

په نړۍ کې د موجودو سرچېنو او امکاناتو په هکله چې انسانان له هغو څخه د خپلو اړتياوو په پوره کولو کې کار اخلي، دوو مهمو ټکو ته اشاره کولای شو. لومړی ټکی دا چې دغه امکانات او سرچېني محدودې دي او د انسان د نامحدودو اړتياوو د پوره کېدو قدرت نه لري. په دې ترتيب سره انسان له دوو ولاړو سره مخ کېږي چې يوه يې بايد غوره کړي. په واقعيت کې هغه نشي کولای چې خپلې ټولې اړتياوې له شتو امکاناتو څخه پوره کړي. له دې کبله هغه خپلې هغه اړتياوې چې د ده په نظر لومړيتوب لري، ترسره کوي. دويم ټکی دا دی چې د انسان په لاس کې موجود امکانات په مختلفو طريقو سره وکارول شي او په دې هکله خپله تصميم ونيسي.

لکه څرنګه چې ووبل شو، د انسان اړتياوې نامحدودې دي او محدود امکانات او سرچېني د هغو د پوره کولو وس نه لري. دلته پوښتنه پيدا کېږي چې: له سرچېنو او امکاناتو څخه د ګټې اخيستني ډېره بڼه لار کومه ده چې د انسانانو لپاره د ژوندانه په زړه پورې شرايط برابر کړي؟ په يقين سره ویلی شو چې په زړه پورې لاره داده چې له دغو سرچېنو څخه په معقولې ګټې اخيستني سره کولای شو چې زياته اندازه توليد لاسته راوړو او د انسان د لوړ او ډېر بڼه ژوند شرايط برابر کړو. انسان د ژوند په اوږدو کې له خپلې فکري قوې څخه په کار اخيستلو سره، تل د يوې بڼې لارې د موندلو په لټه کې و. د دغې فکري هڅې لاسته راوړنه، اقتصادي نظر او مفکوره ده. د بشري تمدن له پرمختګ سره جوخت، د بشر اقتصادي مفکورې هم تکامل وکړ او د اقتصاد د علم نوم د بشر د زده کړو يوه برخه وګرځيده.

❁ په سرچېنو او امکاناتو کې کوم ټکي مهم دي؟ په لنډه توګه يې بيان کړئ.

### د لوست تکرار

- -----
- -----
- -----

### پوښتنې

- ۱- استوګنځی ولې د انسانانو لپاره بنسټيزه اړتيا ده؟
- ۲- د انسانانو په لاس کې د شتو سرچېنو نومونه واخلئ؟
- ۳- له سرچېنو او امکاناتو څخه د ګټې اخيستني ډېره بڼه لار کومه ده؟

### کورنۍ دنده

د اقتصاد د ښېګڼو په باره کې څو کرښې وليکئ.



## د اقتصاد علم د کومو موضوعگانو په اړه بحث کوي؟

الْاِقْتِصَادُ فِي النِّفَقَةِ نِصْفُ الْمَعِيشَةِ (البیهقي و طبرانی).

د خدای رسول فرمایي: په نفقه کې اقتصاد او منځګړي حد (میانه روي) نیمایي ژوند دی. په تېر درس کې مو د دې په هکله چې ولې د اقتصاد علم زده کوو، معلومات ترلاسه کړل. په دې درس کې په دې اړه چې د اقتصاد علم د کومو موضوعگانو په باره کې بحث کوي، بلدتیا پیدا کوی.

### خبرې پرې وکړئ

آیا پوهېږئ چې د اقتصاد علم څه شی دی؟



اقتصاد د تولید، توزیع او خیزونو د مصرف، خپرنې او خرنگوالی همدارنگه د دې ډول فعالیتونو د پایلو د خپرنې علم دی. د دغې علم موخه انسان ته له خپلو سرچینو او امکاناتو څخه د ښې ګټې اخیستنې لارښوونه ده.

د اقتصاد علم هم د هر بل علم په څېر، د ټاکلو موضوعگانو په اړه بحث کوي، یا په بل عبارت ځانګړو پوښتنو ته د ځواب ورکولو په خاطر، طرحه شوی دی. د هغو موضوعگانو د پېژندګلوي لپاره چې د اقتصاد علم یې خبرې، د ټولنې د اقتصاد یو ساده انځور په پام کې نیسو: د ټولنې خلک د کورنۍ په چوکاټ کې د خپلو اړتیاوو د لرې کولو لپاره ځانګړو خیزونو او خدمتونو ته اړتیا لري. دوی د خپلې اړتیاوړ خیزونو او خدمتونو برابرولو او ګټې اخیستنې لپاره پیسې ورکوي. د فابریکو تولید وونکي د ګټې په خاطر، د خلکو د اړتیاوړ خیزونه او خدمتونه تولید او عرضه کوي. دغه خیزونه او خدمتونه بازار ته وړاندې کوي او پلوري یې. کله چې د اقتصاد دغه ساده انځور ته پام وکړو، ګڼ شمېر پوښتنې را سره پیدا کېږي چې له هغې جملې څخه کولای شو لاندې ټکي په ګوته کړو.

- خلک څرنگه د یو څیز د اخیستو او یا نه اخیستو په اړه تصمیم نیسي او څرنگه د هغه څیز اندازه چې باید وایي خلي، ټاکي؟
  - تولید وونکي څه ډول د یو څیز د تولید او یا د تولید د کچې په اړه تصمیم نیسي؟
  - ولې د ځینو څیزونو اندازه په بازار کې زیاته او ځینې ډېر لږ وي، په سختي سره پیدا کېږي؟
  - ولې ځینې تولیدي فابریکې زیاته ګټه کوي، ځینې یې تاوان کوي او له ماتې سره مخ کېږي؟
  - ولې په ځینو ټولنو کې تولید فوق العاده زیات او په ځینو کې لږ دی؟
  - ولې د ځینو هېوادونو د پېسو قیمت ثابت او د ځینو په بدلون کې دی؟
- دغه پوښتنې او دغو ته ورته نورې ډېرې پوښتنې د اقتصادي څیړنو په چوکاټ کې صورت نیسي. د اقتصاد علم هڅه کوي چې دغو هرې یوې پوښتنې ته مناسب ځواب پیدا او وړاندې کړي. په لنډه توګه ویلی شو چې تولید، وېش، راکړه ورکړه، لګښت، د شتمنۍ سپما او پس اندازه خپرل او داسې نور د اقتصاد د علم موضوعګانې جوړوي.

## د لوست تکرار

- ●
- ●
- ●

## پوښتنې

- ۱- د اقتصاد د علم موضوع ولیکئ.
- ۲- د اقتصاد علم تعریف کړئ.
- ۳- د اقتصاد د علم موخه بیان کړئ.

## کورنۍ دنده

هغه پوښتنې چې د اقتصادي مطالعاتو په چوکاټ کې لوستل کېږي، په څو کرښو کې ولیکئ.

## د اقتصاد اهميت

په تېر درس کې مو په دې هکله چې د اقتصاد علم په کومو موضوعگانو باندې بحث کوي، معلومات ترلاسه کړل. په دې لوست کې د اقتصاد له اهميت سره بلدېږئ.

### خبرې پرې وکړئ

### د اقتصاد اهميت څه شی دی؟

په اوسنۍ نړۍ کې د اقتصادي مسايلو د ورځ په ورځ زياتېدونکي اهميت له لاملونو څخه يو هم د ملتونو د ژوندانه پر ټولو برخو، په ځانگړې توگه پر ټولنيزو، سياسي او فرهنگي اړخونو د اقتصادي لاملونو اغېز دی.

کوم هېواد چې اقتصادي حالت يې ښه نه وي، د هر اړخيز پرمختگ پر لوري حرکت نه شي کولای او له سياسي او ټولنيز پلوه له سترو ستونزو مخامخ کېږي.

د اقتصاد د علم اهميت پدې کې دی چې په اقتصادي مسايلو کې انسان ته ښه او گټوره لار وښيي. انساني ټولني د دغه علم په مرسته کولای شي چې له محدودو سرچينو څخه د گټې اخيستنې مناسبې لارې چارې ترلاسه کړي او د غوره او په زړه پورو پايلو په ترلاسه کولو کې ترې کار واخلي. الله (جل جلاله) پنځل کتاب قرآن کریم کې پدې هکله داسې فرمايلي دي: **وَلَا تَجْعَلْ يَدَكَ مَغْلُولَةً إِلَىٰ عُنُقِكَ وَلَا تَبْسُطْهَا كُلَّ الْبَسْطِ فَتَقْعَدَ مَلُومًا مَّحْسُورًا** د اسراء سوره ۲۹.

ژباړه: لاسونه دې په خپله غاړه پورې مه بندوه او مه يې ډېر خلاصوه په ټولو خلاصولو سره، چې په دې صورت کې به ملامت کيږي (د شومتيا له مخې) او سترې به پاتې شي (د ډېر لگښت له مخې). الله تعالی پدې مبارک آيت کې مسلمانانو ته په اقتصاد او لگښت کې د منځلاريتوب امر کړی دی.

بخل يا بخيلي يې بده بللې ده، اسراف او له حده زيات خرڅ او مزې چرچې يې منعه کړيدي. اسلام د رحمت او عدالت دين دی. د شتمنی د ساتنې لپاره يې انډول (توان) په پام کې نيولی او مسلمانانو ته يې لارښوونه کړې چې د کورني لگښت او له اړو خلکو سره په مرسته کولو کې له منځلاريتوب څخه کار واخلي. بخيلي، اسراف او مزې چرچې په اسلام کې جواز نه لري. د اسلام ستر پيغمبر مسلمانان د اقتصاد په لور داسې هڅولي او فرمايي چې: **(مَاعَالٍ مِنْ اِقْتِصَادٍ)** هر هغه څوک چې په اقتصاد کې له منځلاريتوب څخه کار واخلي، اړ او محتاج کېږي نه.

اسلام نیستی هغه خطر بولي چې د انسان اعتقادات گواښوي؛ زموږ ستر پیغمبر پدې اړه داسې فرمایلي دي: (کاد الفقر آن یكون کفرا) (بیهقی).

ژباړه: فقري یا نیستی انسان کفر ته نږدې کوي.

د اسلام سپېڅلی دین د فقر او نیستی د له منځه وړلو او هوسا ژوند ته د رسېدو په لار کې هڅه او هاند ښه بللی دی او هغه څوک چې د خپلې کورنۍ د ژوندانه د ښه کېدو په لار کې کوښښ کوي، د هغه چا غوندې دي، کوم چې د الله (جل جلاله) په لار کې جهاد کوي او د درنښت وړ دی.

رسول الله صلی الله علیه وسلم ويلي دي: «من سعی علی عیاله ففی سبیل الله» (بیهقی)

ژباړه: څوک چې د خپلې کورنۍ د اړتیاو د پوره کولو لپاره کوښښ کوي هغه داسې دی لکه چې څوک د الله جل جلاله په لاره کې قدم پورته کوي.

❁ د خپلو ټولگيو الو په مرسته د اقتصاد د اهميت په اړه يوه څلور کرښيزه مقاله وليکئ.

## د لوست تکرار

- 
- 
- 

## پوښتنې

- ۱- د اقتصاد علم ولې اهمیت لري؟ یو دلیل یې ولیکئ.
- ۲- د اسلام پیغمبر محمد ﷺ هغه حدیث شریف چې مسلمانان یې په کې اقتصاد ته هڅولي دي له ژباړې سره بیان کړئ.

- ۳- د غریبې (فقر) په هکله چې موکوم حدیث شریف لوستلی دی، له ژباړې سره یې ولیکئ.

## کورنۍ دنده

د اقتصاد په اړه د اسلام له نظره څو کرښې معلومات ولیکئ.



## د څیزونو او خدمتونو اقتصادي مفهوم

( نعم العون علی تقوی الله عزوجل الغنی ) (مسند ابن الجعد جزء ۱، ۲۵۵ مخ)

ژباړه: د الله تعالی د تقوی په حاصلولو کې غنا (شتمنی) ښه مرسته کونکې ده. په تېر لوست کې مو د اقتصاد د اهمیت په هکله معلومات ترلاسه کړل. په دې درس کې د څیزونو او خدمتونو له اقتصادي اهمیت سره بلدېږئ.

### خبرې پرې وکړئ څیزونه څه شی دي؟

د انسان ځیني مادي اړتیاوې د هغو محصولاتو او مختلفو توکو د مصرف کولو له لارې تر سره کېږي کوم چې تولید وونکي یې تولیدوي او بازار ته یې عرضه کوي د بېلگې په توګه: انسان خپله خوراکي اړتیا د خوراکي مختلفو توکو د خوړولو له لارې پوره کوي. کتاب، کتابچه، قلم، لباس، د لوبو شیان، توپ، دستکش، کمیس او ډول ډول مېوې، دا واره څیزونه دي. په بله ژبه ټول هغه وسایل چې بنسټیزې اړتیاوې په مستقیم یا غیر مستقیم ډول دفعه کوي، څیزونه ورته وېل کېږي. د دغو څیزونو د لاسته راوړلو لپاره باید د هغو تولید وونکو او یا عرضه کونکو ته پیسې ورکړو.

❁ د خپلو ټولګیوالو په مرسته د لسو څیزونو نومونه ولیکئ او نورو زده کونکو ته یې واوروئ.

### آیا پوهېږئ چې خدمتونه څه شی دي؟

هر هغه څه چې انسان یې په پیسو اخلي او د هغو پواسطه خپله اړتیا پوره کوي، یوازې په فزیکي څیزونو کې نه خلاصه کېږي. د بېلگې په توګه: انسان زده کړې ته اړتیا لري او د دې اړتیا لري کولو لپاره د زده کړې مختلفو کورسونو ته



ورځي او د پيسو په بدل کې د خپلې اړتيا وړ زده کړې ترلاسه کوي. زده کوونکي د کانکور د ازموينې د تياري لپاره د الجبر، کيميا او مثلثاتو د تياري نيولو کورسونو ته ورځي او د پيسو په بدل کې د خپلې اړتيا وړ زده کړې، زده کوي. په دې مثالونو کې يې د لمس ورځيان نه دي رانيولي، بلکې د هغو پيسو په بدل کې چې ورکړي يې دي، خپله پوهه يې زياته کړي ده. هغه خدمتونه چې طبيبان يې تر سره کوي، هم له همدې ډلې څخه دي. د لوست په ټولگي کې د ښوونکو کار او فعاليت، په دولتي ادارو کې د مامورينو کارکول او داسې نورې بيلگې له هغو اقتصادي فعاليتونو څخه دي چې په پايله کې يې د خدمتونو په نامه څيز عرضه کېږي.

❁ د خپلو ټولگيوالو په مرسته د شپږو خدمتونو نومونه لست کړی او نورو زده کوونکو ته يې واوروئ.

### د لوست تکرار

- ●
- ●
- ●
- ●

### پوښتنې

- ۱- کالي څه شی دي؟
- ۲- د څيزونو او خدمتونو څو بيلگې بيان کړئ.
- ۳- خدمتونه څه شی دي؟ له مثال سره يې واضح کړئ.

### کورنۍ دنده

هغه څيزونه چې تاسې پخپل کور کې ترې گټه پورته کوئ، څومره يې زموږ د خپل هېواد او څو مره يې د بهرنيو هېوادونو دي؟ لست يې کړئ.

## مصرفي او پانگه ييز خيزونه

### الْمَالُ وَالْبُنُونُ زِينَةُ الْحَيَاةِ الدُّنْيَا (الكهف: ٤٦)

ژباړه: شتمني او اولاد د دنيا د ژوندانه ښکلا او سينگار دی. په تېر درس کې مو د خيزونو او خدمتونو د اقتصادي مفهوم په هکله معلومات ترلاسه کړل. په دې درس کې د مصرفي، پانگه ييزو، ضروري او تجملي خيزونو سره بلدېږئ.

### خبرې پرې وکړئ

### مصرفي او پانگه ييز خيزونه کوم دي؟

هغه خيزونه چې د خرڅلاو په خاطر بازارته وړاندې کېږي، امکان لري چې د مصرف کوونکو له خوا واخيستل شي او په مصرف ورسېږي، يا دا چې نور توليدوونکي د نورو مختلفو خيزونو د توليد لپاره هغه واخلي او گټه ترې پورته کړي. د بېلگې په ډول: هغه خواړه او کالي چې کورنۍ او د ټولني خلک يې برابرې او مصرفوي يې، مصرفي خيزونه ورته وېل کېږي. پانگه ييز خيزونه هغه دي چې د توليد په بهير کې (د خيزونو د توليد لپاره) په کارول کېږي او په غير مستقيم ډول مصرفېږي. د پانگه ييزو خيزونو له توليد څخه موخه ماشينونه او په وروستۍ پايله کې، مصرف دی.

✽ د خپلو ټولگيوالو په مرسته مصرفي خيزونه له واسطه يې خيزونو سره پرتله کړئ.

### اړين (ضروري) او تجملي خيزونه

هغه خيزونه چې لومړنۍ اړتياوې پوره کوي، لکه: خواړه، کالي، استوگنځۍ او داسې نور، د اړينو خيزونو په نامه يادېږي.

تجملي خيزونه: هغه گران او غير ضروري خيزونه، لکه: گاڼې، لوړپيه موټران، ښکلې ماڼۍ او ډولي کورونه، د سينگار سامانونه او داسې نور... وي.

### د مصارفو هزينه

کله چې له موجودو زيرمو او امکاناتو څخه



چې په مختلفو ډولونو د مصرفولو وړتیا لري یوازې د یوه کار په ترسره کولو کې کار واخلو په واقعیت کې مو له نورو مصرفونو او هغو پایلو څخه چې له دې لارې ترلاسه کیدای شول، صرف نظر کړی دی. د بېلګې په توګه: که چېرې مو کومه ځمکه د پنبې د کرلو لپاره ځانګړې کړې وي، عملاً مو د هغو غنمو له کرلو څخه چې له دې ځمکې څخه مو ترلاسه کولای شول، صرف نظر کړی دی او یا که چېرې مو خپلې پیسې د پتلون او کمیس لپاره ځانګړې کړې وي، د کتاب، کتابچې له اخیستلو او هغه ګټې څخه چې له هغو مو ترلاسه کولای شوه بې برخې شوې یو. له لاسه وتلې د فرصت مصارف هغه څه را په ګوته کوي چې له هغه څخه مو صرف نظر کړی دی او یا دا چې هغه مو له لاسه ورکړي دي. د پنبې په مثال کې د پنبې کرلو په هکله پرېکړې سره، د غنمو له حاصل څخه محروم شوي یو، د پنبې کرلو د فرصت مصارف د هغې غنمو په اندازه دي چې له هغو څخه مو صرف نظر کړی دی.

## د لوست تکرار

- ●
- ●
- ●
- ●

## پوښتنې

- ۱- د پنځو مصرفي څیزونو نومونه واخلي.
- ۲- ضروري یا اړین څیزونه څه شی دي؟
- ۳- لازمي او یا هم د لګښت پیسې څه معنا لري؟

## کورنۍ دنده

د پانګه ییزو او تجملي څیزونو په اړه څو کرښې د مثال په وړاندې کولو سره ولیکئ.



## توليد، توزیع او مصرف

وَأَنْ لَّيْسَ لِلْإِنْسَانِ إِلَّا مَا سَعَى (النجم: ۳۹)

ژباړه: او دا چې د انسان لپاره هېڅ ګټه نشته بېله هغې څه چې خپله یې کړي وي او د هغې لپاره یې هڅه کړي وي.

په تېر درس کې مو د مصرفي او پانګه ییزو څیزونو په اړه معلومات حاصل کړل. په دې لوست کې د تولید، توزیع او مصرف له اقتصادي اصطلاحگانو سره بلدېږئ.

### خبرې پرې وکړئ

لکه څرنګه چې پوهېږئ، انسان ډېر کارونه، د خپلې مادي هوساینې او اړتیاوو د پوره کولو لپاره سرته رسوي. د بېلګې په توګه: د خوړو، کالیو، استوګنځي، پیسو او شتمنۍ پیدا کول د مادي هوساینې لپاره ترسره کېږي، له دې کبله:

- آیا کولای شو له هغو سرچینو او امکاناتو څخه چې په طبیعت کې شته، نېغ په نېغه ګټه ترلاسه کړو؟

- دغه سرچینې او د استفادې وړ شیان د چا له خوا، په کوم ځای کې تیارېږي؟

### تولید څه شی دی؟

تولید له هغو فعالیتونو څخه عبارت دی چې په پایله کې د جوړونې، څیزونو او مطلوبو خدمتونو د لاس ته راوړلو لامل ګرځي. تولید د بشر د اړتیاوو په پام کې لرلو سره صورت نیسي. د دې لپاره چې وکړای شو د خپلې اړتیا وړ څیزونه او خدمتونه له شتو امکاناتو او سرچینو څخه په ګټې اخیستنې سره ترلاسه کړو، کار او زیارته اړتیا لرو. په بل عبارت، دغه سرچینې څرنګه چې دي، نشي کیدای چې په همدې ډول زموږ د استفادې وړ وګرځي او زموږ اړتیاوې پوره کړي، بلکې کولای شو چې هغه د یو لړ کارونو او فعالیتونو په سرته رسولو سره د خپلې اړتیاوې شیانو باندې واړوو. دا ډول فعالیتونه چې په سرچینو باندې د اړتیاوې شیانو د بدلېدو لپاره ترسره کېږي، له تولید څخه عبارت دي. د تولیدي فعالیتونو له لارې، د بشري ټولنې د اړتیاوې څیزونه او خدمتونه، ترسره کېږي. کرنیز، صنعتي او کاني محصولات او وروستني خدمتونه، دا ټول د تولیدي فعالیتونو لاسته راوړنه ده.

### وېش څه شی دی؟

وېش د خلکو په منځ کې د ملي عایداتو له تقسیم او هغو ته له سپارلو څخه عبارت دی. ملي عایدات د اقتصادي څیزونو او خدمتونو هغه مجموعه ده چې په یوه ټاکلې زمانه کې مثلاً: د یو کال په موده کې په یو هېواد کې تولیدېږي او په ټولیز ډول هغه د پیسو د معیار له مخې څرګندوي. په ډېرو هېوادونو کې ډیر خلک په هغو ډلو کې شاملېږي چې لږ عاید ترلاسه کوي او لږ

شمېر خلک، په هغو ډلو کې گډون لري چې زيات عايد لاسته راوړي او د عايد وېش يې نابرابره وي. کله چې د يوې ټولنې د خلکو د هوساينې کچه ټاکو، لازمه ده چې د هغې ټولنې د فقر يا نېستي له وضعي او د هغې د عايد له وېش څخه معلومات لاسته راوړو. ځکه په هغه ټولنه کې چې فقر لږ او د عايداتو وېش عادلانه وي، د وگړو هوساينه به يې ډيره وي.

د دې لپاره چې يو خيز د مصرف لپاره تيار شي، کوم پړاوونه بايد ووهي؟

### لگښت څه شی دی؟

لگښت د موجودو اسانتياوو څخه گټه اخېستل دي چې د اوسنيو او روانو اړتياوو له رفع کولو څخه عبارت دی: توليد وونکي بايد د فابريکې په نامه کوم ځای واخلي او يايې اجاره کړي؛ ماشينونه او نور د اړتيا وړ وسايل او يوه اندازه لومړني مواد واخلي او يو شمېر مامورين او کارگران هم په کار وگماري. هغه پيسې چې توليد وونکي يې د توليد په خاطر لگوي، د توليد لگښت يې بولي. کله چې توليد وونکي د خيزونو او وسايلو عرضه کولو ته تياری ولري او په بازار کې هغو خيزونو ته تقاضا وي، تقاضا کوونکي د خيزونو په بدل کې د پيسو ورکړې ته چمتو وي، په دې صورت کې ويلي شو چې نوموړي خيزونه او وسايل لگښت ته تيار دي.

❁ د خپلو ټولگيو الو په مرسته د مصرف نور ډولونه بيان کړئ.

### د لوست تکرار

- ●
- ●
- ●
- ●

### پوښتنې

- ۱- د توليد په واسطه زموږ کومې اړتياوې پوره کېږي؟
- ۲- که ملي عايدات په عادلانه توگه توزيع نه شي، څه به پېښ شي؟
- ۳- لگښت څه شی دی؟

### کورنۍ دنده

توليد، توزيع او لگښت يو له بله سره څه اړيکې لري؟ په دې اړه څو کرښې وليکئ.

## عرضه او تقاضا

وَلَا تَنسَ نَصِيبَكَ مِنَ الدُّنْيَا ( القصص: ۷۷ )

ژباړه: او له دنيا څخه دې هم خپله برخه مه هېروه.  
په تېر درس کې مو د تولید، توزیع او مصرف په هکله معلومات حاصل کړل. په دې درس کې د عرضې او تقاضا له اقتصادي اصطلاحاتو سره بلدېږئ.



### تقاضا څه شی دی؟ خبرې پرې وکړئ

لکه څرنګه چې په تېر درس کې وویل شول، انسان یو اړ موجود دی. دغه اړتیاوې له طبیعت څخه چې یوه خدایي ډالۍ ده، پوره کوي، دلته دا پوښتنې پیدا کېږي چې:

۱- ایا د دغو اړتیاوو د پوره کولو څیزونه او وسایل له کوم زیار پرته په وړیا توګه د انسان لاسته ورځي؟

۲- څه ډول دغه د اړتیا وړ څیزونه او وسایل لاسته راوړای شو؟

که څه هم اړتیا د ټولو اقتصادي فعالیتونو اصلي لامل دی، خو اړتیا په یوازې توګه د اقتصادي ماشینونو څرخونه نشي څرخولی، بلکې مخکې له دې چې تولید پیل شي او شتمنۍ او یا مال لاسته راشي، اړتیا یا غوښتنه باید د تقاضا په شکل را جوته شي.

د اخیستلو اراده، مثلاً: په یو هېواد کې یو میلیون کسه ګرندیو موټروته اړتیا او یا غوښتنه لري، خود ګرندیو موټرو تولیدونکي دومره موټران نه تولید وي بلکې دوی د هغو خلکو د شمېر او تعداد په کچه موټر تولیدوي، کوم چې نو موری موټرونه هم اخیستلي شي او هم د هغو د اخیستلو اراده ولري.

له دې امله تقاضا هغه ډول اړتیا یا غوښتنه ده چې د اخیستلو وس ولري او اخیستل یې اراده وي، نو ویلی شو چې په اقتصاد کې هر کله چې د تقاضا نوم اخیستل کېږي، موخه یې داوي چې اخیستونکي حاضر دي چې د اړتیا وړ شیانو یوه برخه په مناسب قیمت سره واخلي.

**د تقاضا ارتجاعیت:** تقاضا ته هغه وخت ارتجاعي وایي چې د یوه شي په قیمت کې لږ تغیر په بازار کې د تقاضا قوت ته ډیر تغیر ورکړي؛ د بېلګې په توګه: که چېرې د اعلی و رېښمین او یا وړین ټوکر بیه ډېره لوړه شي، د خلکو تقاضا د هغه د اخیستلو لپاره را ټیټېږي او د هغې پر ځای به ارزان بیه ټوکران واخلي. د هغې پر عکس د قیمتونو د ټیټېدو په صورت کې به د هغو د اخیستو لپاره د خلکو تقاضا ډیره شي. نو دا ډول تقاضا ته چې د څیزونو د قیمت د پورته او ښکته تلو په اثر ډېره جګه او ټیټه کېږي، (ارتجاعي تقاضا) وایي. د دې پر عکس که د یوه څیز د نرخ د زیات ښکته او پورته تلو په اثر د پېرلو غوښتنه (تقاضا) ډېر توپیر ونه کړي، نو وایي چې غوښتنه ارتجاعي نه ده.

د بېلگې په توګه: دا وړو نرخ که ډېر هم پورته لار شي، بيا هم خلک اړ دي چې اوږه وپېري، له دې امله د اوږو د بېي د ډېر جیګډلو په اثر په غوښتنه کې څه ځانګړې توپير نه راځي. همدارنګه که د اوږو بيه ډېر ټيټه هم شي، خو خلک د خپلې همغې يوې اندازې څخه زيات نه اخلي.

**عرضه:** عرضه په اقتصاد کې د يوه څيز هغې اندازې ته ويل کېږي چې په يوه وخت او يوه ټاکلي نرخ د پلورلو لپاره تياروي. لکه څنګه چې ( اړتيا او خواهش) له غوښتنې ( تقاضا) څخه توپير درلود، عرضه هم ( د څيزونو دغونډولو او برابرولو) څخه توپير لري، په دې ډول د څيزونو غونډولو ته هغه وخت عرضه وايي چې د هغو خاوند د هغو د پلورلو اراده وکړي.

**د عرضې ارتجاعي والی:** د تقاضا په شان په عرضه کې هم چې کله په بيه کې بدلون راشي، په دې معنا چې نرخ جګ شي، عرضه زياتېږي. کله چې نرخ را ټيټ شي، عرضه لږېږي. نو دې ته وايي چې عرضه ارتجاعي ده. خو که د نرخ د بدلېدو سره عرضه سمدلاسه توپيرونه کړي، نو عرضه غير ارتجاعي بولي، لکه اوږه چې په بازار کې يې د بېي په پورته او ښکته تللو سره د هغو عرضه ډېر توپير نه کوي او اخیستونکي مجبور دی، خپل د اړتيا وړ اوږه اخلي. خو په عمومي ډول د صنعتي ډېرو څيزونو عرضه د هغو د نرخ په بدلېدو سره توپير کوي. يعنې که بيه يې پورته شي عرضه يې ډېرېږي او که بيه ټيټه شي بازار ته يې راوړل لږېږي. خو د اومو او کرنيزو څيزونو عرضه دومره ژر توپير نه کوي. بلکې د بنسټيز بدلون لپاره يې ډير وخت ته اړتيا وي.

### د لوست تکرار

- ●
- ●
- ●
- ●

### پوښتنې

- ۱- تقاضا څه شی ده؟
- ۲- عرضه څه شی ده؟
- ۳- د عرضې ارتجاعي والی څه شی دی؟

### کورنۍ دنده

کله چې د څيزونو بېي لوړېږي، عرضه او تقاضا څه حالت ځانته غوره کوي؟



## د پيسو اهميت او دندې

په تېر درس کې مو د عرضې او تقاضا په هکله معلومات ترلاسه کړل. په دې درس کې د پيسو له اهميت او دندو سره بلدېږئ.

### خبرې پرې وکړئ

کله چې توليدوونکي او توزيع کوونکي خپل تيار شوي څيزونه بازار ته وړاندې کوي، موږ څه ډول او د څه شي په بدل کې کولای شو چې د خپلې اړتياوږ څيزونه ترلاسه کړو؟  
**پيسې څه اهميت لري؟**

پيسې هغه وسيله ده چې د مبادلې د واسطې رول لوبوي او په اوسني اقتصاد کې مهم او اساسي نقش لري. د اقتصادي ډگر فعالان، توليدوونکي او توزيع کوونکي د خپلو هغو خدمتونو په بدل کې چې وړاندې کوي، پيسې ترلاسه کوي او مصرف کوونکي د پيسو په ورکړې سره هغه څه چې اړتيا ورته لري، اخلي. له پيسو پرته له پورتنۍ ذکر شوي ډلې څخه هر يو يې له ستونزو سره مخ کېږي. پيسې د خپل حساس او څرگند نقش په اجرا کولو سره، د اقتصادي فعاليتونو شرايط او د هغو د پراختيا لاره برابروي.

کېدای شي دغه ټکی ستاسې په فکر کې راوگرځي چې د شيانو يو له بل سره د بدلېدو له لارې کولای شو چې راکړه ورکړه ترسره کړو. په دې ترتيب سره په اقتصادي ډگر کې د پيسو موجوديت ته اړتيا نشته. بايد دېته پام ولرو چې جنس په جنس راکړه ورکړه له ستونزوسره مل ده؛ د بېلگې په توگه: داسې څوک چې يوه اندازه اضافي غنم لري او غواړي چې هغه په وريزو بدل کړي، بايد هغه څوک پيدا کړي چې اضافه وريزې ولري او په ضمن کې دېته حاضر وي چې هغه په غنمو بدلې کړي. دغه کار ډېر ستونزمن دی او د پوره کيدو لپاره يې زيات وخت ته اړتيا ده. سربېره پردې د ارزښت د سنجولو لپاره کوم معيار وجود نه لري. که څوک وغواړي چې خپلې وريزې له غنمو سره بدلې کړي، نو په بشپړ توگه به نه پوهېږي چې څومره وريجې له څو مره غنمو سره بدلې کړي؟ څرنگه چې د جنس په جنس راکړه ورکړه له ستونزو سره مل ده، نو بشر د هغې ستونزې د له منځه وړلو لپاره پيسې د مبادلې د وسيلې په نامه، وټاکلې.

✿ د خپلو ټولگيوالو په مرسته په اقتصادي فعاليتونو کې د پيسو د رول په هکله خپل نظر بيان کړئ.

### د پيسو د دندو په هکله څومره پوهېږئ؟

۱- **پيسې د راکړې ورکړې وسيله:** کله چې يو څوک کوم څيز پلوري، نو د هغې په بدل کې پيسې ترلاسه کوي. د پيسو په وسيله کولای شئ چې د خپلې اړتيا وړ څيزونه واخلي. خلک پخپلو معاملو او راکړو ورکړو کې پيسې مني، ځکه نور خلک به هم د راکړې ورکړې پر مهال هغه ومني. په راکړه ورکړه کې د پيسو اصلي اغيز، د راکړې ورکړې اسانول دي.


### ۲- پيسې د ارزښت د ارزولو وسيله

د پيسو په وسيله کولای شو د څيزونو ارزښت مشخص کړو؛ د بېلگې په توگه: يو من کچالو په سل افغانۍ، يو من بڼې وريزې په درې سوه پنځوس افغانۍ؛ اوس کولای شو د هغوي نسبي ارزښت وسنجوو. د پيسو دغه عمل د مختلفو څيزونو پلورلو او رانيولو کار اسانوي. هر هېواد ځانته د پيسو ځانگړی واحد لري. د بېلگې په توگه: اروپايي هېوادونه اېرو، د امريکا متحده ايالتونه ډالر، زموږ د خپل هېواد د پيسو واحد افغانۍ ده.

### ۳- پیسې د سپما او ارزښت ساتلو وسیله

خلک ډول ډول اړتیاوې لري چې د پیسو په ورکړې سره هغه پوره کوي. ځینې اړتیاوې ورځنۍ وي او ځینې نورې د وخت په تېرېدو سره را منځته کېږي. سړي د تل لپاره یوه اندازه پیسې د هغو د پوره کولو لپاره له ځان سره ساتي. په ورځنیو لگښتونو سر بېره ځینې نور نا ځاپي لگښتونه هم شته چې په ځانگړو وختونو کې رامنځته کېږي. خلک له پیسو څخه په مناسب وخت کې د ارزښت ساتلو د وسیلې په نامه گټه اخلي.

### ۴- پیسې د سمدستي ورکړې وسیله

په هغه صورت کې چې پیسې ارزښت وساتلی شي، کولای شي چې د سمدستي ورکړې لپاره هم مناسبه وسیله شي، ځکه چې ډېرې سوداگريزې معاملې د سمدستي ورکړې په مقابل کې ترسره کېږي. په قسطونو اخیستل او د بانکي حوالو رد او بدل کول له همدې ډول څخه شمېرل کېږي.  په پورتنیو دندو سر بېره، د پیسو په وسیله زموږ نورې کومې اړتیاوې پوره کېږي؟ لیست یې ترتیب او ملگروته یې واوروئ.

#### د لوست تکرار

-----  
-----  
-----

#### پوښتنې

- ۱- پیسې څه شی دي؟
- ۲- د پیسو اهمیت بیان کړئ.
- ۳- د پیسو د دندو یوازې نومونه واخلئ.

#### کورنۍ دنده

د پیسو ارزښت سنجولو وسیله څه مفهوم لري؟ په دې هکله خپل معلومات ولیکئ او نورو ته یې واوروئ.

### د لومړي څپرکي لنډيز

- اقتصاد، د تولید، توزیع او مصرف د څیزونو د مصرف اړوند څېړنې او څرنگوالي علم او همدارنگه د دا ډول فعالیتونو د بررسي، علم دی.
- د انسان مادي اړتیاوې، د هغه د اقتصادي فعالیت هڅوونکي دي.
- د څیزونو او خدمتونو تولید، د بشر د اړتیاوو په پام کې نیولو په صورت کې عملي کېږي.
- په هغه ټولنه کې چې غریبي لږه او د عایدو پښه عادلانه وي، د هغې ټولني د خلکو ژوند به هوساوي.
- مصرف یو مقدار پیسې دي چې باید له لاسه یې ورکړو ترڅو وکولای شو د هغې په بدل کې کوم بل شی لاسته راوړو او یا یې تولید کړو.
- تقاضا د جنس اخیستنې له وس لرلو څخه عبارت ده، په داسې حال کې چې د اخیستنې غوښتنه (اراده) هم موجوده وي.
- عرضه په اقتصاد کې د څیزونو له هغې اندازې څخه عبارت ده چې په یوه وخت او ټاکلی قیمت سره، خرڅلاوته تیاروي.

## دویم څپرکی (ښوونه او روزنه)

په دغه څپرکي کې لاندې درسونه لولئ:

- ښوونه او روزنه څه ته وايي؟
- په افغانستان کې د ښوونې او روزنې لنډ تاريخ
- په ښوونه او روزنه کې د کورنۍ رول
- په ښوونه او روزنه کې د مدرسې رول
- په ښوونه او روزنه کې د چاپېريال رول
- اخلاقي او ټولنيز تربيت؛
- د اړينو پوهنيزو او مهارتي موخو زده کول
- د ابتکار د روحيې روزنه

## د خپرکي موخې

زده کوونکي به د دې خپرکي له لوستلو وروسته په لاندې موضوعگانو پوه شي:

- په ښوونه او روزنه او د هغې په تاریخچه به وپوهېږي؛
- په ښوونه او روزنه کې به د کورنۍ، مدرسې او چاپېریال په رول پوه شي؛
- په اخلاقي، ټولنیزې روزنې او اړینو پوهنیزو او مهارتي موخو به پوه شي؛
- د ابتکار یا نوښت د روحيې روزنه به تشریح کړای شي؛
- ښوونه او روزنه به یو له بله بېل کړای شي؛
- د ښوونې او روزنې تاریخچه به بیان کړای شي؛
- په ښوونه او روزنه باندې د کورنۍ، مدرسې او چاپېریال رول به یو له بله څخه بیل کړای شي؛
- اخلاقي او ټولنیزه روزنه او اړینې پوهنیزې او مهارتي موخې به یو له بله څخه توپیر کړای شي؛
- د نوښت د روحيې روزنه به توضیح کړای شي؛
- له ښوونې او روزنې سره به مینه پیدا کړي؛
- پر ښوونه او روزنه کې به د کورنۍ، مدرسې او چاپېریال د اغیز له پېژندلو سره به مینه پیدا کړي؛
- له اخلاقي او ټولنیزو روزلو، اړینو پوهنیزو او مهارتي موخو په باب به مثبت ذهنیت پیدا کړي؛
- د نوښت د روحيې له روزنې سره به مینه پیدا کړي؛



## ښوونه او روزنه څه ته وايي؟

يَرْفَعُ اللَّهُ الَّذِينَ آمَنُوا مِنْكُمْ وَالَّذِينَ أُوتُوا الْعِلْمَ دَرَجَاتٍ (المجادله: ١١)  
ژباړه: خدای تعالی مومنو او د پوهې لرونکو کسانو ته لوړ مقام او درجې وربخښي.

په تېر درس کې مو د پیسو د اهمیت او د هغو د کارونې په هکله معلومات لاسته راوړل. په

دې درس کې د ښوونې او روزنې په باره کې معلومات ترلاسه کوئ.

### خبرې پرې وکړئ

● انسان ولې د ژوند د پایښت لپاره ښوونې او روزنې ته اړتیا لري؟

● که چېرې انسان ونه روزل شي، په ژوند کې له کومو ستونزو سره مخامخ کېږي؟

انسان د ژوند د پایښت لپاره ښوونې او روزنې ته اړتیا لري. د هغه لپاره له ښوونې او روزنې څخه پرته بله هېڅ با ارزښته کلمه نشته.

ښوونه او روزنه د بشر د خلقت له پیل څخه له

هغه سره ملګرې ده، دلته پوښتنه رامنځته کېږي چې: ښوونه څه ته وايي؟ روزنه څه ته وايي؟

### ښوونه څه ته وايي؟

ښوونه په لغت کې یو چا ته د پوهې او یا مهارت ورزده کولو ته وايي. په اصطلاح کې له هغه هڅې او زیار څخه عبارت ده چې ښوونکي یې زده کوونکو ته د پوهې او معلوماتو د لېږدولو په موخه سرته رسوي یا په بل عبارت: ښوونه د پوهې، مهارت او ذهنیت څخه عبارت دی.

### تربیت یا روزنه څه ته وايي؟

په ټولنه کې د ښې ښوونې او روزنې په موخه د کوچنی چمتو کول او یا په هغه کې د مثبت بدلونونو راوستلو ته روزنه وايي.

راتلونکي نسل باید د اسلام د سپیڅلي دین د لارښوونو په رڼا کې سره داسې وروزل شي چې د دیني ارزښتونو او د عصر او زمان له غوښتونو سره سم خپل خیر او ښیګڼه د اسلام د مقدس دین په رڼا کې ولټوي. د ماشوم شخصیت ته درناوی د اسلامي روزنې له اصولو څخه ګڼل کېږي چې دا چلند د ماشوم په تربیه او روزنه کې ډېره اغیزه لري.



## د ښوونې او روزنې تر منځ توپیر

ښوونه او روزنه د علمي مفهوم له پلوه یو له بله سره نږدې او یو د بل لازم او ملزوم دي. د خبرو کولو پر مهاله ښوونه پر روزنه باندې لومړیتوب لري خو په عمل کې روزنه لومړنۍ ده ځکه چې روزنه د پراخې معنا درلودونکې ده، خو د ښوونې کلمه د مفهوم له نظره د روزنې لپاره وسیله ده.

## آیا پوهېږئ چې ولې ښوونې او روزنې ته اړتیا لرو؟

په دې وروستیو کې د ښوونې او روزنې مسایل نه یوازې د هېوادونو مسؤلینو او چارواکو د پام وړ ګرځیدلي، بلکې هرڅومره چې وخت تېرېږي، د ټولنیزې، فرهنګي او اقتصادي پراختیا په برخو کې د نوي ښوونې او روزنې اغېزې رابنکاره کېږي.

بې سوادې او په زده کړه کې نیمګړتیاوې اقتصادي وده ورو کوي او د ټولنیز پرمختګ پر وړاندې خنډ ګرځي. نو ویلی شو چې ښوونې او روزنې ته ډېره اړتیا ده، ترڅو د هغې په رڼا کې بشري ټولنې وکړای شي چې خپلې سیاسي، فرهنګي ټولنیزې او اقتصادي اړتیاوې په ښه توګه پوره کړي. همدا لامل دی چې د اسلام سپیڅلي دین نارینه او ښځې د علم زده کړې ته هڅولي دي، آن تر دې که زده کړه په چین کې هم وي، په اسلام کې زده کړه له زانګو څخه تر لحده پورې ده. د ښوونې او روزنې مسئله د انساني نسل له لوړو معیارونو څخه ګڼل کېږي او هغه انسان چې له علم او پوهې څخه برخمن وي، له لوړ مقام څخه هم برخمن وي، تردې پورې چې د اسلام ستر پیغمبر حضرت محمد ﷺ په یوه حدیث کې پوه او عالم سړي ته پر عابد باندې زر څله ترجیح ورکړې ده. په دې اساس پر ټولو لازمه ده چې د علم او پوهې د ترلاسه کولو لپاره هلې ځلې وکړو.

### د لوست تکرار

- 
- 
- 
- 

### پوښتنې

- ۱- ښوونه څه ته وايي؟
- ۲- روزنه څه ته وايي؟
- ۳- د ښوونې او روزنې ترمنځ توپیر څه شی دی؟
- ۴- د حضرت پیغمبر ﷺ یو حدیث شریف د علم په باره کې بیان کړئ.

### کورنۍ دنده

د اسلام له نظره د علم په اړه درې کړنې ولیکئ.

## په افغانستان کې د ښوونې او روزنې لنډ تاريخ

په تېر درس کې مو د ښوونې او روزنې د ماهيت او هغو ته د انسان د اړتياوو د لاملونو په اړه معلومات حاصل کړل. په دې درس کې په افغانستان کې د ښوونې او روزنې له تاريخچې سره بلدېږئ.

### خبرې پرې وکړئ

زموږ په هېواد کې ښوونه او روزنه څه وخت پيل شوه؟

زموږ گران هېواد چې پخوا د آريانا په نامه، په اسلامي دوره کې د خراسان او په نولسمه پېړۍ کې د افغانستان په نامه نومول شوی دی، د علم او تمدن زانگو وه. د اسلام د سپيڅلي دين له څرگندېدو د مخه په پخوانۍ آريانا کې وېلي دود او دستور او بيا را وروسته د اوستا مدنيت رواج درلود. هغه مهال ښوونه او روزنه محدوده وه. په عبادت ځايونو کې به د محدودې ډلې لپاره تدريس كېده. كله چې زموږ خلك د اسلام په سپيڅلي دين مشرف شول، زده كړه ټوليزه شوه او ټولو خلكو كولاى شول چې علم زده كړي. كوچنيانو ته په جوماتونو کې د ديني عالمانو له خوا لوست ورکول كېده. درسي كړۍ په جوماتونو کې په کوچنۍ او لويه كچه جوړېدې. په هر جومات کې له يوې څخه نيولې تر ډېر شو پورې درسي كړۍ جوړېدې. په هره درسي كړۍ کې ځانگړي موضوعگانې تدريس كېدې. د جوماتونو ترڅنگ مختلفې مدرسې جوړېدې او زده كوونكو د خپلې زمانې متداولې زده كړې د استادانو او پوهنې د كار پوهانو له خوا زده كولې. د څوپېړيو په اوږدو کې د هرات، بلخ، غزني، بۇست او كابل ښارونه د پوهې او پوهانو د مركزونو په توگه پېژندل كېدل او ډېر لوی لوی پوهان لکه: امام رازي، ملا علي قاري، ابن سينا، جلال الدين بلخي اونورو پکې زده كړې كړي دي.

❁ د خپلو ټولگيوالو سره بحث وکړئ او ترې وپوښتې چې: ستاسې په جوماتونو کې د علم طالبانو ته کوم ډول موضوعات تدريس کېږي؟ له لست کولو وروسته يې خپلو ټولگيوالو ته بيان کړئ.

### آيا پوهېږئ چې مدرسې څه وخت په افغانستان کې جوړې شوې؟

د امير شيرعلي خان په زمانه کې دوه ښوونځي په نوي ډول يوبي ملكي او بل يې پوځي، جوړشول. ملكي ښوونځي د كابل په بالا حصار کې پرانيستل شو چې په هغه کې د امرانو او لويانو او لادونو درس وايه. حريه يا پوځي ښوونځي د كابل په شير پور کې پرانيستل شو. د امير عبدالرحمن خان په زمانه کې د چوب فروشي بازار په جومات کې يوه مدرسه جوړه شوه چې په هغه کې فقه او نور مضمونونه تدريس كېدل.

د امير حبيب الله خان په زمانه ۱۲۸۲ لمریز کال کې چې له ۱۹۰۳ زېږديز کال سره سمون خوري، هغه ښوونځي چې درې درجې (ابتدایي، رشديه او اعداديه) يې درلودې، پرانيستل شول. وروسته په ۱۲۸۷ لمریز کال کې چې له ۱۹۰۹ زېږديز کال سره سمون خوري، حريه ښوونځي چې درې اعداديه ټولگي او درې

بوڅي ټولگي يې درلودل، پرانيستل شول او مختلف مضمونونه پکې تدریس کېدل. په ۱۲۹۶ لمریز کال کې چې له ۱۹۱۸ زېږدیز کال سره سمون خوري، یو طبي ښوونځی پرانیستل شو. د دغه ښوونځي پروگرام په عملي او نظري دواړو طریقو ترسره کېده. د امان الله خان، محمدنادر خان او محمد ظاهر شاه په پاچاهيو کې په مرکز او د هېواد په گوټ گوټ کې د نجونو او هلکانو لپاره ښوونځي او پوهنتونونه جوړ شول چې له معیاري او مرکزي تعلیمي نصاب څخه یې کار اخیسته. د محمد داود خان د جمهوریت په وخت کې تعلیمي مؤسسو پراختیا ومونده او د وخت له غوښتنو سره سم تعلیمي نصاب ورته برابر شو.

له ۱۳۵۷ لمریز کال نه تر ۱۳۸۱ لمریز کال پورې کوم سیاسي رژیمونه چې واکمنی ته رسیدلي، له خپلې پالیسی سره سم یې په تعلیمي نصاب کې بدلونونه راوستي دي. په وروستیو لسو کلونو کې د ښوونې او روزنې په ډگر کې آغېزمن گامونه اخیستل شوي لکه: واحد او مرکزي تعلیمي نصاب چې موخه یې په ښوونځيو کې د زده کړې د ښو شرایطو برابرول دي. ❁ د خپلو ټولگیوالو په مرسته د نوي تعلیمي نصاب د موخو، طرحې او تدوین په اړه معلومات ورکړئ.

## د لوست تکرار

----- ●

----- ●

----- ●

----- ●

## پوښتنې

- ۱- په جوماتونو کې کوچنیانو ته د تدریس ډول څرنگه و؟ بیان یې کړئ.
- ۲- د امیر حبیب الله خان په زمانه کې کوم ښوونځي جوړ شويدي؟ یوازې نومونه یې واخلي.
- ۳- د نوي تعلیمي نصاب په جوړېدو د زده کړې لپاره څه ډول شرایط برابر شويدي؟

## کورنۍ دنده

د نوي تعلیمي نصاب په اړه خپل معلومات ولیکئ.

## په ښوونه او روزنه کې د کورنۍ رول

په تېر درس کې مو په افغانستان کې د ښوونې او روزنې د تاریخچې په اړه معلومات حاصل کړل. په دې درس کې په ښوونه او روزنه کې د کورنۍ د رول په هکله بلدتیا پیدا کوئ.

### څېرې پرې وکړئ



کورنۍ له ټولنیزو بنسټونو څخه یونستې دی چې د ټولنیز ژوند بنسټ گڼل کېږي. په کورنۍ کې د ماشومانو په پیدا کېدو سرپرته ځینې نورې دندې لکه: اقتصادي، ټولنیز فعالیتونه او د کوچنیانو روزنه هم ترسره کېږي. دلته پوښتنه مطرح کېږي چې: **په ښوونه او روزنه کې د کورنۍ رول څه شی دی؟**

پر کوچنیانو د کورنۍ اغېز زښت ډېر دی او ویلی شو چې د کوچني د زده کړو او شخصیت بنسټ په کورنۍ کې اېښودل شوی دی. له همدې امله ده چې کورنۍ تربیه د کوچني په ژوندانه کې ځانگړی مقام لري. کوچنی د ژوند کولو لومړني اسباب او طریقي په کورنۍ کې زده کوي، آن ویلی شو چې د کوچني اعتقادي بنسټ په کورنۍ کې جوړېږي حضرت پیغمبر ﷺ فرمایلي دي:

(كُلُّ مَوْلُودٍ يُوَلَّدُ عَلٰی فِطْرَةِ الْاِسْلَامِ فَاَبَوَاهُ يَهُودًا نِهٖ اَوْ يَنْصَرَانِهٖ اَوْ يَمَجْسَانِهٖ) رواه البخاري/ فتح الباري دریم جلد شلم مخ.

ژباړه: هر نوي زېږېدلی ماشوم د اسلام په فطرت سره پیدا کېږي. وروسته مور او پلار یې له هغه څخه یهودي، نصراني او یا مجوسي جوړوي.

کورنۍ د اخلاقي ښېگڼې بنسټ ږدي، ځکه چې هغه اخلاقي ارزښتونه، له رښتیا سره مینه، له دروغو نه کرکه او له خپل هم رنگ سره مرسته، همکاري او په پای کې له ښېگڼو او نېکیو سره مینه او د ناوړو او ټیټو کارونو خلاف مبارزه، له کورنۍ چاپېریال څخه زده کوي. په ماشوم کې ذهني قوه د الفاظو، د داستانونو او پېښو د اورېدو له لارې او یا د لیدو کتو طریقه لکه د کتابونو، مجلو، ورځپاڼو کتل او کوچني ته د منطقي او قانع کوونکو ځوابونو



د ورکولو له لارې را پیدا کېږي، چې دغه ټول یاد شوي موضوعات د کوچني د ودې، مینې او علاقې جوړوونکي دي.

## ✿ په پورتنیو یادو شوو موضوعگانو سر بېره نور کوم مطلبونه د اخلاقي نښگڼو بنسټ جوړوي؟ لست یې کړئ.

کورنۍ د ټولني د بنسټیز واحد په توگه د ټولني د ترقي او پرمختگ په بهیر کې جوړوونکي اغېز لري. د ټولني د سلامتیا کچه د کورنۍ د سلامتیا له کچې سره مستقیمه اړیکه لري، د اختلافونو او ناخوالو د پېښېدو ډیر لاملونه له شرعي او قانوني اصولو څخه د بې خبرۍ، ښوونې او روزنې د تېټې کچې یا بېسوادۍ څخه را پورته کېږي.

لنډه دا چې کورنۍ د ماشوم په ژوند کې بنسټیز رول لري. کورنۍ ده چې ماشوم ته د علم د زده کړې او فکر کولو لارې چارې وربښي، ماشوم په کورنۍ کې گډ ژوند، اخلاقي پوځوالي او د کمال پړاو ته رسېدل زده کوي.

### د لوست تکرار

- -----
- -----
- -----
- -----

### پوښتنې

- ۱- هغه مبارک حدیث چې د کورنۍ د اغېز په اړه مولوستلي دی، بیان یې کړئ؟
- ۲- د زده کوونکي ذهني قوه له کومې لارې څخه په هغه کې هڅول کېږي؟
- ۳- کورنۍ د اساسي واحد په توگه په ټولنه کې کوم رولونه لوبوي؟

### کورنۍ دنده

پر ښوونه او روزنه د کورنۍ د رول په باب خپل نظر په دريو کرښو کې ولیکئ.

## په ښوونه او روزنه کې د مدرسې ونډه

په تېر درس کې مو په ښوونه او روزنه کې د کورنۍ د رول په باب معلومات ترلاسه کړل. په دې درس کې په ښوونه او روزنه کې د مدرسې له اغېزې سره بلدېږئ.

### خبرې پرې وکړئ

موږ ولې په مدرسه کې شاملېږو او هلته کوم شيان زده کوو او د کومو شيانو سره نوي بلدېږو؟



مدرسه د ښوونې او روزنې له مؤسسې يا بنسټ څخه عبارت ده چې په شعوري ډول د ټولني د راتلونکي نسل روزنه او ټولنيز کېدل يعنې وگړنيز کولو دنده ور د غاړې ده.

دلته پوښتنه پيدا کېږي چې: په ښوونه او روزنه کې د مدرسې اغېزه څه ده؟

مدرسه له کورنۍ وروسته، د

زده کړې هغه لومړنۍ واحد دی چې

کوچنيان هلته د زده کړې لپاره ځي او له يوې لويې ټولني سره بلدېږي. په مدرسه کې هم لکه نور ټولنيز نظامونه، سلسله مراتب، د دندو وېش، مسؤليت مننه، د خپل ځان او نورو اداره کول، اړيکې او همغږي وجود لري.

همدارنگه په مدرسه کې زده کوونکي د عمر له مخې ډلې، ډلې په ټولگيو کې

تنظمېږي او په ځينو دندو او مسؤليتونو کې لکه:

د مدرسې د مقرراتو رعايتول او په هنري، سپورتي فعاليتونو او علمي کنفرانسونو او انجمنونو

کې برخه اخلي، د زده کوونکو انجمن د دوي ستونزې د ښوونکو په واسطه حل کوي.

په مدرسه کې مختلف مضمونونه لکه: ديني علوم، ژبې، ساينس، ټولنيز علوم او

داسې نور د زده کوونکو د پوهې د کچې د لوړېدو لپاره تدريس کېږي.

له دې کبله ویلی شو چې مدرسه هغه ځای دی چې د کوچنیانو د روزنې او په ټولنیزو فعالیتونو کې د برخې اخیستو لپاره پرانیستل شوی دی. په واقعیت کې مدرسه هغه هېنداره ده چې د ټولنې د ټولنیز نظام ځانګړتیاوې پخپل ځان کې انځوروي.

لکه څرنګه چې مدرسه ټولنې ته د خدمت کولو، د پوهې او شعور د لوړولو لپاره کوشش کوي، مور هم باید ځینې دندې او مسؤلیتونه په غاړه واخلو او په ښه ډول یې ترسره کړي. د مدرسې لایحې او مقررات رعایت کړو؛ د خپلو ښوونکو پندونو او خبرو ته غور ونیسو؛ خپلې درسي ستونزې د مهربانو استادانو په مرسته حل کړو؛ مدرسه د خپل کور په څېر وګڼو، د درسي ټولګیو، مېزونو، څوکیو او د ښوونځي د چاپېریال په پاک ساتلو کې هڅه او هاند وکړو.

✿ پر پورتنیو موضوعګانو سربېره، تاسو د مدرسې په وړاندې نور کوم مسؤلیتونه لرئ؟ لست یې کړئ.

### د لوست تکرار

- ●
- ●
- ●
- ●

### پوښتنې

- ۱- مدرسه څه شی دی؟
- ۲- د زده کوونکو دنده د مدرسې په وړاندې څه ده؟
- ۳- په مدرسه کې کوم مضمونونه لوستل کېږي؟ بیان یې کړئ.

### کورنۍ دنده

د هغو مسؤلیتونو او دندو په اړه چې په مدرسه کې یې لرئ، څو کرښې معلومات ولیکئ.

## په ښوونه او روزنه کې د چاپېريال اغېزه

په تېر درس کې مو په ښوونه او روزنه کې د مدرسې د رول په اړه معلومات ترلاسه کړل. په دې درس کې په ښوونه او روزنه کې د استوګنې د چاپېريال له رول سره بلدېږئ.

### خبرې پرې وکړئ

ايا له مدرسې او کورنۍ پرته کوم بل عامل شته چې د کوچني په ښوونه او روزنه کې اغېزمن وي؟

هغه څه چې له کوچني څخه يې په راتلونکي کې طمعه کوو، بايد چې نيا لگي يې په کورنۍ کې کېښوو، اوبه ورکړو او پالنه يې وکړو. لکه چې په لاندې شعر کې دا خبره ښه څرګنديږي.

لنډه لښته هره خوا باندې تاوېږي چې شي وچه تاوېدل يې ماتېدل دي.  
انسان هم که ورکتوب کې په لارنه شي زلميتوب کې ماتول يې رنځېدل دي

سربېره په کورنۍ، ماشومان بايد له ټولني سره هم اړيکه ولري. هغه ماشومان چې د کورنۍ په چاپېريال کې د دا ډول رول لوبولو لپاره تيارېږي، ورو ورو د ټولنيزو سترو دندو د ترسره کولو لپاره هم تيارېږي او د ټولني له نورو وګړو سره د مرستې او خوا خوري روحيه پکې پيدا کېږي.

هغه همزولي کوچنيان چې له کورنۍ څخه د باندې له نورو سره په اړيکه کې وي، زيات اغېز ورباندې کوي. کوچنيان بايد د خپلو ملګرو په ټاکلو کې له پوهې او پېژندګلوي څخه کار واخلي. هېڅکله هم د بدو انسانانو په پله پل کېښېږدي او له ناوړو فکرونو، عملونو او نظريو څخه يې پيروي ونه کړي. د اسلام ستر پيغمبر حضرت محمد ﷺ دې ټکي ته پام کړي او خپل لارويان يې دې مهم ټکي ته ځير کړي دي لکه: چې فرمايي: «هر کس په دين او د ژوند پر چاپېريال کې د خپل دوست پر لاره وي، ځکه ستاسو د ټولو بايد دې ته پام وي چې د کوم سړي سره د دوستۍ او ملګرتيا ژمنه ټينګوي؟».

چاپېريال د کوچني پر ژوند ډير اغېز کوي. له دې کبله هغه ټولنيز مراسم او ټولنيز پروګرامونه چې د هغو د ترسره کېدو په پايله کې د همغې سيمې يو زيات شمېر خلک سره را غونډېږي، د کوچني پر شخصيت هم اغېز کوي.

## ❁ خپلو ټولګيوالو په مرسته په خپل شخصي ژوند باندې د چاپېريال اغيزې بيان کړئ.

آيا چاپېريال يا استوګنځي کېدای شي چې د کوچني په زده کړه کې يو اغېزمن عامل شي؟ د هغو څېړنو او مطالعاتو له مخې چې څېړونکو ترسره کړي دي، څرګندېږي چې د کورنۍ د استوګنې ځای نه يوازې دا چې د کوچني د برياليتوب پر کچه باندې اغېزکوي، بلکې د هغه د فکر په زياتوالي، شخصيت او اخلاقي ځانګړتياوو، د خبرو کولو په طريقه، اعتقاداتو، نظريو، غوښتنو، احساساتو او عواطفو، ... چې کوچني به يې په راتلونکي کې خوښ کړي، ډېر اغېزمن دی.

امکان لري چې د يوه هېواد د لويو او کوچنيو ښارونو او نورو مختلفو سيمو زده کوونکو او محصلانو ترمنځ د زده کړې د برياليتوب په کچه کې ډېر تفاوت وي. همدارنګه د مور او پلار د تحصيل درجه، کار او طبقاتي دريځ، د کوچنيانو په زده کړه او روزنه باندې ډېره اغېزه لري.

❁ ايا د کلي او ښار د زده کوونکو په زده کړه کې د برياليتوب په هکله توپيرونه موجود دي؟ په دې اړه خپل نظر څرګند کړئ.

### د دوست تکرار

- .....
- .....
- .....
- .....

### پوښتنې

- ۱- کوچنيان له کومې لارې له چاپېريال سره اړيکه پيداکوي؟
- ۲- کله چې يو دوست ځانته غوره کوو، کوم صفتونه بايد ولري؟
- ۳- ايا د مور او پلار د زده کړې درجه د کوچنيانو د زده کړې په برياليتوب اغېز لري؟

### کورنۍ دنده

د ښه دوست صفتونه فهرست کړئ او په ټولګي کې يې ولولئ.



## ټولنيزه او اخلاقي روزنه

وَقُولُوا لِلنَّاسِ حُسْنًا (البقره: ۳۸)  
ژباړه: او خلکو ته نېکې خبرې وکړئ.

په تېر درس کې په ښوونه او روزنه باندې د چاپېريال په رول وپوهېدئ. په دې درس کې له ټولنيز او اخلاقي تربيت سره بلدېږئ.

### خبرې پرې وکړئ

- کوچنيان مخکې له دې چې په مدرسه او ټولنه کې تربيه کړو، چېرته تربيه کېږي؟
- ايا کولی شئ ځينې هغه ټولنيز او اخلاقي اصول چې په کورنۍ کې يې زده کوي، نوم واخلي؟

زموږ د ټولنيزو مهمو مسایلو له جملې څخه يوه يې هم په کور کې د کوچنيانو روزنه ده. اولاد مخکې له دې چې په مدرسه او ښوونځي کې وروزل شي، کور او کورنۍ يې روزي. موږ پخپله کورنۍ کې هم د مور، پلار او وروڼو له خولې څخه په زړه پورې نصيحتونه اورېدلي دي. دوی موږ د ښو عملونو د ترسره کولو په مقابل کې نازولي يو او د ناوړو کارونو په کولو سره يې ترټلې يو. دغه نازول او ترټل د دې لپاره وي چې له کوچنيوالي څخه د اخلاقي قواعدو لاروي واوسو، ځکه چې ميندې او پلرونه زموږ خيرښېگڼه غواړي او دېته پام کوي چې له هماغه کوچنيوالي څخه سم او صحيح تربيه شو.

کله چې په کور کې د مور او پلار، خوښو او وروڼو ترڅنگ ژوند کوو، ځينې اخلاقي او ټولنيز اصول د کورنۍ لويان موږ ته زده کوي. د بېلگې په توگه: تاسې ته وايي هغه وخت چې کورته ننوځئ، سلام واچوئ، د خپلې مور، پلار، د مشرو خوښو او وروڼو درناوی وکړئ؛ د ډوډۍ خوړلو پر مهال خپل لاسونه و مينځئ، خو کله چې تاسې ښوونځي او مدرسې ته ځئ، له نوو ټولنيزو شرايطو سره مخ کېږئ. له داسې نوو کسانو سره مخ کېږئ چې د مخه مونه وو ليدلي او نه يې هم پېژنئ. د بېلگې په توگه: ښوونکي، سر ښوونکي، د ښوونځي مدير او داسې نور. تاسې په مدرسه او ښوونځي کې دا بايد زده کړئ چې له هغو کسانو سره چې په دغو دندو او مقامونو کې کار کوي، څه ډول راشه درشه وکړئ. تاسې ورو ورو دا زده کوي چې بايد له قانون او مقرراتو څخه اطاعت وکړئ، هم زده کوي چې څه ډول د ښوونځي نظم او مقررات مراعات کړئ. څه ډول له دغو مقرراتو سره ځانونه روږدي کړئ، څرنگه له مدير، ښوونکي او ټولگيوالو سره مرسته وکړئ. له پورته وېل شوو خبرو څخه دې پايلې ته رسېږو چې په ښوونځي او مدرسه کې له درس ويلو څخه اصلي مقصد دا دي چې له يو پلوه علم او پوهه زده کړئ او له بله پلوه ښه او سالم تربيه شئ، تدريس او اخلاقي قواعد رعايت کړئ.

زموږ ښاغلو ښوونکو هر يوه د تدريس پر مهال تل موږ ته د اخلاقي قواعدو خبرې کړي دي، موږ يې د ښوکارونو کولو ته هڅولي يو او له ناوړو کارونو څخه يې منع کړي يو چې د استادانو

د ښو لارښوونو له برکته په ډېرو اخلاقي رازونو باندې پوه شوي یو. د بېلگې په ډول: پر دې پوه شوي یو چې صداقت او رښتینولي ښه ده. صادق او رښتینی سړی د درناوي وړوي. پرعکس دروغ یو ناوړه عمل دی، دروغجن سړی د خلکو په نزد بې قدره او بې اعتباره وي لکه چې په لاندې شعر کې راغلي دي.

### که یوټکی د توحید غواړي چې یاد کړي

#### د ورو ښوونځي کې یاده الفبا کړه.

په ټولنیز ژوند کې که چېرې انساني ادب رعایت شي، ژوند به له یو مخه مینه او گرانښت وگرځي، بغض او کینه به خپل ځای مینې او مبحث ته خوشی کړي. د مطلب حقیقت په دې کې دی چې ترڅو د انسانانو ترمنځ اړیکې د متقابل درناوی پر بنسټ ټینګې نشي، له ژوندانه څخه خوند نه اخیستل کېږي او هغه ژوند به انساني بڼه ونه لري.

د اسلام په اخلاقي ښوونو کې، د ادب او درناوي ساتنه د یوه مسلمان سړی له حتمي دندو څخه ده. د احترام ساتنه، یووالی او بشر پالنه په ټولنه کې د خلکو ترمنځ د بغض او کینې د مخنیوي لامل ګرځي. رښتینی مسلمان ښه فکر کوي، ښې خبرې کوي او په ادب سره غږېږي، چې د هغه د دین لارښوونې دي. ښه خبره، د ښه تربیت اونیکو اخلاقو مېوه ده. له ښو اخلاقو څخه ښه دوستان لاسته راځي چې په ټولنیز ژوند کې لویه معنوي پانګه ده.

### د لوست تکرار

----- ●

----- ●

----- ●

----- ●

### پوښتنې

- ۱- په مدرسه او ښوونځي کې په علم او پوهې سربېره، نور څه شيان زده کوئ؟
- ۲- نېک کلام څه شی دی او زموږ په ژوندانه کې څه ارزښت لري؟
- ۳- که چېرې په ټولنیز ژوندانه کې اخلاق او انساني ادب رعایت نشي، څه به پېښ شي؟

### کورنۍ دنده

د ښه تربیت اونیکو اخلاقو په اړه یوه مقاله ولیکئ چې له شپږو کرښو څخه لږه نه وي.

## د اړینو پوهو او مهارتونو زده کول

مَنْ خَرَجَ فِي طَلَبِ الْعِلْمِ فَهُوَ فِي سَبِيلِ اللَّهِ حَتَّى يَرْجِعَ (ترمذي)

ژباړه: څوک چې د علم په زده کړه پسې ووزي، ترڅو پورې چې بېرته راگرځي، ټول کارونه یې د خدای (جَل جَلالَه) په لار کې حسابېږي.  
په پومبني درس کې مو په ښوونه او روزنه کې د چاپېریال د رول په هکله معلومات ترلاسه کړل. په دې درس کې د اړینو پوهو او مهارتونو له زده کړې سره بلدېږئ.

### خبرې پرې وکړئ

لاندې پوښتنې په څیر ولولئ او بیا ځواب ورکړئ

- ستاسې په نظر، زده کوونکي په ښوونځي کې کوم، کوم شیان زده کوي؟
- څرنگه کولای شو چې د ژوند پوهې او وړتیاوې زده کړو؟

### زده کړه څه ته وايي؟

زده کړه یوازې د کتاب د محتویاتو حفظ کول نه، بلکې د هغو زده کول او له هغو څخه گټه پورته کول، د زده کړې موخه ده. کله چې په یوه درس باندې پوه شوی، ذهن ته مو وسپارلو او له هغه څخه مو په ژوند کې گټه واخیستلای شوه، پوهې صورت نیولی دی. یا دا چې هغې ته پوهه ویل کېږي.

### پوهه څه ته وايي؟

پوهه د حقیقتونو پېژندنه او د نظریو او مفاهیمو پوهېدنه ده. د بېلگې په توگه: احمد شاه بابا د افغانستان یو ملي زعيم او مقتدر پاچا و. کابل د افغانستان پلازمېنه ده: دغه حقیقتونه دي. که چېرې دغه پوهه د مفاهیمو په عمومي نظریه کې هم موجوده وي د مثال په ډول:  
د شپې او ورځې د دلایلو پوهه، د اسم او فعل د گرامري توپیر پوهه. دا ډول پوهه، ساده پوهه نه، بلکې مفاهیم دي.

- د خپلو ټولگيو الو په مرسته د پوهې یو څو نمونې لست کړئ او نوروته یې واورئ.

### آیا پوهېږئ چې وړتیا یا مهارت څه شی دی؟

د یوه کار ترسره کولو قابلیت ته وړتیا وايي. وړتیا په دوه ډوله ده:

- ۱- فزیکي وړتیا لکه: د ریاضي په مضمون کې د شمېرلو په اړه وړتیا، د یوې ښې مقالې د لیکلو وړتیا یا قابلیت او د یوې موضوع په هکله د یوه منطقي بحث کولو وړتیا.
- ۲- ذهني وړتیا لکه: توپیرکول، پرتله کول او قضاوت کول؛

### ذهنیت یا طرز تلقی څه شی دی؟

د مهمو او معنا لرونکو مسایلو په اړه احساس لکه: د ادب او مرستې زده کړه د پوهې له لارې. همدارنگه زغم،

ځيرنه، د نورو د احساساتو پر وړاندې د حساسيت درلودل او په ماشومانو باندې مهرباني كول، په فكر كې له مثبت بدلون څخه استازيتوب كوي.

ټول پوهېږو چې د کوچنيانو او نويو ځوانانو د ښوونې او روزنې د ودې لپاره د ټولني د اړتياوږ ځانگړي پروگرامونه ضروري دي.

د انسانانو اوسني ژوند د تېرو پېړيو د انسانانو د ژوندانه په پرتله ډېر پېچلي دي. هغه څوك چې غواړي په ننني نړۍ كې بريالی ژوند ولري، بايد اړينې پوهې او وړتياوې لکه: ديني زده كړې، كيميا، رياضي، تاريخ، جغرافيه، ژبه، او ټولنيزې چارې زده كړي.

ښوونځي هغه ځای دي چې زده كوونكي پكې پوهه، وړتياوې او مثبتې زده كړې زده كوي، ترڅو د خپل ځان لپاره بريالي انسانان او د خپلې ټولني لپاره گټور غړي وگرځي. له دې كبله موږ ټولو ته لازمه ده چې زموږ د ستر پيغمبر حضرت محمد ﷺ په دغه حديث شريف كې چې فرمايلي يې دي:

(**طَلَبُ الْعِلْمِ فَرِيضَةٌ عَلَى كُلِّ مُسْلِمٍ**) ژباړه: د علم زده كړه پر هر مسلمان باندې فرض ده.

عمل وكړو او كوښښ وكړو ترڅو پوهې، وړتياوې او د تلقي طرز او اړين معلومات زده كړو. له هغو څخه پخپلو ورځنيو چارو كې گټه واخلو او د خپلې ټولني لپاره د ډېرو خدمتونو مصدر وگرځو.

❁ د خپلو ټولگيوالو په مرسته د زده كړې د څو مثبتو پايلو نومونه وليكي او نوروته يې بيان كړئ.

## د لوست تکرار

- 
- 
- 
- 

## پوښتنې

- ۱- زده كړه څه شی ده؟
- ۲- پوهه يا دانش څه شی دی؟
- ۳- وړتيا څه شی ده؟

## کورنۍ دنده

د اسلام له نظره د علم په اړه څلور كړنې مقاله وليكي.

## د نوښت د روحيې روزنه

په تېر لوست کې له پوهې او وړتياوو سره بلد شوی. په دې درس کې د نوښت د روحيې له روزنې سره بلدېږئ.



### خبرې پرې وکړئ

۱- هغه وخت چې په کورنۍ کې يې د خپلې کورنۍ له غړوسره تېروئ او له هغو سره د کور په کارونو کې مرسته کوئ، او هغه وخت چې په ښوونځي کې ياست، درس لولئ. د خپل ښوونکي پوښتنو ته سم ځوابونه ورکوئ؛ او د ښوونځي مقررات عملي کوئ، آیا دغو ټولو کارونو ته چې ترسره کوئ يې، نوښت ويلي شو؟ د دې

پوښتنې ځواب په دې درس کې چې د

نوښت په تعريف سره يې پيل کوو، پيدا کولی شئ.

### نوښت څه ته وايي؟

ابتکار يا نوښت په لغت کې د يو عمل د ترسره کولو يا د يوې بې سابقه حل لارې پيدا

کولو او يا د يوې نوې طريقې څخه کار اخيستلو او استعمالولو ته وېل کېږي.

د نوښت د روحيې په روزنه کې بايد کوښښ وشي ترڅو زده کوونکي د خپلو ستونزو

د حل لارې د موندلو د لورې پرخوا وهڅول او وستايل شي ترڅو فردي فکر کولو ته يې پام

واړول شي. وروسته له هغوی څخه پوښتنه وشي او پرې يې ږدي چې خپل نظريات د رسم کولو،

ليکلو او يا د رول بازي کولو په واسطه څرگند کړي. همدارنگه د سوالونو د ورکولو له لارې،

زده کوونکي د خپلو ستونزو د حل کولو لار پيدا کوي. له کلمو او عددونو څخه د گټې اخيستلو

طريقه پيدا کوي او د افغانستان او نورو هېوادونو تاريخي او جغرافياوي لاملونه درک کوي. هغه



زده کوونکي چې سم ځوابونه یې ورکړي وي د هغوی ځوابونه دې په څیر سره وکتل شي او کومو زده کوونکو چې سم ځوابونه ورکړي وي د شاباش او آفرین په ویلو سره دې وستایل شي.

دغه د آفرین او شاباش کلمې د دې لامل گرځي چې دغه د بریالیتوب روحیه چې د زده کوونکو د نوبت پر روحیه ډیر اغېز ولري، د ژوند تر پایه پاتې شي. زده کوونکي باید وهڅول شي ترڅو له خپلو فکرونو او تصورونو څخه گټه واخلي او له هغو څخه کیسې (قصې) ولیکي او انځورونه وکارې.

❁ ستاسې په آند: په اوسنۍ زمانه کې ښوونه او روزنه د ځلمیانو او کوچنیانو د نوبت د روحیې په روزنه کې څه رول لوبوي؟

په اوسني وخت کې، د ښوونې او روزنې موخه داده چې هر هغه څه چې کوچنی یې زده کوي، له هغو په عملي او نظري توگه گټه واخلي او داسې انسانان وروزي چې په راتلونکي کې له کاري اسانتیاوو څخه بشپړه گټه ترلاسه کړي. له چټکو ټولنیزو بدلونونو، د عملي تفکر له اهمیت، د اړیکو له آسانتیاوو او نویو مرستو او امکاناتو څخه خبر وي، ځکه چې دغه هم د کوچنی د نوبت د روحیې د ودې لامل گرځي.

❁ دغه په ټکنالوژۍ او انساني اړیکو کې بدلونونه او پرمختگونه له کومه ځایه رامنځته کېږي؟

ځینې داسې فکر کوي چې ښوونځي او مدرسه یوازې د زده کړې ځای دی. ښوونکي درسي کتابونه زده کوونکو ته وربښي او زده کوونکي باید هغه حافظې ته وسپاري، په داسې حال کې چې مور وینو په بشري ټولنه کې هره ورځ بدلونونه تر سترگو کېږي.

طبیعي خبره ده چې په مختلفو ډگرونو کې د پوهانو نوبتونه د بدلونونو، او اقتصادي، علمي او ټولنیزو پرمختگونو سبب گرځي. نو ویلی شو چې ښوونځي او مدرسه، سربېره پر دې چې د زده کړې ځایونه دي، همدا شان هغه ځایونه هم دي چې د زده کوونکو د استعدادونو غوټۍ پکې غوړېږي او مناسب شرایط ورته برابروي، ترڅو هغوي زده کړي چې څه ډول ابتکار او نوبت باید ولري او څرنگه یې نورو ته وربښکاره کړای شي.

❁ په اوسني وخت کې د ښوونې او روزنې موخه څه ده؟

## د لوست تکرار



-----

-----

-----

-----

## پوښتنې



- ۱- څرنگه کولای شو چې په کوچني زده کوونکي کې د نوښت روحیه پیدا کړو؟
- ۲- ټکنالوژي او ټولنيز، علمي او اقتصادي پرمختګونه د نوي نسل پر روحیه څه اغېز کوي؟
- ۳- ایا کولای شو یوازې په ارادې سره یو کار یا عمل تر سره کړو؟

## کورنۍ دنده



په دې اړه چې ښوونځي او مدرسه د نوښت د روحیې په وده کې څه رول لري، شپږ کرښې مقاله ولیکئ.

## د څپرکي لنډيز

- ښوونه یو چاته د پوهې، وړتیا او زده کړې د انتقال په معنا ده.
- روزنه زده کړې او پالنې ته د کوچني له تیاري یا په هغه کې له مطلوب او مثبت بدلون څخه عبارت ده.
- د کوچني د روزنې بنسټ په کورنۍ کې ایښودل کېږي. مدرسه یا ښوونځی د ښوونې او روزنې له هغه بنسټ څخه عبارت دي چې د ټولني د راتلونکي نسل روزنه په شعوري ډول ترسره کوي او د هغوی په اجتماعي کېدو بوخت وي.
- پر کورنۍ او مدرسه سربېره، چاپېریال، استوګنځی، له همزولو او دوستانو سره اړیکه د کوچني پر روزنه ډېرې اغېزې لري.